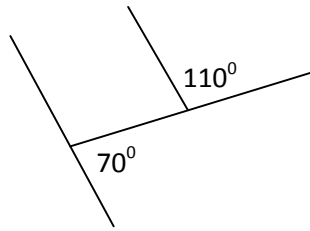
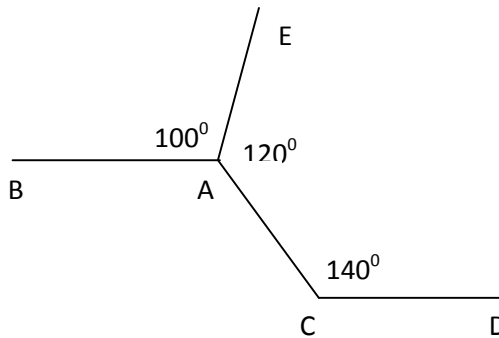


Hai đường thẳng song song tiếp

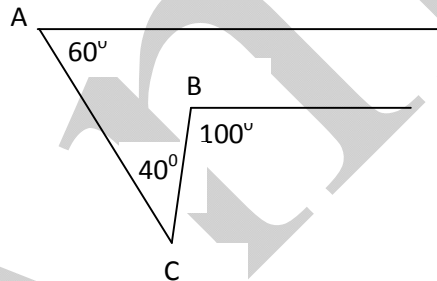
Bài 1. Chứng tỏ a song song b theo ít nhất ba cách.



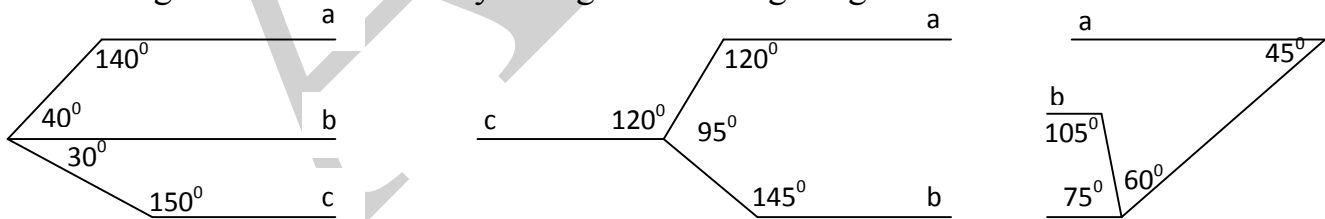
Bài 2. Chứng minh AB song song CD.



Bài 3. Chứng minh Ax song song By



Bài 4. Trong các hình vẽ dưới đây chứng minh a song song với b



Bài 5. Chứng minh góc xOy = góc x'Oy'; chứng minh góc xOy + x'Oy' = 180°



Bài 6. Chứng minh tổng 3 góc trong 1 tam giác luôn bằng 180°.