

A large, stylized pink flower with multiple layers of petals serves as the background for the text. The petals are a light pink color with darker pink outlines.

KIỂM TRA BÀI CŨ

Điền dấu thích hợp :

28,300 ? 28,3


>

9,478 ? 9,48

<

=

78,6 ? 78,59



Next

STORIES

A background image of a vast field of pink flowers, possibly tulips, stretching towards a horizon under a bright, slightly hazy sky. The flowers are in various stages of bloom, with some showing green leaves at the base.

Môn: Toán

Bài : ÔN TẬP VỀ SỐ THẬP PHẦN(tt)

# Castle of Knowledge



Viết dưới dạng phân số thập phân:

$$0.4 = \frac{4}{10}$$

$$0.7 = \frac{7}{10}$$

$$0.93 = \frac{93}{100}$$

$$1.2 = \frac{12}{10}$$

$$4.25 = \frac{425}{100}$$

$$5.125 = \frac{5125}{1000}$$

$$\frac{1}{4} = \frac{25}{100}$$

$$\frac{4}{25} = \frac{16}{100}$$

$$\frac{3}{5} = \frac{6}{10}$$

$$\frac{5}{8} = \frac{625}{1000}$$









a)Viết số thập phân dưới dạng tỉ số phần trăm:

$$0,35 = 35\%$$

$$0,5 = 50\%$$

$$8,75 = 875\%$$

b)Viết tỉ số phần trăm dưới dạng số thập phân :

$$45\% = 0,45$$

$$5\% = 0,05$$

$$625\% = 6,25$$











Viết các số đo sau dưới dạng số thập phân:

$$\frac{1}{2} \text{ giờ} = 0,5 \text{ giờ}$$

$$\frac{7}{2} \text{ m} = 3,5 \text{ m}$$

$$\frac{2}{5} \text{ kg} = 0,4 \text{ kg}$$

$$\frac{1}{4} \text{ phút} = 0,25 \text{ phút}$$






Viết các số trên theo thứ  
tự từ bé đến lớn:



Viết các số sau theo thứ tự từ bé đến lớn:






Vui quá! Về  
đến nhà mình  
rồi!

*Papohaku Beach, Molokai, Hawaii*







Viết số thập phân sau dưới dạng tỉ số phần trăm:

$$0,15 = \dots\dots\dots$$

Đáp án : 15%



Viết số đo sau dưới dạng phân số thập phân:

$$0,25 = \dots\dots\dots$$

Đáp án :

$$\frac{25}{100}$$



0

Viết số đo sau dưới dạng  
số thập phân:

$$\frac{1}{2} \text{ giờ} = \text{.....giờ}$$

Đáp án : 0,5 giờ





0

Tìm một số thập phân  
thích hợp :

$0,1 < \dots < 0,2$

Đáp án : **0,15**



# Về nhà

1. Xem lại nội dung bài đã học.

2. Làm bài 3/151(SGK)

3. Chuẩn bị bài sau :

Luyện tập

