


TOÁN

ÔN TẬP VỀ PHÉP CỘNG - PHÉP TRỪ





Toán:

Ôn tập về phép cộng và phép trừ

Bài 1: Tính nhẩm

$$9 + 7 = 16$$

$$8 + 4 = 12$$

$$7 + 9 = 16$$

$$4 + 8 = 12$$

$$16 - 9 = 7$$

$$12 - 8 = 4$$

$$16 - 7 = 9$$

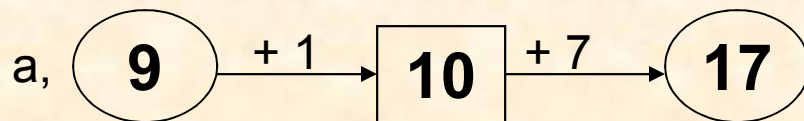
$$12 - 4 = 8$$



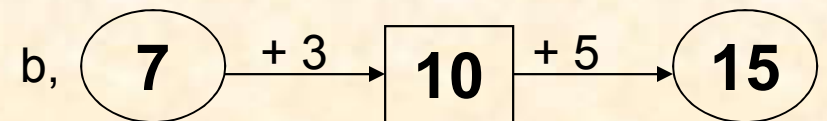
Toán:

Ôn tập về phép cộng và phép trừ

Bài 3: Số ?



$$9 + 8 = 17$$



$$7 + 8 = 15$$

c, $9 + 6 = 15$

$$9 + 1 + 5 = 15$$

d, $6 + 5 = 11$

$$6 + 4 + 1 = 11$$



Toán:

Ôn tập về phép cộng và phép trừ

Bài 4: Lớp 2A trồng được 48 cây, lớp 2B trồng được nhiều hơn lớp 2A 12 cây. Hỏi lớp 2B trồng được bao nhiêu cây ?

Tóm Tắt

Lớp 2A



HOẠT ĐỘNG 2

TRÒ CHƠI

"Ai nhanh, ai đúng"



Toán:


Ôn tập về phép cộng và phép trừ

Bài 5: Số ?

a, $72 + \boxed{0} = 72$

b, $85 - \boxed{0} = 85$





TOÁN

ÔN TẬP:

1

2

3

4

5

DẶN DÒ

Bài tập ở nhà :

Làm bài tập 1-2-3.VBT toán 2.

