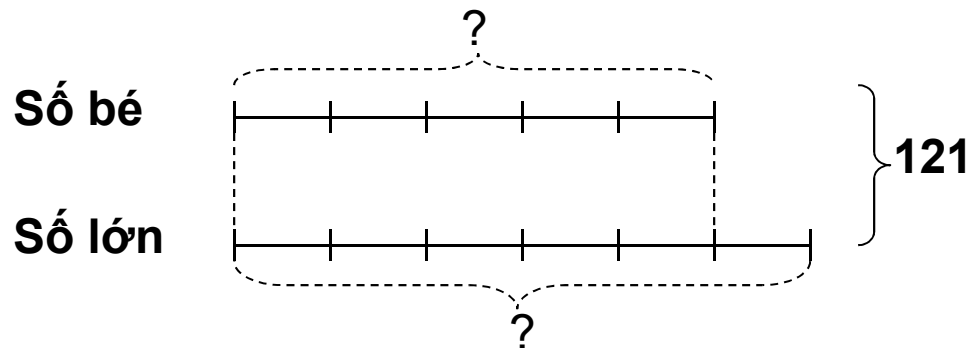


- Bài cũ :

Luyện tập chung

Bài mới: Ôn tập về giải toán

Bài 1; Tổng của hai số là 121. Tỉ số của hai số đó là $\frac{5}{6}$. Tìm hai số đó.



Theo sơ đồ, ta có tổng số phần bằng nhau là:

$$5+6 = 11(\text{phần})$$

Số bé là:

$$121 : 11 \times 5 = 55$$

Số lớn là:

$$121 - 55 = 66 \text{ (hay } 121 : 11 \times 6 = 66)$$

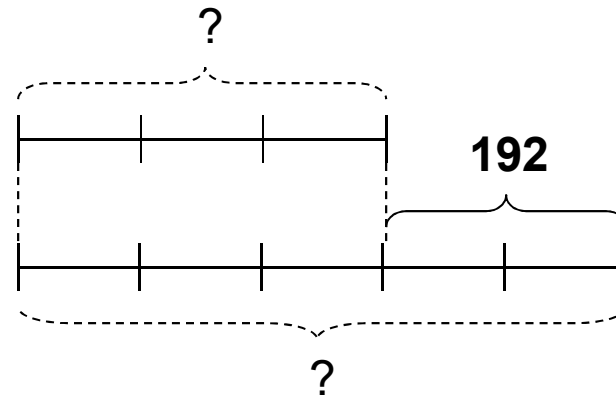
Đáp số: 55 và 66

Bài 2: Hiệu của hai số là 192. Tỉ số của hai số đó là $\frac{3}{5}$.
Tim hai số đó.

Ta có sơ đồ

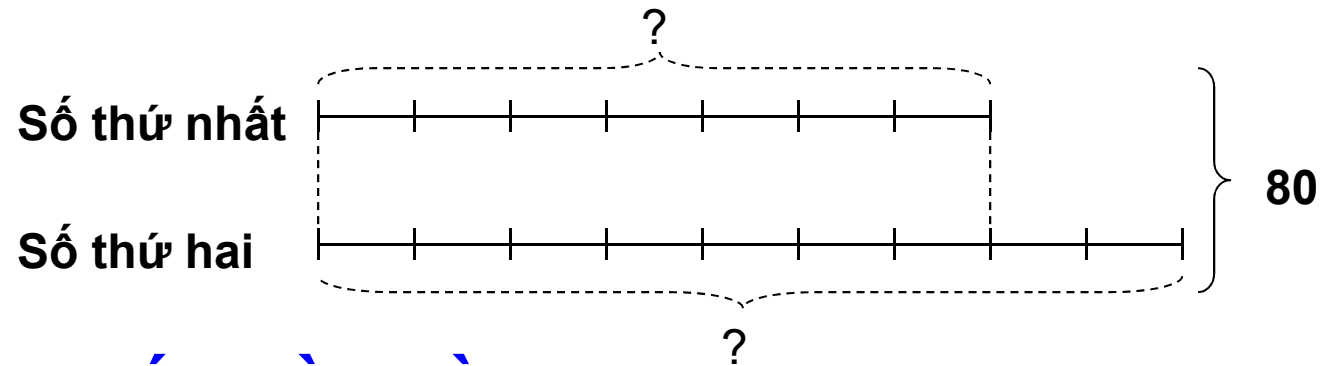
Số bé

Số lớn



- Theo sơ đồ, hiệu số phần bằng nhau là:
 $5 - 3 = 2(\text{phần})$
Số bé là:
 $192 : 2 \times 3 = 288$
Số lớn là:
 $288 + 192 = 480$ (hay $192 : 2 \times 5 = 480$)
Đáp số: 288 và 480

1/.a. Tổng của hai số là 80. Số thứ nhất bằng $\frac{7}{9}$ số thứ hai. Tìm hai số đó.



Tổng số phần bằng nhau là:

$$7 + 9 = 16 \text{ (phần)}$$

Số thứ nhất là:

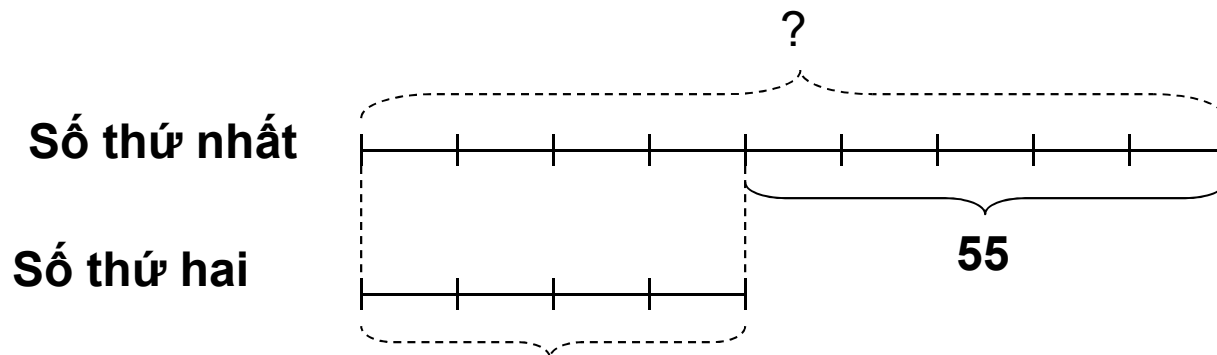
$$80 : 16 \times 7 = 45$$

Số thứ hai là:

$$80 - 45 = 35 \text{ (hay } 80 : 16 \times 9 = 35)$$

Đáp số: 45 và 35

b/. Hiệu của hai số là 55. Số thứ nhất bằng $\frac{9}{4}$ số thứ hai. Tìm hai số đó.



Hiệu số phần bằng nhau là:

$$9 - 4 = 5(\text{phần})$$

Số thứ nhất là:

$$55 : 5 \times 9 = 99$$

Số thứ hai là:

$$99 - 55 = 44 \text{ (hay } 55 : 5 \times 4 = 44)$$

Đáp số; 99 và 44

➤ TUYÊN DƯƠNG

➤ DẶN DÒ:

VỀ XEM LẠI BÀI