

Toán - Lớp 5





Ôn tập về đo độ dài và đo khối lượng (tiếp)

Viết các số đo sau dưới dạng **số thập phân**:

a, Có đơn vị đo là **ki-lô-mét**:

4km 382m

2km 79m

700m





Ôn tập về đo độ dài và đo khối lượng (Tiếp)

Viết các số đo sau dưới dạng **số thập phân**:

a, Có đơn vị đo là **ki-lô-mét**:

$$4 \text{ km } 382 \text{ m} = \mathbf{4,382} \text{ km}$$

$$2 \text{ km } 79 \text{ m} = \mathbf{2,079} \text{ km}$$

$$700 \text{ m} = \mathbf{0,7} \text{ km}$$





Ôn tập về đo độ dài và đo khối lượng (Tiếp)

Viết các số đo sau dưới dạng **số thập phân**:

b, Có đơn vị đo là **mét**:

$$7\text{m } 4 \text{ dm} = \dots$$

$$5\text{m } 9 \text{ cm} = \dots$$

$$5\text{m } 75 \text{ mm} = \dots$$





ÔN tập về đo độ dài và đo khối lượng (Tiếp)

Viết các số đo sau dưới dạng **số thập phân**:

b, Có đơn vị đo là **mét**:

$$7\text{m } 4 \text{ dm} = 7,4 \text{ m}$$

$$5\text{m } 9 \text{ cm} = 5,09 \text{ m}$$

$$5\text{m } 75 \text{ mm} = 5,75 \text{ m}$$





Ôn tập về đo độ dài và đo khối lượng (Tiếp)

Viết các số đo sau dưới dạng số thập phân:

a, Có đơn vị đo là ki-lô-mét:

$$4\text{km } 382\text{m} = 4,382 \text{ km}$$

$$2\text{km } 79\text{m} = 2,079 \text{ km}$$

$$700\text{m} = 0,7 \text{ km}$$

b, Có đơn vị đo là mét:

$$7\text{m } 4 \text{ dm} = 7,4 \text{ m}$$

$$5\text{m } 9 \text{ cm} = 5,09 \text{ m}$$

$$5\text{m } 75 \text{ mm} = 5,075 \text{ m}$$





Ôn tập về đo độ dài và đo khối lượng (Tiếp)

Viết các số đo sau dưới dạng số thập phân:

Có đơn vị đo là **ki-lô-gam**?

Có đơn vị đo là **tấn**?





Ôn tập về đo độ dài và đo khối lượng (tiếp)

*Viết số thích hợp vào chỗ chấm

$$0,5 \text{ m} = 50 \text{ cm}$$

$$0,064 \text{ kg} = 64 \text{ g}$$

$$53 \text{ cm} = 0,53 \text{ m}$$

$$657 \text{ g} = 0,657 \text{ kg}$$





Ôn tập về đo độ dài và đo khối lượng (tiếp)

*Viết số thích hợp vào chỗ chấm

$$0,075 \text{ km} = \dots \text{ m}$$


$$0,08 \text{ tấn} = \dots \text{ kg}$$

$$3576 \text{ m} = \dots \text{ km}$$

$$5360 \text{ kg} = \dots \text{ tấn}$$








Điền dấu =, >, <


100kg bông 100 kg đá.

=




Mua một cân thật là mua bao
nhiêu?

1kg




Trong thực tế mua 1 *lạng* thịt,
theo em *lạng* là đơn vị đo độ dài
hay đo khối lượng?

Khối lượng




1 lượng tương ứng là bao
nhiêu

1hg




Mua 5 lạng thịt là mua?

5hg




Trong bảng đơn vị đo khối lượng đứng liền trước kg là đơn vị nào?

Yến



Bố mua đinh 5 *phân* về đóng đồ,
trong thực tế *phân* là đơn vị đo độ
dài hay đo khối lượng?

Đo độ dài



1 **phần** tương ứng với đơn vị
đo nào trong bảng đơn vị đo độ
dài:

1 cm