

# Toán

## Kiểm tra bài cũ


Tính diện tích của một hình thang có trung bình cộng hai đáy là 36 m và chiều cao là 8 m.

*Bài giải :*

*Diện tích hình thang đó là:*

$$36 \times 8 = 288 \text{ (m}^2\text{)}$$

*Đáp số: 288 (m<sup>2</sup>)*



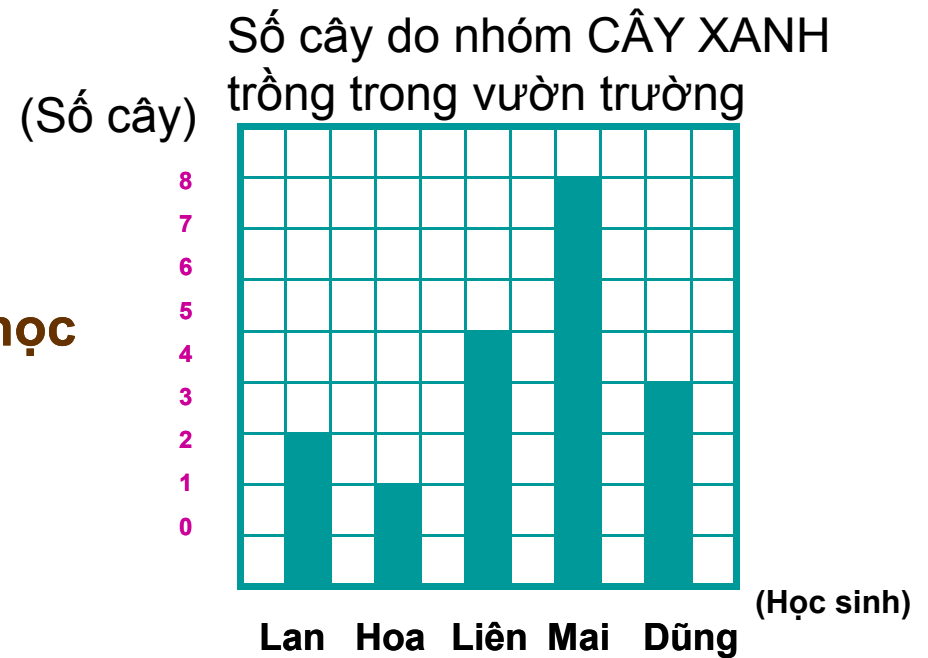
# Toán

## Ôn tập về biểu đồ

1

Để biểu thị số cây do từng học sinh trong nhóm CÂY XANH trồng trong vườn trường có thể dùng biểu đồ dưới đây :

Dựa vào biểu đồ hãy trả lời các câu hỏi sau:




a) Có mấy học sinh trồng cây? Mỗi học sinh trồng được bao nhiêu cây?

b) Bạn nào trồng được ít cây nhất?

c) Bạn nào trồng nhiều cây nhất?

d) Những bạn nào trồng được nhiều cây hơn bạn Dũng?

e) Những bạn nào trồng được ít cây hơn bạn Liên?



# Toán

## Ôn tập về biểu đồ

1

Trả lời:

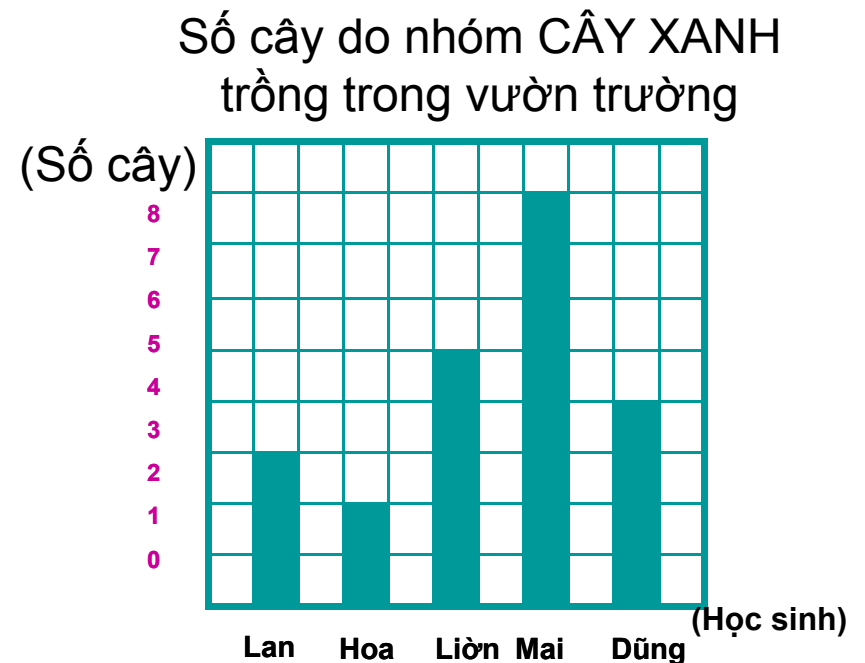
a) Có 5 học sinh trồng cây. Bạn Lan trồng 3 cây, bạn Hoa trồng 2 cây, bạn Liên trồng 5 cây, bạn Mai trồng 8 cây, bạn Dũng trồng 4 cây.


b) Bạn Hoa trồng được ít cây nhất.

c) Bạn Mai trồng nhiều cây nhất.

d) Bạn Liên và Mai trồng được nhiều cây hơn bạn Dũng.

e) Bạn Lan, Hoa, Dũng trồng được ít cây hơn bạn Liên.






# Toán

## Ôn tập về biểu đồ

- 2 a) Hãy bổ sung vào các ô còn bỏ trống trong bảng dưới đây:

Kết quả điều tra về ý thích ăn các loại quả của học sinh lớp 5A

Loại quả	Cách ghi số học sinh trong khi điều tra	Số học sinh
Cam		5
Táo		8
Nhãn		3
Chuối		
Xoài		6



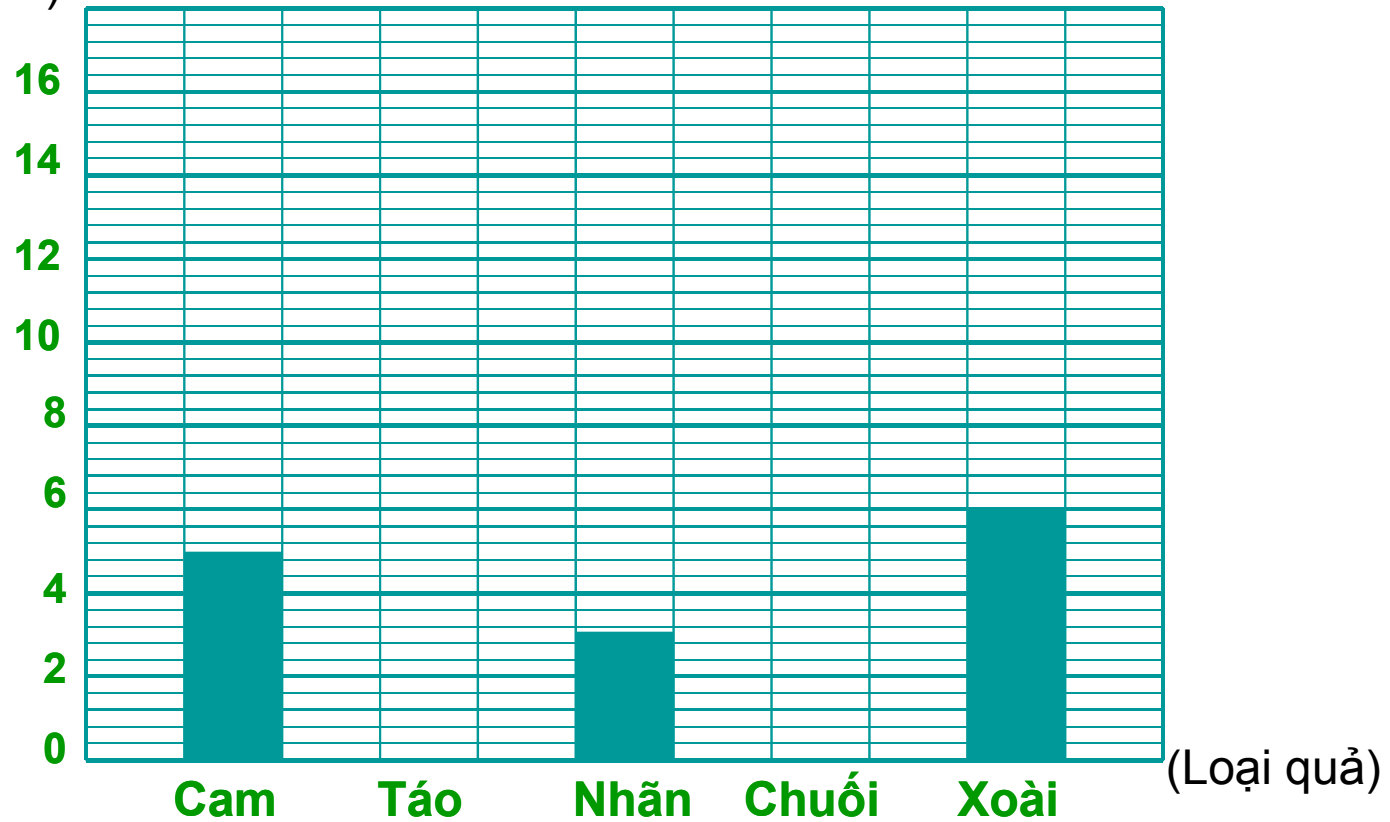
# Toán


## Ôn tập về biểu đồ

- 2 b) Dựa vào bảng trên hãy vẽ tiếp các cột còn thiếu trong biểu đồ dưới đây:

Kết quả điều tra về ý thích ăn các loại quả  
của học sinh lớp 5A

(Số học sinh)





# Toán

## Ôn tập về biểu đồ

3

**Khoanh vào chữ cái trước câu trả lời đúng:**

**Biểu đồ dưới đây cho biết kết quả điều tra về ý thích chơi các môn thể thao của 40 học sinh:**

**Học sinh thích đá bóng có khoảng:**

A. 5 học sinh

B. 9 học sinh

**C. 25 học sinh**

D. 20 học sinh

