

**Question 1:** Following is a poem in the Nhi đồng issue 21, 22/5/2015, in which some words are missing:

**Mùa hè của bé**

Mùa hè nắng vàng

Âm vang ve hát

Hè được tưới mát

Nhờ cơn (1)... rào

(2)... biếc trời cao

(3)... trôi nhẹ nhẹ

Sáo diều khe khẽ

Ngân trên tầng không

Hè về quê ông

Vườn cây trái (4)...

Hứng đầy tiếng hót

Lòng thêm rộn ràng

Đoàn Xuân Anh Đức (Lớp 2/1, Trường TH Đinh Tiên Hoàng, Q.9)

Please, write (in Vietnamese) on the following lines the missing words that you think are suitable in the blanks (1), (2), (3), and (4)

(1): .....

(2): .....

(3): .....

(4): .....

**Question 2:** Do the following crossword puzzle - picture 1. (Write the words without breaks, in capitalized words, and without accents)

- Horizontal:

1) Tên của một bến cảng trước kia tại Sài Gòn (Thành phố Hồ Chí Minh), nơi Bác Hồ ra đi tìm đường cứu nước năm 1911, là ...

2) Trung tâm công nghiệp lớn nhất của Việt Nam là Thành phố ...

3) Nguyễn Thị Ánh Viên là nữ vận động viên bơi lội xuất sắc của Việt Nam. Tại Đại hội thể thao Đông Nam Á tháng 6 năm 2015 (SEA Games 28) ở Singapore, chị đã đoạt 8 huy chương vàng, 1 huy chương bạc, 1 huy chương đồng và phá 8 kỷ lục SEA Games. Quê hương của chị Ánh Viên là một thành phố ở trung tâm đồng bằng sông Cửu Long, có tên gọi dân gian là Tây Đô. Đó là thành phố ...

4) “Ta thà làm quỷ nước Nam chứ không thèm làm vương đất Bắc”. Đó là một câu nói nổi tiếng trong lịch sử Việt Nam. Người nói câu này có tên là ...

-Additional clue: the vertical

framed column: the English

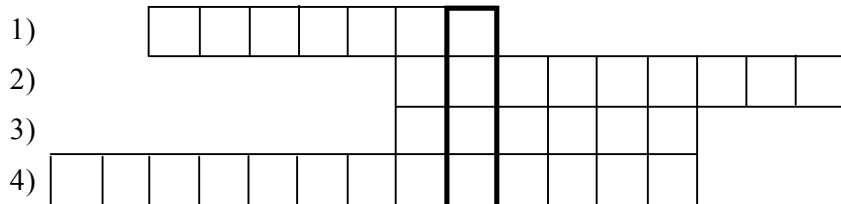
name of an animal (mouse,

buffalo, tiger, ...) used as the

symbol of this year in many

Asian countries, including

Vietnam.



Picture 1

**Question 3:** Lan is taking a temperature measurement with a medical thermometer (picture 2). After taking it, the measurement is shown in picture 3.

a) What is the measurement in picture 3?


.....

b) This measurement shows which of the body states: hot, normal, or cold?

.....



Picture 2



Picture 3

**Question 4:** Read the newspaper extract, and do the request that follows:

Sau đây là thông tin trên báo Tuổi Trẻ ngày 19/3/2015 và một số báo khác:

**“Shisha: một chất hút gây nghiện độc hại hơn cả thuốc lá.**

*Đó là một loại cỏ có tẩm hương liệu. Chất này được đốt trong một bình và người dùng hút khói của nó qua một đường ống (picture 4). Thời gian qua, shisha được nhiều người trên thế giới sử dụng, trong đó có thanh thiếu niên Việt Nam.*

*Theo chuyên gia Tracey E. Barnett, Đại học Florida (Mỹ), người hút shisha có thể bị ngộ độc khí CO (carbon monoxide, cũng là loại khí có trong khói thải của động cơ xe máy), có thể mắc các bệnh đường hô hấp, viêm phế quản mãn tính, cúm và lao, có thể bị lây truyền virus viêm gan C. Sử dụng chất này lâu dài có thể gây nghiện và dẫn đến các bệnh tim mạch, ung thư (như ung thư phổi, ung thư miệng)...”*



Picture 4

Em hãy viết một câu khẩu hiệu ngắn **bằng tiếng Anh** (không quá 10 từ) thể hiện thái độ hoặc hành động cần thiết của học sinh đối với chất shisha.

.....

**Question 5:** Picture 5a and picture 5b have three details drawn differently. The first different detail is on the hat and is circled in picture 5b. Circle the two other different details in picture 5b.



Picture 5a

Picture 5b

**Question 6:** Following is an English proverb:

When you eat a fruit, think of the man who planted the tree.

What is the equivalent Vietnamese proverb to the above-mentioned English one?

.....

.....



Picture 6

**Question 7:** A foreign tourist is standing on Le Loi street in front of the Ben Thanh market in Ho Chi Minh city, and he is asking for the way to walk to the Duc Ba cathedral. Show him the way in English (using no more than 20 words).

*Prompt: Picture 6 is part of a map of the city center, A is the location of the Ben Thanh market and B is the location of the Duc Ba cathedral.*

.....

.....

.....

.....

.....

.....

**Question 8:** This is the miniature picture of a rectangular garden as shown in picture 7.

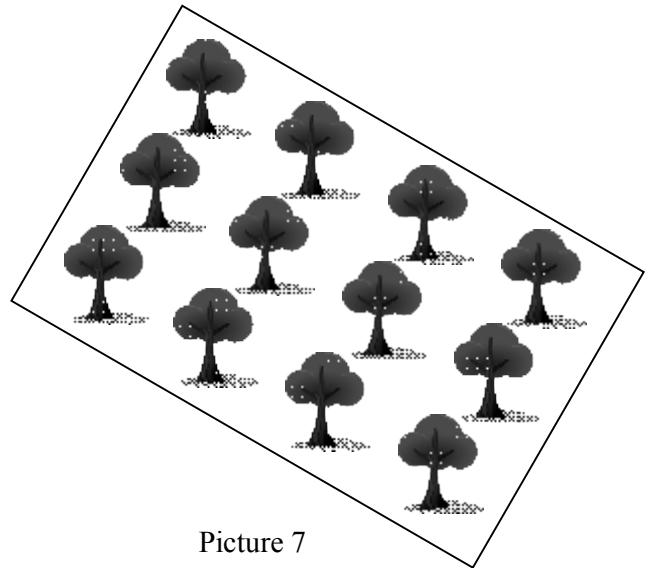
a) Use the ruler given to you to measure the sides of the picture, then write down the length of the sides of the rectangle:

..... (cm),

..... (cm).

b) The given fact is that the sides of picture 7 are drawn to the proportion 1 : 2000. The area of the garden is:

..... (m<sup>2</sup>).



Picture 7

**Question 9:** Read the newspaper extract, and do the request that follows:

*“Theo báo cáo của Tổng công ty cấp nước Sài Gòn (Sawaco), tỷ lệ thất thoát nước máy trên địa bàn TP.HCM tính đến cuối năm 2014 là 33,5%, tức 500 000 m<sup>3</sup> nước bị thất thoát mỗi ngày.”*

Cho rằng lượng nước máy sử dụng trung bình của một người dân thành phố trong một tháng (30 ngày) là 4 m<sup>3</sup>. Nếu lượng nước thất thoát giảm còn 20,1% tức chỉ còn 300 000 m<sup>3</sup> nước bị thất thoát mỗi ngày thì có thêm bao nhiêu người dân có thể được cung cấp nước từ nhà máy nước của thành phố?

*(Students have to write down the calculations and the result, and do not have to write down any explanation.)*

.....  
.....  
..... Result: ..... persons.

**Question 10:** Read the newspaper extract, and do the requests that follow:

Vào tháng 5 năm 2015, trên một tờ báo ở nước ta có bài viết về một thanh niên tên Phúc tạo dựng một trang trại nuôi và bán chim bồ câu. Bài viết có đoạn:

*“Qua gần 7 năm khởi nghiệp, trang trại của Phúc đang có 3 khu chuồng nuôi chim bồ câu sinh sản, chim bồ câu thương phẩm và chim cu gáy phục vụ nhu cầu chơi chim cảnh. Mỗi tháng, trang trại cung cấp ra thị trường khoảng 1 500 cặp chim giống và 1 000 cặp chim thương phẩm. “Với giá bán của loại chim giống khoảng 200 000 đồng/cặp và loại chim thương phẩm là 70 000 đồng/con, doanh thu mỗi tháng được khoảng 370 triệu đồng, trừ chi phí thức ăn và trả lương công nhân, tiền lãi thu về cũng còn được khá lớn”, Phúc cho biết.”*

a) Trong các dữ liệu được gạch dưới của đoạn trích trên, có một dữ liệu không phù hợp với các dữ liệu khác. Dữ liệu không phù hợp đó là: .....

b) Em hãy điều chỉnh và viết lại dữ liệu này ở dòng dưới để các dữ liệu phù hợp với nhau.  
.....

**THE END**

**ĐÁP ÁN**

**Câu 1: (4 điểm)**

(1): mưa (1đ);

(2): Xanh (hoặc Trong, Thăm, Biêng) (1đ);

(3): Mây (hoặc Điều) (1đ);

(4): ngọt (hoặc nhót) (1đ; nếu là một từ khác hợp nghĩa nhưng không hợp vần: 0,5đ)

Từ viết nhầm giữa viết hoa và viết thường: -0,5đ/từ.

HS dùng từ khác phù hợp vẫn cho điểm.

**Câu 2: (4 điểm)**

1) NHARONG (1đ)

2) HOCHIMINH (1đ)

3) CANTHO (1đ)

4) TRANBINHTRONG (1đ)

**Câu 3: (4 điểm)**

a) 36,9° hoặc 36,9 (2đ)

b) normal (2đ)

**Câu 4: (4 điểm)**

Đúng nội dung, yêu cầu, từ vựng, ngữ pháp: 4đ

Đúng nội dung, yêu cầu, có sai sót về từ vựng, ngữ pháp: 2đ

**Câu 5: (4 điểm)**

Khoanh tròn ở bụng: 2đ

Khoanh tròn ở lông mày phía trong: 2đ

**Câu 6: (4 điểm)**

Ăn quả nhớ kẻ trồng cây (hoặc: Uống nước nhớ nguồn; Ăn khoai nhớ kẻ cho dây mà trồng; Ăn gạo nhớ kẻ đâm, xay, giần, sàng;...)

(Nếu viết đúng nội dung nhưng có sai, sót về từ ngữ của câu thành ngữ Việt Nam: chỉ cho 2đ)

**Câu 7: (4 điểm)**

Đúng nội dung, yêu cầu, từ vựng, ngữ pháp: 4đ

Đúng nội dung, yêu cầu, có sai sót về từ vựng, ngữ pháp: 2đ

**Câu 8: (4 điểm)**

a) 4,8 hoặc 4,7 hoặc 4,9 (cm) (1đ)                      7,5 hoặc 7,4 hoặc 7,6 (cm) (1đ)

b) là hai số trong câu a nhân với nhau rồi nhân cho 400 (2đ)

Ví dụ: kết quả trong câu a là 4,8 cm và 7,5 cm thì kết quả trong câu b là 14400 (m<sup>2</sup>)

**Câu 9: (4 điểm)**

$500000 - 300000 = 200000 \text{ m}^3/\text{ngày}$  (1đ) (có thể không ghi đơn vị m<sup>3</sup>/ngày)

$200000 \times 30 = 6000000 \text{ m}^3/\text{tháng}$  (1đ) (có thể không ghi đơn vị m<sup>3</sup>/tháng)

$6000000 : 4 = 1500000$  (1đ)                      Result:                      1500000 persons. (1đ)

**Câu 10: (4 điểm)**

a) 1000 cặp chim thương phẩm (2đ)

b) 1000 con chim thương phẩm (2đ)

hoặc:                      70000 đồng/con

70000 đồng/cặp

hoặc:                      370 triệu đồng

440 triệu đồng

**Question 1:** In this fable there is an underlined blank.

**Hai người bạn**

Có hai người bạn đang đi với nhau trong rừng thì tình hình gặp một con gấu. Một người nhanh chân leo lên một cây cao. Người còn lại biết là thế nào mình cũng bị tấn công liền vội nằm lăn ra đất.


Gấu lại gần và dí mõm ngửi khắp người anh ta. Anh ta nín thở và giả vờ như đã chết. Chẳng bao lâu, con gấu bỏ đi ..... gấu không bao giờ đụng đến xác chết.

Khi con gấu đã đi khỏi, người ở trên cây leo xuống và đùa cợt hỏi thăm người bạn mình là gấu đã thảm thì điều gì vào tai anh thế. “Nó khuyên tôi,” người bạn trả lời, “đừng bao giờ làm bạn với một người bỏ mình khi gặp nguy hiểm.”

The suitable word to fill in that underlined blank is \_\_\_\_\_

- A. nên                                      B. dù                                      C. nhưng                                      D. vì

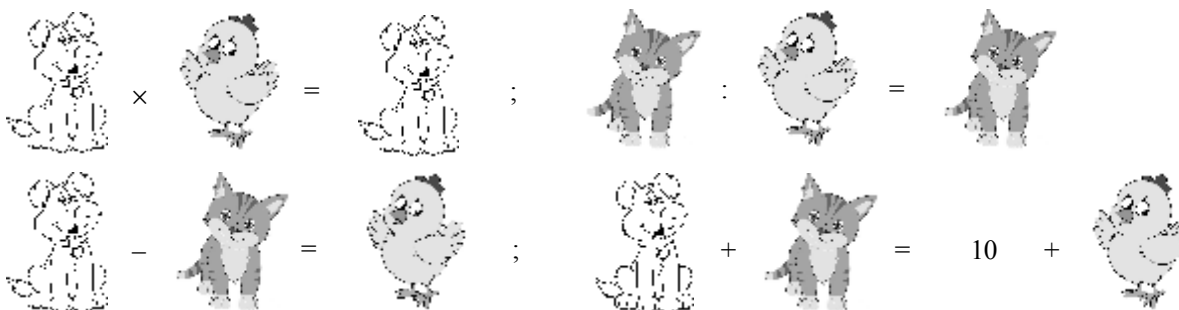
**Question 2:** Look at pictures 1. Which of pictures 1a, 1b, 1c, or 1d is the silhouette (bóng đen) of picture 1e?



Pictures 1

- A. Picture 1a.                                      B. Picture 1b.                                      C. Picture 1c.                                      D. Picture 1d.

**Question 3:** In the following calculations of pictures 2, “dog”, “cat”, and “chicken” are used to represent different numbers.



Pictures 2

Please, tell which number “dog” represents?

- A. 5.    B. 4.    C. 7.    D. 6.

**Question 4:** Read this proverb:

*Một sự nhìn, chín sự lành.*

The word “lành” in the proverb means

- A. hiền lành.                                      B. tốt lành.  
C. lành lành.                                      D. lành nghề.

**Question 5:** Pictures 3 show four jigsaws of a painting. Which of the following orders (from left to right) makes a complete painting?

- A. 3a, 3b, 3d, 3c.                                      B. 3c, 3b, 3a, 3d.



3a                                      3b                                      3c                                      3d

Pictures 3

- C. 3b, 3d, 3a, 3c.      D. 3d, 3a, 3c, 3b.

**Question 6:** January 1<sup>st</sup> 2015 is a Thursday, January 1<sup>st</sup> 2016 is a \_\_\_\_\_

- A. Thursday.              B. Friday.  
C. Wednesday.          D. Saturday.

**Question 7:** Photo 4 shows the milestone of an important campaign in our country's history. This milestone occurred in \_\_\_\_\_

- A. 1954.                    B. 1968.  
C. 1945.                    D. 1975.

**Question 8:** Which of the following names is that of a well-known man in the history of Vietnam, who is attached to many glorious feats (chiến thắng oanh liệt) against Mông-Nguyên invaders (quân xâm lược)?

- A. Trần Quốc Tuấn.      B. Thoát Hoan.  
C. Nguyễn Huệ.          D. Tôn Sĩ Nghị.

**Question 9:** After being out in the sun for quite some time, when we just come back home we should \_\_\_\_\_

- A. drink some iced water immediately.      B. take a cool bath immediately.  
C. take a rest under a shade.                  D. drink some really hot water immediately.

**Question 10:** To keep our body healthy, we need to drink enough water. People over 11 years of age can roughly calculate the amount of water they need to drink per day by this formula:

$$\text{amount of water (litre)} = 0.01 \times \text{person weight (kilogram)} + 1.2.$$

From that, the amount of water you yourself should drink per day is approximately \_\_\_\_\_

- A. 1.5 – 2 litres.          B. 0.5 – 1 litre.              C. 2.5 – 3.5 litres.          D. 4 – 5 litres.


**Question 11:** An English student is 4 feet 2 inches (50 inches) tall. The height of this student by centimeter is \_\_\_\_\_

*Note: You can use the conversion table on the ruler given to you to answer this question.*

- A. 102 cm.                  B. 132 cm.                    C. 117 cm.                    D. 127 cm.

**Question 12:** The traffic sign (picture 5) has red background and a white horizontal line. What is the meaning of the traffic sign?

- A. Cấm xe ô tô lưu thông.                      B. Cấm đậu xe.  
C. Cấm xe đi ngược chiều.                      D. Cấm người đi bộ.



Picture 5

**Question 13:** Fiber (chất xơ) in some kinds of food is necessary for the digestive system (hệ tiêu hóa) to work normally. We need to eat enough food rich in fiber. The kinds of food rich in fiber are \_\_\_\_\_

- A. rice, corn.                  B. eggs, milk.  
C. fruits, vegetables.        D. meat, fish.

**Question 14:** Photo 6 shows a general commander whose name is attached to the Điện Biên Phủ victory in 1954 of Việt Nam. What is his name?

- A. Phan Đình Giót.          B. Bế Văn Đàn.  
C. Võ Nguyên Giáp.        D. Nguyễn Ái Quốc.

**Question 15:** A sailing boat can move thanks mainly to the power of \_\_\_\_\_

- A. water current.              B. wind.  
C. sunshine.                    D. gasoline.

**Question 16:** Among the districts and precincts in Hồ Chí Minh city, which one has the largest area and joins the East Sea?

- A. Cần Giờ.                    B. Củ Chi.  
C. Hóc Môn.                    D. Bình Chánh.

**Question 17:** The kind of food that should be taken in no more than 10 grams per day is \_\_\_\_\_

- A. vegetables.                  B. meat.  
C. salt.                            D. fat.



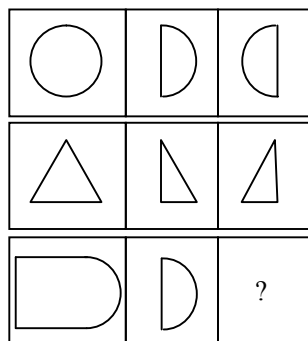
Photo 6

**Question 18:** In Hồ Chí Minh city, the temperature in summer is about 30°C - 34°C. To be healthy, it is advisable that the temperature in an air-conditioned room be lower than the outside temperature about 5°C. So, during summer, in an air-conditioned room, we should adjust the air-conditioner at the temperature of \_\_\_\_\_

- A. below 20°C.  
B. about 25°C - 29°C.  
C. above 30°C.  
D. about 20°C - 24°C.



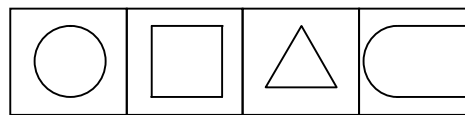
Photo 4



Pictures 7

**Question 19:** There are three chains in pictures 7. Each chain consists of three pictures as follow. There is a common rule for the pictures in each chain. In pictures 8, the picture suitable to be put in the box marked “?” of pictures 7 is picture

- A. 8a.                      B. 8b.  
C. 8c.                      D. 8d.



8a                      8b                      8c                      8d  
Pictures 8

**Question 20:** Read the information and the question, then choose the correct answer:

*Báo Tuổi Trẻ ngày 10 tháng 5 năm 2015 cho biết: Tỉ phú Hong Kong Yu Pang-Lin vừa qua đời ở tuổi 93, để lại di chúc hiến toàn bộ tài sản trị giá khoảng 2 tỉ USD cho hoạt động từ thiện mà không để lại cho con cái. Nhà tỉ phú này cho rằng nếu các con của ông giỏi giang thì chẳng cần phải để lại nhiều tiền cho chúng, còn nếu chúng kém cỏi thì có nhiều tiền cũng chỉ có hại cho chúng mà thôi. Tương tự, tỉ phú Warren Buffett viết di chúc chỉ để lại 10% tài sản của mình cho con, còn lại là để làm từ thiện. Tuy nhiên, các người con, dù không phải giàu có, cũng từ chối và dành luôn số tiền đó cho từ thiện.*

We can infer from the information that those billionaires do NOT want their children to have which of the following?

- A. Lòng nhân ái.                      B. Tính tự lập.                      C. Năng lực làm việc.                      D. Sự dựa dẫm.

**Question 21:** When used for cooking, which of the following ovens does NOT need oxygen in the air?

- A. Oil oven.                      B. Electric oven.                      C. Gas oven.                      D. Coal oven.

**Question 22:** In a PE period, four students Minh, Anh, Hùng, Dũng are practicing jogging. The given fact is that the higher his running speed is, the faster he runs. The distance and the time each student runs are listed in the side box. Of the four students, the one who runs the fastest is \_\_\_\_\_

- A. Minh.                      B. Anh.  
C. Hùng.                      D. Dũng.

Student	Distance (metre)	Time (second)
Minh	30	6
Anh	40	10
Hùng	54	15
Dũng	80	25

**Question 23:** At night, should we put in our bedrooms a lot of green plants?

- A. Yes, because at night plants take in oxygen.                      B. No, because at night plants take in oxygen.  
C. Yes, because at night plants give out oxygen.                      D. No, because at night plants give out oxygen.

**Question 24:** Which of the following cities and provinces does NOT produce salt from sea water?

- A. Thành phố Hồ Chí Minh.                      B. Đắk Lắk.  
C. Bạc Liêu.                      D. Ninh Thuận.

**Question 25:** Minh and his mother are buying stationeries. Minh buys a ruler priced 5 000 đồng, a pair of compasses priced 12 000 đồng, and a pencil priced 4 000 đồng. Minh’s mother gives the shop owner 50 000 đồng. How much money does the shop owner have to give his mother back?

- A. 21 000 đồng.                      B. 19 000 đồng.                      C. 31 000 đồng.                      D. 29 000 đồng.

**Question 26:** Read this part of a letter:

*Non sông Việt Nam có trở nên tươi đẹp hay không, dân tộc Việt Nam có bước tới đài vinh quang để sánh vai với các cường quốc năm châu được hay không, chính là nhờ một phần lớn ở công học tập của các em. (Tiếng Việt 5, tập 1, trang 5)*

The phrase “Non sông” in this part of the letter is NOT synonymous with which of the following phrases?

- A. Giang sơn.                      B. Đất nước.                      C. Đồng bào.                      D. Quê hương.

**Question 27:** Read this extract from the following poem:

*Trái đất này là của chúng mình  
Quả bóng xanh bay giữa trời xanh  
Bồ câu ơi, tiếng chim gù thương mến  
Hải âu ơi, cánh chim vờn sóng biển  
Cùng bay nào, cho trái đất quay !  
Cùng bay nào, cho trái đất quay !*

(Trích Bài ca về trái đất, Định Hải, Tiếng Việt 5, tập 1, trang 41)



The phrase “chim gù” in the extract does NOT belong with which of the following phrases?

- A. gà gáy                      B. chuột rúc                      C. lợn què                      D. ngựa hí

**Question 28:** Read the information and the question, then choose the correct answer:

Câu 1: <i>Ai ơi bung bát cơm đây, Đẻo thơm một hạt đắng cay muôn phần.</i>	Câu 2: <i>Bầu ơi thương lấy bí cùng, Tuy rằng khác giống nhưng chung một giàn.</i>
Câu 3: <i>Nhiều điều phù lấy giá gương, Người trong một nước phải thương nhau cùng.</i>	Câu 4: <i>Khôn ngoan đối đáp người ngoài, Gà cùng một mẹ chớ hoài đá nhau.</i>

Which of the above-mentioned folk verses do NOT belong with the other ones?

- A. Câu 3.                      B. Câu 4.                      C. Câu 2.                      D. Câu 1.

**Question 29:** Scientists say that one way to keep our body healthy is to walk a distance of about 6 km per week. One person walks 100 steps per minute, each step is 0.4 m. To keep fit, the amount of time this person needs to walk per week is \_\_\_\_\_

- A. 2 hours 30 minutes.      B. 2 hours.                      C. 1 hour 30 minutes.      D. 3 hours 30 minutes.

**Question 30:** The time in Singapore is an hour ahead of that in Hồ Chí Minh city (HCMC). For example, when it is 11 am in HCMC, it is 12 am in Singapore. A plane departing from HCMC at 6 am (Vietnam time) arrives in Singapore at 9:10 am (Singapore time). Supposing the flying time from HCMC to Singapore is the same as that from Singapore to HCMC. A plane departing from Singapore at 2:20 pm (Singapore time) arrives (according to Vietnam time) in HCMC at \_\_\_\_\_

- A. 3:30 pm.                      B. 3:10 pm.                      C. 5:30 pm.                      D. 5:10 pm.

**THE END**

**ĐÁP ÁN (mỗi câu 2đ)**

- |       |       |       |
|-------|-------|-------|
| 1. D  | 11. D | 21. B |
| 2. A  | 12. C | 22. A |
| 3. D  | 13. C | 23. B |
| 4. B  | 14. C | 24. B |
| 5. C  | 15. B | 25. D |
| 6. B  | 16. A | 26. C |
| 7. D  | 17. C | 27. C |
| 8. A  | 18. B | 28. D |
| 9. C  | 19. B | 29. A |
| 10. A | 20. D | 30. A |