



$34 < x - 10 < 36 \rightarrow x =$	$12 < 3 \times Y < 17 \rightarrow Y =$
$7 < 27 : x < 10 \rightarrow x =$	$19 < 100 : x < 21 \rightarrow x =$

**Dạng toán tìm X.**

Bài 6.

$Y \times 17 + 33 \times Y + 5 = 55$	$X : (15 \times 3) - 14 = 31$
$120 \times Y - 120 = 240$	$12 : Y \times 3 = 9$

**Dạng toán phân số:**

Bài 7. Điền số thích hợp vào ô trống:

$\frac{15}{18} = \frac{5}{\quad}$	$\frac{12}{8} = \frac{\quad}{4}$	$\frac{10}{100} = \frac{\quad}{10}$	$\frac{45}{18} = \frac{5}{\quad}$
$\frac{32}{12} = \frac{8}{\quad}$	$\frac{36}{39} = \frac{\quad}{13}$	$\frac{6}{8} = \frac{\quad}{40}$	$\frac{9}{4} = \frac{36}{\quad}$
$\frac{17}{3} = \frac{\quad}{6}$	$\frac{120}{100} = \frac{\quad}{5}$	$\frac{49}{63} = \frac{7}{\quad}$	$\frac{\quad}{8} = \frac{10}{2}$

Bài 8. Rút gọn các phân số sau đến tối giản:

$\frac{4}{8} =$	$\frac{4}{10} =$	$\frac{5}{10} =$	$\frac{5}{20} =$
$\frac{6}{8} =$	$\frac{6}{9} =$	$\frac{8}{12} =$	$\frac{9}{21} =$
$\frac{12}{21} =$	$\frac{16}{6} =$	$\frac{36}{48} =$	$\frac{24}{60} =$

Bài 9. Sắp xếp các phân số sau theo thứ tự tăng dần: (viết sang bên cạnh)

$$\begin{array}{r} 3\ 7\ 7\ 3\ 7\ 3\ 99\ 0 \\ \hline 4\ 3\ 2\ 10\ 6\ 7\ 99\ 789 \end{array}$$

Bài 10. Sắp xếp các phân số sau theo thứ tự giảm dần: (viết sang bên cạnh)

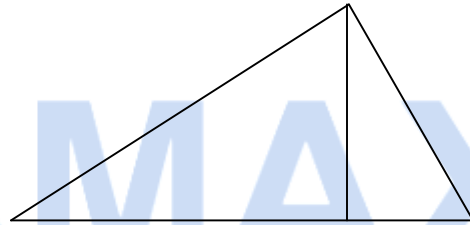
$$\begin{array}{r} 5679\ 1432\ 1486\ 0 \\ \hline 5679\ 7361\ 1098\ 1234 \end{array}$$

Bài 11. Thực hiện các phép tính sau:

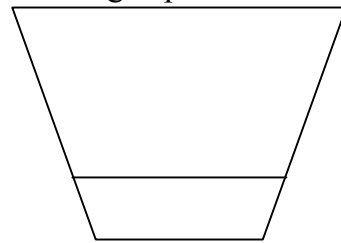
$\frac{4}{8} \times$	$\frac{4}{8} =$	$\frac{4}{8} =$
$\frac{4}{8} =$	$\frac{4}{8} =$	$\frac{4}{8} =$
$\frac{4}{8} =$	$\frac{4}{8} =$	$\frac{4}{8} =$

**Dạng toán hình học:**

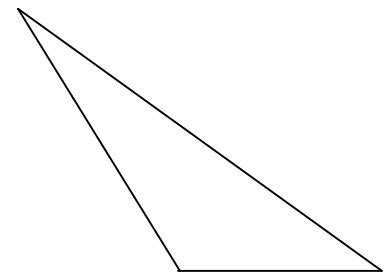
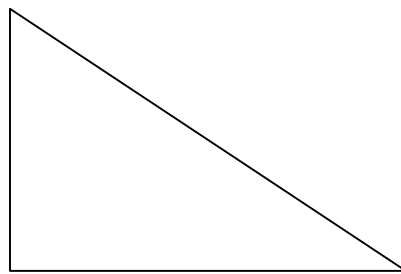
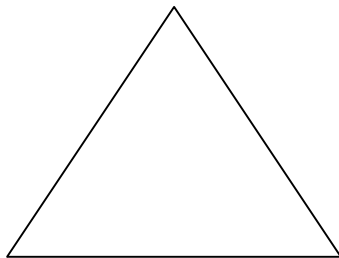
Bài 12. Hình bên có bao nhiêu góc vuông, góc tù, góc nhọn, góc bẹt



Bài 13. Hình bên có bao nhiêu cặp đường thẳng song song, là những cặp nào?



Bài 13. Vẽ đường cao AH của hình tam giác ABC trong mỗi trường hợp sau:



**Dạng toán có lời văn:**

Bài 13. Biết rằng số tuổi của mẹ hiện nay gấp ba lần số tuổi của con. Tổng số tuổi của mẹ và con là 48. Tìm số tuổi của mẹ và của con.

Giải:

Bài 2. Biết bố năm nay 48 tuổi. Tuổi ông bằng ba phần hai tuổi của bố. Tuổi con kém tuổi bố 4 lần. Hỏi trung bình cộng số tuổi của ông, bố và con.

Giải:

Bài 3. Biết tổng số tuổi của mẹ và bố là 56. Bố hơn mẹ 4 tuổi. Tìm tuổi bố và mẹ.

Giải:

Bài 4. Biết tuổi mẹ hơn tuổi con là 25 tuổi. Tìm tuổi mẹ và tuổi con hiện nay biết tuổi con bằng một phần sáu tuổi của mẹ.

Giải:

