

**MA TRẬN ĐỀ KIỂM TRA MÔN TIN HỌC CUỐI HỌC KÌ II LỚP 5**

Mạch kiến thức, kỹ năng (Chủ đề)	Số câu & Số điểm	Mức 1		Mức 2		Mức 3		Mức 4		Tổng điểm và tỉ lệ %	
		TN KQ	T N T L	T N K Q	T N T L	T N K Q	T N T L	T N K Q	T N T L	Tổng điểm	%
Kỹ năng gõ văn bản bằng phương pháp 10 ngón	Số câu	1		1						2	
	Số điểm	<b>0,5</b>		<b>0,5</b>						<b>1</b>	<b>10%</b>
Soạn thảo văn bản: Tạo bảng, chỉnh sửa cấu trúc và căn lề trong bảng	Số câu	1		1			1			3	
	Số điểm	<b>0,5</b>		<b>0,5</b>			<b>3</b>			<b>4</b>	<b>40%</b>
Soạn thảo văn bản: Chèn hình vẽ vào văn bản	Số câu	1								1	
	Số điểm	<b>0,5</b>								<b>0,5</b>	<b>5%</b>
Logo	Số câu	1		3		1			1	6	
	Số điểm	<b>0,5</b>		<b>1,5</b>		<b>0,5</b>			<b>2</b>	<b>4,5</b>	<b>45%</b>
<b>Tổng</b>	<b>Số</b>	<b>4</b>		<b>5</b>		<b>1</b>	<b>1</b>		<b>1</b>	<b>12</b>	

	câu										
	Số điểm	2		2, 5		0 , 5	3		2	10	1 0 0 %



Trường Tiểu Học Xuân Phương  
Họ và tên:.....  
Lớp: 5....







KIỂM TRA CUỐI HỌC KÌ II  
Năm học: 2016 – 2017  
Môn: Tin Học  
Thời gian làm bài 60 phút

Điểm	Nhận xét của giáo viên


**A. Lý thuyết: (5 điểm)**

**Câu 1 : Em hãy khoanh vào trước chữ cái có câu trả lời đúng.**

**1. Các nút lệnh dùng để sao chép văn bản là?**

- A.  và 
- B.  và 
- C.  và 

**2. Nút lệnh dùng để chèn bảng trong văn bản là:**

- A. 
- B. 
- C. 

**3. Để chèn tệp hình vẽ vào văn bản, sau khi đặt con trỏ soạn thảo tại vị trí muốn chèn ảnh, em cần:**

- A. Vào Insert -> Symbol
- B. Vào Table -> Insert -> Table
- C. Vào Insert -> Picture -> From File

**4. Câu lệnh dùng để làm tính trong Logo?**

- A. Print hoặc Show
- B. LABEL
- C. Repeat

**5. Trong phần mềm Word, để tạo bảng mới (Table) em thực hiện thao tác sau:**

- A. Nháy chuột vào Menu Table\ Insert\ Table
- B. Nháy chuột vào Menu Table\ Delete\ Table
- C. Nháy chuột vào Menu Table\ Insert\ Row
- D. Nháy chuột vào Menu Table\ Delete\ Row

6. Trong khi gõ phím, em cần lấy hàng phím nào làm chuẩn?

- A. Hàng phím số  
B. Hàng phím trên  
C. Hàng phím dưới  
D. Hàng phím cơ sở.

7. Muốn Rùa quay phải một góc 90 độ em dùng lệnh nào?

- A. RT 90  
B. LT 90  
C. FD 90  
D. PU 90

8. Trong phần mềm Logo, để rùa lùi lại 100 bước ta gõ lệnh sau.

- A. FD 100  
B. BK 100  
C. RT 100  
D. LT 100

9. Để Rùa viết lên dòng chữ Hello lên màn hình logo em sử dụng lệnh nào?

- A. Label 'hello  
B. Label "hello  
C. Label "Hello  
D. Label [hello]

10. Trong phần mềm Logo, để Rùa vẽ hình vuông cạnh 100 bước em gõ lệnh:

- A. REPEAT 3 [FD 100 RT 90]  
B. REPEAT 4 [FD 100 RT 90]  
C. REPEAT 4 [FD 50 RT 90]  
D. REPEAT 4 [FD 100 RT 360/3]

**B. Thực hành (5 điểm)**

**Câu 1:** Em hãy tạo và trình bày tờ lịch tháng 4 năm 2017 và lưu trữ vào máy với tên tệp "lich thang 4":

**THÁNG 4 - 2017**

Thứ 2	Thứ 3	Thứ 4	Thứ 5	Thứ 6	Thứ 7	Chủ nhật
						1
2	3	4	5	6	7	8
9	10	11	12	13	14	15
16	17	18	19	20	21	22
23	24	25	26	27	28	29
30						

**Câu 2:** Viết chương trình gồm một hoặc nhiều thủ tục để tạo ra hình tam giác có cạnh là 100.

**ĐÁP ÁN VÀ BIỂU ĐIỂM CHẤM ĐỀ KIỂM TRA CUỐI HỌC KÌ II  
MÔN TIN HỌC LỚP 5**

**Phần A. Lý thuyết (5 điểm)**

**Câu 1: (2 điểm) mỗi ý đúng 0,5 điểm**

1. B(0,5 điểm)
2. B (0,5 điểm)
3. C (0,5 điểm)
4. A (0,5 điểm)
5. A(0,5 điểm)
6. D (0,5 điểm)
7. A (0,5 điểm)
8. B (0,5 điểm)
9. C (0,5 điểm)
10. B (0,5 điểm)

**Phần B. Thực hành (5 điểm)**

**Câu 1(2,5 điểm)**

- Học sinh tạo được bảng 1 điểm
- Học sinh gõ đầy đủ nội dung vào trong bảng theo mẫu 1 điểm.
- Học sinh trình bày tờ lịch đúng theo mẫu 0,5 điểm.

**Câu 2 (2,5 điểm)**

- Học sinh thực hành đầy đủ các bước

B1. Học sinh gõ lệnh edit "... ví dụ edit "tamgiac1 (0,5 điểm)

B2: to tamgiac1

Repeat 3[fd 100 rt 120] (0,5 điểm)

end

hoặc học sinh dùng các lệnh để vẽ hình tam giác

B3: File->save and exit (0,5 điểm)

B4: gõ lệnh save "... ví dụ save "baihoc1.lgo (0,5 điểm)

B5: Gõ lệnh load "... ví dụ load "baihoc1.lgo (0,5 điểm)