

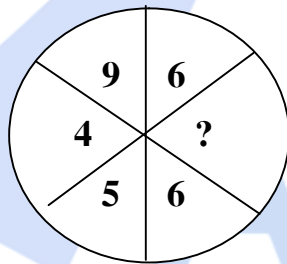

Điểm bài thi :	Họ tên, chữ ký giám khảo số 1
Bảng số :	Họ tên, chữ ký giám khảo số 2
Bảng chữ :	Số phách do chủ tịch HĐ chấm ghi: <input type="text"/>

Họ tên, chữ ký giám thị số 1:
Họ tên, chữ ký giám thị số 2:
Số phách do chủ tịch HĐ chấm ghi: <input type="text"/>

Đề thi môn Toán : (Thời gian làm bài 20 phút)
Học sinh làm bài trực tiếp trên tờ đề thi

PHẦN I: Trắc nghiệm
(Khoanh tròn chữ cái đứng trước kết quả đúng)

Bài 1: Tìm số còn thiếu.



- A. 17 B. 6 C. 11 D. 15**

Bài 2 : Tính nhanh:

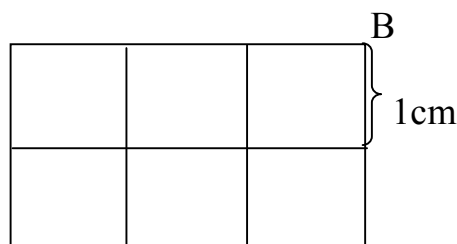
$$1 - 2 + 3 - 4 + 5 - 6 + 7 - 8 + 9 - 10 + 11$$

- A. 6 B. 11 C. 5 D. 45**

Bài 3: Trong đợt kiểm tra cuối học kỳ I, lớp 2A có 12 bạn đạt điểm 10 môn Toán và Tiếng Việt. Có 9 bạn đạt điểm 10 Toán và 8 bạn đạt điểm 10 Tiếng Việt. Hỏi có bao nhiêu bạn đạt điểm 10 cả Tiếng Việt và Toán?

- A. 3 bạn B. 9 bạn**
C. 4 bạn D. 5 bạn

Bài 4: Có bao nhiêu đường gấp khúc dài 5cm từ A đến B có trong hình vẽ bên. Biết mỗi ô vuông có cạnh dài 1cm.



PHÒNG GD-ĐT VĨNH TƯỜNG
 =====

TỜ GIẤY THI
TRẠNG NGUYÊN NHỎ TUỔI

Khối lớp : 2

Năm học 2009 – 2010

Họ và tên học sinh :

Ngày sinh :

Học sinh lớp :

Trường Tiểu học :

Số báo danh :


A

A. 8

B. 9

C. 10

D. 7



Phần II : Tính và ghi kết quả đúng vào ô trống:*(không cần trình bày lời giải) .***Bài 5:** Khi thực hiện cộng một số tự nhiên với 26, một học sinh đã chép nhầm số hạng thứ hai thành 62 nên dẫn đến kết quả sai là 97.

Tìm số hạng còn lại của phép cộng.

Đáp số:**Bài 6:** Có hai túi gạo, túi thứ nhất chứa 12 kg, túi thứ hai chứa 8 kg. Hỏi cùng phải lấy ra ở mỗi túi bao nhiêu ki- lô- gam gạo để số gạo còn lại ở túi thứ hai bằng một nửa số gạo còn lại ở túi thứ nhất?**Đáp số:****Bài 7 :** Trong túi có 14 viên bi màu đỏ, 8 viên bi màu xanh và 4 viên bi màu vàng. Không nhìn vào túi phải lấy ra ít nhất bao nhiêu viên bi để có số bi có đủ ba màu?**Đáp số:****PHẦN III: TỰ LUẬN***(Học sinh trình bày lời giải vào phần giấy thi sau đề bài)***Bài 8 :** Có 6 điểm A, B, C, D, E, G. Cứ qua 2 điểm ta nối được một đoạn thẳng. Với các điểm đã cho ta nối được tất cả bao nhiêu đoạn thẳng?**Bài làm**

.....

.....

.....

.....

.....

.....

.....

.....

.....

.....

.....

.....

.....

.....

.....

.....

.....

.....

.....

HD CHẤM THI TRẠNG NGUYÊN NHỎ TUỔI NĂM HỌC 2009 - 2010
MÔN : TOÁN - LỚP 2

I. TRẮC NGHIỆM : 8 điểm

Câu 1	Câu 2	Câu 3	Câu 4	Câu 5	Câu 6	Câu 7
B	A	D	C	35	4kg	23 viên bi
<i>1đ</i>	<i>1đ</i>	<i>1đ</i>	<i>1đ</i>	<i>1đ</i>	<i>1,5đ</i>	<i>1,5đ</i>

I. TỰ LUẬN : 2điểm

CÂU 8.

Cứ qua 2 điểm ta nối được một đoạn thẳng. Từ 1 điểm A ta nối với 5 điểm B, C, D, E, G được 5 đoạn thẳng. (0,5đ)

Từ điểm B ta nối được 4 đoạn thẳng với 4 điểm còn lại :C, D, E, G .

Từ điểm C ta nối được 3 đoạn thẳng với 3 điểm còn lại :D, E, G .

(0,5đ)

Từ điểm D ta nối được 2 đoạn thẳng với 2 điểm còn lại :E, G .

Từ điểm E ta nối được 1 đoạn thẳng với 1 điểm còn lại : G .

(0,5đ)

Tổng số đoạn thẳng nối được là:

$$5 + 4 + 3 + 2 + 1 = 15 \text{ (đoạn thẳng)}$$

ĐS: 15 đoạn thẳng

(0,5đ)

ĐÁP ÁN TOÁN 2 (TNNT)

I. Trắc nghiệm:

1. Quy luật: Tổng các số bên trái bằng tổng các số bên phải.

$$\text{Mà: } 9 + 5 + 4 = 18$$

$$\text{Nên: } ? = 18 - 6 - 6 = 6$$

2. Ta có:

$$11 - 10 + 9 - 8 + 7 - 6 + 5 - 4 + 3 - 2 + 1 = 1 + 1 + 1 + 1 + 1 + 1 = 6$$

3. Số bạn đạt điểm giỏi cả hai môn là:

$$(9 + 8) - 12 = 5 \text{ (bạn)}$$

4.

5. Do chép nhầm số hạng thứ hai nên tổng tăng thêm : $62 - 26 = 36$

$$\text{Tổng đúng là: } 97 - 36 = 61$$

$$\text{Số hạng thứ nhất là: } 61 - 26 = 35$$

ĐS:

2. Túi thứ hai hơn túi thứ nhất là: $12 - 8 = 4$ (kg gạo)

Khi cùng lấy đi một số gạo như nhau thì hiệu số gạo không thay đổi.

Mà lúc sau:

Túi gạo thứ nhất : / /

Túi gạo thứ hai: /

Túi gạo thứ hai lúc sau có 4 kg gạo.

$$\text{Số gạo đã lấy ở mỗi túi là: } 8 - 4 = 4 \text{ (kg)}$$

7. Lấy 22 viên thì trong trường hợp “đặc biệt” ta chỉ lấy hết số bi đỏ và xanh ($14 + 8 = 22$).

Nên lấy thêm một viên nữa là 23 viên thì chắc chắn ta có đủ ba màu bi: đỏ, xanh và vàng.