

			lễ)		
	11	1	Giải bài toán theo tóm tắt (bằng lời văn)	M3	1,5

Trường: ĐỀ KIỂM TRA CHẤT LƯỢNG CUỐI HỌC KỲ II
 Họ và tên HS: NĂM HỌC: 2016 - 2017
 Lớp: Môn: Toán Lớp 2 - Thời gian: 40 phút
 Ngày kiểm tra: tháng ... năm 2017

Đi	Nhận xét của thầy cô
--------------------	---

Khoanh vào chữ cái đặt trước kết quả đúng nhất trong các câu sau:

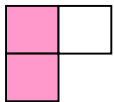
Câu 1: (0,5 đ) Một con gà cân nặng khoảng bao nhiêu ki- lô- gam?

- A. 3kg B. 3g C. 30g D. 30kg

Câu 2: (0,5đ) Số gồm : 2 trăm, 0 chục, 5 đơn vị được viết là:

- A. 205 B. 25 C. 2005 D. 250

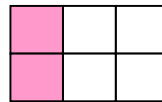
Câu 3: (0,5 đ - M1) Hình được tô màu $\frac{1}{3}$ số ô vuông là:



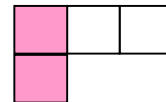
A



B



C



D

Câu 4: (1 đ) Năm nay anh hơn em 12 tuổi. Hỏi 20 năm sau em kém anh bao nhiêu tuổi?

- A. 12 tuổi B. 20 tuổi C. 22 tuổi D. 32 tuổi

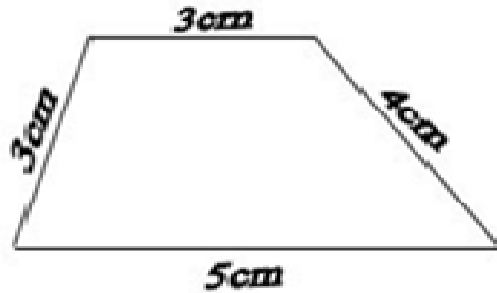
Câu 5: (0,5 đ) Hình tứ giác dưới đây có chu vi là:

A. 12cm

B. 15mm

C. 15cm

D. 15dm



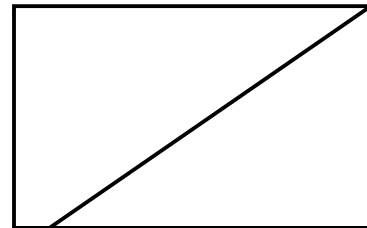
Câu 6:(0,5 đ). Hình vẽ bên có:

A. 3 hình tam giác, 1 hình tứ giác.

B. 2 hình tam giác, 1 hình tứ giác.

C. 1 hình tam giác, 2 hình tứ giác.

D. 1 hình tam giác, 1 hình tứ giác.



II. PHẦN TƯ LUẬN:

Câu 7: (1đ) Tính

$$5 \times 6 : 3 = \dots\dots\dots$$
$$= \dots\dots\dots$$

$$28 : 4 \times 0 = \dots\dots\dots$$
$$= \dots\dots\dots$$

Câu 8: (2 đ) Đặt tính rồi tính

46 + 34	82 - 46	235 + 523	648 - 205
.....
.....
.....

Câu 9: (1 đ).Tìm x:

a. $x : 4 = 7$

.....
.....

b. $x \times 3 = 27$

.....
.....

Câu 10: Điền số ?

a. 5m = cm

1km = m

b. 1 tuần lễ = ngày

1 ngày = giờ

Câu 11: (1,5 đ)

Giải bài toán theo tóm tắt sau:

Tóm tắt

4 túi : 32 quả cam.

1 túi : quả cam?

Bài giải

ĐÁP ÁN- BIỂU ĐIỂM CHI TIẾT

Phần	Câu	Số ý	Đáp án chi tiết	Điểm			
I. Trắc nghiệm	1		A	0,5	3,5đ		
	2		A	0,5			
	3		C	0,5			
	4		A	1			
	5		C	0,5			
	6		C	0,5			
	7	2	Mỗi phép tính: - Trình bày đúng : 0,25đ - Tính đúng kq: 0,25đ	$5 \times 6 : 3 = 30 : 3 = 10$	0,5	1đ	
			$28 : 4 \times 0 = 7 \times 0 = 0$	0,5			
	8	4	Mỗi phép tính: - Đặt tính đúng mỗi phép tính: 0,25đ - Tính đúng	80	0,5		2đ
			36	0,5			
			758	0,5			
			443	0,5			

II. Tự luận			kq mỗi phép tính: 0,25đ			
	9	3	Mỗi phép tính: Viết đúng phép tính trung gian của mỗi ý: 0,25đ Viết đúng kq của mỗi ý : 0,25đ	a. $x = 7$ $x \cdot 4$ $x = 28$	0,5	1đ
				b. $x =$ $27 : 3$ $x = 9$	0,5	
	10	4		a. $5m = 500 \text{ cm}$	0,25	1đ
				$1km = 1000 \text{ m}$	0,25	
				b. $1 \text{ tuần lễ} = 7 \text{ ngày}$	0,25	
				$1 \text{ ngày} = 24 \text{ giờ}$	0,25	
	11	1	<u>Bài giải</u>	Mỗi túi có số quả cam là:	0,5	1,5đ
				$32 : 4 = 8 \text{ (quả)}$	0,75	
				Đáp số: 8 quả cam	0,25	