

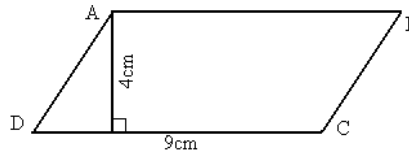
- Học sinh không được viết, khoanh vào đề này.

- Mỗi câu hỏi chỉ có một phương án đúng. Phương án nào đúng em hãy tô kín một ô tròn tương ứng với phương án trả lời vào Phiếu trả lời trắc nghiệm.

Câu 1: Để số $20a$ chia hết cho 3 thì a bằng số nào trong các số sau?

A. $a=2$ B. $a=5$ C. $a=4$ D. $a=3$

Câu 2: Hình bình hành ABCD bên có diện tích là

A. 27cm^2 B. 36cm^2 C. 18cm^2 D. 9cm^2

Câu 3: Cho $a=5$, $b=4$, $c=7$. Khi đó tổng $a + b + c$ bằng bao nhiêu

A. 11

B. 16

C. =12

D. 9

Câu 4: Số chia hết cho 5 có tận cùng là

A. 3 ; 5

B. 6 ; 5

C. 0 ; 4

D. 0 ; 5

Câu 5: Số điền vào chỗ trống trong phép tính $48 : (2 \times 3) = \dots$ là

A. 16

B. 6

C. 8

D. 24

Câu 6: Lớp 4A có 30 học sinh, số học sinh nữ nhiều hơn số học sinh nam là 6 em. Khi đó lớp 4A có số học sinh nam là

A. 16 em

B. 12 em

C. 14 em

D. 18 em

Câu 7: Các số 1980; 1976; 1965; 1979 được viết theo thứ tự từ lớn đến bé là

A. 1980; 1979; 1965; 1976

B. 1980; 1976; 1965; 1979

C. 1980; 1979; 1976; 1965

D. 1965; 1976; 1979; 1980

Câu 8: 1 phút 5 giây = giây. Số thích hợp viết vào chỗ chấm là

A. 55

B. 65

C. 35

D. 60

Câu 9: $\frac{2}{12} = \frac{\square}{24}$. Số thích hợp viết vào ô trống là

A. 6

B. 4

C. 3

D. 5

Câu 10: Kết quả của phép tính 11×45 bằng

A. 485

B. 455

C. 495

D. 45

Câu 11: Quy đồng mẫu số hai phân số $\frac{1}{3}$ và $\frac{2}{5}$ ta được hai phân số

A. $\frac{1}{8}$ và $\frac{2}{8}$ B. $\frac{3}{15}$ và $\frac{10}{15}$ C. $\frac{1}{15}$ và $\frac{2}{15}$ D. $\frac{5}{15}$ và $\frac{6}{15}$

Câu 12: Các phân số được sắp xếp theo thứ tự từ bé đến lớn là

A. $\frac{1}{5}; \frac{4}{5}; \frac{7}{5}; \frac{2}{5}$ B. $\frac{7}{5}; \frac{4}{5}; \frac{2}{5}; \frac{1}{5}$ C. $\frac{1}{5}; \frac{2}{5}; \frac{4}{5}; \frac{7}{5}$ D. $\frac{1}{5}; \frac{7}{5}; \frac{2}{5}; \frac{4}{5}$

Câu 13: Tìm x biết $x : 11 = 24$.

A. $x = 254$ B. $x = 244$ C. $x = 264$ D. $x = 24$

Câu 14: Số điền vào chỗ trống trong phép tính $(15 \times 4) : 2 = \dots$ là

A. 60

B. 4

C. 15

D. 30

Câu 15: Trường hợp nào đúng trong các trường hợp dưới đây?

A. $\frac{4}{6} > 1$ B. $\frac{14}{7} > \frac{21}{7}$ C. $\frac{2}{5} > \frac{3}{5}$ D. $\frac{1}{2} < \frac{3}{2}$

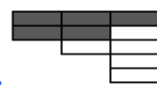
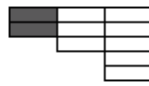
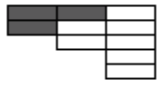
Câu 16: Có bao nhiêu số có một chữ số?

- A. Có 10 số B. Có 11 số C. Có 8 số D. Có 9 số


Câu 17: Số nào sau đây chia hết cho 5?

- A. 340 B. 444 C. 347 D. 476

Câu 18: Hình vẽ phù hợp với phân số $\frac{5}{10}$ là hình nào trong các hình sau?



Câu 19: Phân số nào biểu diễn phần tô đậm của hình bên?



- A. $\frac{5}{8}$ B. $\frac{8}{5}$ C. $\frac{5}{3}$ D. $\frac{3}{5}$

Câu 20: 3 yến =kg . Số thích hợp viết vào chỗ chấm là

- A. 30 B. 300 C. 3000 D. 3

Câu 21: Tìm x biết $369 : x = 123$

- A. 2 B. 3 C. 1 D. 4

Câu 22: Số đọc là “Năm mươi nghìn sáu trăm mười hai” được viết là

- A. 50612 B. 500612 C. 5612 D. 5000612

Câu 23: $2\text{km}^2 = \dots\dots\dots\text{m}^2$. Số điền vào chỗ trống là

- A. 2000000 B. 200000 C. 20000 D. 2000

Câu 24: Một khu đất hình chữ nhật có chiều dài 4km, chiều rộng ngắn hơn chiều dài 1 km. Khi đó diện tích khu đất đó sẽ bằng

- A. 6km^2 B. 5km^2 C. 4km^2 D. 12km^2

Câu 25: Chọn câu trả lời đúng?

- A. Số chia hết cho 3 là số có chữ số hàng đơn vị chia hết cho 3.
B. Số chia hết cho 3 là số có tổng các chữ số **không** chia hết cho 3.
C. Số chia hết cho 3 là số có chữ số hàng chục và hàng đơn vị chia hết cho 3.
D. Số chia hết cho 3 là số có tổng các chữ số chia hết cho 3.

----- HẾT -----

- Học sinh không được viết, khoanh vào đề này.

- Mỗi câu hỏi chỉ có một phương án đúng. Phương án nào đúng em hãy tô kín một ô tròn tương ứng với phương án trả lời vào Phiếu trả lời trắc nghiệm.

Câu 1: $\frac{2}{12} = \frac{\square}{24}$. Số thích hợp viết vào ô trống là

- A. 6 B. 4 C. 3 D. 5


Câu 2: Số đọc là “Năm mươi nghìn sáu trăm mười hai” được viết là

- A. 50612 B. 5612 C. 500612 D. 5000612

Câu 3: Các phân số được sắp xếp theo thứ tự từ bé đến lớn là

- A. $\frac{1}{5}; \frac{2}{5}; \frac{4}{5}; \frac{7}{5}$ B. $\frac{1}{5}; \frac{7}{5}; \frac{2}{5}; \frac{4}{5}$ C. $\frac{7}{5}; \frac{4}{5}; \frac{2}{5}; \frac{1}{5}$ D. $\frac{1}{5}; \frac{4}{5}; \frac{7}{5}; \frac{2}{5}$

Câu 4: Phân số nào biểu diễn phần tô đậm của hình bên?



- A. $\frac{3}{5}$ B. $\frac{5}{3}$ C. $\frac{5}{8}$ D. $\frac{8}{5}$

Câu 5: Các số 1980; 1976; 1965; 1979 được viết theo thứ tự từ lớn đến bé là

- A. 1980; 1979; 1976; 1965 B. 1965; 1976; 1979; 1980
C. 1980; 1976; 1965; 1979 D. 1980; 1979; 1965; 1976

Câu 6: Cho a=5, b=4, c=7. Khi đó tổng a + b + c bằng bao nhiêu

- A. 16 B. 9 C. =12 D. 11

Câu 7: 3 yến =kg. Số thích hợp viết vào chỗ chấm là

- A. 300 B. 30 C. 3 D. 3000

Câu 8: 1 phút 5 giây = giây. Số thích hợp viết vào chỗ chấm là

- A. 55 B. 65 C. 35 D. 60

Câu 9: Quy đồng mẫu số hai phân số $\frac{1}{3}$ và $\frac{2}{5}$ ta được hai phân số

- A. $\frac{5}{15}$ và $\frac{6}{15}$ B. $\frac{1}{8}$ và $\frac{2}{8}$ C. $\frac{1}{15}$ và $\frac{2}{15}$ D. $\frac{3}{15}$ và $\frac{10}{15}$

Câu 10: Tìm x biết 369: x = 123

- A. 1 B. 4 C. 2 D. 3

Câu 11: Số điền vào chỗ trống trong phép tính $(15 \times 4) : 2 = \dots$ là

- A. 15 B. 60 C. 4 D. 30

Câu 12: Trường hợp nào đúng trong các trường hợp dưới đây?

- A. $\frac{2}{5} > \frac{3}{5}$ B. $\frac{14}{7} > \frac{21}{7}$ C. $\frac{1}{2} < \frac{3}{2}$ D. $\frac{4}{6} > 1$

Câu 13: Số điền vào chỗ trống trong phép tính $48 : (2 \times 3) = \dots$ là

- A. 6 B. 8 C. 24 D. 16

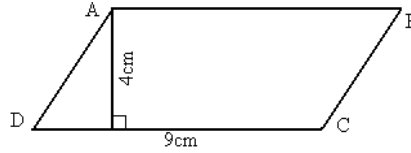
Câu 14: Chọn câu trả lời đúng?

- A. Số chia hết cho 3 là số có tổng các chữ số chia hết cho 3.
B. Số chia hết cho 3 là số có tổng các chữ số **không** chia hết cho 3.
C. Số chia hết cho 3 là số có chữ số hàng đơn vị chia hết cho 3.
D. Số chia hết cho 3 là số có chữ số hàng chục và hàng đơn vị chia hết cho 3.

Câu 15: Có bao nhiêu số có một chữ số?

- A. Có 9 số B. Có 10 số C. Có 8 số D. Có 11 số

Câu 16: Hình bình hành ABCD bên có diện tích là



- A. 9cm^2 B. 18cm^2 C. 27cm^2 D. 36cm^2

Câu 17: Tìm x biết $x: 11 = 24$.

- A. $x = 24$ B. $x = 254$ C. $x = 244$ D. $x = 264$

Câu 18: Kết quả của phép tính 11×45 bằng

- A. 45 B. 485 C. 495 D. 455

Câu 19: $2\text{km}^2 = \dots\dots\dots\text{m}^2$. Số điền vào chỗ trống là

- A. 2000 B. 2000000 C. 20000 D. 200000

Câu 20: Để số $20a$ chia hết cho 3 thì a bằng số nào trong các số sau?

- A. $a=3$ B. $a=5$ C. $a=4$ D. $a=2$

Câu 21: Một khu đất hình chữ nhật có chiều dài 4km, chiều rộng ngắn hơn chiều dài 1 km. Khi đó diện tích khu đất đó sẽ bằng

- A. 6km^2 B. 5km^2 C. 4km^2 D. 12km^2

Câu 22: Số chia hết cho 5 có tận cùng là

- A. 0 ; 5 B. 6 ; 5 C. 0 ; 4 D. 3 ; 5

Câu 23: Lớp 4A có 30 học sinh, số học sinh nữ nhiều hơn số học sinh nam là 6 em. Khi đó lớp 4A có số học sinh nam là

- A. 18 em B. 16 em C. 12 em D. 14 em

Câu 24: Số nào sau đây chia hết cho 5?

- A. 347 B. 476 C. 340 D. 444

Câu 25: Hình vẽ phù hợp với phân số $\frac{5}{10}$ là hình nào trong các hình sau?

- A. B. C. D.

----- HẾT -----

A. 60

B. 35

C. 55

D. 65

Câu 16: Một khu đất hình chữ nhật có chiều dài 4km, chiều rộng ngắn hơn chiều dài 1 km. Khi đó diện tích khu đất đó sẽ bằng

A. 6km^2

B. 12km^2

C. 4 km^2

D. 5km^2

Câu 17: Số đọc là “Năm mươi nghìn sáu trăm mười hai” được viết là


A. 50612

B. 5612

C. 500612

D. 5000612

Câu 18: Phân số nào biểu diễn phần tô đậm của hình bên?



A. $\frac{5}{3}$

B. $\frac{3}{5}$

C. $\frac{8}{5}$

D. $\frac{5}{8}$

Câu 19: Số điền vào chỗ trống trong phép tính $48 : (2 \times 3) = \dots$ là

A. 8

B. 16

C. 6

D. 24

Câu 20: Kết quả của phép tính 11×45 bằng

A. 455

B. 485

C. 45

D. 495

Câu 21: Các phân số được sắp xếp theo thứ tự từ bé đến lớn là

A. $\frac{1}{5}; \frac{2}{5}; \frac{4}{5}; \frac{7}{5}$

B. $\frac{7}{5}; \frac{4}{5}; \frac{2}{5}; \frac{1}{5}$

C. $\frac{1}{5}; \frac{4}{5}; \frac{7}{5}; \frac{2}{5}$

D. $\frac{1}{5}; \frac{7}{5}; \frac{2}{5}; \frac{4}{5}$

Câu 22: Cho $a=5, b=4, c=7$. Khi đó tổng $a + b + c$ bằng bao nhiêu

A. 9

B. =12

C. 16

D. 11

Câu 23: Có bao nhiêu số có một chữ số?

A. Có 9 số

B. Có 11 số

C. Có 8 số

D. Có 10 số

Câu 24: Quy đồng mẫu số hai phân số $\frac{1}{3}$ và $\frac{2}{5}$ ta được hai phân số

A. $\frac{3}{15}$ và $\frac{10}{15}$

B. $\frac{1}{8}$ và $\frac{2}{8}$

C. $\frac{5}{15}$ và $\frac{6}{15}$

D. $\frac{1}{15}$ và $\frac{2}{15}$

Câu 25: Số nào sau đây chia hết cho 5?

A. 476

B. 340

C. 347

D. 444

----- HẾT -----

- Học sinh không được viết, khoanh vào đề này.

- Mỗi câu hỏi chỉ có một phương án đúng. Phương án nào đúng em hãy tô kín một ô tròn tương ứng với phương án trả lời vào Phiếu trả lời trắc nghiệm.

Câu 1: Tìm x biết $369 : x = 123$


A. 1

B. 3

C. 2

D. 4

Câu 2: Phân số nào biểu diễn phần tô đậm của hình bên?

A. $\frac{5}{3}$ B. $\frac{5}{8}$ C. $\frac{8}{5}$ D. $\frac{3}{5}$

Câu 3: Số đọc là “Năm mươi nghìn sáu trăm mười hai” được viết là

A. 50612

B. 5612

C. 500612

D. 5000612

Câu 4: 3 yến =kg. Số thích hợp viết vào chỗ chấm là

A. 30

B. 3

C. 300

D. 3000

Câu 5: Cho $a=5$, $b=4$, $c=7$. Khi đó tổng $a + b + c$ bằng bao nhiêu

A. 9

B. 16

C. =12

D. 11

Câu 6: $\frac{2}{12} = \frac{\square}{24}$. Số thích hợp viết vào ô trống là

A. 5

B. 4

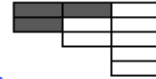
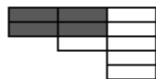
C. 3

D. 6

Câu 7: Quy đồng mẫu số hai phân số $\frac{1}{3}$ và $\frac{2}{5}$ ta được hai phân số

A. $\frac{1}{15}$ và $\frac{2}{15}$ B. $\frac{3}{15}$ và $\frac{10}{15}$ C. $\frac{5}{15}$ và $\frac{6}{15}$ D. $\frac{1}{8}$ và $\frac{2}{8}$

Câu 8: Hình vẽ phù hợp với phân số $\frac{5}{10}$ là hình nào trong các hình sau?



Câu 9: Kết quả của phép tính 11×45 bằng

A. 455

B. 45

C. 495

D. 485

Câu 10: Có bao nhiêu số có một chữ số?

A. Có 9 số

B. Có 8 số

C. Có 10 số

D. Có 11 số

Câu 11: Đề số $20a$ chia hết cho 3 thì a bằng số nào trong các số sau?

A. $a=5$ B. $a=3$ C. $a=2$ D. $a=4$

Câu 12: Tìm x biết $x : 11 = 24$.

A. $x = 244$ B. $x = 264$ C. $x = 24$ D. $x = 254$

Câu 13: Lớp 4A có 30 học sinh, số học sinh nữ nhiều hơn số học sinh nam là 6 em. Khi đó lớp 4A có số học sinh nam là

A. 16 em

B. 12 em

C. 14 em

D. 18 em

Câu 14: Chọn câu trả lời đúng?

A. Số chia hết cho 3 là số có chữ số hàng chục và hàng đơn vị chia hết cho 3.

B. Số chia hết cho 3 là số có chữ số hàng đơn vị chia hết cho 3.

C. Số chia hết cho 3 là số có tổng các chữ số **không** chia hết cho 3.

D. Số chia hết cho 3 là số có tổng các chữ số chia hết cho 3.

Câu 15: Số điền vào chỗ trống trong phép tính $48 : (2 \times 3) = \dots$ là

- A. 8 B. 16 C. 6 D. 24

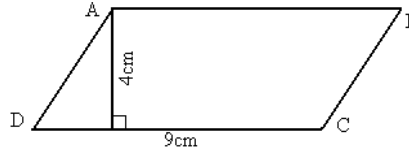
Câu 16: Số chia hết cho 5 có tận cùng là

- A. 0 ; 5 B. 3 ; 5 C. 6 ; 5 D. 0 ; 4

Câu 17: Số điền vào chỗ trống trong phép tính $(15 \times 4) : 2 = \dots$ là

- A. 30 B. 60 C. 4 D. 15

Câu 18: Hình bình hành ABCD bên có diện tích là



- A. 18cm^2 B. 9cm^2 C. 27cm^2 D. 36cm^2

Câu 19: $2\text{km}^2 = \dots\dots\dots\text{m}^2$. Số điền vào chỗ trống là

- A. 2000 B. 200000 C. 20000 D. 2000000

Câu 20: 1 phút 5 giây = giây. Số thích hợp viết vào chỗ chấm là

- A. 65 B. 35 C. 60 D. 55

Câu 21: Trường hợp nào đúng trong các trường hợp dưới đây?

- A. $\frac{4}{6} > 1$ B. $\frac{14}{7} > \frac{21}{7}$ C. $\frac{2}{5} > \frac{3}{5}$ D. $\frac{1}{2} < \frac{3}{2}$

Câu 22: Số nào sau đây chia hết cho 5?

- A. 476 B. 347 C. 444 D. 340

Câu 23: Các phân số được sắp xếp theo thứ tự từ bé đến lớn là

- A. $\frac{1}{5}; \frac{4}{5}; \frac{7}{5}; \frac{2}{5}$ B. $\frac{1}{5}; \frac{7}{5}; \frac{2}{5}; \frac{4}{5}$ C. $\frac{1}{5}; \frac{2}{5}; \frac{4}{5}; \frac{7}{5}$ D. $\frac{7}{5}; \frac{4}{5}; \frac{2}{5}; \frac{1}{5}$

Câu 24: Một khu đất hình chữ nhật có chiều dài 4km, chiều rộng ngắn hơn chiều dài 1 km. Khi đó diện tích khu đất đó sẽ bằng

- A. 5km^2 B. 4km^2 C. 12km^2 D. 6km^2

Câu 25: Các số 1980; 1976; 1965; 1979 được viết theo thứ tự từ lớn đến bé là


- A. 1965; 1976; 1979; 1980 B. 1980; 1976; 1965; 1979
C. 1980; 1979; 1965; 1976 D. 1980; 1979; 1976; 1965

----- HẾT -----

- Học sinh không được viết, khoanh vào đề này.

- Mỗi câu hỏi chỉ có một phương án đúng. Phương án nào đúng em hãy tô kín một ô tròn tương ứng với phương án trả lời vào Phiếu trả lời trắc nghiệm.

Câu 1: Phân số nào biểu diễn phần tô đậm của hình bên?



A. $\frac{3}{5}$

B. $\frac{5}{8}$

C. $\frac{5}{3}$

D. $\frac{8}{5}$

Câu 2: Lớp 4A có 30 học sinh, số học sinh nữ nhiều hơn số học sinh nam là 6 em. Khi đó lớp 4A có số học sinh nam là

A. 12 em

B. 16 em

C. 18 em

D. 14 em

Câu 3: 1 phút 5 giây = giây. Số thích hợp viết vào chỗ chấm là

A. 65

B. 60

C. 55

D. 35

Câu 4: Các phân số được sắp xếp theo thứ tự từ bé đến lớn là

A. $\frac{1}{5}; \frac{2}{5}; \frac{4}{5}; \frac{7}{5}$

B. $\frac{7}{5}; \frac{4}{5}; \frac{2}{5}; \frac{1}{5}$

C. $\frac{1}{5}; \frac{7}{5}; \frac{2}{5}; \frac{4}{5}$

D. $\frac{1}{5}; \frac{4}{5}; \frac{7}{5}; \frac{2}{5}$

Câu 5: Chọn câu trả lời đúng?

A. Số chia hết cho 3 là số có chữ số hàng chục và hàng đơn vị chia hết cho 3.

B. Số chia hết cho 3 là số có chữ số hàng đơn vị chia hết cho 3.

C. Số chia hết cho 3 là số có tổng các chữ số chia hết cho 3.

D. Số chia hết cho 3 là số có tổng các chữ số **không** chia hết cho 3.

Câu 6: 3 yến =kg. Số thích hợp viết vào chỗ chấm là

A. 3

B. 300

C. 3000

D. 30

Câu 7: Số điền vào chỗ trống trong phép tính $(15 \times 4) : 2 = \dots$ là

A. 15

B. 4

C. 30

D. 60

Câu 8: Một khu đất hình chữ nhật có chiều dài 4km, chiều rộng ngắn hơn chiều dài 1 km. Khi đó diện tích khu đất đó sẽ bằng

A. 5km^2 B. 6km^2 C. 4km^2 D. 12km^2

Câu 9: $\frac{2}{12} = \frac{\square}{24}$. Số thích hợp viết vào ô trống là

A. 3

B. 4

C. 5

D. 6

Câu 10: Quy đồng mẫu số hai phân số $\frac{1}{3}$ và $\frac{2}{5}$ ta được hai phân số

A. $\frac{1}{15}$ và $\frac{2}{15}$

B. $\frac{5}{15}$ và $\frac{6}{15}$

C. $\frac{3}{15}$ và $\frac{10}{15}$

D. $\frac{1}{8}$ và $\frac{2}{8}$

Câu 11: Trường hợp nào đúng trong các trường hợp dưới đây?

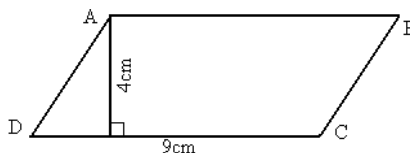
A. $\frac{1}{2} < \frac{3}{2}$

B. $\frac{4}{6} > 1$

C. $\frac{14}{7} > \frac{21}{7}$

D. $\frac{2}{5} > \frac{3}{5}$

Câu 12: Hình bình hành ABCD bên có diện tích là



A. 9cm^2

B. 18cm^2

C. 36cm^2

D. 27cm^2

Câu 13: Tìm x biết $x: 11 = 24$.

A. $x = 254$

B. $x = 24$

C. $x = 264$

D. $x = 244$

Câu 14: Có bao nhiêu số có một chữ số?

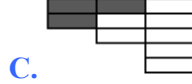
A. Có 11 số

B. Có 8 số

C. Có 10 số

D. Có 9 số

Câu 15: Hình vẽ phù hợp với phân số $\frac{5}{10}$ là hình nào trong các hình sau?



Câu 16: $2\text{km}^2 = \dots\dots\dots\text{m}^2$. Số điền vào chỗ trống là

A. 200000

B. 20000

C. 2000

D. 2000000

Câu 17: Số chia hết cho 5 có tận cùng là

A. 0 ; 5

B. 3 ; 5

C. 6 ; 5

D. 0 ; 4

Câu 18: Kết quả của phép tính 11×45 bằng

A. 455

B. 485

C. 45

D. 495

Câu 19: Số nào sau đây chia hết cho 5?

A. 340

B. 444

C. 476

D. 347

Câu 20: Tìm x biết $369: x = 123$

A. 1

B. 3

C. 4

D. 2

Câu 21: Cho $a=5$, $b=4$, $c=7$. Khi đó tổng $a + b + c$ bằng bao nhiêu

A. 9

B. 11

C. =12

D. 16

Câu 22: Số đọc là “Năm mươi nghìn sáu trăm mười hai” được viết là

A. 5612

B. 500612

C. 50612

D. 5000612

Câu 23: Số điền vào chỗ trống trong phép tính $48 : (2 \times 3) = \dots$ là

A. 16

B. 8

C. 6

D. 24

Câu 24: Để số $20a$ chia hết cho 3 thì a bằng số nào trong các số sau?

A. $a=2$ B. $a=3$ C. $a=5$ D. $a=4$

Câu 25: Các số 1980; 1976; 1965; 1979 được viết theo thứ tự từ lớn đến bé là

A. 1965; 1976; 1979; 1980

B. 1980; 1976; 1965; 1979

C. 1980; 1979; 1965; 1976

D. 1980; 1979; 1976; 1965

----- HẾT -----