

---



---

**Bài 4:** Viết vào ô trống theo mẫu: (1 điểm)

|                   |                            |      |      |
|-------------------|----------------------------|------|------|
| Cạnh hình vuông   | 7cm                        | 21cm | 35dm |
| Chu vi hình vuông | $7 \times 4 = 28\text{cm}$ |      |      |

**Bài 5:** (2 điểm)

Một kho thóc có 180 bao thóc. Người ta đã bán hết  $\frac{1}{3}$  số bao thóc trong kho. Hỏi trong kho còn lại bao nhiêu bao thóc ?

Tóm tắt

Giải:

---



---



---



---

**Bài 6:** Đồng hồ hình bên chỉ mấy giờ ? (1 điểm)

.....

.....

.....

.....



**ĐÁP ÁN ĐỀ SỐ 35**

- Bài 1. 1)B    2)A    3)C    4)D
- Bài 2.  $(100+11) \times 6 = 666$        $100+11 \times 6 = 166$   
 $201+39 : 3 = 214$        $375-10 \times 3 = 345$
- bài 3. Mỗi bài đặt tính đúng được 0,5đ
- $26 \times 7 = 182$        $213 \times 4 = 852$   
 $246 : 6 = 41$        $343 : 3 = 114(\text{dư } 1)$

Bài 4. Cạnh 21 cm, chu vi :  $21 \times 4 = 84$  (cm)

Cạnh 35 dm, chu vi :  $35 \times 4 = 140$  (dm)

Bài 5. Số bao thóc đã bán hết là :  $180 : 3 = 60$  (bao thóc)

Số bao thóc còn lại là :  $180 - 60 = 120$  (bao thóc)

Đáp số : 120 bao thóc

Bài 6. Đồng hồ chỉ 10 giờ 10 phút

### ĐỀ SỐ 36

**Bài 1:** Khoanh vào chữ đặt trước câu trả lời đúng:

a) Số liền trước của 160 là:

A. 161

B. 150

C. 159

D. 170

b) Một cái ao hình vuông có cạnh 6 m. Chu vi của hình vuông đó là:

A. 24m

B. 36 m

C. 10 m

D. 12 cm

c)  $9\text{m } 8\text{cm} = \dots \text{cm}$ . Số thích hợp cần điền vào chỗ chấm là:

A. 98

B. 908

C. 980

D. 9080

d) Gấp 7 lít lên 8 lần thì được:

A. 15 lít

B. 49 lít

C. 56 lít

D. 65 lít

**Bài 2:** Đúng ghi Đ, sai ghi S vào ô trống :

\**Giá trị của biểu thức*

b)  $2 + 8 \times 5 = 50$

c)  $32 : 4 + 4 = 12$

**Bài 3:** Tính nhẩm

$7 \times 6 = \dots\dots$

$8 \times 7 = \dots\dots$

$63 : 9 = \dots\dots$

$64 : 8 = \dots\dots$

**Bài 4:** Đặt tính rồi tính

$487 + 302$

$660 - 251$

$124 \times 3$

$845 : 7$

.....

.....

.....

.....

.....

.....

.....

.....

.....

.....

.....

.....

**Bài 5:** Tìm x:

b)  $X : 6 = 144$

b)  $5 \times X = 375$

.....

.....

.....

.....

**Bài 6 :** Một quyển truyện dày 128 trang. An đã đọc được  $\frac{1}{4}$  số trang đó. Hỏi còn bao nhiêu trang truyện nữa mà An chưa đọc?

.....  
 .....  
 .....

.....  
 .....  
 .....

### ĐÁP ÁN ĐỀ SỐ 36

- .1) a) C                      b) A                      c) B                      d) C  
 2) a)S                      b)Đ  
 3)  $7 \times 6 = 42$ ;       $63 : 9 = 7$                        $8 \times 7 = 56$                        $64 : 8 = 8$   
 4) Mỗi câu đặt tính đúng được điểm tối đa  
 $487 + 302 = 789$                        $660 - 251 = 409$   
 $124 \times 3 = 372$                        $845 : 7 = 120$  (dư 5)  
 5)  $x : 6 = 144$                        $5 \times x = 375$   
 $x = 144 \times 6$                        $x = 375 : 5$   
 $x = 864$                        $x = 75$   
 6) Số trang sách An đã đọc là:  $128 : 4 = 32$  (trang)  
 Số trang sách An còn phải đọc là:  $128 - 96 = 96$  (trang)  
 Đáp số : 96 trang

### ĐỀ SỐ 37

**Câu 1:** Viết số thích hợp vào chỗ chấm (1điểm).

$63 : 7 = \dots\dots$

$35 : 5 = \dots\dots\dots$

$42 : 6 = \dots\dots\dots$

$56 : 7 =$

**Câu 2:** Đặt tính rồi tính (2điểm):

a)  $235 \times 2 =$

b)  $630 : 7 =$

.....  
 .....  
 .....  
 .....

**Câu 3:** Thực hiện tính (2 điểm).

a)  $205 + 60 + 3 = \dots\dots\dots$

b)  $462 + 7 - 40 = \dots\dots\dots$

**Câu 4:** (3 điểm)

Số bò nhiều hơn số trâu là 28 con. Biết rằng số trâu là 7 con. Hỏi số trâu bằng một phần mấy số bò ?

**Bài giải**

.....  
 .....  
 .....  
 .....

**Câu 5:**

Một hình chữ nhật có chiều dài 60m, chiều rộng là 20m. Tính chu vi hình chữ nhật đó?

**Bài giải**

.....  
 .....  
 .....  
 .....  
 .....

**ĐÁP ÁN ĐỀ SỐ 37**

1)  $63 : 7 = 9$

$35 : 5 = 7$

42 : 6 = 7

$56 : 7 = 8$

2) Mỗi câu đặt tính đúng được 1 đ

a)  $235 \times 2 = 470$

b)  $630 : 7 = 90$

3) Thực hiện tính

a)  $205 + 60 + 3 = 265 + 3 = 268$

b)  $462 + 7 - 40 = 469 - 40 = 429$

4) Số con bò là :  $7 + 28 = 35$  (con)

Số lần số bò gấp số trâu là :  $35 : 7 = 5$  (lần)

Vậy số trâu bằng  $\frac{1}{5}$  số bò

Đáp số : số trâu bằng  $\frac{1}{5}$  số bò

Câu 5. Chu vi hình chữ nhật là:  $(60+20) \cdot 2 = 160$  (m)

Đáp số: 160 m

### ĐỀ SỐ 38

#### I/ Phần trắc nghiệm: ( 4 đ)

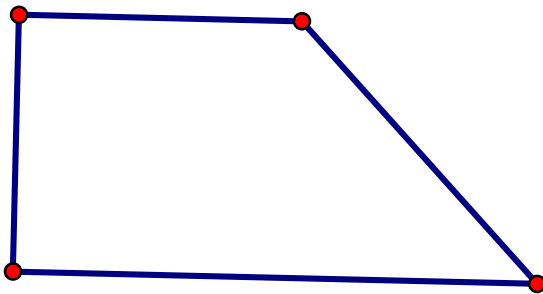
*Khoanh tròn vào đáp án đúng*

1. *Giá trị biểu thức:  $789 - 45 + 55$  là:*  
 A.100      B.799      C.744      D. 689
2. *Giá trị biểu thức:  $930 - 18 : 3$  là:*  
 A.924      B. 304      C.6      D. 912
3.  *$7m 3 cm = \dots\dots cm$ :*  
 A. 73      B. 703      C. 10      D. 4
4. *Có 750 quyển sách xếp đều vào 5 tủ, mỗi tủ có 2 ngăn. Hỏi mỗi ngăn có bao nhiêu quyển sách, biết rằng mỗi ngăn có số sách như nhau?*  
 A. 75 quyển      B. 30 quyển      C. 60 quyển      D. 125 quyển
5. *Có 7 con vịt, số gà nhiều hơn số vịt 56 con. Hỏi số vịt bằng một phần mấy số gà?*  
 A.  $\frac{1}{6}$       B.  $\frac{1}{7}$       C.  $\frac{1}{8}$       D.  $\frac{1}{9}$

6. Một chiếc bìa hình chữ nhật có chiều dài 25 cm, chiều rộng 1dm. chu vi miếng bìa đó là bao nhiêu đề – xi – mét?

- A. 52dm      B.70cm      C.7dm      D. 70 dm

7. *Hình vẽ dưới đây có mấy góc vuông?*



- A. 1      B. 2      C.3      D. 4

8.  $8 \times 7 < \square \times 8$

- A. 7      B. 5      C. 8      D. 6

**II/ Phần tự luận( 6 đ)**

Bài1: ( 2 đ) *Tính giá trị của biểu thức:*

$$267 + 125 - 278$$

$$538 - 38 \times 3$$

Bài 2. *Tìm x:* (2.đ)

$$x : 7 = 100 + 8$$

$$X \times 7 = 357$$

Bài 3: ( 2 đ)

Một cửa hàng có 453 kg gạo, đã bán được  $\frac{1}{3}$  số gạo đó. Hỏi cửa hàng còn lại bao nhiêu ki- lô- gam gạo?

**ĐÁP ÁN ĐỀ SỐ 38**

I. trắc nghiệm

1.B 2.A 3.B 4.A 5.D 6.C 7.B 8.B

II. Tự luận

$$1) 267 + 125 - 278 = 392 - 278 = 114$$

$$538 - 38 \times 3 = 538 - 114 = 424$$

$$2) x : 7 = 100 + 8$$

$$x : 7 = 108$$

$$x = 108 \times 7$$

$$x = 756$$

$$x \times 7 = 357$$

$$x = 357 : 7$$

$$x = 51$$

$$3) \text{Số ki log am gạo cửa hàng đã bán là: } 453 : 3 = 151 (\text{kg gạo})$$

$$\text{Số kilogam gạo cửa hàng còn lại là : } 453 - 151 = 302 (\text{kg gạo})$$

Đáp số : 302 kg gạo

**ĐỀ SỐ 39**

Phần 1: (4,0 đ) Khoanh vào chữ đặt trước kết quả đúng.

1) 856: 4 có kết quả là:

A. 214

B. 241

C. 225

2) 64 x 5 có kết quả là:

A. 203

B. 320

C. 415

3)  $75 + 15 \times 2$  có kết quả là:

- A. 180                      B. 187                      C. 105.

4) 7 gấp lên 8 lần được :

- A. 64                      B. 56                      C. 49

5) Một hình chữ nhật có chiều dài là 15 m, chiều rộng là 9 m. Chu vi hình chữ nhật đó là:

- A. 24 m                      B. 48 m                      C. 135 m

6) Một hình vuông có cạnh là 60cm. Chu vi hình vuông đó là:

- A. 200                      B.140                      C.240.

7) Tìm x:  $X : 3 = 9$       Vậy  $X = ?$

- A.  $X = 3$                       B.  $X = 27$                       C.  $X = 18$

8) Một đàn gà có 14 con, người ta nhốt mỗi lồng 4 con. Hỏi cần có ít nhất bao nhiêu cái lồng để nhốt gà?

- A.4                      B. 3                      C.2

Bài 2) ( 2,0 đ) Đặt tính rồi tính.

- a)  $526 + 147$                       b)  $627 - 459$                       c)  $419 \times 2$                       d)  $475 : 5$

.....

.....

.....

.....

.....

.....

.....

Bài 4) ( 1,5 đ) Tính giá trị biểu thức:

- a)  $55 : 5 \times 3$                       b)  $( 12 + 11 ) \times 3$

.....

.....

.....

.....

.....

.....

**Bài 3) ( 2,5 đ):** Một cửa hàng có 96 kg đường, đã bán  $\frac{1}{4}$  số ki-lô gam đường đó.

Hỏi cửa hàng còn lại bao nhiêu ki-lô-gam đường?

Tóm tắt

Giải

|       |       |
|-------|-------|
| ..... | ..... |
| ..... | ..... |
| ..... | ..... |
| ..... | ..... |
| ..... | ..... |

Phần 1.

1. A    2. B    3. C    4. B    5. B    6. C    7. B    8. A

Bài 2. Mỗi câu đặt tính đúng được 0,5đ

a)  $526 + 147 = 673$                       b)  $627 - 459 = 168$

c)  $419 \times 2 = 838$                         d)  $475 : 5 = 95$

Bài 4. a)  $55 : 5 \times 3 = 11 \times 3 = 33$

b)  $(12 + 11) \times 3 = 23 \times 3 = 69$

Bài 3. tóm tắt: Cửa hàng có: 96 kg đường, Đã bán:  $\frac{1}{4}$  số đường

Còn lại: ? kg đường

Giải :

Số ki lo gam đường cửa hàng đã bán là :  $96 : 4 = 24$  (kg đường)

Số kilogam đường cửa hàng còn lại là :  $96 - 24 = 72$  (kg đường)

Đáp số: 72 kg đường

### ĐỀ SỐ 40

**I/ Khoanh vào chữ đặt trước kết quả đúng ( 2 điểm).**

1 . **Kết quả của phép nhân:  $117 \times 8$  là:**

A. 936 ;                      B. 639;                      C. 963;                      D. 886.

2. **Kết quả của phép chia :  $84 : 4$  là;**

A. 14;                      B. 21;                      C. 8;                      D. 12

3. **Giá trị của biểu thức:  $765 - 84$  là:**

A. 781;                      B. 681;                      C. 921;                      D. 671.

4. **Giá trị của biểu thức:  $81 : 9 + 10$  là:**

A. 39;                      B. 19;                      C. 91;                      D. 20;

**II/ Tự luận:**

1. Đặt tính rồi tính; ( 2 điểm).

$486 + 303$ ;                       $670 - 261$  ;                       $106 \times 9$                        $872 : 4$ .

.....

.....

.....

.....

.....

2. Tìm y: ( 2 điểm).

$72 : y = 8$ ;                       $y + 158 = 261$ ;                       $5 \times y = 375$ ;                       $y : 5 = 141$ .

.....

.....

.....

.....



3. (1,5 điểm).

Năm nay ông 72 tuổi, cháu 9 tuổi. Hỏi tuổi cháu bằng một phần mấy tuổi ông?

.....

.....

.....

4. ( 2,5 điểm).

Tổ một trồng được 25 cây, tổ hai trồng được gấp 3 lần tổ một. Hỏi cả hai tổ trồng được bao nhiêu cây?

.....

.....

.....

### ĐÁP ÁN ĐỀ SỐ 40

I. Khoanh vào đáp án đúng

1.A    2.B    3.B    4.B

II. Tự luận

1) Mỗi câu đặt tính đúng được 0,5 đ

$$486+303=789$$

$$670-261=409$$

$$106 \times 9 = 954$$

$$872 : 4 = 218$$

$$2) 72 : y = 8$$

$$y + 158 = 261$$

$$5 \times y = 375$$

$$y : 5 = 141$$

$$y = 72 : 8$$

$$y = 261 - 158$$

$$y = 375 : 5$$

$$y = 141 \times 5$$

$$y = 9$$

$$y = 103$$

$$y = 75$$

$$y = 705$$

3) Số lần tuổi ông gấp tuổi cháu là:  $72 : 9 = 8$  (lần)

vậy t uổi cháu bằng  $\frac{1}{8}$  tuổi ông

Đáp số: Tuổi cháu bằng  $\frac{1}{8}$  tuổi ông

4) Số cây tổ Hai trồng được là:  $25 \times 3 = 75$  (cây)

Số cây cả hai tổ trồng được là:  $25 + 75 = 100$  (cây)

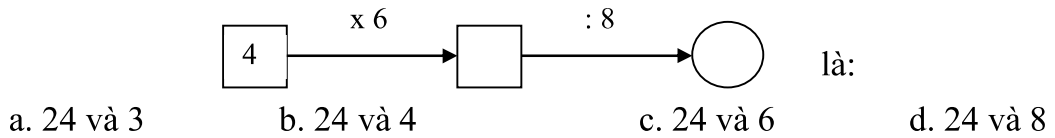
Đáp số: 100 cây

**ĐỀ SỐ 41**

**PHẦN I : Khoanh tròn vào chữ cái trước câu trả lời đúng hoặc làm theo yêu cầu.**

1. Gấp 7 lít lên 8 lần thì được:
  - a. 15 lít
  - b. 49 lít
  - c. 56 lít
  - d. 65 lít
2.  $7m\ 4cm = \dots\dots\dots cm$ . Số thích hợp điền vào chỗ trống là:
  - a. 74cm
  - b. 740cm
  - c. 407cm
  - d. 704cm
3. Tổng của 16 và 14 rồi nhân với 4 là:
  - a. 30
  - b. 34
  - c. 72
  - d. 120
4. Một cái ao hình vuông có chu vi là 24 m thì cạnh của hình vuông đó là:
  - a. 4m
  - b. 6m
  - c. 8m
  - d. 12cm

5. Số thích hợp viết vào chỗ trống trong phép tính



6.  $\frac{1}{3}$  của 24 kg là:
  - a. 1kg
  - b. 3 kg
  - c. 6 kg
  - d. 8 kg
7. Giá trị của chữ số 3 trong số 132 là:
  - a. 300
  - b. 30
  - c. 3
  - d. Cả a, b, c đều sai

8. Hình bên có góc :

- a. Vuông.
- b. Không vuông.



9. Số dư trong phép chia  $27 : 5$  là :
  - a. 1
  - b. 2
  - c. 3
  - d. 4

**PHẦN II : TÍNH**

1. Đặt tính rồi tính. (2 điểm)
 

|             |             |               |           |
|-------------|-------------|---------------|-----------|
| $576 + 185$ | $720 - 342$ | $75 \times 7$ | $786 : 6$ |
| .....       | .....       | .....         |           |
| .....       |             |               |           |

.....

.....

.....

.....

.....

.....

2. Tìm x: (1 điểm)

$$x + 23 = 81$$

$$100 : x = 4$$

.....

.....

.....

.....

.....

.....

3. Một cửa hàng có 104kg gạo, cửa hàng đã bán đi  $\frac{1}{4}$  kg gạo đó. Hỏi cửa hàng còn lại bao nhiêu kg gạo? (2 điểm)

Giải

.....

.....

.....

.....

**ĐÁP ÁN ĐỀ SỐ 41**

**PHẦN I.**

1.C 2.D 3.D 4.B 5.A 6.D 7.B 8.A 9.B

**PHẦN II.**

1) Mỗi câu đặt tính đúng được 0,5 điểm

$$576 + 185 = 761 \qquad 720 - 342 = 378$$

$$75 \times 7 = 525 \qquad 786 : 6 = 131$$

2) Tìm x

$$x + 23 = 81$$

$$100 : x = 4$$

$$x = 81 - 23$$

$$x = 100 : 4$$

$$x = 58$$

$$x = 25$$

3) Số kilogam gạo cửa hàng đã bán đi là:  $104 : 4 = 26$  (kg gạo)

Số kilogam gạo cửa hàng còn lại là:  $104 - 26 = 78$  (kg gạo)

Đáp số: 78 kg gạo

**ĐỀ SỐ 42**

Bài 1. Tính nhẩm:

$$4 \times 5 = \dots\dots\dots; \quad 7 \times 8 = \dots\dots\dots;$$

$$45 : 9 = \dots\dots\dots; \quad 64 : 8 = \dots\dots\dots;$$

Bài 2. Tìm số lớn nhất, bé nhất trong các số sau:

375, 421, 573, 241, 735, 142

a) Số lớn nhất là số: .....

b) Số bé nhất là số : .....

Bài 3. Viết vào ô trống (theo mẫu) :

|                   |                        |      |      |
|-------------------|------------------------|------|------|
| Cạnh hình vuông   | 8cm                    | 12cm | 31cm |
| Chu vi hình vuông | $8 \times 4 = 32$ (cm) |      |      |

Bài 4. Đúng ghi Đ, sai ghi S vào ô trống:

a) Giá trị của biểu thức  $288 + 24 : 6$  là 294  ;

b) Giá trị của biểu thức  $138 \times (174 - 168)$  là 826

Bài 5.

|   |   |
|---|---|
| > | ? |
| < |   |
| = |   |

6m 3cm ..... 7m

5m 6cm ..... 5m

6m 3cm ..... 630cm

5m 6cm ..... 506cm

Bài 6. Đặt tính rồi tính:

$$213 \times 3 \qquad 208 \times 4$$

$$684 : 6 \qquad 630 : 9$$

Bài 7. Tính :

a)  $163g + 28g = \dots\dots\dots$  ;                      b)  $96g : 3 = \dots\dots\dots$ ;

Bài 8. Một cửa hàng có 36 máy bơm, người ta đã bán  $\frac{1}{6}$  số máy bơm đó. Hỏi cửa hàng còn lại bao nhiêu máy bơm?

Giải

.....

.....

.....  
 .....  
 .....  
 Bài 9. Tính chiều rộng hình chữ nhật, biết nửa chu vi hình chữ nhật đó là 60m và chiều dài là 40m..

Giải

.....  
 .....  
 .....  
 .....

**ĐÁP ÁN ĐỀ SỐ 42**

1)  $4 \times 5 = 20$                        $7 \times 8 = 56$   
 $45 : 9 = 5$                           $64 : 8 = 8$

2) Số lớn nhất: 735  
 Số bé nhất: 142

3)

| Cạnh hình vuông   | 8cm                    | 12cm                    | 31cm                     |
|-------------------|------------------------|-------------------------|--------------------------|
| Chu vi hình vuông | $8 \times 4 = 32$ (cm) | $12 \times 4 = 48$ (cm) | $31 \times 4 = 124$ (cm) |

4) a) S                                      b) S

5)  $> < =$

$6 \text{ m } 3 \text{ cm} < 7 \text{ m}$

$5 \text{ m } 6 \text{ cm} > 5 \text{ m}$

$6 \text{ m } 3 \text{ cm} < 630 \text{ cm}$

$5 \text{ m } 6 \text{ cm} = 506 \text{ cm}$

6) Mỗi câu đặt tính đúng được điểm tối đa

$213 \times 3 = 639$

$208 \times 4 = 832$

$684 : 6 = 114$

$630 : 9 = 70$

7) Tính

a)  $163 \text{ g} + 28 \text{ g} = 191 \text{ g}$

b)  $96 \text{ g} : 3 = 32 \text{ g}$

8) Số máy bơm cửa hàng đã bán là:  $36 : 6 = 6$  (máy bơm)

Số máy bơm cửa hàng còn lại là:  $36 - 6 = 30$  (máy bơm)

Đáp số: 30 máy bơm

9) Chiều rộng hình chữ nhật là:  $60 - 40 = 20$  (m)

Đáp số: 20m

**ĐỀ SỐ 43**

**I. PHẦN TRẮC NGHIỆM (3 điểm)**

**Câu 1(2 điểm).** Nối phép tính và biểu thức với giá trị của nó:

|                   |    |
|-------------------|----|
| $45 + 29$         | 59 |
| $79 - 20$         | 74 |
| $30 \times 3 : 3$ | 21 |
| $(97 - 13) : 4$   | 30 |

**Câu 2(1 điểm).** Khoanh vào chữ cái trước câu trả lời đúng:

- a) Cạnh của hình vuông là 6 cm. Vậy chu vi hình vuông là..... cm  
 A. 10                      B. 12                      C. 24
- b) Số thích hợp cần điền vào chỗ chấm để  $3m\ 2cm = \dots\dots cm$  là:  
 A. 32                      B. 302                      C. 320

**II. PHẦN TỰ LUẬN (7 điểm)**

**Câu 1(2 điểm).** Tính

|   |  |   |   |
|---|--|---|---|
| $\begin{array}{r} + 271 \\ 444 \\ \hline \end{array}$ | $\begin{array}{r} \times 206 \\ \quad 2 \\ \hline \end{array}$ | $\begin{array}{r} 246 \overline{) 3} \\ \hline \end{array}$ | $\begin{array}{r} - 692 \\ 235 \\ \hline \end{array}$ |
|---|--|---|---|

.....


.....

.....

.....

.....

**Câu 2(1 điểm).** Tô màu vào  $\frac{1}{8}$  số ô vuông



**Câu 3(1 điểm).** Tìm x:

a)  $x : 6 = 121$

b)  $7 \times x = 847 - 77$

.....  
 .....  
 .....  
 .....

**Câu 4(2 điểm).** Một tấm vải dài 68m, người ta cắt lấy 4 khúc, mỗi khúc dài 6m. Hỏi tấm vải còn lại dài bao nhiêu mét?

**Bài giải**

.....  
 .....  
 .....  
 .....

**Câu 5(1 điểm).** Tìm số bị chia trong phép chia cho 8, biết thương là 4 và số dư là số dư lớn nhất có thể có được.

.....  
 .....  
 .....

**ĐÁP ÁN ĐỀ SỐ 43**

**I. TRẮC NGHIỆM**

1)  $45 + 29 = 74$

$79 - 20 = 59$

$30 \times 3 : 3 = 30$

$(97 - 13) : 4 = 21$

2) Khoanh vào câu đúng

a) C                      b) B

**II. Tự luận**

1) Mỗi câu đặt tính đúng được 0,5đ

$271 + 444 = 715$

$246 : 3 = 82$

$206 \times 2 = 412$

$692 - 235 = 457$

2) Học sinh tô đúng 2 ô

3) a)  $x : 6 = 121$

$7 \times x = 847 - 77$

$x = 121 \times 6$

$7 \times x = 770$

$x = 726$

$x = 770 : 7$

$x = 110$

- 4) Số mét vải của 4 khúc dài là:  $6 \times 4 = 24$  (m)  
 Số mét vải tấm vải còn lại là:  $68 - 24 = 44$  (m)  
 Đáp số: 44 m
- 5) Số dư lớn nhất nên số dư là 7  
 Số bị chia cần tìm là:  $4 \times 8 + 7 = 39$   
 Đáp số : 39

**ĐỀ SỐ 44**

**PHẦN I: Hãy khoanh vào chữ đặt trước câu trả lời đúng**

1) phép tính  $32 \times 6$  có kết quả là: (0.5 điểm)

- B. 182      B. 192      C. 129      D. 198

2) Số dư trong phép chia  $46 : 6$  là : (0,5 điểm)

- B. 1      B. 2      C. 3      D. 4

3) Mỗi giờ có 60 phút vậy  $\frac{1}{3}$  giờ có : (0,5 điểm)

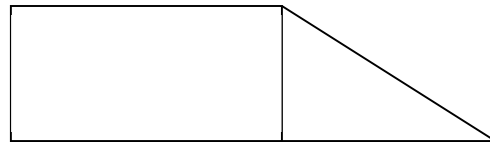
- A. 15 phút    B. 25 phút      C. 20 phút    D. 30 phút

4) Biểu thức  $36 : 4 \times 3$  có giá trị là : (0,5 điểm)

- A. 27      B. 28      C.32      D. 34

5) Hình bên có: (1 điểm)

- A. 3 góc vuông    B. 4 góc vuông  
 C. 5 góc vuông    D. 6 góc vuông



**PHẦN II: Làm các bài tập sau:**

1/ Đặt tính rồi tính: (2 điểm)

- a/  $214 \times 4$       b/  $319 \times 3$       c/  $905 : 5$       d/  $450 : 6$

2/ Đổi đơn vị đo: (1 điểm)

a/  $25 \text{ dm } 7 \text{ cm} = \dots\dots\dots \text{ cm}$

b/  $8 \text{ m } 32 \text{ cm} = \dots\dots\dots \text{ cm}$

3/ Tìm x: (2 điểm)

- a/  $876 : x = 4$       b/  $x : 6 = 108$

.....  
 .....  
 .....  
 .....



4/ Một cửa hàng có 56kg đường, đã bán được  $\frac{1}{8}$  số đường đó. Hỏi cửa hàng còn lại bao nhiêu ki-lô gam đường ? (2 điểm)

Bài giải:

.....  
.....  
.....  
.....  
.....

**ĐÁP ÁN ĐỀ SỐ 44**

Phần I.

- 1.B     2.D                 3.C                 4.A                 5.C

Phần II.

1) Mỗi câu đặt tính đúng được 0,5đ

- a) 214 x 4 = 856                                b) 319 x 3 = 957  
c) 905 : 5 = 181                                d) 450 : 6 = 75

2) Đổi đơn vị

- a) 25 dm 7 cm = 257 cm                        b) 8 m 32 cm = 832 cm

3) Tìm x

- a) 876 : x = 4                                        x : 6 = 108  
   x = 876 : 4                                        x = 108 x 6  
   x = 219    x = 648

4) Số kilogram đường đã bán là: 56 : 8 = 7 (kg đường)

Số kilogram đường còn lại là: 56 – 7 = 49 (kg đường)

Đáp số: 49 kg đường

**ĐỀ SỐ 45**


I> PHẦN TRẮC NGHIỆM: (3 ĐIỂM) Khoanh vào chữ cái trước câu trả lời đúng:

**Bài 1:** (1 điểm) 1kg = .....gam:

- A, 1000 gam                                        B, 100 gam                                        C, 10 gam

**Bài 2 :** (1 điểm) Số góc vuông ở hình bên là

- A, 3 góc vuông  
B, 4 góc vuông  
C, 5 góc vuông



**Bài 3:** (1 điểm)  $\frac{1}{6}$  của 24 phút là ?

- A, 4 phút                                        B, 9 phút                                        C, 10 phút

II> PHẦN TỰ LUẬN: (7 ĐIỂM)

**Bài 1:** (1 điểm) Viết số thích hợp vào chỗ chấm:

9; 18; 27;.....;.....;.....;.....;.....;.....

**Bài 2:** (2 điểm) Đặt tính rồi tính:

168 + 105

652 - 318

319 x 3

648 : 3

.....  
 .....  
 .....  
 .....

**Bài 3:** (1 điểm) Tìm X :

a.  $54 : X = 9$

b.  $45 - X = 20$

.....  
 .....  
 .....

**Bài 4:** (2 điểm) Một cửa hàng ngày thứ nhất bán được 6 kg gạo. Ngày thứ hai bán được gấp đôi số gạo ngày thứ nhất. Hỏi cả hai ngày cửa hàng bán được bao nhiêu kg gạo?

**Tóm tắt:**

**Bài giải:**

.....  
 .....  
 .....  
 .....

**Bài 5:** (1 điểm) Tính giá trị của biểu thức:

a.  $21 \times 3 : 9 =$

b.  $526 + 20 \times 4 =$

.....  
 .....

**ĐÁP ÁN ĐỀ SỐ 45**

**I. TRẮC NGHIỆM**

1.A          2.B          3.A

**II. TỰ LUẬN**

1). 9;18;27;36;45;54;63;72;81;90

2) Đặt tính đúng được điểm tối đa

$168 + 105 = 273$

$319 \times 3 = 957$

$652 - 318 = 334$

$648 : 3 = 216$

3) Tìm x

a)  $54 : x = 9$

$45 - x = 20$

$x = 54 : 9$

$x = 45 - 20$

$x = 6$

$x = 25$

4) Tóm tắt:

Ngày thứ nhất bán: 6 kg gạo

Ngày thứ hai bán: gấp đôi ngày thứ nhất

Cả hai ngày bán: ? kg gạo

Giải

Số kilogram gạo ngày thứ hai bán là:  $6 \times 2 = 12$  (kg gạo)

Số kilogram gạo cả hai ngày bán là :  $6 + 12 = 18$  (kg gạo)

Đáp số: 18 kg gạo

- 5) a)  $21 \times 3 : 9 = 63 : 9 = 7$
- b)  $526 + 20 \times 4 = 526 + 80 = 606$

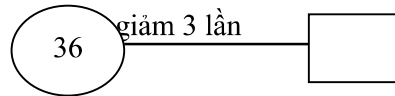
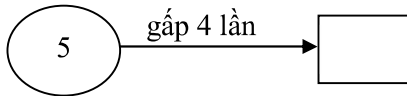
**ĐỀ SỐ 46**

**Bài 1:** ( 2 điểm)

a) Đếm thêm rồi viết tiếp 12 số thích hợp vào chỗ chấm:

- 23 ; 29 ; 35 ; .....;.....;.....;
- 13 ; 17 ; 21 ; .....;.....;.....;
- 13 ; 20 ; 27 ; .....;.....;.....;
- 26 ; 35 ; 44 ; .....;.....;.....;

b) Điền số thích hợp vào ô trống:



**Bài 2:** Tính: ( 2 điểm)

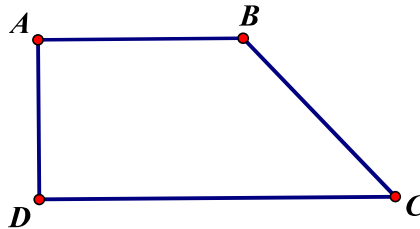
- $7 \times 6 = \dots\dots$        $54 : 6 = \dots\dots$        $7 \times 8 = \dots\dots$        $64 : 8 = \dots\dots$
- $6 \times 4 = \dots\dots$        $48 : 8 = \dots\dots$        $9 \times 6 = \dots\dots$        $81 : 9 = \dots\dots$

**Bài 3:** Đặt tính rồi tính: ( 2 điểm)

|               |                |          |           |
|---------------|----------------|----------|-----------|
| $52 \times 6$ | $105 \times 5$ | $96 : 3$ | $852 : 4$ |
| .....         | .....          | .....    | .....     |
| .....         | .....          | .....    | .....     |
| .....         | .....          | .....    | .....     |
| .....         | .....          | .....    | .....     |

**Bài 4:** Trong hình tứ giác ABCD có hai góc vuông và hai góc không vuông. ( 1 điểm)

- a) Tên cạnh các góc vuông là:.....
- b) Tên cạnh các góc không vuông là:.....



**Bài 5:** Tính giá trị biểu thức: ( 1 điểm)

- a)  $123 \times 2 : 3 =$  .....      b)  $80 + 38 : 2 =$  .....

**Bài 6:** Khoanh vào chữ đặt trước câu trả lời đúng : ( 1 điểm)

- a)  $\frac{1}{4}$  của 12 giờ là :  
 A. 3 giờ    B. 6 giờ    C. 8 giờ
- b) Chu vi của hình vuông ABCD có cạnh  $AB = 3$  cm là :  
 A. 6cm  
 B. 9cm

C. 12cm

c) Đồng hồ chỉ:

- A. 1 giờ 50 phút  
 B. 2 giờ 50 phút  
 C. 10 giờ 10 phút



d). Đổi đơn vị đo 2 dam = ? m

- A. 2 m                      B. 20 m                      C. 200 m

**.Bài 7:** Giải toán : (1 điểm)

a) Huệ cắt được 8 bông hoa, Hồng cắt được gấp 4 lần số bông hoa của Huệ.  
 Hỏi Hồng cắt được bao nhiêu bông hoa ?

Giải

b) Một cửa hàng có 186 máy bơm, người ta đã bán  $\frac{1}{6}$  số máy bơm đó. Hỏi cửa hàng còn lại bao nhiêu máy bơm ?

Giải

**ĐÁP ÁN ĐỀ SỐ 46**

1). a) 23;29;35;41;47;53

13;17;21;25;29;33

13;20;27;34;41;48

26; 35; 44; 53; 62; 71.

b) 5 gấp 4 lần: 20

36 giảm 3 lần : 12

2)  $7 \times 6 = 42$  $54 : 6 = 9$  $7 \times 8 = 56$  $64 : 8 = 8$  $6 \times 4 = 24$  $48 : 8 = 6$  $9 \times 6 = 54$  $81 : 9 = 9$ 

3) Mỗi cau đặt tính đúng được 0,5 đ

 $52 \times 6 = 312$  $105 \times 5 = 525$  $96 : 3 = 32$  $852 : 4 = 213$ 

4) a) Cạnh góc vuông : AB, AD, DC.

b) Tên cạnh các góc không vuông là: AB, BC, CD

5) a)  $123 \times 2 : 3 = 246 : 3 = 82$ b)  $80 + 38 : 2 = 80 + 19 = 99$ 

6) a) A

b) C

c) A

d) B

7) Số bông hoa Hồng cắt là:  $8 \times 4 = 32$  (bông hoa)

Đáp số: 32 bông hoa

b) Số máy bơm cửa hàng đã bán là :  $186 : 6 = 31$  (máy bơm)Số máy bơm cửa hàng còn lại là :  $186 - 31 = 155$  (máy bơm)

Đáp số: 155 máy bơm

**ĐỀ SỐ 47**

Phần I : Trắc nghiệm: Khoanh tròn trước phương án trả lời đúng:

Câu 2:                      52 hm : 2 = ?

A. 24 hm

B. 26 hm

C. 26 dm

D. 24 dam

Câu 3: Tìm x , biết:  $x - 10 = 218 \times 4$

A.  $x = 648$                       B.  $x = 882$                       C.  $x = 842$                       D.  $x = 578$

Câu 4: Tìm  $y$ , biết :  $25 : y = 7$  (dư 4)

A.  $y = 7$                       B.  $y = 4$                       C.  $y = 3$                       D.  $y = 2$

Câu 5: Xếp 35 quả cam vào các đĩa, mỗi đĩa nhiều nhất 6 quả. Hỏi phải dùng ít nhất mấy cái đĩa?

A. 5 đĩa                      B. 6 đĩa                      C. 7 đĩa                      D. 8 đĩa

Câu 6: Mẹ mua về 6 kg gạo nếp và mua số gạo tẻ gấp đôi số gạo nếp. Hỏi mẹ mua về tất cả bao nhiêu ki-lô- gam gạo?

A. 12 kg gạo                      B. 6 kg gạo                      C. 18 kg gạo                      D. 30 kg gạo

Câu 7 : Một ngày mẹ đi làm 8 giờ. Hỏi thời gian mẹ đi làm bằng một phần mấy ngày?

A.  $\frac{1}{8}$  ngày                      B.  $\frac{1}{5}$  ngày                      C.  $\frac{1}{4}$  ngày                      D.  $\frac{1}{3}$  ngày

Câu 8 : Có 20 quả cam. Số quả cam gấp 4 lần số quả quýt. Hỏi có bao nhiêu quả cam và quýt?

A. 80 quả                      B. 100 quả                      C. 5 quả                      D. 16 quả

## Phần II. Tự luận

Bài 1: Đặt tính rồi tính:

$$324 + 193$$

$$465 - 284$$

$$59 \times 8$$

$$72 : 4$$

.....

.....

.....

.....

.....

Bài 2 : Hai anh em đi câu cá, em câu được số cá bằng số lẻ nhỏ nhất có hai chữ số khác nhau. Anh câu được gấp 3 lần số cá của em. Hỏi cả hai anh em câu được bao nhiêu con cá?.

.....

.....

Bài 3: Điền dấu >, <, = vào ô trống:

$x - 15$    $x - 5$

$x + 23$    $x - 23$

**ĐÁP ÁN ĐỀ SỐ 47**

**I. TRẮC NGHIỆM**

2. B      3. B      4.C      5.B      6.C      7.D      8.B

**II. TỰ LUẬN**

1) Mỗi câu đặt tính đúng được điểm tối đa

$324 + 193 = 517$

$59 \times 8 = 472$

$465 - 284 = 181$

$72 : 4 = 18$

2) Số lẻ nhỏ nhất có 2 chữ số khác nhau là : 13

Nên em câu được 13 con cá

Số con cá anh câu là :  $13 \times 3 = 39$  (con)

Tổng số cá hai anh em câu là :  $39 + 13 = 52$  (con)

Đáp số: 52 con.

3).  $x - 15 < x - 5$

$x + 23 > x - 23$

**ĐỀ SỐ 48**

**1. Điền số thích hợp vào chỗ chấm:**

$6 \times 8 = \dots\dots$

$63 : 9 = \dots\dots$

$9 \times 3 = \dots\dots$

$72 : 8 = \dots\dots$

$7 \times 5 = \dots\dots$

$56 : 7 = \dots\dots$

$8 \times 9 = \dots\dots$

$30 : 6 = \dots\dots$

**2. Đặt tính rồi tính:**

a.  $84 \times 3$

b.  $316 \times 3$

c.  $75 : 6$

d.  $872 : 4$

.....  
 .....  
 .....

**3. Tính giá trị của biểu thức:**

a.  $42 : 2 \times 7 = \dots\dots\dots$   
 $= \dots\dots\dots$

b.  $375 - 10 \times 3 = \dots\dots\dots$   
 $= \dots\dots\dots$

c.  $426 - 40 + 7 = \dots\dots\dots$   
 $= \dots\dots\dots$

d.  $( 120 + 306 ) : 6 = \dots\dots\dots$   
 $= \dots\dots\dots$

4. Một hình chữ nhật có chiều dài 25cm, chiều rộng 16cm. Tính chu vi hình chữ nhật đó.

**Bài giải**

.....  
 .....  
 .....

5. Một quyển truyện dày 132 trang, Lan đã đọc  $\frac{1}{4}$  số trang đó. Hỏi còn bao nhiêu trang truyện nữa mà Lan chưa đọc?

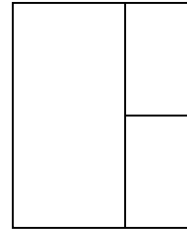
**Bài giải**

.....  
 .....  
 .....  
 .....

6. Khoanh vào chữ ( A , B , C , D ) đặt trước câu trả lời đúng trong mỗi câu sau:

a. Hình bên có mấy hình chữ nhật?

- A. 3                      B. 5                      C. 6                      D. 4



b. Hình chữ nhật có:

- A. 4 góc không vuông, có 2 cạnh dài bằng nhau và 2 cạnh ngắn bằng nhau.  
 B. 4 góc vuông, có 2 cạnh dài không bằng nhau và 2 cạnh ngắn không bằng nhau.  
 C. 4 góc không vuông, có 2 cạnh dài bằng nhau và 2 cạnh ngắn không bằng nhau.  
 D. 4 góc vuông, có 2 cạnh dài bằng nhau và 2 cạnh ngắn bằng nhau.

c. Chu vi hình vuông có cạnh 6cm là:

- A. 24cm                      B. 12cm                      C. 6cm                      D. 20cm

d. Đồng hồ bên chỉ:

- A. 5 giờ 40 phút  
 B. 8 giờ 5 phút  
 C. 8 giờ 25 phút  
 D. 5 giờ 20 phút



**ĐÁP ÁN ĐỀ SỐ 48**

1)  $6 \times 8 = 48$

$63 : 9 = 7$

$9 \times 3 = 27$

$72 : 8 = 9$

$7 \times 5 = 35$

$56 : 7 = 8$

$8 \times 9 = 72$

$30 : 6 = 5$

2) Mỗi câu đặt tính đúng được điểm tối đa

a)  $84 \times 3 = 252$

c)  $75 : 6 = 12$  (dư 3)

b)  $316 \times 3 = 948$

d)  $872 : 4 = 218$

3) a)  $42 : 2 \times 7 = 21 \times 7 = 84$

b)  $375 - 10 \times 3 = 375 - 30 = 345$

c)  $426 - 40 + 7 = 386 + 7 = 393$

d)  $(120 + 306) : 6 = 426 : 6 = 71$

4) Chu vi hình chữ nhật đó là:  $(25 + 16) \times 2 = 82$  (cm)

Đáp số: 82 cm

5) Số trang sách Lan đã đọc là :  $132 : 4 = 33$  (trang)Số trang sách Lan còn phải đọc là :  $132 - 33 = 99$  (trang)

Đáp số: 99 trang

6) a) B

b) D

c) A

d) C

**ĐỀ SỐ 49****Phần I:** (3đ)**Câu 1:** Số lớn nhất trong các số 812; 799; 809; 789 là.....

A. 812

C. 799

B. 809

D. 789

**Câu 2:** Số lớn là 42, số bé là 6. Vậy số lớn gấp số bé số lần là:

A. 24 lần

C. 8 lần

B. 7 lần

D. 6 lần

**Câu 3:** Số bé nhất trong các số 145; 120; 99; 110 là.....

A. 145

C. 120

B. 99

D. 110

**Câu 4:** Trong phép chia có số chia là 6, số dư lớn nhất là:

A. 7

C. 6

B. 5

D. 4

**Câu 5:** Đếm thêm rồi viết số thích hợp vào chỗ chấm:

27; 36; 45; .....; .....; .....

**Câu 6:** 1 giờ có 60 phút thì 1/2 giờ có ..... phút

Số thích hợp để điền vào chỗ trống là:



- A. 20
- B. 25

- C. 30
- D. 40

**Phần II:** (7đ)

**Câu 1:** Tính nhẩm: (1đ)

8 X 4 = .....

63 : 7 = .....

40 : 5 = .....

8 X 8 = .....

**Câu 2:** Đặt tính rồi tính: (1đ)

a) 170 X 5

.....

.....

.....

b) 396 : 3

.....

.....

.....

**Câu 3:** Tính giá trị của biểu thức: (2đ)

a) 927 - 10 X 2

.....

.....

.....

b) 100 - (60 + 10)

.....

.....

.....

**Câu 4:** (1đ)

Một hồ nước hình vuông có cạnh 30m. Tính chu vi hồ nước đó ?

Giải:

.....

.....

.....

**Câu 5:** (2đ)

Có 88 bạn được chia đều thành 2 đội, Mỗi đội xếp đều thành 4 hàng. Hỏi mỗi hàng có bao nhiêu bạn ?

Giải:

.....

.....

.....

.....

.....

**ĐÁP ÁN ĐỀ SỐ 49**

**I. TRẮC NGHIỆM**

1.A      2.B      3.B      4.B

5) 27; 36; 45; 54; 63; 72      6. C

**II. TỰ LUẬN**

6) 8 x 4 = 32

40 : 5 = 8

63 : 7 = 9

8 x 8 = 64

7) Mỗi câu đặt tính đúng được điểm tối đa



a)  $55 : 5 \times 3$

b)  $(12 + 11) \times 3$

.....  
 .....  
 .....  
 .....  
 .....  
 .....

**Bài 3) ( 2,5 đ):** Một cửa hàng có 96 kg đường, đã bán  $\frac{1}{4}$  số ki-lô gam đường đó.

Hỏi cửa hàng còn lại bao nhiêu ki-lô-gam đường?

Tóm tắt

Giải

|       |       |
|-------|-------|
| ..... | ..... |
| ..... | ..... |
| ..... | ..... |
| ..... | ..... |
| ..... | ..... |
| ..... | ..... |
| ..... | ..... |
| ..... | ..... |

**ĐÁP ÁN ĐỀ SỐ 50**

Phần I

- 1)A 2)B 3)C 4) B 5) B 6) C 7) B 8) A

Bài 2. Mỗi câu đặt tính đúng được 0,5đ

- a)  $526 + 147 = 673$                       b)  $627 - 459 = 168$   
 c)  $419 \times 2 = 838$                          d)  $475 : 5 = 95$

Bài 4. .a)  $55 : 5 \times 3 = 11 \times 3 = 33$

b)  $(12 + 11) \times 3 = 23 \times 3 = 69$

Bài 3. Tóm tắt

Có : 96 kg đường

Đã bán :  $\frac{1}{4}$  số đường

Còn lại: ? kg đường.

Giải

Số kilogam đường đã bán là :  $96 : 4 = 24$  (kg đường)

Số kilogam đường cửa hàng còn lại là :  $96 - 24 = 72$  ( kg đường)

Đáp số : 72 kg đường .