

- a) Trong hình có bao nhiêu hình chữ nhật  
 b) Trong hình có bao nhiêu hình tam giác
- A.1  
 B.2  
 C.3
- A. 2  
 B. 3  
 C. 4

**Bài 8:** (2 điểm )

a. Nhà bạn Mai nuôi 44 con gà. Nhà bạn Hà nuôi ít hơn nhà bạn Mai 13 con gà. Hỏi nhà bạn Hà nuôi bao nhiêu con gà? (1điểm)

.....

.....

.....

.....

.....

.....

.....

.....

b. Em hái được 20 bông hoa ,chị hái được nhiều hơn em 5 bông hoa .Hỏi chị hái được mấy bông hoa ? (1điểm)

.....

.....

.....

.....

.....

.....

**ĐÁP ÁN ĐỀ SỐ 38**

- 1)a) ...;...;...;90;91;92;93;...;...;  
 b)...;...;...;88;90;92;94;...;...  
 2) a) Chín mươi sáu : 96  
 Tám mươi tư: 84

3) .a)  $9+8=17$

b)  $14 - 6 = 8$

4) .a)  $8+9 = 16$ . S

c)  $2 + 9 = 11$

d)  $17 - 8 = 9$

b)  $5+7=12$ .Đ

5) Mỗi câu đặt tính đúng được 0,5đ

a)  $57 + 26 = 83$

b)  $39 + 6 = 45$

c)  $81 - 35 = 46$

d)  $90 - 58 = 32$

6) a)A                      b)A

7)     a)A                 b)B

8) a) Số con gà nhà bạn Hà nuôi là :  $44 - 13 = 31$  (con)

Đáp số: 31 con

b) Số bông hoa chị hái được là:  $20 + 5 = 25$  (bông hoa)

Đáp số: 25 bông hoa

**ĐỀ 39**

**Bài 1)** (2đ) Đặt tính rồi tính:

$54 + 36$

$27 + 63$

$54 - 38$

$88 - 49$

.....  
.....  
.....  
.....

**Bài 2)** (2đ) Tìm X

a)  $x - 36 = 52$

b)  $92 - x = 45$

.....  
.....  
.....

**Bài 3)** (2đ)

Trong một ngày, cửa hàng bán được 56 kg đường, trong đó buổi sáng bán được 27kg. Hỏi buổi chiều bán được bao nhiêu kg đường?

*Bài giải*

.....  
.....  
.....  
.....

**Bài 4)** (2đ) Khoanh tròn vào chữ cái trước kết quả đúng

a/  $28 + 36 + 14 = ?$

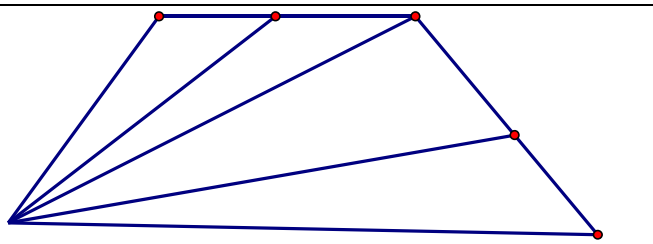
- A. 68
- B. 78
- C. 79

b/  $76 - 22 - 38 = ?$

- A. 26
- B. 15
- C. 16

**Bài 5** (1đ)

Hình bên có:  
.....tam giác  
.....tứ giác



**Bài 6** (1đ) Viết phép tính có hiệu bằng số bị trừ

$\square - \square = \square$

**ĐÁP ÁN ĐỀ SỐ 39**

1) Mỗi câu đặt tính đúng được 0,5đ

$54 + 36 = 90$        $54 - 38 = 16$

$27 + 63 = 90$        $88 - 49 = 39$

2) a)  $x - 36 = 52$

$x = 52 + 36$

$x = 88$

$92 - x = 45$

$x = 92 - 45$

$x = 47$

3) Số kilogram đường buổi chiều bán được là:  $56 - 27 = 29$  (kg đường)

Đáp số : 29 kg đường

Bài 4) a) B    b) C

Bài 5. Có 6 tam giác, có 4 tứ giác

Bài 6.  $20 - 10 = 10$

**ĐỀ 40**

Môn Toán lớp 2( Thời gian làm bài 40 phút)

*Bài 1: Khoanh vào chữ đặt trước câu trả lời đúng*

a/  $85 - 39 = ?$

A. 45                      B. 46                      C. 55                      D. 56

b/  $29 - 5 + 15 = ?$

A. 49                      B. 39                      C. 19                      D. 9

*Bài 2: Viết các số vào ô trống*

Đọc	Viết
Tám mươi lăm	
Chín mươi chín	

*Bài 3: Đặt tính rồi tính*

$43 + 57$

$92 - 75$

*Bài 4: Tìm x*

a/  $x - 22 = 38$

b/  $x + 14 = 40$

*Bài 5: Một cửa hàng buổi sáng bán được 45 kg đường, buổi chiều bán được ít hơn buổi sáng 24 kg đường. Hỏi buổi chiều cửa hàng đó bán được bao nhiêu ki lô gam đường?*

.....

.....

.....

.....

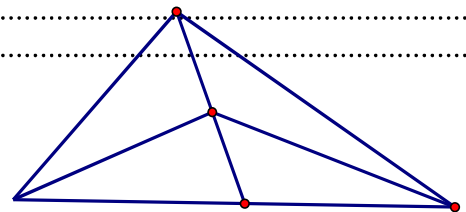
.....

.....

.....

*Bài 6: Hình vẽ bên có mấy hình tam giác?*

Hình vẽ trên có..... hình tam giác.



**ĐÁP ÁN ĐỀ SỐ 40**

1. a) B b) B  
 2) Tám mươi lăm: 85 Chín mươi chín: 99  
 3) Mỗi câu đặt tính đúng được điểm tối đa  
 $43+57=100$                  $92 - 75 = 17$   
 4) a)  $x - 22 = 38$                 b)  $x + 14 = 40$   
            $x = 38 + 22$                  $x = 40 - 14$   
            $x = 60$                                $x = 26$

5) Số kilogram đường buổi chiều bán được là:  $45 - 24 = 21$  (kg đường)

Đáp số: 21 kg đường

6) Hình vẽ bên có 8 tam giác

**ĐỀ 41**

Bài 1: Viết số thích hợp vào ô trống

Số hạng	38	15	25	
Số hạng	27		25	32
Tổng		60		82

Số bị trừ	11		64	90
Số trừ	4	34		
Hiệu		15	34	38

Bài 2: Tính :

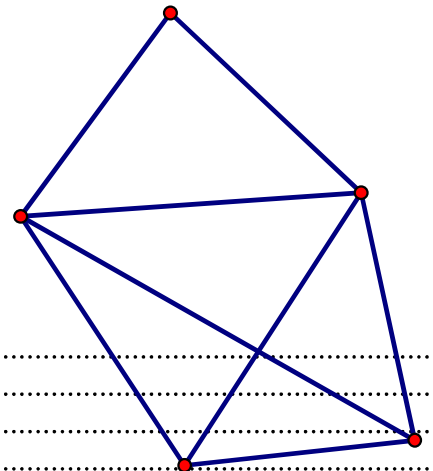
a)  $72 - 36 + 24 =$

b)  $36 + 24 - 18$

Bài 3: Khoanh vào chữ đặt trước kết quả đúng

Số hình tứ giác trong hình vẽ là:

- A. 1   B. 2   C. 3      D. 4



Bài 4: Bình cân nặng 28 kg, An nhẹ hơn Bình 4 kg . Hỏi An nặng bao nhiêu ki lô gam?

Bài giải

.....  
 .....  
 .....  
 .....  
 .....  
 .....

Bài 5: Điền số thích hợp vào chỗ chấm

- a) Một ngày có ..... giờ  
b) 15 giờ hay .....giờ chiều  
c) Từ 7 giờ sáng đến 10 giờ sáng cùng ngày là .... giờ.

Bài 6: Tính nhanh

$$10 - 9 + 8 - 7 + 6 - 5 + 4 - 3 + 2 - 1$$

### ĐÁP ÁN ĐỀ SỐ 41

Bài 1: Viết số thích hợp vào ô trống

Số hạng	38	15	25	50
Số hạng	27	45	25	32
Tổng	65	60	50	82

Số bị trừ	11	49	64	90
Số trừ	4	34	30	52
Hiệu	7	15	34	38

Bài 2. Tính

- a)  $72 - 36 + 24 = 36 + 24 = 60$   
b)  $36 + 24 - 18 = 60 - 18 = 42$

Bài 3. D

Bài 4. Số kilogam An cân nặng là:  $28 - 4 = 24$  (kg)

Đáp số: 24 kg.

- 5) a) Một ngày có 24 giờ  
b) 15 giờ hay 3 giờ chiều  
c) Từ 7 giờ sáng đến 10 giờ sáng là 3 giờ  
6)  $10 - 9 + 8 - 7 + 6 - 5 + 4 - 3 + 2 - 1 = 1 + 1 + 1 + 1 + 1 = 5$

### ĐỀ 42

I. trắc nghiệm khách quan:

**Khoanh vào chữ cái trước ý đúng trong mỗi câu sau:**

Bài 1. Số liền trước 50 là

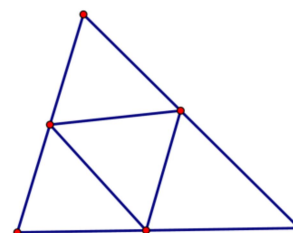
- A. 49    B. 51    C. 48

Bài 2. Số lớn nhất có hai chữ số là

- : A. 88    B. 99    C. 90

Bài 3. Hình vẽ bên có mấy hình tam giác?

- A. 3    B. 4    C. 5



**Bài 4.** Câu nào đúng?

- A. Một ngày có 24 giờ      B. Một ngày có 12 giờ      C. Một ngày có 20 giờ

**Bài 5.** Tính tổng, biết các số hạng là 48 và 17.

- A. 56      B. 65      C. 45

**Bài 6.** Tìm x :       $x + 16 = 30$

- A. 15      B. 16      C. 14

**Bài 7.** Tính kết quả       $86 - 6 - 9 = ?$

- A. 71      B. 70      C. 81

**Bài 8.** Mẹ hái được 55 quả cam, mẹ biếu bà 20 quả cam. Hỏi mẹ còn lại bao nhiêu quả cam?

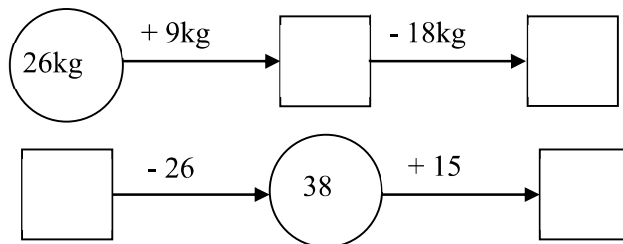
- A. 30 quả      B. 35 quả      C. 25 quả

**II. Tự luận :**

**Bài 1.** Đặt tính rồi tính :

$46 + 49$        $83 - 35$        $80 - 43$        $45 + 39$

**Bài 2.**



**Bài 3.** Tính

$34 + 66 - 20 =$   
 $=$

$85 - 15 + 12 =$   
 $=$

**Bài 4.** Một cửa hàng buổi sáng bán được 83 l dầu, buổi chiều bán được ít hơn buổi sáng 27l dầu. Hỏi buổi chiều cửa hàng đó bán được bao nhiêu l dầu?

**Bài giải**

.....  
.....  
.....  
.....  
.....  
.....  
.....  
.....  
.....  
.....

**Bài 5 . Điền số còn thiếu vào ô trống**

$$\begin{array}{r} 4... \\ - 17 \\ \hline 23 \end{array}$$

$$\begin{array}{r} .... \\ - 37 \\ \hline 49 \end{array}$$

**ĐÁP ÁN ĐỀ SỐ 42**

**I. Trắc nghiệm khách quan**

1.A 2.B 3.C 4.A 5.B 6.C 7.A 8.B

**II. TỰ LUẬN**

1) Đặt tính đúng mỗi câu được điểm tối đa

$$46 + 49 = 95$$

$$83 - 35 = 48$$

$$80 - 43 = 37$$

$$45 + 39 = 84$$

2)  $26 \text{ kg} + 9 \text{ kg} = 35 \text{ kg} - 18 \text{ kg} = 17 \text{ kg}$

$$64 - 26 = 38 + 15 = 53$$

3) Tính

$$34 + 66 - 20 = 100 - 20 = 80$$

$$85 - 15 + 12 = 70 + 12 = 82$$

4) Số lít dầu buổi chiều bán được là :  $83 - 27 = 56$  (lít dầu)

Đáp số: 56 lít dầu

5)  $40 - 17 = 23$

$$86 - 37 = 49$$

**ĐỀ 43**

**Bài 1:** (2 điểm) *Khoanh vào chữ cái đứng trước phương án đúng.*

a/ Kết quả của phép cộng  $76 + 16$  là :

A. 82

B. 72

C. 93

D. 92

b/ Phép trừ  $100 - 75$  có kết quả là:

A. 35.

B. 25

C. 15

D. 16

c/ Hiệu nào dưới đây lớn hơn 56?

A.  $59 - 8$

B.  $69 - 10$

C.  $56 - 0$

D.  $58 - 3$

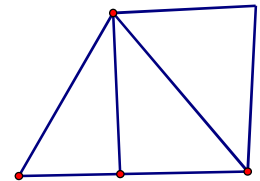
d/ Số hình tam giác có trong hình bên là:

A. 2

B. 3

C. 4

D. 5



**Bài 2:** (1 điểm) *Điền số hoặc dấu (>, <, =) thích hợp vào chỗ chấm.*

a/  $42 + 15$  ..... 75

b/  $100 - 42$  ..... 43

c/ 10 giờ đêm còn gọi là ..... giờ.

d/ Ngày 1 tháng 1 năm 2011 là ngày thứ sáu. Thứ sáu tuần sau đó là ngày ..... tháng .....

**Bài 3:** (2 điểm) *Đặt tính và tính:*

a/  $36 + 38$

b/  $75 - 27$

c/  $100 - 37$

d/  $29 + 57$



.....  
.....  
**Bài 4:** (1 điểm) *Tính:*

a/  $48 + 35 - 38$

b/  $100 - 28 + 15$

.....  
.....

**Bài 5:**(1 điểm) *Tìm x, biết:*

a/  $x + 37 = 80$

b/  $42 - x = 22$

.....  
.....  
.....

**Bài 6:** (2 điểm) *Bài giải.*

Thùng gạo nếp có 53 kg, Thùng gạo tẻ có ít hơn thùng gạo nếp 8 kg. Hỏi thùng gạo tẻ có bao nhiêu ki - lô - gam?

Bài giải

.....  
.....  
.....  
.....  
.....  
.....  
.....  
.....

**Bài 7.** (1 điểm) *Tính nhanh:*

$24 + 65 - 4 - 5$

.....  
.....  
.....  
.....  
.....

### ĐÁP ÁN ĐỀ SỐ 43

1) a)D    b)B    c)B    d)C

2) a)  $42 + 15 < 75$     b)  $100 - 42 > 43$

c) 10 giờ đêm còn gọi là 22 giờ

d) Ngày 1 tháng 1 năm 2011 là ngày thứ sáu. Thứ sáu tuần sau đó là ngày 8 tháng 1.

3) Đặt tính đúng mỗi câu được 0,5đ

a)  $36+38=74$

b)  $75 - 27 = 48$

c)  $100 - 37 = 63$

d)  $29 + 57 = 86$

4) a)  $48 + 35 - 38 = 83 - 38 = 45$

b)  $100 - 28 + 15 = 72 + 15 = 87$

5) a)  $x + 37 = 80$

$$x = 80 - 37$$

$$x = 43$$

b)  $42 - x = 22$

$$x = 42 - 22$$

$$x = 20$$

Bài 6. Số kilogram thùng gạo tẻ có là :  $53 - 8 = 45$  (kg gạo)

Đáp số: 45 kg gạo

Bài 7.

$$24 + 65 - 4 - 5$$

$$= (24 - 4) + (65 - 5) = 20 + 60 = 80$$

### ĐỀ 44

PHẦN TRẮC NGHIỆM 3 điểm

Khoanh vào chữ cái trước câu trả lời đúng

Câu 1. Số liền trước của 80 là:

A. 79

B. 80

C. 81

D. 82

Câu 2. Số thích hợp điền vào chỗ chấm  $60 \text{ cm} = \dots \text{ dm}$  là:

A. 6 dm

B. 6

C. 60

D. 6 cm

Câu 3. Các số 28; 37; 46; 52 được viết theo thứ tự từ lớn đến bé là:

A. 46; 37; 52; 28

B. 28; 37; 46; 52

C. 52; 46; 37; 28

D. 52; 37; 46; 28

Câu 4. Số lớn hơn 74 và nhỏ hơn 76 là:

A. 73

B. 77

C. 75

D. 76

Câu 5. Hiệu của 64 và 31 là:

A. 33

B. 77

C. 95

D. 34

Câu 6. Lan và Hồng có 22 quyển truyện tranh. Nếu lấy bớt của Hồng 5 quyển thì hai bạn còn lại bao nhiêu quyển truyện tranh?

Hai bạn còn lại số quyển truyện tranh là:

A. 27

B. 17

C. 22

D. 15

### PHẦN TỰ LUẬN

7 điểm

Bài 1. (2 điểm) Tìm x, biết:

$$x + 15 = 41$$

$$x - 23 = 39$$

Bài 2. (2 điểm) Đặt tính rồi tính

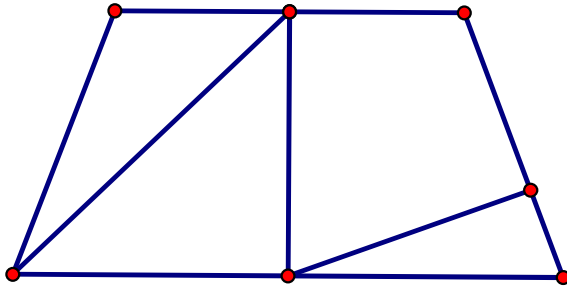
$44 + 37$

$95 - 58$

$38 + 56$

$66 - 8$

Bài 3. (1,5 điểm) Hình vẽ bên có bao nhiêu tứ giác?



Bài 4. (1,5 điểm). Có hai thùng dầu. Thùng thứ nhất chứa nhiều hơn thùng thứ hai 8 lít dầu, thùng thứ nhất chứa 33 lít dầu. Hỏi thùng thứ hai chứa bao nhiêu lít dầu?

.....

.....

.....

.....

.....

.....

.....

.....

### ĐÁP ÁN ĐỀ SỐ 44

#### I. PHẦN TRẮC NGHIỆM

1.A    2.A    3.C    4.C    5.A    6.B

#### II. PHẦN TỰ LUẬN

1)  $x + 15 = 41$

$x = 41 - 15$

$x = 26$

$x - 23 = 39$

$x = 39 + 23$

$x = 62$

2) Mỗi câu đặt tính đúng được 0,5đ

$44 + 37 = 81 \quad 95 - 58 = 37 \quad 38 + 56 = 94 \quad 66 - 8 = 58$

3) Hình vẽ có 4 tứ giác

4) Số lít dầu thùng hai chứa là :  $33 + 8 = 41$  ( 1 dầu)

Đáp số: 41 l dầu.

## ĐỀ 45

### A- Phần kiểm tra trắc nghiệm.

*Khoanh vào chữ cái trước đáp án đúng. (Mỗi đáp án đúng cho 0,5 điểm)*

1)  $5\text{dm} = ? \text{cm}$

- A. 50 cm                      B. 5 cm                      C. 4 cm

2) Số bé nhất trong các số : 100, 98, 89, 90 là

- A. 89                      B. 90                      C. 98

3)  $47 + 35 = ?$

- A. 72                      B. 92                      C. 82

4) Số lớn nhất có 2 chữ số mà tổng 2 chữ số của số đó bằng 9 là:

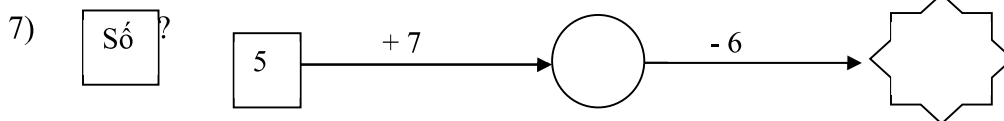
- A. 99                      B. 90                      C. 81

5)  $11 - 7 + 8 = ?$

- A. 4                      B. 12                      C. 10

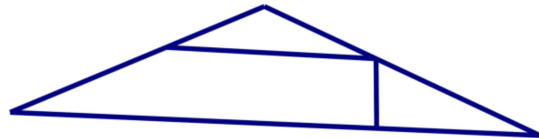
6) Con lợn trắng nặng 75 kg, con lợn đen nhẹ hơn con lợn trắng 18 kg. Hỏi con lợn đen cân nặng bao nhiêu ki-lô-gam ?

Con lợn đen cân nặng :    A. 93                      B. 57                      C. 67



8) Hình bên có mấy hình tứ giác:

- A. 2  
B. 3  
C. 4



9) Điền số thích hợp vào chỗ trống:

$5 \square > 58$

- A. 9                      B. 8                      C. 7

10) Số liền sau của 49 là:

- A. 48                      B. 51                      C. 50

### B- Phần kiểm tra tự luận.

**Bài 1 (2 điểm) :** Đặt tính rồi tính:

$38 + 62$  ;                       $72 - 25$  ;                       $64 + 27$  ;                       $100 - 77$  ;

**Bài 2: (1 điểm)** Tìm x

a.  $x + 28 = 41$

b.  $32 - x = 16 + 7$

**Bài 3: (2 điểm)** Năm nay Lan 8 tuổi, mẹ hơn Lan 27 tuổi. Hỏi năm nay mẹ bao nhiêu tuổi ?

.....  
 .....  
 .....  
 .....  
 .....  
 .....  
 .....  
 .....

**ĐÁP ÁN ĐỀ SỐ 45**

**A. TRẮC NGHIỆM**

1.A 2.A 3.C 4.B 5.B 6.B

7.  $5 + 7 = 12 - 6 = 6$

8.B 9.A 10.C

**B. TỰ LUẬN**

1) Mỗi câu đặt tính đúng được 0,5 đ

$38 + 62 = 100$      $72 - 25 = 47$      $64 + 27 = 91$      $100 - 77 = 23$

2) Tìm x

a)  $x + 28 = 41$

$x = 41 - 28$

$x = 13$

b)  $32 - x = 16 + 7$

$32 - x = 23$

$x = 32 - 23$

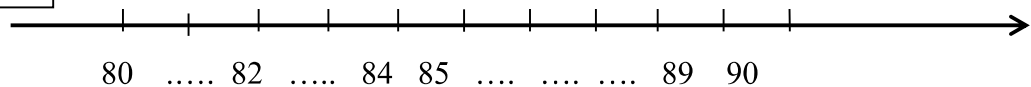
$x = 9$

3) Số tuổi của mẹ Lan năm nay là:  $8 + 27 = 35$  (tuổi)

Đáp số: 35 tuổi

**ĐỀ 46**

**Bài 1:** Số ?

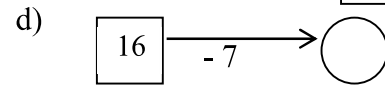
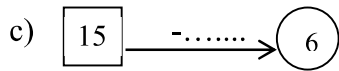
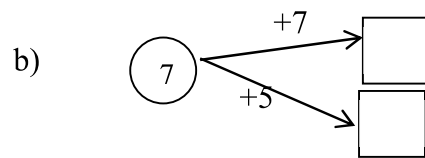
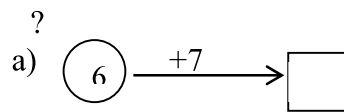


**Bài 2:** Viết số hoặc chữ thích hợp

đọc số	Viết số
Sáu mươi lăm	.....
.....	46
.....	71
Tám mươi tư	.....

Số

**Bài 3:**



**Bài 4:** Đúng ghi Đ, sai ghi S vào ô trống :

a)  $8 + 4 = 13$

b)  $7 + 9 = 16$

**Bài 5:** Đặt tính rồi tính :

$47 + 25$

$64 - 28$

$100 - 36$

$37 + 43$

.....

.....

.....

.....

.....

.....

.....

.....

.....

.....

.....

.....

**Bài 6:** Tìm x

$x + 30 = 50$

$x - 12 = 47$

$x = \dots\dots\dots$

$x = \dots\dots\dots$

$x = \dots\dots\dots$

$x = \dots\dots\dots$

**Bài 7:** Giải toán

Quang cân nặng 26 kg. Minh cân nặng hơn Quang 8 kg. Hỏi Minh cân nặng bao nhiêu kg ?

**Bài giải:**

.....  
.....  
.....

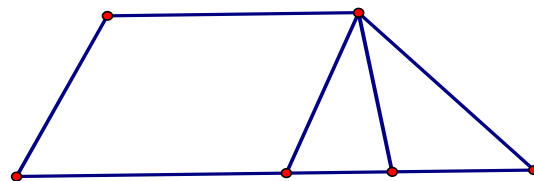
**Bài 8:** Khoanh vào đáp án trước kết quả đúng

a) Số tứ giác trong hình vẽ là :

- A. 1
- B. 2
- C. 3
- D. 4

b) Số hình tam giác trong hình vẽ là:

- A. 4
- B. 3
- C. 2
- D. 1



**Bài 9 :** Viết tiếp vào tờ lịch tháng 12 dưới đây rồi trả lời câu hỏi :

	Thứ hai	Thứ ba	Thứ tư	Thứ năm	Thứ sáu	Thứ bảy	Chủ nhật
12	1	2			5		
				11		13	
	15	16			19		
				25			28
	29			31			

Trong tháng 12 :

a) Có .....ngày thứ hai.

Các ngày thứ hai đó là :.....

b) Ngày 22 tháng 12 là thứ .....

c) Tháng 12 có tất cả bao nhiêu ngày :.....

d) Em được nghỉ thứ bảy và chủ nhật. Vậy tháng 12 em được nghỉ .....ngày

### ĐÁP ÁN ĐỀ SỐ 46

1) ....;81;...;83;...;.....;86;87;88;...;.....

2) Sáu mươi lăm: 65

Bốn mươi sáu: 46

Bảy mươi một: 71

Tám mươi tư: 84

3) a)  $6+7=13$       b)  $7+7=14$ ;  $7+5=12$

c)  $15-9=6$       d)  $16-7=9$

4) a)  $8+4=13$ . S      b)  $7+9=16$ . Đ

5) Đặt tính đúng mỗi câu được tính điểm tối đa

$47+25=72$        $64-28=36$        $100-36=64$        $37+43=80$

6)  $x+30=50$

$$x=50-30$$

$$x=20$$

$$x-12=47$$

$$x=47+12=59$$

7) Số kilogram Minh cân nặng là:  $26+8=34$  (kg)

Đáp số : 34 kg

8) a) C      b) B

9) Học sinh tự viết ngày

Trong tháng 12

a) Có 5 ngày thứ hai, đó là các ngày : 1; 8; 15; 22; 29

b) Ngày 22 tháng 12 là thứ Hai

c) Tháng 12 có 31 ngày

d) Tháng 12 em được nghỉ 8 ngày

## ĐỀ 47

**Bài 1:** Điền số thích hợp vào chỗ chấm :

50	51							58	
		62						68	
							77		
			83						
					95				99

**Bài 2:** Nối phép tính với kết quả đúng:

$$9 + 7$$

$$16 - 7$$

$$9 + 6$$

$$17 - 9$$

$$9$$

$$16$$

$$8$$

$$15$$

**Bài 3:** Đúng ghi Đ, sai ghi S vào ô trống

a)  $7 + 8 = 15$

b)  $8 + 4 = 13$

c)  $12 - 4 = 9$

d)  $11 - 4 = 7$

**Bài 4:** Đặt tính rồi tính:

$$45 + 27$$

.....  
.....  
.....

$$64 - 38$$

.....  
.....  
.....

$$33 + 47$$

.....  
.....  
.....

$$80 - 36$$

.....  
.....  
.....

**Bài 5:** Số?

a)  $16 \ell + 5 \ell - 10 \ell =$    $\ell$

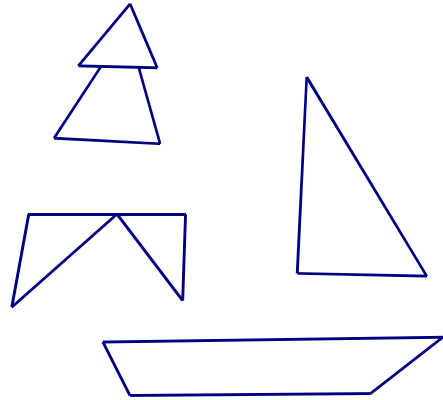
b)  $24\text{kg} - 13\text{kg} + 4\text{kg} =$    $\text{kg}$



**Bài 6:** Viết số thích hợp vào chỗ trống:

Hình vẽ bên có:

- a) Có .....hình tam giác.
- b) Có .....hình tứ giác.



**Bài 7:** Giải toán:

- a) Anh Hoà cân nặng 45 kg, bạn Bình cân nhẹ hơn anh Hoà 17 kg. Hỏi bạn Bình cân nặng bao nhiêu ki-lô-gam?

**Bài giải**

.....  
.....  
.....

- b) Bình nhỏ đựng 15 *l* nước, bình to đựng được nhiều hơn bình nhỏ 9 *l* nước. Hỏi bình to đựng được bao nhiêu lít nước?

**Bài giải**

.....  
.....  
.....

**Bài 8:** Điền số thích hợp vào chỗ trống:

$$\square + \square = \square$$

$$\square - \square = \square$$

### ĐÁP ÁN ĐỀ SỐ 47

1) Học sinh tự điền số theo hướng tăng dần

2)  $9 + 7 = 16$                        $16 - 7 = 9$

$9 + 6 = 15$                                $17 - 9 = 8$

3) a)  $7 + 8 = 15$  .Đ                  c)  $12 - 4 = 9$  . S

b)  $8 + 4 = 13$  . S                      d)  $11 - 4 = 7$  . Đ

4) Mỗi câu đặt tính đúng được điểm tối đa

$45 + 27 = 72$                        $64 - 38 = 26$                        $35 + 47 = 82$                        $80 - 36 = 44$

5) a)  $161 + 51 - 101 = 111$

b)  $24 \text{ kg} - 13 \text{ kg} + 4 \text{ kg} = 15 \text{ kg}$

6) a) Có 4 hình tam giác, b) Có 2 hình tứ giác.

7) a) Số kilogram cân nặng của bạn Bình là:  $45 - 17 = 28$  (kg)

Đáp số: 28 kg

b) Số lít nước bình to đựng là :  $15 + 9 = 24$  (l nước)

Đáp số : 24 l nước

8)  $10 - 2 = 8$                                $9 - 3 = 6$

### ĐỀ 48

1/ Viết số thích hợp vào chỗ trống:: (2 điểm)

a/ 62, 63, 64, .....; .....; .....; .....; .....; 70.      b/ 40, 42, 44, .....; .....; .....; .....; .....; 56.

2/ Đặt tính rồi tính: (2 điểm)

$36 + 43$

$88 - 65$

$27 + 15$

$80 - 46$

.....  
.....  
.....  
.....  
.....  
.....

3/ Tìm X. Biết: (2 điểm)

$X + 19 = 72$

$X - 37 = 28$

$100 - X = 45$

.....  
.....  
.....  
.....  
.....

4/ Viết số thích hợp vào chỗ chấm: (1 điểm)

2dm = ..... cm

9dm = ..... cm

70cm = ..... dm

5/ Bình cân nặng 32 ki-lô-gam. Lan nhẹ hơn Bình 9 ki-lô-gam. Hỏi Lan cân nặng bao nhiêu ki-lô-gam? (2 điểm)

**Bài làm**

.....  
.....  
.....  
.....  
.....  
.....  
.....

6/ (1 điểm)

Hình bên có ..... hình tam giác

Hình bên có ..... hình tứ giác



**ĐÁP ÁN ĐỀ SỐ 48**

.1) a) ....;....;....;65;66;67;68;69;....

b) ....;....;....;46;48;50;52;54;....

2) Mỗi câu đặt tính đúng được 0,5 đ

$36 + 43 = 79$

$88 - 65 = 23$

$27 + 15 = 42$

$80 - 46 = 34$

3) Tìm x

$x + 19 = 72$

$x - 37 = 28$

$100 - x = 45$

$x = 72 - 19$

$x = 28 + 37$

$x = 100 - 45$

$x = 53$

$x = 65$

$x = 55$

4)  $2 \text{ dm} = 20 \text{ cm}$

$9 \text{ dm} = 90 \text{ cm}$

$70 \text{ cm} = 7 \text{ dm}$

5) Số kilogam Lan cân nặng là :  $32 - 9 = 23 \text{ (kg)}$

Đáp số: 23 kg

6) Hình bên có 3 tam giác, hình bên có 3 tứ giác

**ĐỀ 49**

**Bài 1:** Điền số thích hợp vào ô trống. (1 điểm)

60		62			65		67	68			71	72			75
----	--	----	--	--	----	--	----	----	--	--	----	----	--	--	----

**Bài 2:** Tính. (5 điểm)

a) Tính nhẩm: (2 điểm), HS tính đúng mỗi phép tính được 0,5 điểm.

$$\begin{aligned} 6 + 7 &= \\ 12 - 4 &= \end{aligned}$$

$$\begin{aligned} 17 - 9 &= \\ 8 + 5 &= \end{aligned}$$

b) Đặt tính rồi tính: (3 điểm), HS đặt tính và tính đúng mỗi phép tính được 0,5 điểm.

$$28 + 31$$

$$15 + 22$$

$$87 - 47$$

$$26 + 36$$

$$54 - 19$$

$$63 + 18$$

**Bài 3:** (1 điểm)

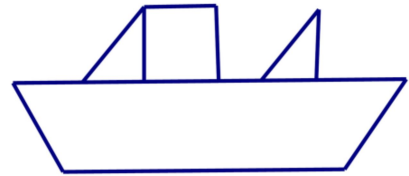
a) Lan đi ngủ lúc 20 giờ, tức là Lan đi ngủ lúc..... giờ đêm. (0,5 điểm).

b) Ngày 09 tháng 01 năm 2008 là ngày thứ tư. Ngày 11 tháng 01 năm 2008 là ngày thứ..... (0,5 điểm)

**Bài 4:** Nhận dạng hình. (1 điểm)

a) Trong hình vẽ bên có..... hình tam giác. (0,25 điểm)

Trong hình vẽ bên có..... hình tứ giác. (0,25 điểm)



b) Vẽ đoạn thẳng AB dài 6cm. (0,5 điểm)

**Bài 5:** Điền số thích hợp vào ô trống để được phép tính đúng (1 điểm)

$$\boxed{\phantom{00}} + \boxed{2} = \boxed{39}$$

$$\boxed{28} - \boxed{\phantom{00}} = \boxed{3}$$

**Bài 6:** Giải toán (1 điểm)

a) Bạn Lan cân nặng 28kg. Bạn Mai cân nặng hơn bạn Lan 3kg. Hỏi bạn Mai cân nặng bao nhiêu kilogam ?

.....  
.....  
.....

b) Mẹ hái được 38 quả bưởi. Chị hái được 16 quả bưởi. Hỏi mẹ hái nhiều hơn chị bao nhiêu quả bưởi ?



## II. PHẦN TỰ LUẬN:

Câu 1: Đặt tính rồi tính:

$58 + 17$

$46 + 49$

$100 - 54$

$75 - 38$

.....

.....

.....

.....

.....

.....

.....

.....

.....

.....

.....

.....

Câu 2: Tìm x:

a.  $92 - x = 45$

b.  $x + 28 = 54$

c.  $x - 35 = 67 - 29$

.....

.....

.....

.....

.....

.....

.....

.....

.....

.....

.....

.....

Câu 3: Mẹ mua 24 kg gạo nếp, số gạo tẻ nhiều hơn số gạo nếp 17 kg. Hỏi mẹ mua bao nhiêu ki- lô- gam gạo tẻ ?

Bài giải:

.....

.....

.....

.....

.....

.....

.....

.....

.....

.....

.....

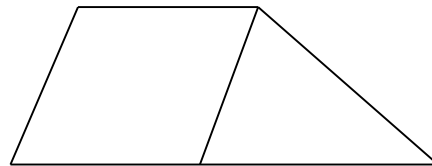
.....

.....

.....

Câu 4: Hình vẽ bên.

- Có ... hình tứ giác
- Có ... hình tam giác



## ĐÁP ÁN ĐỀ SỐ 50

### I. TRẮC NGHIỆM

1.C

2.A

3.B

4.C

5.B

### II. TỰ LUẬN

1. Mỗi câu đặt tính đúng được điểm tối đa

$$58+17=75$$

$$46+49=95$$

$$100 - 54 = 46$$

$$75 - 38 = 37$$

$$2)a) 92 - x = 45$$

$$x = 92 - 45$$

$$x = 47$$

$$b)x + 28 = 54$$

$$x = 54 - 28$$

$$x = 26$$

$$c)x - 35 = 67 - 29$$

$$x - 35 = 38$$

$$x = 38 + 35$$

$$x = 73$$

Câu 3. Số kilogram gạo tẻ mẹ mua là:  $24+17 = 41$  (kg gạo)

Đáp số: 41 kg gạo

Câu 4. – Có 2 tứ giác, - có 1 tam giác