

Bài 21 : Thảo , Thuỷ , Trang có 14 cái kẹo . Thảo có số kẹo nhiều nhất . Trang có số kẹo ít nhất còn Thuỷ có 6 cái . Hỏi mỗi bạn Thảo , Trang có mấy cái kẹo ?



Đề 1:



1) Tính:

536	490	490	278
<u>342</u>	<u>250</u>	<u>413</u>	<u>161</u>
.....

2) Tìm x :

a) $x + 39 + 19 = 87 + 9$

b) $x - 26 = 75 - 17$

3) Viết số tự nhiên liên tiếp vào chỗ chấm:

a) $698 < \dots < \dots < \dots$

b) $\dots < \dots < \dots < 790$

c) $699 < \dots < \dots < \dots$

4) Điền dấu $>$, $<$ =

$712 \dots 698$ $690 + 10 \dots 700$

$612 \dots 608$ $695 \dots 691$

$599 + 1 \dots 600$ $302 \dots 301$

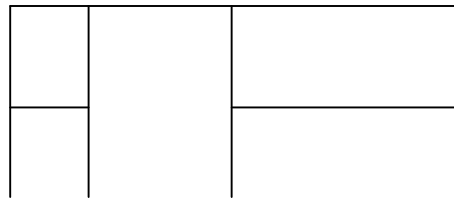
5) Số cây cam trong vườn có 568 cây và ít hơn số cây bưởi là 165 cây. Hỏi số cây bưởi có bao nhiêu cây.

6) Hình vẽ bên có :



hình chữ nhật

? ghi tên các hình đó




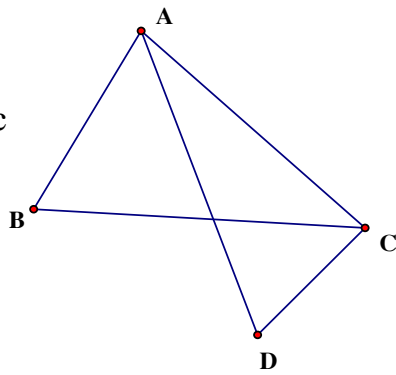


Đề 2:

1) Hình vẽ bên có :

hình tam giác

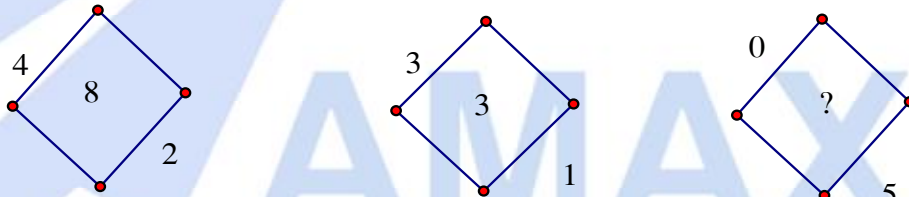
? ghi tên hình đó



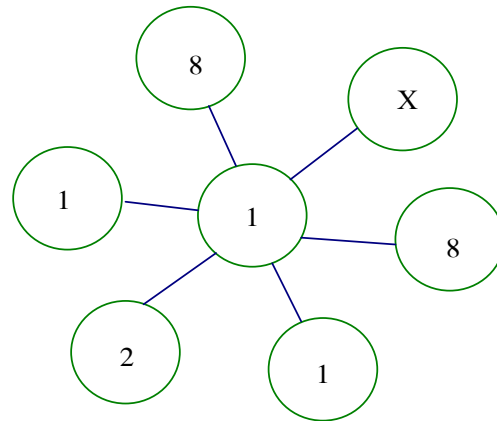
2) Điền số thích hợp vào



3) Điền số nào ?



4) Tìm x



5) a) Viết số liền sau của số bé nhất có 3 chữ số

b) Số liền trước của số lớn nhất có 3 chữ số

6) An cao 1 m 59 cm và cao hơn Bình 24 cm . Hỏi Bình cao bao nhiêu xăng - ti - mét ?



Đề 3:

Họ và tên :.....Lớp 2

D

Điểm :

1) Tìm x :

a) $x + 112 + 143 = 999 - 102$

b) $x - 123 = 400 + 56$

c) $962 - x = 869 - 28$

d) $45 + 47 - x = 59 + 9$

2) Đặt tính rồi tính:

$916 - 302$

$789 - 456$

$589 - 506$

$974 - 452$

3) Viết thêm các số liền sau hoặc liền trước để được:

a) 5 số tự nhiên liên tiếp: 98 ; 99 ; ; ;

b) 5 số lẻ liên tiếp : 195 ; 197 ; ; ;

c) 5 số chẵn liên tiếp : ; ; ; 498 ; 500

d) 5 số tròn chục liên tiếp : ; ; ; 970 ; 980

e) 5 số tròn trăm liên tiếp : ; ; 500 ; ;

4) Một cửa hàng, buổi sáng bán được 279 kg cam và bán được nhiều hơn buổi chiều 125 kg cam. Hỏi buổi chiều bán được bao nhiêu ki lô gam cam.

5) Quầy hàng hôm nay bán được 193 lít dầu và bán được ít hơn hôm qua 15 lít. Hỏi hôm qua quầy đó bán được bao nhiêu lít dầu.



Đề 4:

Họ và tên :Lớp :

2 D

Điểm :

1) Tính bằng cách hợp lý (theo mẫu)

$$\begin{aligned} \text{a) } 145 + 53 - 45 \\ &= 145 - 45 + 53 \\ &= 100 + 53 \\ &= 153 \end{aligned}$$

$$\begin{aligned} \text{b) } 139 + 27 - 39 \\ &= \\ &= \\ &= \end{aligned}$$

$$\begin{aligned} \text{c) } 789 + 111 - 89 \\ &= \\ &= \\ &= \end{aligned}$$

$$\begin{aligned} \text{d) } 6 \times 5 : 2 \\ &= 6 : 2 \times 5 \\ &= 3 \times 5 \\ &= 15 \end{aligned}$$

$$\begin{aligned} 9 \times 5 : 3 \\ &= \\ &= \\ &= \end{aligned}$$

$$\begin{aligned} 4 \times 8 : 2 \\ &= \\ &= \\ &= \end{aligned}$$

2) Ông cao 163 cm . Ông thấp hơn bố 12 cm . Hỏi bố cao bao nhiêu xăng ti mét ?

.....
.....
.....

3) Thùng to đựng 85 lít và nhiều hơn thùng nhỏ 13 lít . Hỏi thùng nhỏ có bao nhiêu lít dầu ?

.....
.....
.....

4) Tính ?

$$\begin{array}{r} 45 \\ \underline{39} \end{array}$$

$$\begin{array}{r} 84 \\ \underline{45} \end{array}$$

$$\begin{array}{r} 84 \\ \underline{39} \end{array}$$

$$\begin{array}{r} 234 \\ \underline{245} \end{array}$$

$$514$$

$$517$$

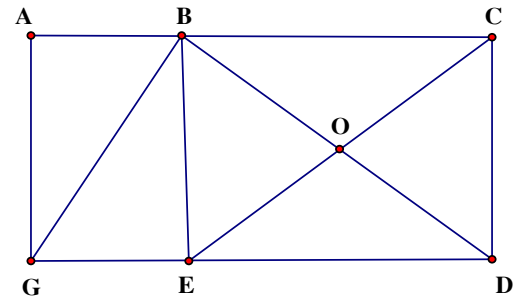
5) Hình bên có :

hình tam giác

Ghi tên các hình đó :

.....

.....



Đề 5 :

Họ và tên	
.....	
Lớp : 2 D	
Điểm :	Chữ ký phụ
.....	

1) Viết 4 phép tính thích hợp với 3 số

a) 4 , 3 , 7

b) 4 , 3 , 12

2) Tìm x

a) $100 - x = 5 \times 9$

b) $5 \times 7 + x = 100$

c) $x : 4 = 78 : 3$

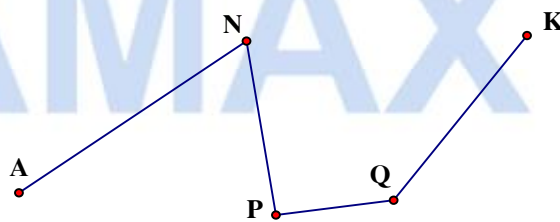
3) Độ dài đường gấp khúc là

A . 60 cm

B . 65 cm

C . 90 cm

D . 81 cm



4) Tính chu vi của hình chữ nhật biết chiều

dài 16 cm , chiều rộng ngắn hơn chiều dài 5 cm ?

5) Tính chu vi hình tam giác biết 3 cạnh của tam giác đó bằng nhau và bằng 15 cm

