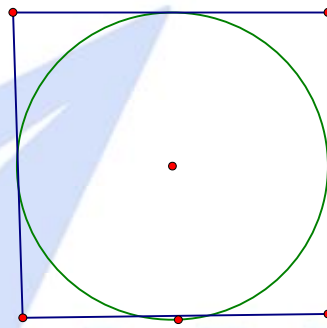


**Bài 44:** Hãy vẽ 5 điểm trong đó có 3 điểm ở ngoài hình tròn và 4 điểm ở trong hình vuông



**Bài 45 :** Nếu mẹ cho Dũng thêm 3 viên kẹo thì Dũng có tất cả 10 viên kẹo . Hỏi Dũng có tất cả bao nhiêu viên kẹo ?

---

---

---

---

**Bài 46 :** Lan cho Hồng 5 quyển sách , Lan còn lại 12 quyển sách .Hỏi Lan có bao nhiêu quyển sách

---

---

---

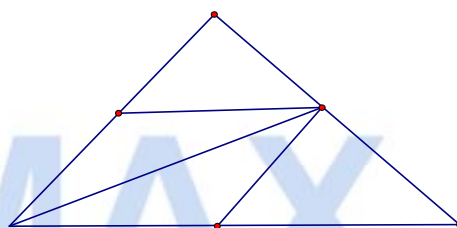
---

**Bài 47 :** Toàn có một số bi xanh và đỏ . Biết rằng số bi của Toàn bé hơn 10 . Số bi đỏ nhiều hơn số bi xanh là 7 . Hãy tính xem Toàn có bao nhiêu bi xanh , bao nhiêu bi đỏ ?

**Bài 48 :** Hình vẽ dưới đây có bao nhiêu hình tam giác

Có .....hình tam giác

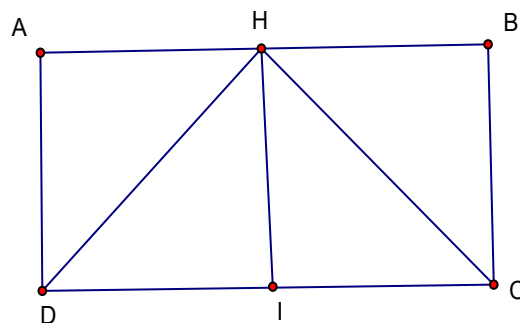
Là những tam giác .....



**Bài 49 :** Hình vẽ dưới đây có bao nhiêu điểm , bao nhiêu đoạn thẳng ?

Có .....điểm

Là những đoạn thẳng .....



Có .....thẳng

Là những đoạn thẳng.....

**Bài 50 :**

Số chẵn chục liền trước	Số chẵn chục đã biết	Số chẵn chục liền
-------------------------	----------------------	-------------------

		sau
	20	
	30	
	40	
	50	
	60	
	70	
	80	
	90	

<b>Điểm</b>
:

**Bài thi khảo sát học sinh giỏi lớp 1**  
**tháng 12 - Năm học : 2009 - 2010**  
**Môn : toán**  
*(Thời gian làm bài 40 phút)*

Họ và tên : .....Lớp 1.....

Trường Tiểu học –Kim Lộc- Can Lộc – Hà Tĩnh

**Bài 1 :** Điền dấu + , - thích hợp vào ô trống

$2 \square 5 \square 3 = 10$

$10 \square 4 \square 1 = 7$

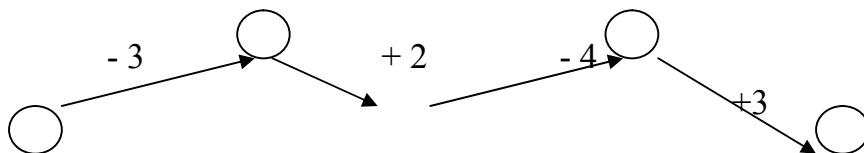
$6 \square 3 \square 2 = 5$

$10 \square 0 \square 2 = 8$

$4 \square 2 \square 4 = 6$

$8 \square 1 \square 3 = 10$

**Bài 2 :** số ?



**Bài 3 :** Anh có 4 hòn bi đỏ và 6 hòn bi đen . Anh cho em 5 hòn bi . Hỏi anh còn bao nhiêu hòn bi .

Bài giải:

.....  
.....  
.....  
.....  
.....

. **Bài 4 :** Lan cho Hồng 5 quyển sách , Lan còn lại 5 quyển sách .Hỏi Lan có bao nhiêu quyển sách ?

Bài giải:.

.....  
.....

**Bài 5:** Hình vẽ bên có bao nhiêu tam giác?

Có.....tam giác :

