

BIỂU ĐIỂM TOÁN 2

GIỮA HỌC KỲ II

I/Trắc nghiệm:(4 đ) khoanh tròn vào chữ đặt trước câu trả lời đúng:

Bài 1: (1 đ)

B ; C

Bài 2: (1 đ)

C

Bài 3: (1 đ)

B

Bài 4: (1 đ)

A

Bài 5: (1 đ)

C

Bài 6: (1 đ)

D

II/Tư luận:

Bài 1: (1 điểm) Đặt tính rồi tính : Mỗi phép tính đúng 0,5 (Đặt 2 dấu cộng , trừ 0,25 toàn bài)

Bài 2 (1 đ) Tính: Mỗi phép tính đúng 0,25

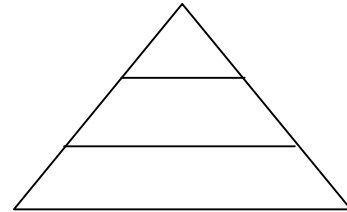
Bài 3: (1,5 đ)

Số đĩa xếp vào là: (0,5đ)

$$35 : 5 = 7 \text{ (đĩa)}$$

Đáp số: 7 đĩa

Bài 4 (0,5 đ) *Hình bên có 3 Tam giác?*



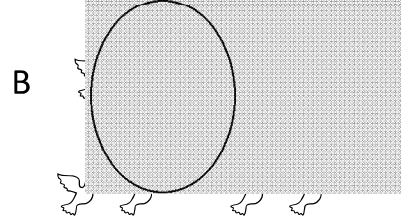
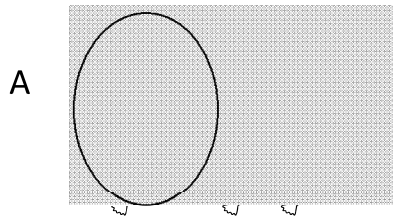
Trường Tiểu học Tân Hoà 1 Lớp : Hai/ . Họ và tên :	ĐỀ KIỂM TRA ĐỊNH KÌ GIỮA HỌC KÌ II NĂM HỌC 2013 – 2014 MÔN TOÁN LỚP HAI Ngày kiểm tra: 27/03/2014 Thời gian làm bài :
---	--

Điểm		Họ tên, chữ kí giám thị		Họ tên, chữ kí giám khảo	
Bảng số	Bảng chữ	Giám thị 1	Giám thị 2	Giám khảo 1	Giám khảo 2

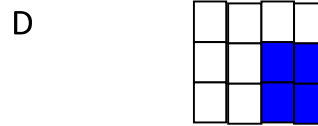
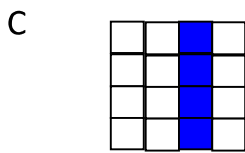
I/Trắc nghiệm: khoanh tròn vào chữ đặt trước câu trả lời đúng:

Bài 1: (1 đ)

Hình đã khoanh vào $\frac{1}{2}$ số con chim là:



Hình nào có $\frac{1}{4}$ số ô vuông được tô màu ?



Bài 2: (1 đ) Tìm y : $y \times 4 = 28$

- A . $y = 112$ B . $y = 26$ C . $y = 7$ D . $y = 8$

Bài 3: (1 đ) $24 \text{ giờ} : 4 =$

- A . 4 B . 6 C . 4 giờ D . 6 giờ

Bài 4 : Khoanh tròn vào chữ cái đặt trước số thích hợp điền vào chỗ chấm

2 giờ = phút

- a. 120 b. 60 c. 90 d. 20

Bài 5 : Khoanh tròn vào chữ cái đặt trước kết quả đúng điền vào chỗ chấm

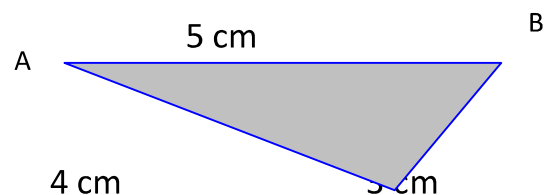
9 kg : 3 =

- a. 12 kg b. 6 kg c. 3 kg d. 27 kg

Bài 6: Chu vi của hình tam giác ABC là

A. 13

B. 12



C. 13 cm

C

D. 12 cm

II/Tư luận:

Bài 1: (1 điểm) Đặt tính rồi tính :

$13 + 34 + 31$

$26 + 30 + 9$

Bài 2 (1 đ) Tính:

a) $5 \times 5 + 6 =$

.....

.....

c) $4 \times 8 - 17 =$

.....

.....

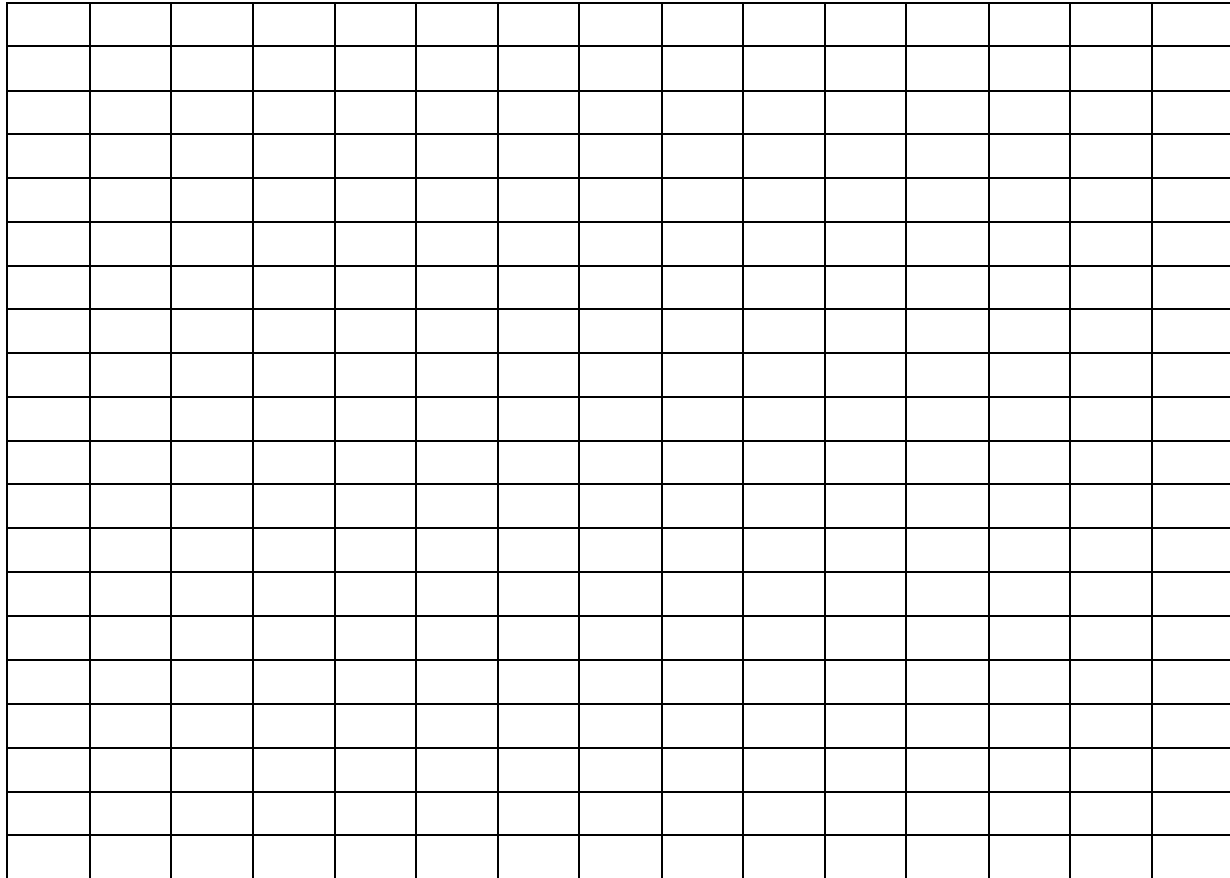
b) $2 \times 9 - 18 =$

.....
.....

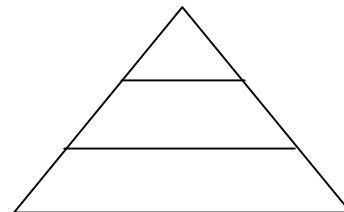
d) $7 + 3 \times 7 =$

.....
.....

Bài 3: (1,5 đ) Có 35 quả cam xếp vào các đĩa , mỗi đĩa 5 quả . Hỏi xếp được vào mấy đĩa ?



Bài 4 (0,5 đ) *Hình bên có Tam giác?*



BIỂU ĐIỂM TOÁN 2

GIỮA HỌC KỲ II

I/Trắc nghiệm:(4 đ) khoanh tròn vào chữ đặt trước câu trả lời đúng:

Bài 1: (1 đ)

B ; C

Bài 2: (1 đ)

C

Bài 3: (1 đ)

B

Bài 4: (1 đ)

A

Bài 5: (1 đ)

C

Bài 6: (1 đ)

D

II/Tư luận:

Bài 1: (1 điểm) Đặt tính rồi tính : Mỗi phép tính đúng 0,5 (Đặt 2 dấu cộng , trừ 0,25 toàn bài)

Bài 2 (1 đ) Tính: Mỗi phép tính đúng 0,25

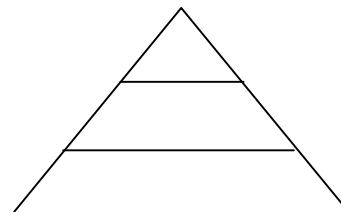
Bài 3: (1,5 đ)

Số đĩa xếp vào là: (0,5đ)

$$35 : 5 = 7 \text{ (đĩa)}$$

Đáp số: 7 đĩa

Bài 4 (0,5 đ) *Hình bên có 3 Tam giác?*



ĐỀ THI GIỮA HỌC KÌ II – NĂM HỌC: 2012 – 2013
MÔN: TOÁN – LỚP 4A

oOo

I/ PHẦN I: TRẮC NGHIỆM (4đ)

Câu 1: (1 điểm) Phân số $\frac{2}{5}$ bằng phân số nào dưới đây:

- A. $\frac{10}{15}$ B. $\frac{10}{25}$ C. $\frac{14}{30}$

Câu 2: (0,5 điểm) Phép trừ $\frac{9}{14} - \frac{4}{14}$

- A. $\frac{5}{14}$ B. 5 C. $\frac{13}{14}$

Câu 3: (1 điểm) Trong 1 ngày em học ở trường 8 giờ. Vậy thời gian học sẽ là:

- A. $\frac{1}{3}$ ngày B. $\frac{2}{3}$ ngày C. $\frac{1}{12}$ ngày

Câu 4: (0,5 điểm) Số thích hợp điền vào chỗ chấm để $\frac{15}{21} = \frac{\dots}{7}$ là :

- A. 21 B. 5 C. 7

Câu 5: (0,5 điểm) Số thích hợp điền vào chỗ chấm $530 \text{ dm}^2 = \dots\dots\dots \text{cm}^2$ là:

- A. 530 B. 5300 C. 53000

Câu 6: (0,5 điểm) Viết các phân số: $\frac{4}{3}; \frac{8}{3}; \frac{5}{3}$ theo thứ tự từ bé đến lớn:

- A. $\frac{5}{3}; \frac{8}{3}; \frac{4}{3}$ B. $\frac{8}{3}; \frac{4}{3}; \frac{5}{3}$ C. $\frac{4}{3}; \frac{5}{3}; \frac{8}{3}$

II/ PHẦN II: TỰ LUẬN (6đ)

Bài 1: Tính : (2 điểm)

a) $\frac{7}{15} + \frac{4}{5} =$

.....
.....

b) $\frac{5}{7} \times \frac{8}{3} =$

.....
.....

c) $\frac{4}{5} : \frac{8}{7} =$

.....

.....

d) $\frac{15}{28} - \frac{5}{14} =$

.....

.....

Bài 2:(1 điểm) Viết vào chỗ chấm cho thích hợp:

Trong hình bình hành ABCD có:

- a) Cạnh AB bằng cạnh.....
- b) Cạnh AD bằng cạnh
- c) Cạnh AB song song với cạnh.....
- d)Cạnh AD song song với cạnh.....



Bài 3: (1 điểm) Tính :

a) $(\frac{1}{3} + \frac{1}{5}) \times \frac{1}{2}$

b) $(\frac{1}{3} - \frac{1}{5}) \times \frac{1}{2}$

Bài 4: (2 điểm) Lớp 4A có 16 học sinh nam và số học sinh nữ bằng $\frac{9}{8}$ số học sinh nam. Hỏi lớp 4A có bao nhiêu học sinh nam và nữ?