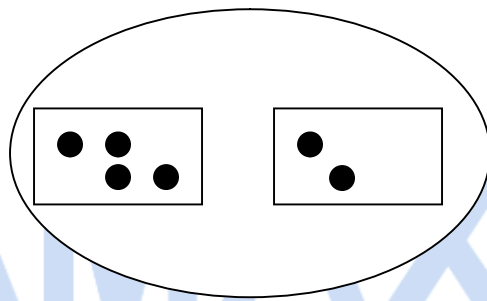
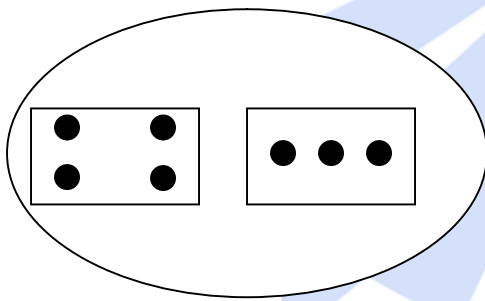


### Tuần 15


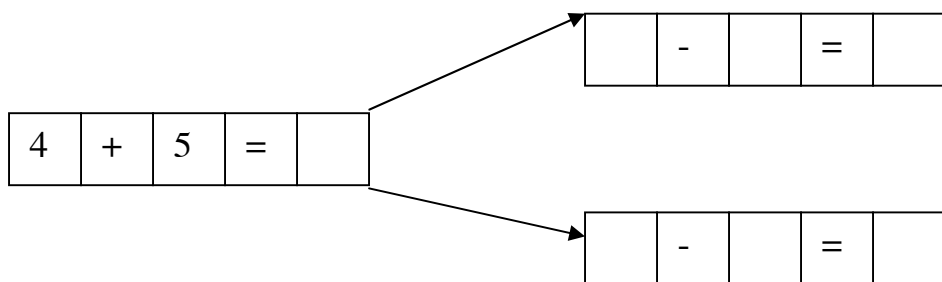
**Bài 1 :** Từ một hình vẽ hãy viết hai phép cộng và hai phép trừ thích hợp :



	+		=	
	+		=	
	-		=	
	-		=	

	+		=	
	+		=	
	-		=	
	-		=	

**Bài 2 :** Từ một phép tính cộng hãy viết hai phép trừ thích hợp:



## Bài tập cuối tuần

Bài 1 : Số ?

		6		
		+		
	-	1	=	9
		=		

		9		
		-		
	+		=	5
		=		
		4		

		+		
8	-	2	=	
		=		
		7		

		9		
		+		
	-		=	3
		=		
		9		

8	+	2	-		=	3
---	---	---	---	--	---	---

	-	5	-	2	=	3
-	/	+	/	+	/	+
5	+	4	-	3	=	
-	/	-	/	-	/	+
2	+	3	-	4	=	
=	/	=	/	=	/	=
3	+		+		=	

6	+	2	=	
-	/	+	/	-
2	-	1	=	
=	/	=	/	=
	+		=	

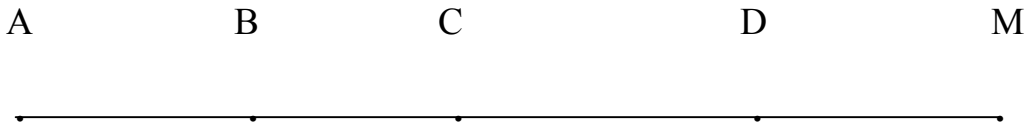
Bài 2 : Số

4	+	3	+		+		=	10
---	---	---	---	--	---	--	---	----

8	-		-		+	5	=	10
---	---	--	---	--	---	---	---	----

**Tuần 16**

Bài 1: Hình vẽ dưới đây có bao nhiêu đoạn thẳng? Hãy viết tên các đoạn thẳng đó.



Trả lời:

-Có : .....đoạn thẳng . Là các đoạn thẳng .....

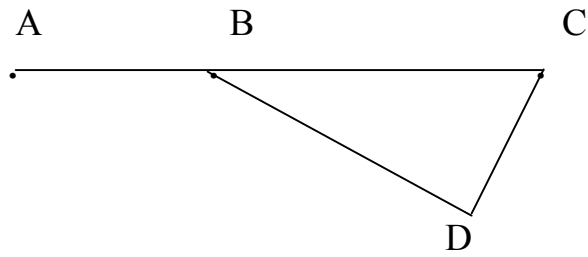
.....

.....

Bài 2: Khoanh vào trước câu trả lời đúng:

- A. Có 3 đoạn thẳng
- B. Có 4 đoạn thẳng

C Có 5 đoạn thẳng  
D. Có 6 đoạn thẳng



Bài 3: Điền dấu +, - thích hợp vào ô trống:

$$5 \square 3 \square 2 \square 1 \square 7 = 0$$

$$9 \square 8 \square 7 \square 6 \square 5 = 7$$

Bài 4 : Điền số thích hợp vào ô trống để khi cộng 3 số ở 3 ô vuông liên tiếp đều có kết quả bằng 10.

	5	2							
--	---	---	--	--	--	--	--	--	--

				1		3			
--	--	--	--	---	--	---	--	--	--

								2	7
--	--	--	--	--	--	--	--	---	---

Bài 5 : Tìm 2 số sao cho cộng chúng lại được 5 và lấy số lớn trừ đi số bé thì được kết quả bằng 1.

Bài làm

Ta có.....

Vậy 2 số cần tìm là : .....

Bài 6 : Cho các số : 0, 1, 2, 3, 4, 5

a) Tìm 2 số sao cho lấy số lớn trừ đi số bé thì được kết quả bằng 2.

b) Tìm 2 số sao cho lấy số lớn trừ đi số bé thì được kết quả bằng 4

Giải :

a) 2 số sao cho lấy số lớn trừ đi số bé thì bằng 2 là:.....

.....

b) 2 số sao cho lấy số lớn trừ đi số bé thì bằng 4 là:.....  
 .....  
 .....

Bài 7: Cho các số : 0 ,1, 2, 3, 4, 5

- a) Tìm những cặp số mà khi cộng lại bằng 3  
 b) Tìm những cặp số mà khi cộng lại bé hơn 4.

Giải:

a) Những cặp số mà khi cộng lại bằng 3 là:.....  
 .....  
 .....

b) Những cặp số mà khi cộng lại bé hơn 4 là :.....  
 .....  
 .....

Bài 8: Tìm một số biết rằng số đó cộng với 3 rồi trừ đi 2 thì được kết quả bằng 6.

Bài làm

Ta có :  $\square \xrightarrow{+3} \square \xrightarrow{-2} 6$

Vậy số cần tìm là ..... Vì .....  $+ 3 - 2 = 6$

Bài 9 : Số

a,

5	=	6	+		-	3
---	---	---	---	--	---	---

4	=	2	+		-	3
---	---	---	---	--	---	---

8	=	4	+	1	+	
---	---	---	---	---	---	--

6	=		-	5	+	2
---	---	--	---	---	---	---

b,

$2 + \square + 4 = 6$

$\square + 2 + 1 = 6$

$1 + 0 + \square = 6$

$\square + \square + 4 = 6$

### Tuần 17

**Bài 1:** Tìm một số biết rằng số đó trừ đi 2 rồi trừ đi 3 cuối cùng cộng với 6 thì được kết quả bằng 9.

Giải

Ta có  $\square \xrightarrow{-2} \square \xrightarrow{-3} \square \xrightarrow{+6} \square \rightarrow \boxed{9}$

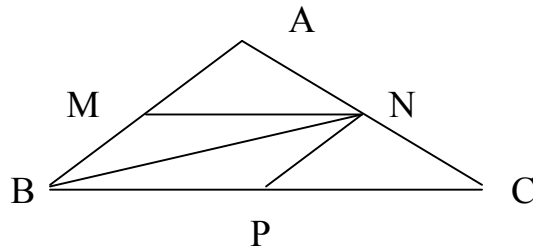
Vậy số cần tìm là ..... Vì .....  $- 2 - 3 + 6 = 9$

**Bài 2** :Hình vẽ dưới đây :

Có : - Bao nhiêu hình tam giác ?

- Bao nhiêu điểm? Viết tên cácđiểm đó.

- Bao nhiêu đoạn thẳng? Viết tên các đoạn thẳng đó,



Trả lời :

Hình vẽ trên:

-Có:..... hình tam giác.

-Có:.....điểm. Là .....

-Có:.....đoạn thẳng. Là .....

**Bài 3:**

Đoạn thẳng thứ nhất dài hơn đoạn thẳng thứ hai,đoạn thẳng thứ ba ngắn hơn đoạn thẳng thứ hai.Hỏi đoạn thẳng nào dài nhất ,đoạn thẳng nào ngắn nhất?

Trả lời :

Đoạn thẳng thứ nhất : .....

Đoạn thẳng thứ hai : .....

Đoạn thẳng thứ ba : .....

Vậy đoạn thẳng.....dài nhất .

Đoạn thẳng.....ngắn nhất.

**Bài 4** :Số:

$$2 + \square < 4$$

$$1 + \square < 2$$

$$\square + 2 > 4$$

$$\square + 5 > 4$$

**Bài 5** :Khoanh vào chữ cái trước câu trả lời đúng:

a)Số thích hợp điền vào ô trống của:  $\square \cdot - 2 = 5 - 4$  là:

A.4

B.5

C.2

D.3

b) Số thích hợp điền vào ô trống của:  $4 - 2 + \square = 10$  là:

A.2

B.8

C.4

D.10

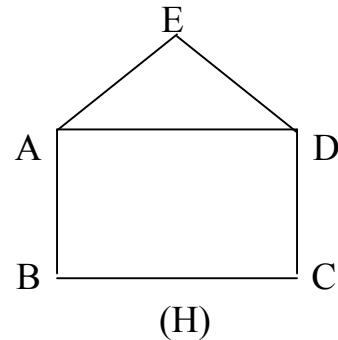
**Bài 6** :Đúng ghi Đ,sai ghi S:

Hình (H) có 4 điểm và 7 đoạn thẳng

Hình (H) có 5 điểm và 6 đoạn thẳng

Hình (H) có 5 điểm là :AB, BC, CD, AE.

Hình (H) có 5 điểm là: A,B, C, D, E



**Bài 7** : Trong các số từ 0 đến 10.

Số bé nhất là:.....

Số lớn nhất là:.....

Các số lớn hơn 7 là:.....

**Bài 8** :Cho các số :0, 1, 2, 3, 4, 5

a. Tìm hai số cộng lại bằng 5.

b. Tìm ba số khác nhau cộng lại bằng 5.

Giải

a, Hai số cộng lại bằng 5 là.....

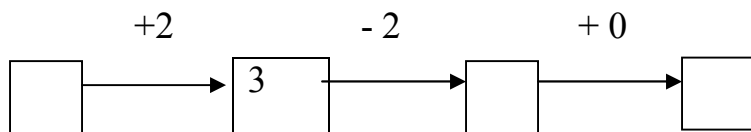
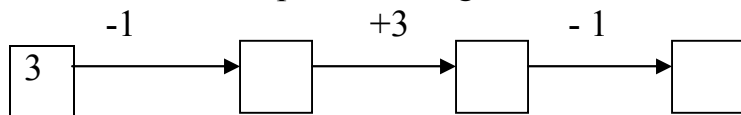
b, Ba số khác nhau cộng lại bằng 5 là.....

**Bài 9** :Tìm 2 số sao cho cộng chúng lại được 2 và lấy số lớn trừ đi số bé thì được kết quả bằng 2.

Giải:


## Tuần 18

**Bài 1** :Viết số thích hợp vào ô trống:



**Bài 2** :Hình vẽ sau có mấy hình vuông?

- Có .....hình vuông



**Bài 3** : Nối ô trống với số thích hợp:

⑤   $< 5 - 1$

④   $> 3 + 0$

③   $= 5 - 2$

②   $5 + 0$

**Bài 4** :Nối ô trống với số thích hợp:

④   $< 3 - 0$

⑤   $= 5 - 0$

②   $> 2 - 0$

①   $< 3 + 0$

**Bài 5** : Điền dấu cộng ,trừ thích hợp vào ô trống:

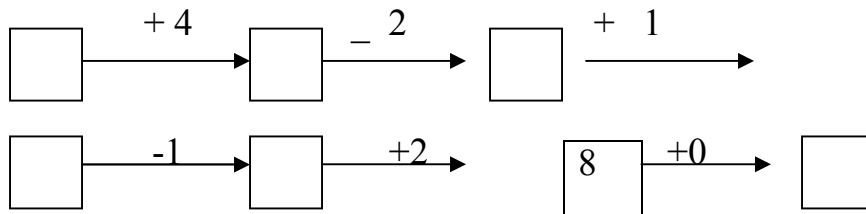


$$4 \square 3 \square 1 \square 2 \square 6 = 10 + 0$$

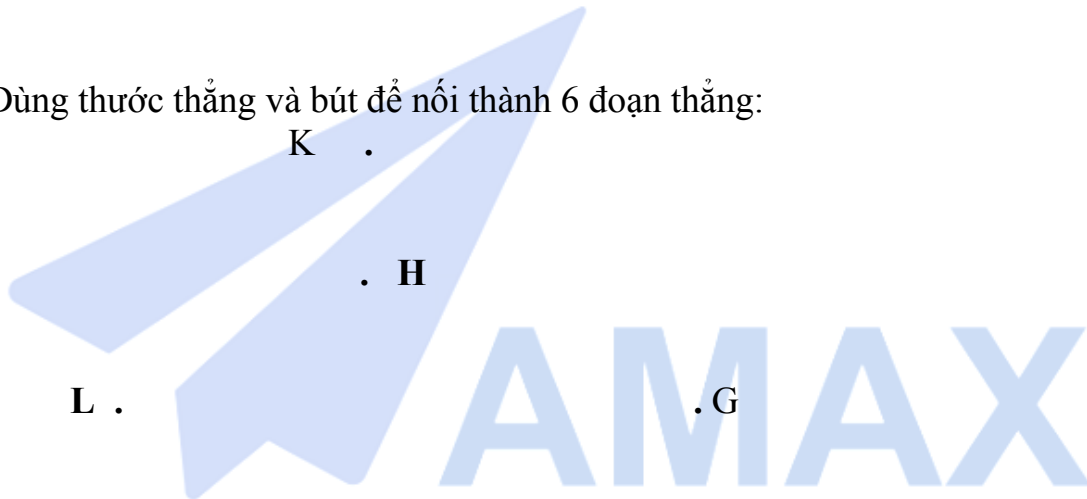
$$5 \square 4 \square 3 \square 2 \square 1 = 9 - 2$$

Bài 6 :Viết số thích hợp vào ô trống:

8



Bài 7 :Dùng thước thẳng và bút để nối thành 6 đoạn thẳng:



Bài 8 :Khoanh vào trước câu trả lời đúng:

A.Đoạn thẳng GH ngắn nhất

A \_\_\_\_\_ B

B.Đoạn thẳng AB dài nhất

C \_\_\_\_\_ D

C.Đoạn thẳng CD ngắn nhất

E \_\_\_\_\_ F

D.Đoạn thẳng GH dài nhất

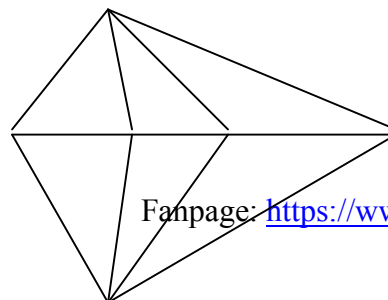
G \_\_\_\_\_ H

Bài 9 :Khoanh vào trước câu trả lờidúng:

Số hình tam giác có là:

A. 6

B. 8



- C. 10
- D. 12

**Bài 10** :Điền dấu (+, -?)

$$9 \square 8 \square 0 \square 1 = 0$$

