


DẠY BÉ NHẬN BIẾT VỀ HÌNH KHỐI


Câu hỏi 1: Hình dưới đây là hình gì?

- A. Hình tròn
- B. Hình vuông
- C. Hình tam giác



Câu hỏi 2: Hình dưới đây là hình vuông, đúng hay sai?

- A. Sai.
- B. Đúng



Câu hỏi 3: Hình này là hình tam giác hay hình vuông?


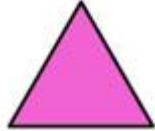
- A. Hình tam giác
- B. Hình vuông



Câu hỏi 4: (Ôn tập về tư duy vị trí) Trong hình dưới đây, hình tam giác nằm ở vị trí nào?

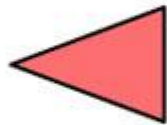
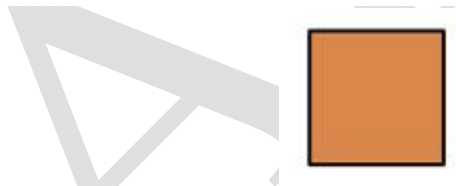
- A. Trên cùng
- B. Giữa

C. Dưới cùng



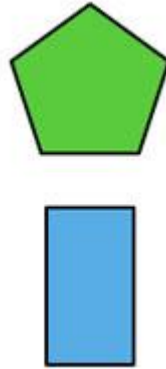
Câu hỏi 5: Trong hình dưới đây, hình vuông nằm trên hình nào?

- A. Hình tam giác và hình chữ nhật
- B. Hình tam giác và hình tròn
- C. Hình tròn và hình chữ nhật



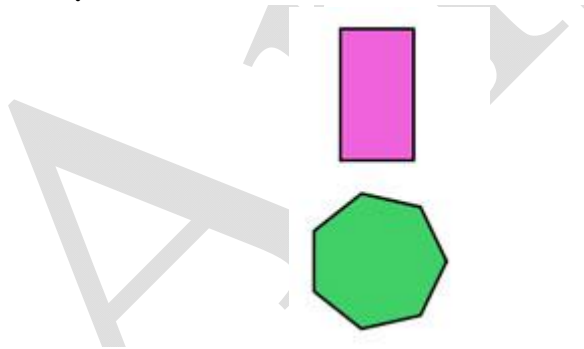
Câu hỏi 6: Trong hình dưới đây, hình chữ nhật nằm ở vị trí nào?

- A. Bên trên
- B. Bên dưới




Câu hỏi 7: Dưới đây có những hình nào?

- A. Hình vuông và hình chữ nhật
- B. Hình chữ nhật và hình đa giác
- C. Hình chữ nhật và hình tròn



Câu hỏi 8: Hình nào là hình vuông?

- A. Hình bên trên
- B. Hình bên dưới



Câu hỏi 9: Hình này gọi là hình gì?

- A. Hình hộp
- B. Hình kim tự tháp

