

Bài 6: (1.0 điểm)

-, X, :

a, $4 \square 4 \square 4 \square 4 = 0$,

b, $4 \square 4 \square 4 \square 4 = 0$

c. Tính nhanh: $2 + 5 + 14 + 18 + 13 + 15 + 6 + 17$

.....

.....

.....

.....

Bài 1:/3.0 đ

Bài 2:...../1,5 đ

Bài 3:...../1,5 đ

Bài 4:...../1,5 đ

Bài 5:...../1,5 đ

Bài 6:...../1 đ

Điểm toàn bài:...../10điểm

GV CHẤM

BIỂU ĐIỂM KTĐK LẦN 3 MÔN TOÁN LỚP 2
NĂM HỌC 2010 - 2011

Bài 1: 3,0 điểm

Khoanh đúng mỗi ý : 0,5 điểm

- a, C.47 b, B: 9kg c. A. 12 giờ đêm d, B: 30 e, B: 8 hình tam giác
g, A. 12cm

Bài 2 : 1,5 điểm

Nhẩm đúng mỗi phép tính: 0,15 điểm

Bài 3 : 1,5 điểm

Đúng mỗi bài: 0,5 điểm

Bài 4 : 1,5 điểm

- Đúng câu lời giải: 0,25 điểm
 - Đúng phép tính: 1 điểm
 - Đúng đáp số: 0,25 điểm
- (Lưu ý: Trình bày bài toán rõ ràng sạch sẽ)

Bài 5: 1,5 điểm

- Đúng câu lời giải: 0,25 điểm
- Đúng phép tính: 1 điểm
- Đúng đáp số: 0,25 điểm

Bài 6: 1 điểm

- a. 0,25 điểm, b. 0.25điểm
c. 0.5 điểm

TRƯỜNG TIỂU HỌC HOÀ SƠN

ĐỀ KIỂM TRA ĐỊNH KỲ GIỮA KỲ 2 NĂM HỌC 2010 – 2011

MÔN THI : TOÁN LỚP 2

Thời gian làm bài: 40 phút

Họ và tên:..... Lớp:.....Số báo danh :.....

Mã phách

Bài 1 :(3.0 điểm) Khoanh vào chữ cái trước ý trả lời đúng trong các câu sau:

a, Kết quả của phép tính $5 \times 7 + 12$ là:

A: 24

B: 19

C: 47

b, $\frac{1}{3}$ của 27 kg là:

A: 8 kg

B: 9 kg

C: 7 kg

c, 24 giờ còn gọi là:

A: 12 giờ đêm

B: 12 giờ trưa

C: 11 giờ đêm

d, Kết quả của X trong phép tính $x : 5 = 6$ là:

A: 25

B: 30

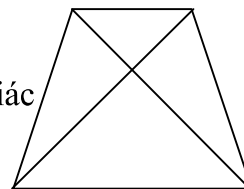
C: 35

e. Hình bên có:

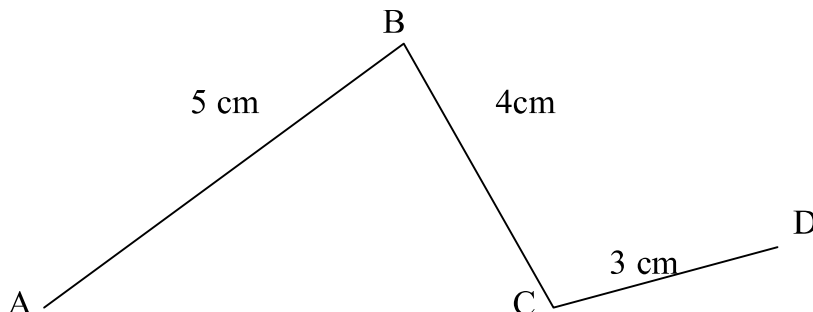
A: 7 hình tam giác

B: 8 hình tam giác

C: 9 hình tam giác



g. Cho đường gấp khúc ABCD như hình vẽ:



Bài 6: (1.0 điểm)

-, X, ÷

a, $4 \square 4 \square 4 \square 4 = 0$,

b, $4 \square 4 \square 4 \square 4 = 0$

c. Tính nhanh: $2 + 5 + 14 + 18 + 13 + 15 + 6 + 17$

.....

.....

.....

.....

Bài 1:/3.0 đ

Bài 2:...../1,5 đ

Bài 3:...../1,5 đ

Bài 4:...../1,5 đ

Bài 5:...../1,5 đ

Bài 6:...../1 đ

Điểm toàn bài:...../10điểm

GV CHẤM

BIỂU ĐIỂM KTĐK LẦN 3 MÔN TOÁN LỚP 2
NĂM HỌC 2010 - 2011

Bài 1: 3,0 điểm

Khoanh đúng mỗi ý : 0,5 điểm

- a, C.47 b, B: 9kg c. A. 12 giờ đêm d, B: 30 e, B: 8 hình tam giác
g, A. 12cm

Bài 2 : 1,5 điểm

Nhẩm đúng mỗi phép tính: 0,15 điểm

Bài 3 : 1,5 điểm

Đúng mỗi bài: 0,5 điểm

Bài 4 : 1,5 điểm

- Đúng câu lời giải: 0,25 điểm
 - Đúng phép tính: 1 điểm
 - Đúng đáp số: 0,25 điểm
- (Lưu ý: Trình bày bài toán rõ ràng sạch sẽ)

Bài 5: 1,5 điểm

- Đúng câu lời giải: 0,25 điểm
- Đúng phép tính: 1 điểm
- Đúng đáp số: 0,25 điểm

Bài 6: 1 điểm

- a. 0,25 điểm, b. 0.25điểm
c. 0.5 điểm

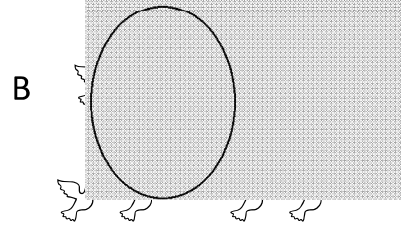
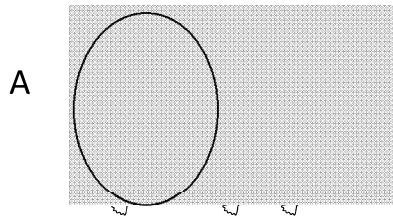
Trường Tiểu học Tân Hoà 1 Lớp : Hai/ . Họ và tên :	ĐỀ KIỂM TRA ĐỊNH KÌ GIỮA HỌC KÌ II NĂM HỌC 2013 – 2014 MÔN TOÁN LỚP HAI Ngày kiểm tra: 27/03/2014 Thời gian làm bài :
---	--

Điểm		Họ tên, chữ kí giám thị		Họ tên, chữ kí giám khảo	
Bảng số	Bảng chữ	Giám thị 1	Giám thị 2	Giám khảo 1	Giám khảo 2

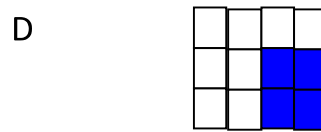
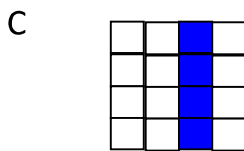
I/Trắc nghiệm: khoanh tròn vào chữ đặt trước câu trả lời đúng:

Bài 1: (1 đ)

Hình đã khoanh vào $\frac{1}{2}$ số con chim là:



Hình nào có $\frac{1}{4}$ số ô vuông được tô màu ?



Bài 2: (1 đ) Tìm y : $y \times 4 = 28$

- A . $y = 112$ B . $y = 26$ C . $y = 7$ D . $y = 8$

Bài 3: (1 đ) $24 \text{ giờ} : 4 =$

- A . 4 B . 6 C . 4 giờ D . 6 giờ

Bài 4 : Khoanh tròn vào chữ cái đặt trước số thích hợp điền vào chỗ chấm

2 giờ = phút

- a. 120 b. 60 c. 90 d. 20

Bài 5 : Khoanh tròn vào chữ cái đặt trước kết quả đúng điền vào chỗ chấm

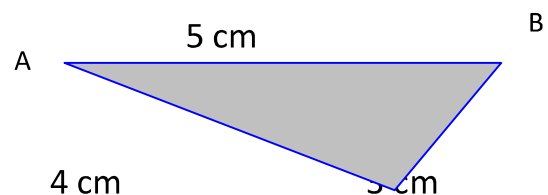
$9 \text{ kg} : 3 =$

- a. 12 kg b. 6 kg c. 3 kg d. 27 kg

Bài 6: Chu vi của hình tam giác ABC là

A. 13

B. 12



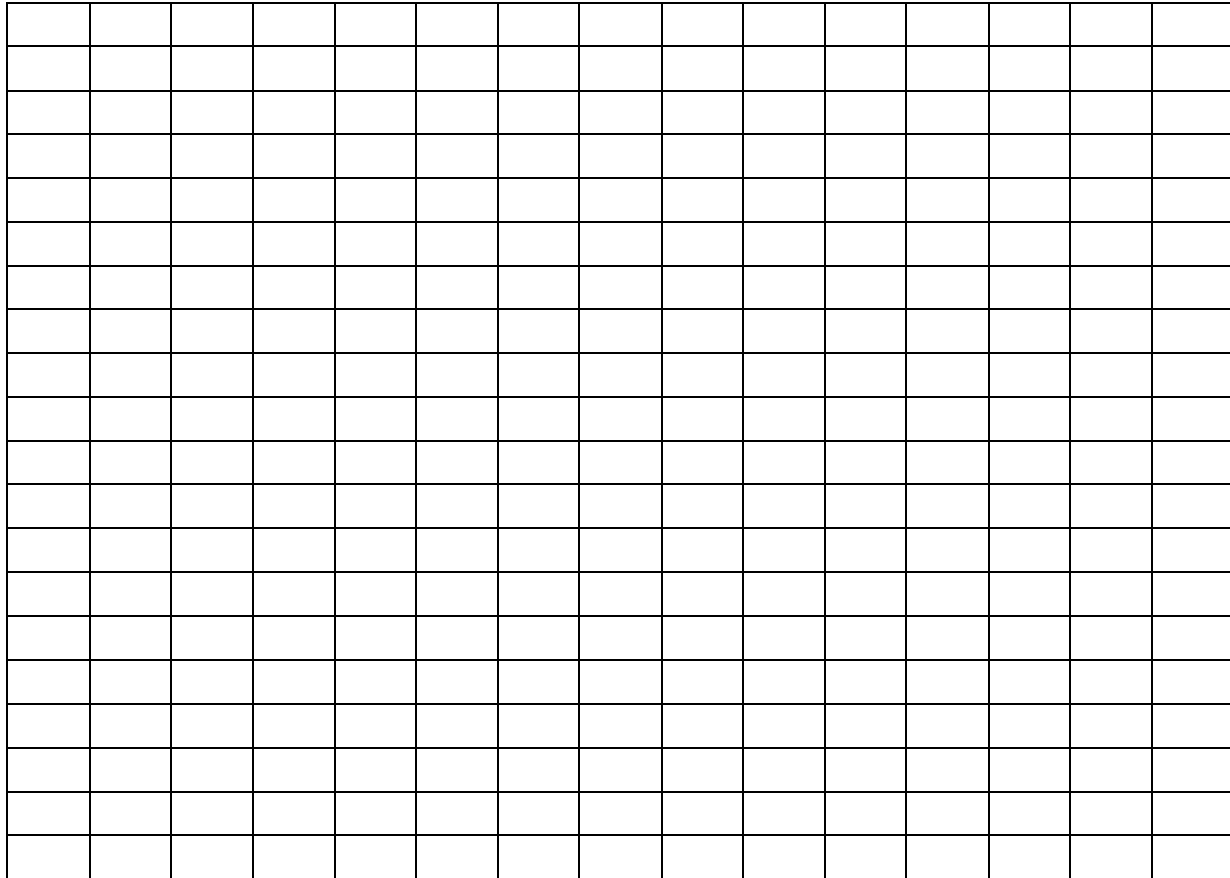
b) $2 \times 9 - 18 =$

.....
.....

d) $7 + 3 \times 7 =$

.....
.....

Bài 3: (1,5 đ) Có 35 quả cam xếp vào các đĩa , mỗi đĩa 5 quả . Hỏi xếp được vào mấy đĩa ?



Bài 4 (0,5 đ) *Hình bên có Tam giác?*

