

$$2 \times 8 =$$

### Bài 2 : Tính

$$6 \times 8 - 40$$

$$= 48 - 40 = 8$$

$$7 \times 3 + 9$$

$$= 21 + 9 = 30$$

### Bài 3 : Tìm x

$$x - 28 = 72 \quad 100 - x = 55 \quad x + 36 = 95$$

### Bài 4 : Bài toán

Nhà Tý nuôi 2 con mèo và 6 con gà . Hỏi có tất cả bao nhiêu chân mèo và gà ?

Bài giải

Một con mèo có 4 cái chân nên số chân của mèo là :

$$4 \times 2 = 8 \text{ ( chân )}$$

Một con gà có 2 chân nên số chân gà là :

$$2 \times 6 = 12 \text{ ( chân )}$$

Cả mèo và gà có số chân là :

$$8 + 12 = 20 \text{ ( chân )}$$

Đáp số : 20 chân

### Bài 5 : Viết các phép cộng sau thành các phép nhân :

$$8 + 8 + 8 + \dots + 8 = 8 \times 9$$

có 9 số hạng

$$a + a + a + \dots + a = a \times 7$$

có 7 số hạng

$$b + b + b + \dots + b = b \times n$$

có n số hạng

## TIẾNG VIỆT

### Đề luyện tập 8

#### I. Chính tả ( Nghe viết )

- Nghe và viết bài " Chuyện bốn mùa "

## II . Luyện từ và câu

1 . Em hãy viết tên các tháng trong năm và nối tên tháng với tên mùa:

Mùa xuân	Mùa hạ
Tháng...tháng tháng	Tháng...tháng tháng
Mùa thu	Mùa đông
Tháng ...tháng tháng	Tháng...tháng tháng

2. Tìm dấu câu dùng sai trong câu sau và sửa lại cho đúng:

Sau những buổi mò tôm bắt ốc, Cò lại, đậu trên ngọn, tre giờ sách ra đọc.

Sửa lại : Sau những buổi mò tôm bắt ốc, Cò lại đậu trên ngọn tre giờ sách ra đọc .

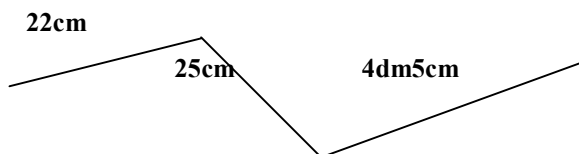
## III . Tập làm văn

Viết một đoạn văn ngắn kể về một người thân của em .

# TOÁN

## Đề luyện tập 9

Bài 1 : Tính độ dài của đường gấp khúc:



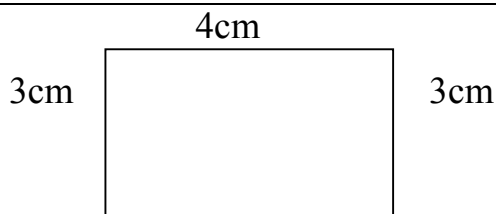
Đổi  $4\text{dm}5\text{cm} = 40\text{cm} + 5\text{cm} = 45\text{cm}$

Độ dài đường gấp khúc là :

$$22 + 25 + 45 = 92(\text{ cm })$$

Đáp số : 92 cm

Bài 2 : tính độ dài của đường gấp khúc



Bài giải

Độ dài đường gấp khúc là :

$$3 + 4 + 3 + 4 = 14 \text{ (cm)}$$

Đáp số : 14 cm

**Bài 3 : nối dãy tính với số thích hợp :**

$$2 \times 7 + 3$$

$$3 \times 4 + 15$$

$$4 \times 6 + 8$$

32

17

27

**Bài 4 : Bài toán**

Điền dấu (x, : ) vào ô trống để được phép tính đúng :

$$4 \square 4 \square 2 = 8$$

$$4 \square 2 \square 2 = 1$$

## TIẾNG VIỆT

### Đề luyện tập 9

#### I. Tập đọc

Đọc bài “**Thông báo của thư viện vườn chim**”

Thông báo của thư viện vườn chim có mấy mục? Hãy nêu tên từng mục .

(Thông báo của thư viện vườn chim có 3 mục : Giờ mở cửa ; Cấp thẻ mượn sách ; Sách mới về)

Muốn biết giờ mở cửa thư viện, đọc mục nào?

( Mục Giờ mở cửa)

Muốn làm thẻ mượn sách, cần đến thư viện vào lúc nào ?

(Muốn làm thẻ mượn sách, cần đến thư viện vào sáng thứ năm hằng tuần )

Mục Sách mới về giúp chúng ta biết điều gì ?

(Mục Sách mới về giúp chúng ta biết tên các sách mới để mua )

## II. Chính tả ( Nghe viết )

- Nghe và viết bài " **Thông báo của thư viện vườn chim**"

## III . Tập làm văn

Viết một đoạn văn ngắn về một loài chim mà em thích .

Ví dụ : Trong vườn nhà em có rất nhiều loài chim. Nhưng em thích nhất là chú chim sâu. Chim sâu nhỏ nhắn, được xếp vào loài bé nhỏ nhất. Chẳng thế chú chuyền từ cành này sang cành khác thật tinh mắt mới phát hiện ra. Cái đầu của chú chỉ bằng một hạt mít, nhỏ hơn hạt sấu riêng. Cái mỏ thì nhỏ xíu nhưng rất nhọn và cứng. Đôi cacsns thì thật là tuyệt diệu, nhỏ mà bay rất nhanh, rất nhẹ, vừa thấy chú đó, thế mà chỉ chớp mắt chú đã biến mất.

\*\*\*\*\*

# TOÁN

## Đề luyện tập 10

### Bài 1 : Tính

$$4 \times 3 + 2 \quad 2 \times 6 - 5 \quad 3 \times 7 + 4$$

**Bài 2 :** Không thực hiện phép tính để tìm kết quả. Hãy điền dấu  $>$   $<$   $=$  thích hợp vào ô trống :

a,  $5 + 5 + 5 \square 5 \times 4$

b,  $4 \times 5 \square 4 + 4 + 4 + 4$

c,  $3 \times 2 + 3 \square 3 \times 2 + 2$

**Bài 3 :** An có 10 hộp bi, mỗi hộp bi có 5 viên bi. An có nhiều hơn Bình 6 viên bi . Hỏi Bình có mấy viên bi ?

Bài giải

Số viên bi của An là :

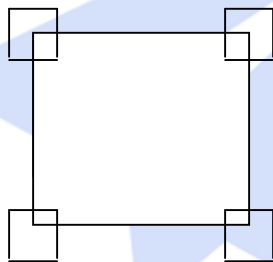
$$5 \times 10 = 50 \text{ (viên bi)}$$

Số viên bi của Bình là :

$$50 - 6 = 44 \text{ (viên bi)}$$

Đáp số : 44 viên bi

**Bài 4 :** Hình dưới đây có bao nhiêu hình vuông



Đáp án : 9 hình vuông

## ***TIẾNG VIỆT***

### **Đề luyện tập 10**

#### **I. Tập đọc**

Đọc bài Chim rừng Tây Nguyên

Trả lời câu hỏi :

? Quanh hồ Y – rơ - pao có những loài chim gì ?

(Chim đại bàng, Thiên nga, chim kơ púc)

? Tìm từ ngữ tả hình dáng, màu sắc, tiếng kêu, hoạt động của từng loài chim :

+ Chim đại bàng : (Màu vàng, mỏ đỏ, chao lượn, vỗ cánh tạo ra những âm tiếng vi vu giống như có hàng trăm chiếc đàn cùng hoà âm)

+ Chim thiên nga:( trắng muốt, đang bơi lội )

+ Chim kơ púc : ( mình đỏ chót, nhỏ như quả ớt, rướn cặp mỏ thanh mảnh, hót lanh lảnh )

## II. Tập làm văn

Dựa vào tranh vẽ trong bài “Cò và Cuốc” hãy tả con cò.

Ví dụ : Bên cạnh bờ sông có một chú cò đang lặn lội bắt tép. Nổi bật nhất là bộ lông trắng phau. Cặp mỏ dài với hàng răng cưa nhỏ khéo léo mò và gắp những con cá, con tôm ăn ngon lành. Đôi chân của cò cũng rất đặc biệt cao và nhỏ như hai cái que. Khi bay hai cái que ấy ruỗi thẳng ra phía sau. Đôi cánh xoải dài, rộng bay vút lên bầu trời trong xanh. Cò là loài vật rất chăm chỉ làm việc và còn rất sạch sẽ nữa .

# TOÁN

## Đề luyện tập 11

**Bài 1 :**

Có một cân đĩa với hai quả cân 1kg và 2kg . Làm thế nào qua hai lần cân, lấy ra được 9kg gạo?

**Hướng dẫn**

Cân lần một: Đặt hai quả cân 1kg và 2kg vào cùng 1 đĩa, cho gạo vào cân còn lại cho đến khi cân thăng bằng, ta được 3kg gạo.

Cân lần hai: Đặt hai quả cân 1kg, 2kg và 3 kg gạo vừa cân được vào đĩa cân, đĩa cân còn lại cho gạo vào cho đến khi cân thăng bằng . Ta được :  $1 + 2 + 3 = 6$  ( kg gạo )

Cả hai lần cân được :  $3 + 6 = 9$  ( kg gạo )

**Bài 2 :**

Điền các số vào ô trống sao cho đủ các số từ 1 đến 9 và tổng các số trong mỗi hàng , trong mỗi cột đều bằng 15

				4	3	8
	5	1		9	5	1
	7			2	7	6

Hướng dẫn :

- Hàng thứ hai:  $5 + 1 = 6$  ;  $15 - 6 = 9$ ; điền số 9 vào ô trống .

- Cột thứ hai :  $5 + 7 = 12$  ;  $15 - 12 = 3$ ; điền số 3 vào ô trống .

Ta có 5 số lẻ đã được điền vào các ô trống, 4 ô còn lại sẽ được điền bởi các số 2, 4, 6, 8.

- Xét ô trống thứ nhất ở cột thứ nhất :

+ Không thể điền số 2 vì nếu điền số 2 thì ô trống còn lại của hàng thứ nhất phải điền 10( không hợp lý)

+ Không thể điền số 6, vì nếu điền số 6 thì ô trống còn lại của hàng thứ nhất phải điền số 6

+ Không thể điền số 8, vì nếu điền số 8 thì tổng của cột thứ nhất lớn hơn 15. Vậy ô này phải điền số 4 .