
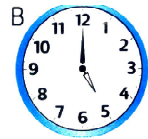








**PHẦN 2:**

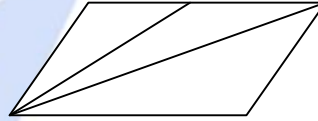
...../ 8 đ

**Câu 1** (1 đ) Vào buổi chiều, hai đồng hồ nào chỉ cùng giờ ?

A  B  C  Đồng hồ A và  
.....  
D  E  G  Đồng hồ B  
và.....  
.....  
Đồng hồ C và

**Câu 2** (1 đ) Hình bên có :

- a) ..... hình tam giác
- b) ..... hình tứ giác



**Câu 3** (2 đ): Đặt tính và tính:

- a)  $58 + 29$
- b)  $91 - 89$
- c)  $52 + 15$
- d)  $100 - 71$

**Câu 4** (1 đ): Tính:

$7 + 79 + 8 =$   
.....

$79 - 21 - 35 =$  .....

$85 - 23 + 16 =$  .....

$20 + 42 - 30 =$  .....

**Câu 5** (1 đ): Tìm X biết a)  $56 - x = 27$

.....  
.....

b)  $x + 18 = 71 - 23$

.....  
.....

.....  
.....  
**Câu 6 (2 đ):** Đoạn thẳng thứ nhất dài 63 dm. Đoạn thẳng thứ hai ngắn hơn đoạn thẳng thứ nhất 14 dm. Hỏi đoạn thẳng thứ hai dài bao nhiêu đề-xi-mét ?

.....  
.....  
.....  
.....  
.....  
.....  
.....  
.....  
.....  
.....

**ĐỀ SỐ 12)**

**Phòng GD&ĐT  
Huyện Lục yên**

**BÀI KIỂM TRA ĐỊNH KÌ CUỐI KÌ 1**

**Môn: TOÁN 2**

**Thời gian làm bài: 40 phút (không kể thời gian giao đề)**

**I/Trắc nghiệm (3 ĐIỂM):** Mỗi bài tập dưới đây có 4 phương án trả lời (là đáp số, kết quả tính, ... ). Em hãy chọn phương án trả lời đúng.

**1. Số 59 đọc là:**

- A. Năm chín      B. Năm mươi chín      C. Chín năm      D. Chín mươi lăm

**2. Ngày 22 tháng 12 năm 2008 là thứ Hai. Ngày đầu tiên của năm 2009 là thứ mấy?**

- A. Thứ Hai      B. Thứ Ba      C. Thứ Tư      D. Thứ Năm

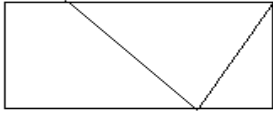
**3. Số lớn nhất có 2 chữ số khác nhau là:**

- A. 99      B. 89      C. 98      D. 100

**4. 92 bằng tổng của hai số nào trong các cặp số sau đây?**

- A. 32 và 50      B. 55 và 47      C. 37 và 55      D. 55 và 47

5. Hình vẽ dưới đây có bao nhiêu hình tứ giác?



A. 2

B. 3

C. 4

D. 5

6. An có 8 viên bi. Hùng có nhiều hơn An 2 viên bi. Hỏi Hùng có bao nhiêu viên bi?

A. 10

B. 10 viên bi

C. 10 (viên bi)

D. 6 viên bi

## II/ PHẦN TỰ LUẬN (7 ĐIỂM)

**Bài 1 (3 điểm):** Đặt tính rồi tính

$36 + 47$	$100 - 65$	$47 + 37$	$94 - 57$

**Bài 2 (1 điểm):** Tìm a, biết:

$$37 + a = 81$$

$$63 - a = 25$$

**Bài 3 (2 điểm):** Một khu vườn có 100 cây đào, sau khi bán đi một số cây đào thì khu vườn còn lại 37 cây đào. Hỏi đã bán bao nhiêu cây đào?

**Bài giải:**

.....

.....

.....

.....

.....

.....

.....

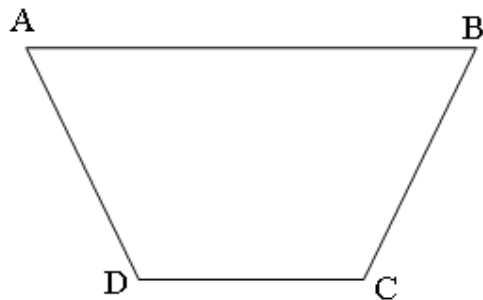
.....

**Bài 4 (1 điểm):**

Hãy vẽ thêm một đoạn thẳng vào hình

bên để có 1 hình tam giác và 2 hình tứ giác. Đọc tên các hình đó?

.....  
.....  
.....  
.....  
.....



**ĐỀ SỐ 13)**

**KIỂM TRA CUỐI HK1 (2014-2015)**

Điểm:

Họ tên HS: .....

**MÔN: Toán lớp 2**

Lớp: .....

**Thời gian: 40 phút**

Trường TH Trần Phú

1.(1 điểm): Viết số thích hợp vào chỗ chấm :

a/ 78 ; 79 ; 80 ; .....; 85

b/ 76 ; 78 ; 80 ; .....; 90

2.(1 điểm): Viết số liền trước, liền sau vào chỗ chấm cho thích hợp:

Số liền trước

Số đã cho

Số liền sau

.....

25

.....

.....

90

.....

3.(1 điểm): Đúng ghi Đ, sai ghi S vào ô trống:

a/  $9 + 7 = 1$

b/  $13 - 8 = 6$

c/  $16 - 9 = 7$

d/  $8 + 9 = 17$

4.(2 điểm): Đặt tính rồi tính :

31 + 15	53 - 28	36 + 26	100 - 36

5.(1 điểm): Tìm x:

$89 - x = 36$

$x + 6 = 45$

.....  
 .....

.....  
 .....

6.(1 điểm): Lớp 2A có 26 học sinh, lớp 2B có nhiều hơn lớp 2A 6 học sinh. Hỏi lớp 2B có bao nhiêu học sinh?

**Giải:**

.....  
 .....  
 .....

7.(2 điểm): Xem tờ lịch tháng 2 dưới đây rồi trả lời câu hỏi :

Tháng	Thứ hai	Thứ ba	Thứ tư	Thứ năm	Thứ sáu	Thứ bảy	Chủ nhật
				1	2	3	4
	5	6	7	8	9	10	11
2	12	13	14	15	16	17	18

19	20	21	22	23	24	25
26	27	28				

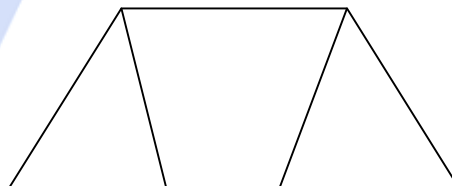
Trong tháng 2:

- Có ..... ngày thứ năm.
- Các ngày thứ năm là:.....
- Ngày 17 tháng hai là ngày thứ :.....
- Có tất cả ..... ngày.

8.(1điểm): Viết số thích hợp vào chỗ chấm:

Hình vẽ bên :

- Có ..... hình tam giác
- Có ..... hình tứ giác



**ĐỀ SỐ 14)**

**KIỂM TRA HỌC KỲ 1**

**NĂM HỌC 2014-2015**

Ngày kiểm tra: 23 - 12 - 2014

Chữ ký giám  
khảo

Số mật mã:

**Môn: TOÁN – Lớp 2**

Thời gian làm bài: 35 phút (Không kể thời gian giao đề)

**Bài 1:** Tính: (2,5 điểm)

a/  $8 + 4 = \dots$        $7 + 9 = \dots$        $15 - 9 = \dots$        $13 - 6 = \dots$

b/  $16 + 5 - 10 = \dots$        $24 - 13 + 4 = \dots$        $51 - 19 - 5 = \dots$

**Bài 2:** Đặt tính rồi tính: (2 điểm)

$47 + 25$

$93 - 28$

$56 + 34$

$100 - 47$

.....

.....

.....

.....

.....

.....

.....

.....