

Đề kiểm tra khảo sát chất lượng HS giỏi

Môn thi: Toán lớp 2

(thời gian HS làm bài : 40 phút)

ĐỀ SỐ 11

Bài 1:

1/ Cho các số : 3,0,5,2

a/ lập các số có hai chữ số khác nhau

b/ Tính tổng các số chẵn chục vừa lập được ở trên

2/ Điền các số thích hợp vào ô trống sao cho tổng các số ở ba ô liền nhau đều bằng 100

		23		31				
--	--	----	--	----	--	--	--	--

Bài 2:

1/ Tìm x biết x là số có một chữ số.

a/ $2 + x > 8$

b/ $7 - x < 3$

2/ Điền số vào chỗ chấm.

a/ $4 \times \dots = 32$

b/ $\dots : 2 + \dots = 36$

c/ $17 < \dots \times 2 < 19$

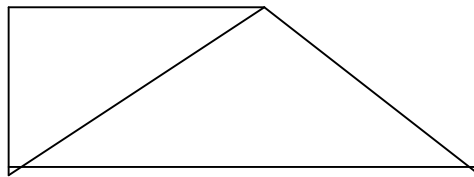
Bài 3: Dũng có 18 viên bi gồm các loại: xanh, đỏ, tím, vàng. Trong đó bi xanh, bi đỏ, bi tím mỗi loại có 4 viên, còn lại là bi vàng. Hỏi Dũng có mấy viên bi vàng ?

Bài 4: Thứ hai tuần này là ngày 12 tháng 3 vậy

a/ Thứ hai tuần sau là ngày mấy?

b/ Thứ hai tuần trước là ngày mấy ?

Bài 5: Cho hình vẽ bên, hãy kẻ thêm một đoạn thẳng để có một hình chữ nhật và 4 hình tam giác.



Đề kiểm tra khảo sát chất lượng HS giỏi
 Môn thi: Toán lớp 2
 (thời gian HS làm bài : 40 phút)
ĐỀ SỐ 12

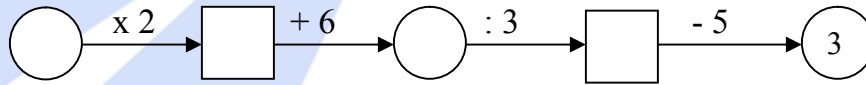
Bài 1: (4 đ).

- 1, Viết số bé nhất có 3 chữ số.
- 2, Viết số lớn nhất có 3 chữ số.
- 3, Viết số có 2 chữ số mà chữ số hàng đơn vị gấp 2 lần chữ số hàng chục.

Bài 2 (5 đ) a, Điền chữ số thích hợp vào ô trống:

$\begin{array}{r} \square \\ + 1 \square \\ \hline \square 6 \end{array}$	$\begin{array}{r} \square \square 2 \\ - 3 \square 4 \\ \hline \square 8 \end{array}$	$\begin{array}{r} \square 7 \\ + \square \\ \hline 8 6 \end{array}$	$\begin{array}{r} \square 3 \\ - 4 \square 3 \\ \hline 2 3 \square \end{array}$
7 3	□ 8	8 6	1 4 □

b, Điền số?



Bài 3(3đ)

- a, Lan sinh vào ngày nào mà cứ 4 năm Lan mới được sinh nhật đúng ngày một lần ?
- b, Thứ hai tuần này là ngày 2 tháng 4. Hỏi thứ năm tuần sau nữa là ngày nào ?

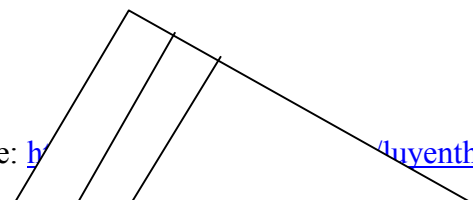
Bài 4(5đ)

Lan và Hà có một số que tính. Lan cho Hà 5 que tính nên số que tính của hai bạn bằng nhau và mỗi bạn có 20 que tính. Hỏi trước khi cho, mỗi bạn có bao nhiêu que tính ?

Tóm tắt

Bài giải

Bài 5 (3đ). Hình vẽ bên có:
hình tam giác.



.....hình tứ giác.



Đề kiểm tra khảo sát chất lượng HS giỏi
Môn thi: Toán lớp 2
(thời gian HS làm bài : 40 phút)
ĐỀ SỐ 13

Bài 1: (6 điểm)

1, Cho các chữ số 0, 1, 3, 5.

a. Các số có hai chữ số khác nhau từ các số trên là:.....

b. Tính tổng của số lớn nhất và số nhỏ nhất trong các số vừa tìm được.

2, Viết tiếp 3 số thích hợp vào ô trống.

1; 2; 3; 5; 8;

Bài 2: (4 điểm).

1, Viết tất cả các số có hai chữ số mà tổng hai chữ số của mỗi số bằng 11.

2, Điền dấu +; - ; = thích hợp vào ô trống.

37 28 5 4 37 8

37 28 5 4

Bài 3: (3 điểm)

Có hai thùng dầu đựng dầu, thùng thứ nhất chứa 51 lít dầu. Nếu đổ từ thùng thứ nhất sang thùng thứ hai 15 lít dầu thì số dầu hai thùng bằng nhau. Hỏi lúc đầu thùng thứ hai chứa bao nhiêu lít dầu?

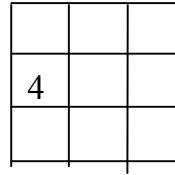
Tóm tắt

Bài giải

.....
.....
.....
.....
.....
.....
.....
.....
.....

.....
.....
Bài 4: (4 điểm)

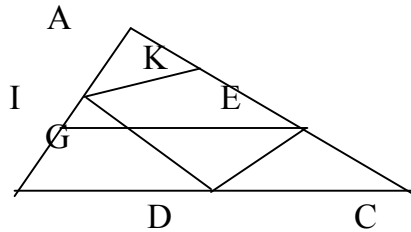
Hình vuông có 9 ô, mỗi ô viết một trong các số từ 0 đến 8. Hãy điền các ô bị xoá, biết rằng tổng các số trên cùng một hàng, một cột, một đường chéo đều có kết quả bằng nhau.



Bài 5: (3 điểm)

Cho hình vẽ sau:

- a, Hình vẽ bên có:.....tứ giác.
b, Hãy kể tên các hình tứ giác đó.....



Đề kiểm tra khảo sát chất lượng HS giỏi

Môn thi: Toán lớp 2

(thời gian HS làm bài : 40 phút)

ĐỀ SỐ 14

Bài 1 : (6 đ)

1, Cho các chữ số : 0,1,2,3.

- a, Lập các số có hai chữ số khác nhau từ các chữ số trên .

- b, Tính tổng các số lớn nhất có hàng chục là 1,2,3; vừa viết được

2, Viết tiếp 3 số thích hợp vào chỗ chấm

1, 2, 3, 5, 8,,,

Bài 2 (5 đ)

1: Tổng lớn nhất của hai số có một chữ số

là:.....

Tổng bé nhất của số có một chữ và số có hai chữ số

là:.....

2, Thứ hai tuần này là ngày 19 tháng 3. vậy ;

Thứ hai tuần trước là ngày

Thứ hai tuần sau là ngày

Bài 3: (5điểm)

Nếu Lan cho Nga 12 nhãn vở thì số nhãn vở của hai bạn bằng nhau và mỗi bạn có 21 nhãn vở. Hỏi trước khi cho Lan có bao nhiêu nhãn vở, Nga có bao

Nhiều nhân vở Nga có bao nhiêu nhân vở.

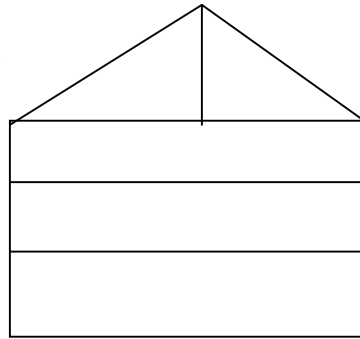
Bài 4: (4 điểm)

1; Hình bên có hình tam giác

Có..... hình tứ giác.

2; Hãy kẻ thêm một đoạn thẳng để hình.....

Bên có 7 hình tam giác .



Đề kiểm tra khảo sát chất lượng HS giỏi

Môn thi: Toán lớp 2

(thời gian HS làm bài : 40 phút)

ĐỀ SỐ 15

Bài 1: (3 điểm)

a) Số liền trước của 223 là, Số liền trước của a là....., Số liền trước của $m + 1$ là:.....

b) Số liền sau của 223 là, Số liền sau của a là....., Số liền sau của $m + 1$ là:.....

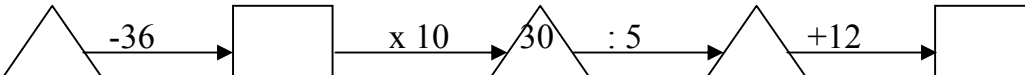
c) Viết tiếp 3 số vào dãy số sau:


3, 6, 9, 12,,,

40, 36, 32, 28,,,

Bài 2: (6 điểm)

Số ?

a) 

b) 

Bài 3: (3 điểm)

Cho hai số có 3 chữ số

a) Hai số đó có cùng số trăm và số chục. Nhưng các số đơn vị hơn kém nhau 5 đơn vị. Hai số đó hơn kém nhau..... đơn vị.

Ví dụ:.....

b) Hai số đó cùng số chục và số đơn vị nhưng hai số trăm hơn kém nhau 3 đơn vị. Hai số đó hơn kém nhau..... đơn vị.

Ví dụ:.....

Bài 4: (5 điểm)

Hà có 40 viên bi gồm hai màu xanh và đỏ. Hà cho Tú 14 viên bi xanh thì Hà còn 12 viên bi xanh. Hỏi Hà có bao nhiêu viên bi đỏ?

Tóm tắt

Bài giải

.....

.....

.....

.....

.....

Bài 5: (3 điểm)

Hình vẽ dưới đây có

- đoạn thẳng
- hình tam giác
- hình tứ giác

