

A. 60

B. 35

C. 55

D. 65

**Câu 16:** Một khu đất hình chữ nhật có chiều dài 4km, chiều rộng ngắn hơn chiều dài 1 km. Khi đó diện tích khu đất đó sẽ bằng

A.  $6\text{km}^2$

B.  $12\text{km}^2$

C.  $4\text{km}^2$

D.  $5\text{km}^2$

**Câu 17:** Số đọc là “Năm mươi nghìn sáu trăm mười hai” được viết là


A. 50612

B. 5612

C. 500612

D. 5000612

**Câu 18:** Phân số nào biểu diễn phần tô đậm của hình bên?



A.  $\frac{5}{3}$

B.  $\frac{3}{5}$

C.  $\frac{8}{5}$

D.  $\frac{5}{8}$

**Câu 19:** Số điền vào chỗ trống trong phép tính  $48 : (2 \times 3) = \dots$  là

A. 8

B. 16

C. 6

D. 24

**Câu 20:** Kết quả của phép tính  $11 \times 45$  bằng

A. 455

B. 485

C. 45

D. 495

**Câu 21:** Các phân số được sắp xếp theo thứ tự từ bé đến lớn là

A.  $\frac{1}{5}; \frac{2}{5}; \frac{4}{5}; \frac{7}{5}$

B.  $\frac{7}{5}; \frac{4}{5}; \frac{2}{5}; \frac{1}{5}$

C.  $\frac{1}{5}; \frac{4}{5}; \frac{7}{5}; \frac{2}{5}$

D.  $\frac{1}{5}; \frac{7}{5}; \frac{2}{5}; \frac{4}{5}$

**Câu 22:** Cho  $a=5$ ,  $b=4$ ,  $c=7$ . Khi đó tổng  $a + b + c$  bằng bao nhiêu

A. 9

B. =12

C. 16

D. 11

**Câu 23:** Có bao nhiêu số có một chữ số?

A. Có 9 số

B. Có 11 số

C. Có 8 số

D. Có 10 số

**Câu 24:** Quy đồng mẫu số hai phân số  $\frac{1}{3}$  và  $\frac{2}{5}$  ta được hai phân số

A.  $\frac{3}{15}$  và  $\frac{10}{15}$

B.  $\frac{1}{8}$  và  $\frac{2}{8}$

C.  $\frac{5}{15}$  và  $\frac{6}{15}$

D.  $\frac{1}{15}$  và  $\frac{2}{15}$

**Câu 25:** Số nào sau đây chia hết cho 5?

A. 476

B. 340

C. 347

D. 444

----- HẾT -----

- Học sinh không được viết, khoanh vào đề này.

- Mỗi câu hỏi chỉ có một phương án đúng. Phương án nào đúng em hãy tô kín một ô tròn tương ứng với phương án trả lời vào Phiếu trả lời trắc nghiệm.

**Câu 1:** Tìm  $x$  biết  $369: x = 123$


A. 1

B. 3

C. 2

D. 4

**Câu 2:** Phân số nào biểu diễn phần tô đậm của hình bên?

A.  $\frac{5}{3}$ B.  $\frac{5}{8}$ C.  $\frac{8}{5}$ D.  $\frac{3}{5}$ 

**Câu 3:** Số đọc là “Năm mươi nghìn sáu trăm mười hai” được viết là

A. 50612

B. 5612

C. 500612

D. 5000612

**Câu 4:** 3 yến = ....kg. Số thích hợp viết vào chỗ chấm là

A. 30

B. 3

C. 300

D. 3000

**Câu 5:** Cho  $a=5$ ,  $b=4$ ,  $c=7$ . Khi đó tổng  $a + b + c$  bằng bao nhiêu

A. 9

B. 16

C. =12

D. 11

**Câu 6:**  $\frac{2}{12} = \frac{\square}{24}$ . Số thích hợp viết vào ô trống là

A. 5

B. 4

C. 3

D. 6

**Câu 7:** Quy đồng mẫu số hai phân số  $\frac{1}{3}$  và  $\frac{2}{5}$  ta được hai phân số

A.  $\frac{1}{15}$  và  $\frac{2}{15}$ B.  $\frac{3}{15}$  và  $\frac{10}{15}$ C.  $\frac{5}{15}$  và  $\frac{6}{15}$ D.  $\frac{1}{8}$  và  $\frac{2}{8}$ 

**Câu 8:** Hình vẽ phù hợp với phân số  $\frac{5}{10}$  là hình nào trong các hình sau?



A.



B.



C.



D.

**Câu 9:** Kết quả của phép tính  $11 \times 45$  bằng

A. 455

B. 45

C. 495

D. 485

**Câu 10:** Có bao nhiêu số có một chữ số?

A. Có 9 số

B. Có 8 số

C. Có 10 số

D. Có 11 số

**Câu 11:** Để số  $20a$  chia hết cho 3 thì  $a$  bằng số nào trong các số sau?

A.  $a=5$ B.  $a=3$ C.  $a=2$ D.  $a=4$ 

**Câu 12:** Tìm  $x$  biết  $x: 11 = 24$ .

A.  $x = 244$ B.  $x = 264$ C.  $x = 24$ D.  $x = 254$ 

**Câu 13:** Lớp 4A có 30 học sinh, số học sinh nữ nhiều hơn số học sinh nam là 6 em. Khi đó lớp 4A có số học sinh nam là

A. 16 em

B. 12 em

C. 14 em

D. 18 em

**Câu 14:** Chọn câu trả lời đúng?

A. Số chia hết cho 3 là số có chữ số hàng chục và hàng đơn vị chia hết cho 3.

B. Số chia hết cho 3 là số có chữ số hàng đơn vị chia hết cho 3.

C. Số chia hết cho 3 là số có tổng các chữ số **không** chia hết cho 3.

D. Số chia hết cho 3 là số có tổng các chữ số chia hết cho 3.

**Câu 15:** Số điền vào chỗ trống trong phép tính  $48 : (2 \times 3) = \dots$  là

- A. 8                                      B. 16                                      C. 6                                      D. 24

**Câu 16:** Số chia hết cho 5 có tận cùng là

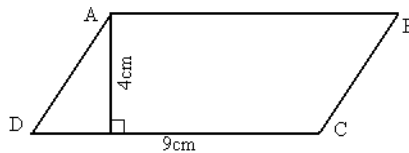
- A. 0 ; 5                                      B. 3 ; 5                                      C. 6 ; 5                                      D. 0 ; 4

**Câu 17:** Số điền vào chỗ trống trong phép tính  $(15 \times 4) : 2 = \dots$  là

- A. 30                                      B. 60                                      C. 4                                      D. 15

**Câu 18:** Hình bình hành ABCD

bên có diện tích là



- A.  $18\text{cm}^2$                                       B.  $9\text{cm}^2$                                       C.  $27\text{cm}^2$                                       D.  $36\text{cm}^2$

**Câu 19:**  $2\text{km}^2 = \dots\dots\dots\text{m}^2$ . Số điền vào chỗ trống là

- A. 2000                                      B. 200000                                      C. 20000                                      D. 2000000

**Câu 20:** 1 phút 5 giây = .... giây. Số thích hợp viết vào chỗ chấm là

- A. 65                                      B. 35                                      C. 60                                      D. 55

**Câu 21:** Trường hợp nào đúng trong các trường hợp dưới đây?

- A.  $\frac{4}{6} > 1$                                       B.  $\frac{14}{7} > \frac{21}{7}$                                       C.  $\frac{2}{5} > \frac{3}{5}$                                       D.  $\frac{1}{2} < \frac{3}{2}$

**Câu 22:** Số nào sau đây chia hết cho 5?

- A. 476                                      B. 347                                      C. 444                                      D. 340

**Câu 23:** Các phân số được sắp xếp theo thứ tự từ bé đến lớn là

- A.  $\frac{1}{5}; \frac{4}{5}; \frac{7}{5}; \frac{2}{5}$                                       B.  $\frac{1}{5}; \frac{7}{5}; \frac{2}{5}; \frac{4}{5}$                                       C.  $\frac{1}{5}; \frac{2}{5}; \frac{4}{5}; \frac{7}{5}$                                       D.  $\frac{7}{5}; \frac{4}{5}; \frac{2}{5}; \frac{1}{5}$

**Câu 24:** Một khu đất hình chữ nhật có chiều dài 4km, chiều rộng ngắn hơn chiều dài 1 km. Khi đó diện tích khu đất đó sẽ bằng

- A.  $5\text{km}^2$                                       B.  $4\text{km}^2$                                       C.  $12\text{km}^2$                                       D.  $6\text{km}^2$

**Câu 25:** Các số 1980; 1976; 1965; 1979 được viết theo thứ tự từ lớn đến bé là


- A. 1965; 1976; 1979; 1980                                      B. 1980; 1976; 1965; 1979  
C. 1980; 1979; 1965; 1976                                      D. 1980; 1979; 1976; 1965

----- HẾT -----

- Học sinh không được viết, khoanh vào đề này.

- Mỗi câu hỏi chỉ có một phương án đúng. Phương án nào đúng em hãy tô kín một ô tròn tương ứng với phương án trả lời vào Phiếu trả lời trắc nghiệm.

**Câu 1:** Phân số nào biểu diễn phần tô đậm của hình bên?



A.  $\frac{3}{5}$

B.  $\frac{5}{8}$

C.  $\frac{5}{3}$

D.  $\frac{8}{5}$

**Câu 2:** Lớp 4A có 30 học sinh, số học sinh nữ nhiều hơn số học sinh nam là 6 em. Khi đó lớp 4A có số học sinh nam là

A. 12 em

B. 16 em

C. 18 em

D. 14 em

**Câu 3:** 1 phút 5 giây = .... giây. Số thích hợp viết vào chỗ chấm là

A. 65

B. 60

C. 55

D. 35

**Câu 4:** Các phân số được sắp xếp theo thứ tự từ bé đến lớn là

A.  $\frac{1}{5}; \frac{2}{5}; \frac{4}{5}; \frac{7}{5}$

B.  $\frac{7}{5}; \frac{4}{5}; \frac{2}{5}; \frac{1}{5}$

C.  $\frac{1}{5}; \frac{7}{5}; \frac{2}{5}; \frac{4}{5}$

D.  $\frac{1}{5}; \frac{4}{5}; \frac{7}{5}; \frac{2}{5}$

**Câu 5:** Chọn câu trả lời đúng?

A. Số chia hết cho 3 là số có chữ số hàng chục và hàng đơn vị chia hết cho 3.

B. Số chia hết cho 3 là số có chữ số hàng đơn vị chia hết cho 3.

C. Số chia hết cho 3 là số có tổng các chữ số chia hết cho 3.

D. Số chia hết cho 3 là số có tổng các chữ số **không** chia hết cho 3.

**Câu 6:** 3 yến = ....kg. Số thích hợp viết vào chỗ chấm là

A. 3

B. 300

C. 3000

D. 30

**Câu 7:** Số điền vào chỗ trống trong phép tính  $(15 \times 4) : 2 = \dots$  là

A. 15

B. 4

C. 30

D. 60

**Câu 8:** Một khu đất hình chữ nhật có chiều dài 4km, chiều rộng ngắn hơn chiều dài 1 km. Khi đó diện tích khu đất đó sẽ bằng

A.  $5\text{km}^2$

B.  $6\text{km}^2$

C.  $4\text{km}^2$

D.  $12\text{km}^2$

**Câu 9:**  $\frac{2}{12} = \frac{\square}{24}$ . Số thích hợp viết vào ô trống là

A. 3

B. 4

C. 5

D. 6

**Câu 10:** Quy đồng mẫu số hai phân số  $\frac{1}{3}$  và  $\frac{2}{5}$  ta được hai phân số

A.  $\frac{1}{15}$  và  $\frac{2}{15}$

B.  $\frac{5}{15}$  và  $\frac{6}{15}$

C.  $\frac{3}{15}$  và  $\frac{10}{15}$

D.  $\frac{1}{8}$  và  $\frac{2}{8}$

**Câu 11:** Trường hợp nào đúng trong các trường hợp dưới đây?

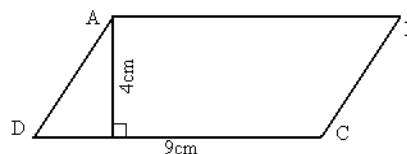
A.  $\frac{1}{2} < \frac{3}{2}$

B.  $\frac{4}{6} > 1$

C.  $\frac{14}{7} > \frac{21}{7}$

D.  $\frac{2}{5} > \frac{3}{5}$

**Câu 12:** Hình bình hành ABCD bên có diện tích là



A.  $9\text{cm}^2$

B.  $18\text{cm}^2$

C.  $36\text{cm}^2$

D.  $27\text{cm}^2$

**Câu 13:** Tìm  $x$  biết  $x: 11 = 24$ .

A.  $x = 254$

B.  $x = 24$

C.  $x = 264$

D.  $x = 244$

**Câu 14:** Có bao nhiêu số có một chữ số?

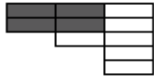
A. Có 11 số

B. Có 8 số

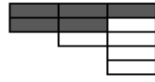
C. Có 10 số

D. Có 9 số

**Câu 15:** Hình vẽ phù hợp với phân số  $\frac{5}{10}$  là hình nào trong các hình sau?



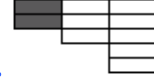
A.



B.



C.



D.

**Câu 16:**  $2\text{km}^2 = \dots\dots\dots\text{m}^2$ . Số điền vào chỗ trống là

A. 200000

B. 20000

C. 2000

D. 2000000

**Câu 17:** Số chia hết cho 5 có tận cùng là

A. 0 ; 5

B. 3 ; 5

C. 6 ; 5

D. 0 ; 4

**Câu 18:** Kết quả của phép tính  $11 \times 45$  bằng

A. 455

B. 485

C. 45

D. 495

**Câu 19:** Số nào sau đây chia hết cho 5?

A. 340

B. 444

C. 476

D. 347

**Câu 20:** Tìm  $x$  biết  $369: x = 123$

A. 1

B. 3

C. 4

D. 2

**Câu 21:** Cho  $a=5$ ,  $b=4$ ,  $c=7$ . Khi đó tổng  $a + b + c$  bằng bao nhiêu

A. 9

B. 11

C. =12

D. 16

**Câu 22:** Số đọc là “Năm mươi nghìn sáu trăm mười hai” được viết là

A. 5612

B. 500612

C. 50612

D. 5000612

**Câu 23:** Số điền vào chỗ trống trong phép tính  $48 : (2 \times 3) = \dots$  là

A. 16

B. 8

C. 6

D. 24

**Câu 24:** Để số  $20a$  chia hết cho 3 thì  $a$  bằng số nào trong các số sau?

A.  $a=2$ B.  $a=3$ C.  $a=5$ D.  $a=4$ 

**Câu 25:** Các số 1980; 1976; 1965; 1979 được viết theo thứ tự từ lớn đến bé là

A. 1965; 1976; 1979; 1980

B. 1980; 1976; 1965; 1979

C. 1980; 1979; 1965; 1976

D. 1980; 1979; 1976; 1965

----- HẾT -----