

c) $93 - 2$ $97 - 53$ d) 98 $96 - 6$

Câu 3: (4 điểm) Năm nay chị An 15 tuổi, chị An nhiều hơn An 7 tuổi. Hỏi năm nay An bao nhiêu tuổi?

Bài giải

Câu 4: (2 điểm)
Có 7 con trâu, bò, ngựa. Biết rằng số trâu nhiều hơn số bò, số ngựa ít hơn số bò. Hãy điền số vào ô trống?

C con trâu, c con ngựa.

Hết

ĐỀ 3

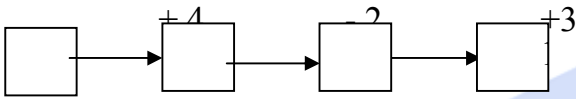
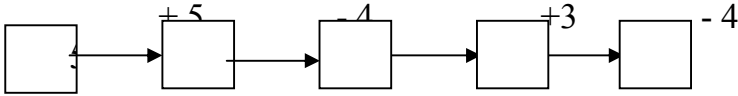
Bài 1: (1 điểm) Điền dấu +, - vào □ :

$$11 \square 2 \square 9 \square 10 = 10$$

$$18 \square 9 \square 3 \square 5 = 1$$

Bài 2: (3 điểm) Điền số:

a/ (1 điểm) Điền số vào ô trống.



b/ (1 điểm) Điền số vào ô trống sao cho:

$$3 + 12 - 4 \square - 5 < 15$$

c/ Điền số vào ô trống để khi cộng 4 với ô liền nhau bất kỳ đều có kết quả bằng 12.

□	□	□	□	□	3	1	□	2
---	---	---	---	---	---	---	---	---

Bài 3: (1 điểm) Thứ hai tuần này là ngày 17 tháng 3. Thứ hai tuần trước là ngày Thứ hai tuần sau là ngày trong tháng.

Bài 4: (2 điểm) Lớp 1A có 35 học sinh, lớp 1B có số học sinh ít hơn lớp 1A là 4 em.

a/ Lớp 1 B có bao nhiêu học sinh

b/ Cả hai lớp có bao nhiêu học sinh?

.....

.....

.....

.....

.....

.....

.....

Bài 5: (1 điểm) Số kẹo của Lan là số nhỏ nhất có 2 chữ số giống nhau. Lan cho Hoa số kẹo là số chẵn nhỏ nhất có 2 chữ số. Hỏi Lan còn bao nhiêu cái kẹo?

.....

.....

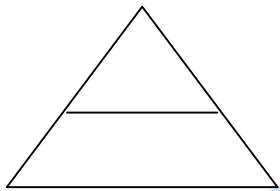
.....

.....
.....
.....
Bài 6: (1 điểm) Viết tiếp 3 số vào các dãy số sau:

a/ 3, 6, 9, 12.....,.....,.....

b/ 40, 36, 32, 28.....,.....,.....

Bài 7: (0,25 điểm) Kẻ thêm 1 đoạn thẳng để hình dưới có 3 tam giác, 3 tứ giác.



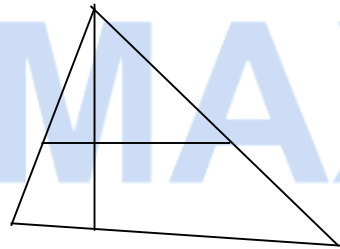
Bài 8: (0,75 điểm)

Hình vẽ dưới đây có

..... hình tứ giác

..... hình tam giác

..... đoạn thẳng



Bài 3- Hoà 6 tuổi, Bình ít hơn Hoà 2 tuổi Nga nhiều hơn Bình 1 tuổi. Hỏi bạn Nga bao nhiêu tuổi? (4 điểm)

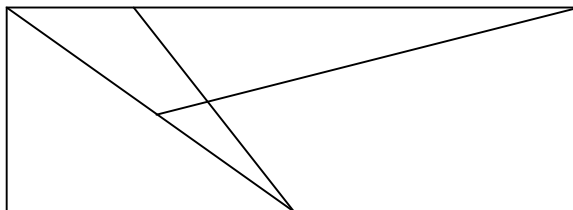
.....
.....
.....
.....

Bài 4- Cho bốn số 2,4,6, 0 . Hãy dùng dấu + , - , = để viết thành các phép tính đúng (4 điểm)

.....

.....
.
.....
.

Bài 5. (1 điểm) Hình dưới đây có bao nhiêu tam giác?



Có.... hình tam giác.

Bài 5- Hãy điền dấu + , - vào ô trống cho thích hợp để phép tính có kết quả đúng (2 điểm)

$$11111 = 1$$

$$11111 = 3$$

60. Hãy cho biết có tất cả bao nhiêu số có 2 chữ số từ 45 đến 68.

61. Nếu thứ sáu tuần này là 20. Hỏi thứ tư tuần sau là ngày...

62. Lan có 48 con tem, Lan tặng Hoa và Hồng mỗi người 12 con tem. Hỏi Lan còn lại bao nhiêu con tem ?

63. Viết số lớn nhất có 2 chữ số mà 2 chữ số đó cộng lại bằng 9.

64. Sau khi An cho Bình 10 viên bi, Cường cho An 15 viên bi thì mỗi bạn cùng có 38 viên. Hỏi lúc đầu An có bao nhiêu viên bi?

65. Sau khi Hồng tặng Hà 15 con tem , rồi Hà Tặng Hồng 10 con tem thì mỗi bạn đều có 30 con tem. Hỏi ban đầu Hồng có bao nhiêu con tem?

66. Ban đầu dưới sông có 75 con vịt. Sau đó có 20 con vịt từ dưới sông lên bờ và thêm 12 con từ trên bờ xuống sông. Hỏi bây giờ dưới sông có bao nhiêu con?

67. Số A trừ đi 32 bằng 89 trừ 57. Số A là.

68. Viết số lớn nhất có 2 chữ số mà 2 chữ số của số đó trừ cho nhau bằng 5?

69. Viết số lớn nhất có 2 chữ số mà 2 chữ số của số đó cộng lại bằng 10 ?

70. Viết số lớn nhất có 2 chữ số mà 2 chữ số của số đó trừ cho nhau bằng 6 ?

71. Tính:

a, $31 + 17 - 23 =$

b, $41 + \dots = 59$

c, $86 - 71 + 23 =$

d, $\dots + 26 - 31 = 27$

e, $\dots + 35 - 46 = 33$

$100 - 45 - 35 =$

