

Có mấy cách để cắm 7 bông hoa vào 2 cái bình (để mỗi bình đều có hoa)

- a . 7 cách b . 5 cách
c . 3 cách d . 1 cách

PHẦN B - TRÌNH BÀY BÀI GIẢI

Bài 1. điền số thích hợp vào ô trống để khi cộng 4 số ở 4 ô liên tiếp bất kì đều có kết quả là 96.

							94			
--	--	--	--	--	--	--	----	--	--	--

Bài 2.a/ Năm khoe với Bốn: “ Ba năm nữa thì mình có số tuổi bằng số lớn nhất có một chữ số” . Hỏi hiện nay bạn Năm lên mấy?

Tóm tắt

Bài giải

b/ Thu và Lý có một số nhãn vở. Nếu Thu cho Lý 3 cái thì hai bạn có số nhãn vở bằng nhau và mỗi bạn có 10 cái . Hỏi khi chưa cho Lý kém Thu mấy cái nhãn vở?

Hoàn thành tóm tắt sau:

Bài giải



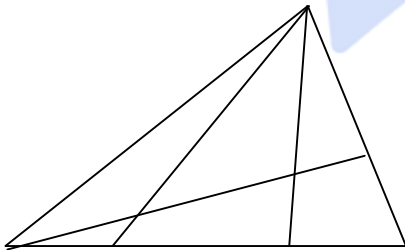
Bài 3.a/ Hình bên có số hình tam giác là:

(A) . 15

(B) . 12

(C) . 13

(D) . 14



- Điền dấu (+ , -)

$$39 \dots 38 \dots 90 \dots 61 = 30$$

- Viết số liền sau của số nhỏ nhất có hai chữ số :

- Viết số liền trước của số lớn nhất có hai chữ số:

- Viết các số chẵn chục đã học theo thứ tự từ lớn đến bé :

- Viết các số bé hơn 100 nhưng lớn hơn 95 theo thứ tự giảm dần:

BÀI KIỂM TRA HỌC SINH GIỎI TOÁN 1

47

(Thời gian làm bài 40 phút)

Họ và tên :Lớp :

PHẦN A - TRẮC NGHIỆM

1. Đúng ghi Đ, sai ghi S vào ô trống:

34 giờ - 10 giờ = 1 ngày

Có 9 số lớn hơn 20 và nhỏ hơn 29

$89 < 99 > 100$

Có 10 số gồm hai chữ số giống nhau .

$$X + Y + 70 \quad \square \quad X + 80 + Y$$

Dấu cần điền vào ô vuông là:

a . = b . <

c . > ; d. Không có dấu nào

Năm nay mẹ em 27 tuổi. Sau 2 năm nữa mẹ em có số tuổi là:	a. 28 c. 30	b. 29 d. 31
Tùng nghĩ ra một số ; biết rằng lấy 42 cộng với số đó rồi trừ đi 35 thì được kết quả bằng 31. Số Tùng nghĩ là:	a. 24 c. 56	b. 66 d. 42
Lan có 8 cái nơ , Phượng có 6 cái nơ. Hỏi Lan phải cho Phượng mấy cái nơ để hai bạn có số nơ bằng nhau?	a. 2 cái nơ c. 14 cái nơ	b. 1 cái nơ d. 6 cái nơ

PHẦN B - TRÌNH BÀY BÀI GIẢI

Bài 1: a/ Xét xem N có thể bằng bao nhiêu trong mỗi câu sau:

$$N - 15 < 3$$

$$29 > 4 + N > 24$$

$$N - 3 - 5 < 4$$

N =

N =

N =

b Số? $28 + 2 + 6 = \dots + 28$

$10 = \dots - 10$

$34 - \dots + 36 = 36$

$4 = \dots - 4$

Bài 2:a/ Ngày hôm kia là thứ bảy . Hỏi hôm nay là thứ mấy? Ngày kia là thứ mấy?
Hôm nay là:..... Ngày kia là:.....

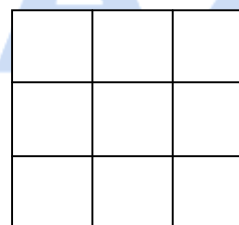
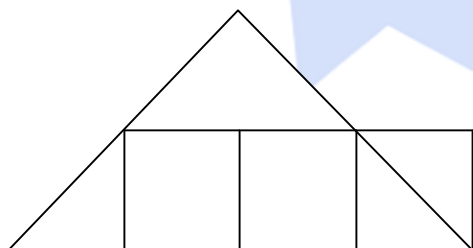
b/ Hình sau có:
điền

..... hình tam giác.

..... hình vuông.

c/ Cho ba số 13, ba số 12, ba số 14 . Hãy

vào các ô sao cho khi cộng các số theo hàng theo cột đều có kết quả bằng nhau và bằng 39.



Bài 3: Tài và Lộc có một số kẹo. Nếu Tài cho Lộc 4 cái kẹo thì số kẹo của hai bạn bằng nhau. Hỏi lúc đầu Lộc ít hơn Tài mấy cái kẹo?

Hoàn thành tóm

Bài giải

Tài |-----|-----|-----|

Lộc |-----|-----|.....|

.....
.....
.....

BÀI



KIỂM TRA ĐỊNH KÌ CUỐI HỌC KÌ II
Năm học : 2012 – 2013
Môn toán lớp 1

Họ và tên :Lớp :

Bài 1. Đúng ghi Đ, sai ghi S vào ô trống:

- 4 que tính nhiều hơn 3 que tính nên $4 > 3$; $14 < 20 < 19$;
 Hai quả cam lớn nặng hơn 3 quả cam nhỏ nên $2 > 3$; $12 < 14 < 15$

Bài 2. a. Ghi cách đọc số, viết số và cấu tạo số

Đọc số	Viết số	Số gồm
Ba mươi tư	3 chục và 4 đơn vị
.....	5.....chục và 7 đơn vị
.....mười một	6 chục và
.....	1 chục và 5 đơn vị
.....	96

b. Viết các số đã học có hàng đơn vị là 9 theo thứ tự từ lớn đến bé là:

Bài 3. a. Đặt tính rồi tính

$45 + 24$	$95 - 54$	$5 + 62$	$100 - 30$	$20 + 80$
.....
.....
.....

b. Tính : $6 + 43 - 7 = \dots\dots$ $85 - 14 - 21 = \dots\dots$ $69 \text{ cm} - 35 \text{ cm} = \dots\dots$

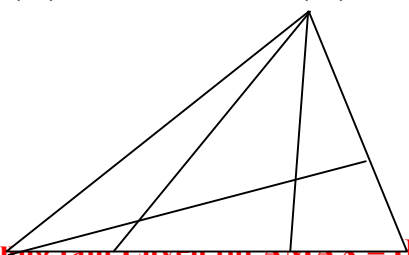
Bài 4. Cô giáo có 29 quyển vở . Cô thưởng cho 24 bạn học sinh giỏi mỗi bạn 1 quyển vở. Hỏi cô giáo còn lại bao nhiêu quyển vở?

Tóm tắt

Bài giải

Bài 5.a/ Hình bên có số hình tam giác là:
 (Khoanh vào chữ cái trước ý trả lời đúng)

- (A) . 15 (B) . 12
 (C) . 13 (D) . 16



Bài 6: * Điền dấu (+, -)

$39 \dots\dots 38 \dots\dots 90 \dots\dots 61 \dots\dots = 30$

* Số?

$22 = \dots\dots - 22$ $0 = \dots\dots - 99$

$7 + a = 7 - \dots\dots$ $b + 13 - b = \dots\dots$

$52 - \dots\dots + 90 = 100$

* Một tuần lễ có ngày. em đi Học ngày đó là các ngày:.....

.....

KIỂM TRA ĐỊNH KÌ CUỐI HỌC KÌ II

Năm học : 2012 – 2013

Môn Tiếng Việt lớp 1

Họ và tên :Lớp 1.....

Bài 1: Ghi dấu(✓) trước ý em cho là đúng .

- rịu dàng cây xanh mong muống lẩn nót Tổ quốc
 dịu dàng cây sanh mong muốn nắn nót con cuốc

Bài2: Đúng ghi Đ , sai ghi S

- Các nguyên âm đôi trong tiếng Việt là:

- ua , uô, iê , yê , iơ uô, ươ, iê, (yê) uô, ươ, iê, oa

- Ngày sinh nhật Bác Hồ là ngày :

- 22 – 4 19 – 4 15 – 5 19 – 5

- Tiếng nào không đủ các bộ phận:

- Quyên âm cá ã

- Người viết lên những bản nhạc hay là:

- Hoạ sĩ ca sĩ nhạc sĩ bác sĩ

- Tiếng **quyển** gồm:

- 4 âm 4 chữ cái 4 âm 5 chữ cái 3 âm 5 chữ cái

Bài 3.a. Cho các từ: **Lan, bố, là, đảo xa, ở, bộ đội** .Hãy xếp thành 1 câu có nghĩa

b. Điền từ vào chỗ chấm cho thích hợp. (**sạch sẽ, tắm rửa, dài , rửa tay**)

* Để thân thể luôn, em phảihàng ngày. Không để móng tay , móng chân Phảitrước khi ăn và sau khi đi vệ sinh.

* Muốn học tốt , ngồi trong lớp em cần phải

.....

Bài 3 : Viết chính tả : Đám sen

-
-
- * Bài viết trên cócâu . Chữ cái đầu câu sau dấu chấm em phải viết
 - * Tìm trong bài chính tả những chữ bắt đầu bằng âm
 - n :
 - nh:

