


Câu 58. Đoạn thẳng AB dài 100 cm. M là trung điểm của đoạn AB, còn N là trung điểm của đoạn AM. Đoạn thẳng MN có độ dài là:

- A. 75 cm B. 25 cm C. 48 cm D. 50 cm

Câu 59.



Biết cạnh của mỗi ô vuông trong hình vẽ trên đều dài 1cm. Em hãy tìm xem có bao nhiêu đường gấp khúc đi từ A tới B dài 6 cm.

- A. 4 đường B. 2 đường C. 3 đường D. 5 đường

Câu 60. Tìm x biết: $2002 : x = 7$ $x = ?$

- A. 268 B. 178 C. 276 D. 286

Câu 61. Biết: $A = 36 : a$; $B = 42 : a$ Hãy so sánh A và B:

- A. $A = B$ B. $B > A$ C. Không thể so sánh được D. $A > B$

Câu 62. Số lớn nhất trong các số: 85732; 85723; 78523; 78352 là:

- A. 78352 B. 78523 C. 85723 D. 85732

Câu 63. Biết $x < 7$ và x là số chẵn. Vậy x có thể là:

- A. 2 và 0 B. 0, 2, 4 và 6 C. 4 và 6 D. 2, 4 và 6

Câu 64. Số 54 175 đọc là:

- A. Năm mươi bốn nghìn một trăm năm mươi bảy.
 B. Năm mươi bốn nghìn bảy trăm mười lăm.
 C. Năm mươi bốn nghìn một trăm bảy mươi lăm.
 D. Năm mươi bốn nghìn một trăm bảy lăm.

Câu 65. Số 2 434 đọc là:

- A. Hai nghìn ba trăm bốn mươi bốn. B. Hai nghìn bốn trăm ba mươi bốn.
 C. Bốn nghìn hai trăm ba mươi bốn. D. Bốn trăm ba mươi bốn.

Câu 66. Có 3 hộp bánh, mỗi hộp có 4 gói bánh, mỗi gói có 6 cái bánh. Hỏi tất cả có bao

nhiều cái bánh?

- A. 13 cái B. 48 cái C. 72 cái D. 18 cái

Câu 67. Số lẻ bé nhất có 5 chữ số khác nhau là:

- A. 12345 B. 11111 C. 10001 D. 10235

Câu 68. Viết 1 số có 5 chữ số khác nhau biết chữ số hàng nghìn gấp 3 lần chữ số hàng chục còn chữ số hàng trăm bằng $\frac{1}{4}$ chữ số hàng đơn vị. Số đó là:

- A. 29238 B. 39134 C. 56228 D. 56124

Câu 69. Viết tất cả các số có 2 chữ số thì phải viết chữ số 9 bao nhiêu lần:

- A. 9 lần B. 10 lần C. 18 lần D. 19 lần

Câu 70. Tìm số dư của phép chia: $29 : 6$

- A. 3 B. 1 C. 2 D. 5

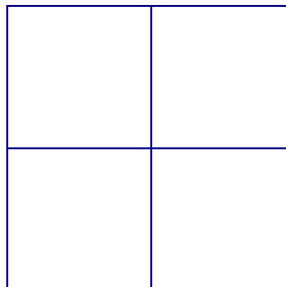
Câu 71. Bạn Hồng làm xong bài Toán về nhà trong 17 phút. Bạn Mai làm xong bài Toán đó trong $\frac{1}{3}$ giờ. Bạn Huệ làm xong bài Toán đó trong $\frac{1}{4}$ giờ. Bạn Lan làm xong bài Toán đó trong 19 phút. Hỏi ai làm nhanh nhất?

- A. Bạn Hồng B. Bạn Lan C. Bạn Huệ D. Bạn Mai

Câu 72. Số nào trong các số dưới đây mà khi quay ngược lại giá trị của số đó sẽ thay đổi

- A. 986 B. 608 C. 609 D. 888

Câu 73.

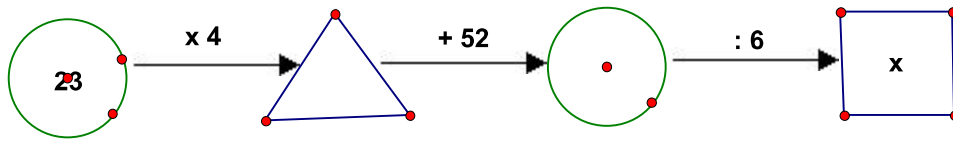


Biết cạnh của mỗi ô vuông trong hình trên đều dài 1cm. Tổng diện tích của tất cả các hình vuông có trong hình trên là:

- A. 24 cm^2 B. 8 cm^2 C. 4 cm^2 D. 16 cm^2

Câu

74.



Số cần điền vào vị trí của x là:

- A. 24 B. 23 C. 21 D. 22

Câu 75. Số bị chia gấp 3 lần thương, thương gấp 3 lần số chia. Số bị chia là:

- A. 18 B. 24 C. 9 D. 27

Câu 76. Một giờ gấp 5 phút số lần là:

- A. 20 lần B. 15 lần C. 10 lần D. 12 lần

Câu 77. Tìm một số biết rằng lấy số đó cộng với 45 thì bằng 100 trừ đi 27? Số cần tìm là:

- A. 73 B. 38 C. 28 D. 27

Câu 78. 1 hm = ... m. Số thích hợp điền vào chỗ chấm là:

- A. 100 B. 1 C. 10 D. 1000

Câu 79. Ngăn trên có 9 cuốn sách, ngăn dưới có 12 cuốn sách. Hỏi phải chuyển từ ngăn trên xuống ngăn dưới bao nhiêu cuốn sách để số sách ở ngăn dưới gấp đôi số sách ở ngăn trên.

- A. 3 cuốn B. 5 cuốn C. 2 cuốn D. 4 cuốn

Câu 80. Thùng thứ nhất đựng 78 lít sữa. Thùng thứ 2 đựng ít hơn thùng thứ nhất 9 lít nhưng nhiều hơn thùng thứ ba 7 lít. Hỏi cả ba thùng đựng bao nhiêu lít sữa?

- A. 109 lít B. 216 lít C. 218 lít D. 209 lít

Câu 81. Có bao nhiêu số có 2 chữ số mà chữ số hàng đơn vị là 7:

- A. 8 số B. 10 số C. 7 số D. 9 số

Câu 82. Chữ số 5 ở số 45 678 thuộc hàng nào?

- A. Hàng nghìn B. Hàng chục nghìn C. Hàng chục D. Hàng trăm

Câu 83. Một số khi chia cho 6 thì được thương là 8. Hỏi số đó đem chia cho 4 thì được thương là bao nhiêu?

- A. 10 B. 12 C. 2 D. 8

Câu 84. 3km 12m = m Số cần điền vào chỗ chấm là:

- A. 312 B. 15 C. 3012 D. 36

Câu 85. Tìm x, biết: $182 : x = 7$

- A. 24 B. 175 C. 26 D. 1274

Câu 86. Chu vi hình chữ nhật có chiều dài 20cm, chiều rộng 18cm là:

- A. 38cm B. 56cm C. 29cm D. 76 cm

Câu 87. Thứ hai tuần này là ngày 25, thứ hai tuần trước là ngày

- A. 19 B. 18 C. 16 D. 17

Câu 88. Số gồm: 47 trăm, 5 chục, 18 đơn vị viết là:

- A. 4768 B. 6748 C. 7648 D. 4758

Câu 89. Một gia đình nuôi thỏ nhốt đều số thỏ nuôi vào 5 chuồng. Em đếm số thỏ trong 2 chuồng thì được 10 con. Hỏi gia đình đó nuôi bao nhiêu con thỏ?

- A. 25 con B. 12 con C. 20 con D. 15 con

Câu 90. Chị em năm nay 15 tuổi, 3 năm trước tuổi em bằng $\frac{1}{2}$ tuổi chị. Hỏi năm nay em bao nhiêu tuổi?

- A. 6 tuổi B. 12 tuổi C. 5 tuổi D. 9 tuổi

Câu 91. Có bao nhiêu số chẵn có 2 chữ số khác nhau:

- A. 50 số B. 40 số C. 41 số D. 45 số

Câu 92. Số chẵn liền trước của số 99 000 là:

- A. 99 898 B. 98 999 C. 98 998 D. 98 898

Câu 93. Trong phép chia một số tự nhiên bất kì cho 3. Số dư lớn nhất có thể có là:

- A. 3 B. 1 C. 4 D. 2

Câu 94. Ngày thứ nhất bán được 2358 kg gạo, ngày thứ hai bán được gấp 3 lần ngày thứ nhất. Ngày thứ hai bán được số kg gạo là:

- A. 7074 kg B. 8074 kg C. 6074 kg. D. 7704 kg

Câu 95. Biết: $A = 67 \times a$; $B = 76 \times a$ Hãy so sánh A và B:

- A. Không thể so sánh được B. $A = B$ C. $A > B$ D. $B > A$

Câu 96.



Đồng hồ chỉ bao nhiêu giờ, bao nhiêu phút

- A. 8 giờ 35 phút B. 8 giờ 7 phút C. 7 giờ 40 phút D. 7 giờ 35 phút

Câu 97. Dãy số: 1, 4, 7, 10, 13, ..., 100 có số lượng số hạng là:

- A. 34 số B. 50 số C. 33 số D. 30 số

Câu 98. Có 45 kg bột mì đựng đều trong 9 bao. Hỏi 75 kg bột mì đựng trong mấy bao?

- A. 54 bao B. 15 bao C. 84 bao D. 36 bao

Câu 99. Mỗi bông hoa có giá tiền là 1.500 đồng. Vậy để mua 10 bông hoa, cần trả bao nhiêu tiền?

- A. 1.500 đồng B. 15.000 đồng C. 4.500 đồng D. 19.500 đồng

Câu 100. Một miếng bìa hình chữ nhật có chiều dài là 12 cm, chiều rộng bằng $\frac{1}{3}$ chiều dài. Chu vi hình chữ nhật đó là:

- A. 32 cm B. 16 cm C. 18 cm D. 36 cm

Câu 101. Tuổi mẹ kém tuổi bố 4 tuổi. Tuổi bố gấp 4 lần tuổi con. Năm nay mẹ 32 tuổi. Hỏi con bao nhiêu tuổi?

- A. 8 tuổi B. 9 tuổi C. 5 tuổi D. 10 tuổi

Câu 102. Cho 4 chữ số: 1, 2, 3, 4. Từ 4 chữ số đó viết được bao nhiêu số chẵn có 3 chữ số khác nhau

- A. 15 số B. 24 số C. 12 số D. 10 số

Câu 103. Học có nhiều hơn Giải 18 viên bi. Hỏi Học phải cho Giải bao nhiêu viên bi để số bi của 2 bạn bằng nhau?

- A. 9 viên B. 10 viên C. 8 viên D. 18 viên

Câu 104. Muốn may 3 bộ quần áo thì cần 12 m vải. Hỏi nếu may 5 bộ quần áo như thế thì cần bao nhiêu mét vải?

- A. 20m B. 9m C. 10m D. 17m

Câu 105. Cho $A = 3275 + 4618$ và $B = 4215 + 3678$. Không làm tính cụ thể, hãy so sánh tổng A với B

- A. $A > B$ B. $A = B$ C. Không thể so sánh được D. $A < B$

Câu 106. Khi mẹ sinh con thì mẹ 24 tuổi và bố 27 tuổi. Hỏi khi con lên 9 tuổi thì tuổi bố gấp mấy lần tuổi con

- A. 9 lần B. 4 lần C. 6 lần D. 3 lần

Câu 107. Số liền trước của số 56 970 là số:

- A. 56 969 B. 56 971 C. 7 970 D. 56 980

Câu 108. Tấm vải thứ nhất dài 154 m, tấm vải thứ hai dài gấp 3 lần tấm vải thứ nhất. Hái cả hai tấm vải dài bao nhiêu mét.

A. 616 m

B. 606 m

C. 416 m

D. 516 m

Câu 109. $x + 1955 = 6123$. $x = ?$

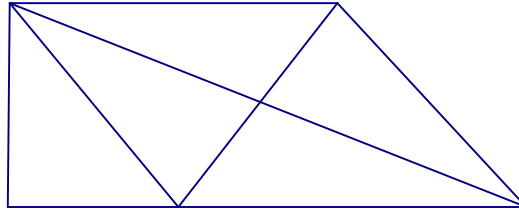
A. 4278

B. 4268

C. 4178

D. 4168

Câu 110.



Hình trên có bao nhiêu hình tam giác, bao nhiêu hình tứ giác?

A. 9 hình tam giác, 3 hình tứ giác.

B. 10 hình tam giác, 4 hình tứ giác.

C. 9 hình tam giác, 4 hình tứ giác.

D. 10 hình tam giác, 3 hình tứ giác.

Câu 111. Tìm số bị trừ biết hiệu và số trừ đều bằng 14? Số bị trừ là:

A. 28

B. 14

C. 0

D. 42

Câu 112. Có bao nhiêu số có 2 chữ số mà chữ số hàng chục là 7:

A. 7 số

B. 8 số

C. 9 số

D. 10 số

Câu 113. Số chẵn lớn nhất có 5 chữ số khác nhau là:

A. 98756

B. 99998

C. 98764

D. 98765

Câu 114. $x - 57932 = 11293$ $x = ?$

A. 69225

B. 68225

C. 46639

D. 69125

Câu 115. Hình chữ nhật là hình có:


A. 2 góc vuông

B. 4 góc vuông

C. 5 góc vuông b.

D. 3 góc vuông

Câu 116. Hình dưới đây có bao nhiêu đoạn thẳng?



A. 5 đoạn thẳng

B. 15 đoạn thẳng

C. 30 đoạn thẳng

D. 24 đoạn thẳng