



**Bài 11 :** Bao gạo và bao đường cân nặng 86 kg . Bao gạo cân nặng 42 kg . Hỏi bao nào nặng hơn và nặng hơn bao kia bao nhiêu kg?

**Bài 12 :** Một thùng nước mắm có 36 lít . Sau khi rót ra bán thùng còn lại 12 lít . Hỏi số mắm đã bán được và số mắm còn lại trong thùng số mắm nào nhiều hơn và nhiều hơn bao nhiêu?

**Bài 13 :** Tìm x biết

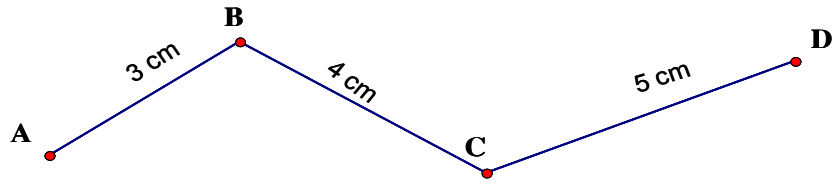
a)  $x + 26 = 48 + 52$

b)  $x - 12 = 15 + 37$

c)  $68 - x = 17 - 9$

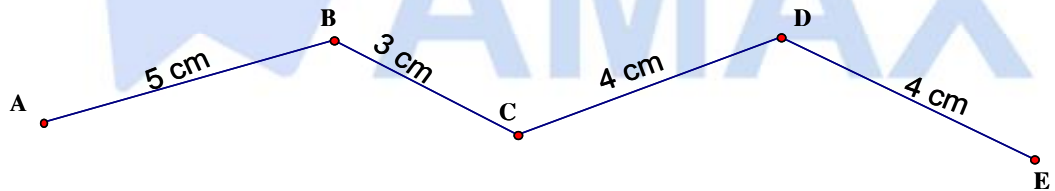
d)  $15 + 56 - x = 56$





**Bài 17:** Độ dài đường gấp khúc ABCD có tổng độ dài của hai đoạn thẳng AB và BC bằng 36 cm, đoạn thẳng CD dài 25 cm. Tính độ dài đường gấp khúc ABCD?

**Bài 18 :** Con kiến vàng bò từ A đến C, con kiến đen bò từ C đến E. Hỏi con kiến nào bò được đoạn đường dài hơn?

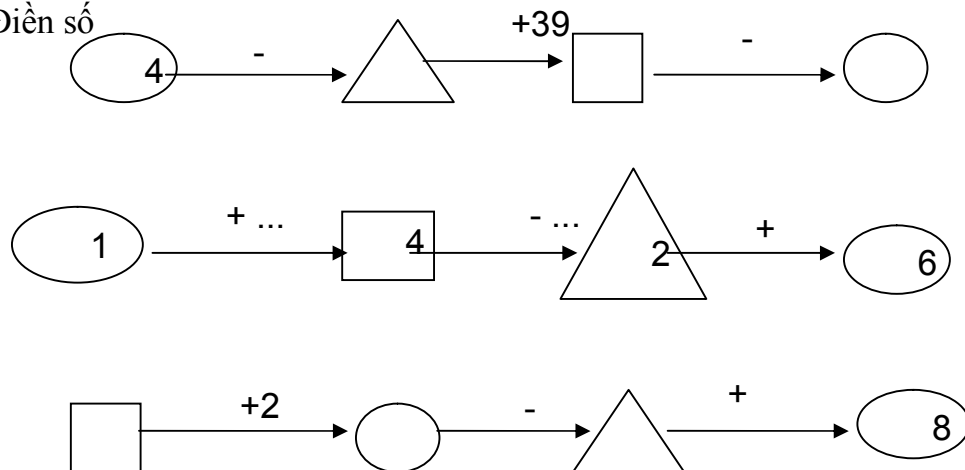


**Bài 19:** Hai đường gấp khúc ABC và MNP có độ dài bằng nhau, đoạn thẳng AB dài hơn đoạn thẳng MN. Hãy so sánh độ dài đoạn thẳng BC và đoạn thẳng NP.

**Bài 20 :** Tam giác ABC có cạnh AB dài 14 cm , cạnh BC dài 18 cm, cạnh CA dài 22 cm .  
 Tính chu vi tam giác ABC .

**Bài 21:** Tính chu vi tứ giác MNPQ có độ dài các cạnh lần lượt là 15 cm, 2 dm3cm, 20 cm, 3 dm?

**Bài 23:** Điền số



**ÔN TẬP KỲ I - TOÁN LỚP 2**

**Bài 1 : Tính**

$15 + 67 - 11 =$

$98 - 69 + 7 =$

$82 - 46 + 12 =$

$59 + 17 - 28 =$

**Bài 2 : Đặt tính và tính**

$15 + 7$

$57 + 29$

$87 - 29$

$56 - 47$

$46 + 54$

$100 - 34$

**Bài 3 : Tìm x biết :**

$x + 12 = 71$

$17 + x = 32$

$34 - x = 15$

$x - 34 = 15$

**Bài 4 :** Một cửa hàng ngày thứ nhất bán được 25 thùng sữa , ngày thứ nhất bán ít hơn ngày thứ hai 8 thùng sữa .

Hỏi ngày thứ hai của hàng đó bán được bao nhiêu thùng sữa?

Hỏi cả hai ngày cửa hàng bán được bao nhiêu thùng sữa ?

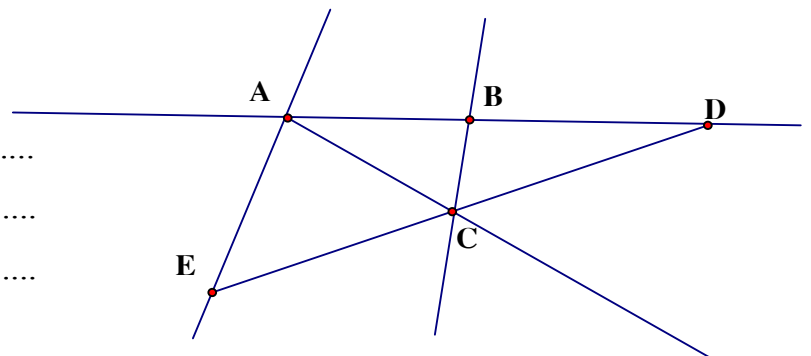
**Bài 5 :** Trong hình vẽ bên :

Có :.....đoạn thẳng

Đó là các đoạn thẳng .....

.....

.....



Có .....đường thẳng  
Đó là các đường thẳng :.....

.....  
Có ba điểm thẳng hàng là :.....

### TOÁN ÔN TẬP TUẦN 23

8.1.08

**Bài 1 :** Từ 4 chữ số : 0 ; 1 ; 2 ; 3 em hãy viết tất cả các số có hai chữ số khác nhau

.....  
**Bài 2 :** Cho số a có hai chữ số

- a) Nếu chữ số hàng chục bớt đi 2 thì số a giảm đi bao nhiêu đơn vị ?
- b) Nếu chữ số hàng chục tăng thêm 1 và chữ số hàng đơn vị giảm đi 2 thì số a tăng thêm bao nhiêu đơn vị ?

.....  
**Bài 3 :**

- a) Tìm những số lớn hơn 35 mà chữ số hàng chục của nó bé hơn 4
- b) Tìm những số có hai chữ số bé hơn 24 mà chữ số hàng đơn vị của nó lớn hơn 4

.....  
**Bài 4 :** Viết tất cả những số có hai chữ số mà tổng hai chữ số của nó bằng 12

.....  
**Bài 5 :** Viết tất cả những số có hai chữ số mà hiệu hai chữ số của nó 5

**Bài 6 :** Viết các số có hai chữ số biết tổng hai chữ số của nó bằng số lớn nhất có 1 chữ số và hiệu hai chữ số của nó bằng 3 .

**Bài 7 :** Hai số có hiệu bằng 14 , nếu thêm vào số trừ 3 đơn vị và giữ nguyên số bị trừ thì hiệu mới bằng bao nhiêu ?

**Bài 8 :** Tổng của hai số sẽ thay đổi như thế nào nếu mỗi số hạng cùng tăng thêm 25 đơn vị ?

**Bài 9 :** Tìm 1 số biết số lớn nhất có hai chữ số trừ đi số đó thì được kết quả là 35 ?

**Bài 10 :** Số 45 thay đổi như thế nào nếu :

- a) Xoá bỏ chữ số 5
- b) Thay đổi vị trí chữ số 4 và chữ số 5
- c) Tăng chữ số hàng chục thêm 2



**Bài 11 :** Để đánh các trang của cuốn sách dày 15 trang cần dùng bao nhiêu chữ số để đánh

**Bài 12 :** Nga dùng 20 chữ số để viết các số liền nhau thành 1 dãy số  $0;1;2;3;\dots;a$  . Hỏi a là số nào ?

**Bài 13 :** Viết thêm 4 số vào dãy sau :

a)  $3 ; 6 ; 9 ; \dots$

b)  $39 ; 35 ; 31 ; \dots$

**Bài 14 :** Tìm x

a)  $14 - x = 14 - 2$

b)  $52 + 4 > x + 52$

c)  $46 < x - 45 < 49$

d)  $x - 8 < 3$

**Bài 15 :** Điền chữ số thích hợp vào hoa thị

$$\begin{array}{r} *3 \\ + \\ 1 \\ *00 \end{array}$$

**Bài 16 :** Tính nhanh

a)  $11 + 28 + 24 + 16 + 12 + 9$

b)  $75 - 13 - 17 + 25$

**Bài 17 :** Ngày đầu cửa hàng bán được 15 kg đường . Ngày sau bán hơn ngày đầu 5 kg đường . Cửa hàng còn lại 40 kg đường . Hỏi

- a) Ngày sau bán được bao nhiêu kg đường  
b) Trước khi bán cửa hàng có tất cả bao nhiêu kg đường

.....  
.....  
.....  
.....  
**Bài 18 :** Mai cao hơn Hoa 2 cm . Bình thấp hơn Mai 3 cm . Hỏi ai cao nhất ? Ai thấp nhất . Hoa cao hơn Bình mấy cm ?  
.....  
.....  
.....  
.....  
.....

.....  
.....  
.....  
.....  
**Bài 19 :** Mẹ để hai đĩa cam bằng nhau trên bàn . Lan lấy 3 quả từ đĩa bên phải bỏ sang đĩa bên trái . Hỏi bây giờ đĩa bên nào nhiều cam hơn và nhiều hơn mấy quả cam?  
.....  
.....  
.....  
.....  
.....

.....  
.....  
.....  
.....  
**Bài 20 :** Lan có 20 cái kẹo , Hà có 14 cái kẹo . Hỏi Lan phải cho Hà mấy cái kẹo để số kẹo hai bạn bằng nhau .  
.....  
.....  
.....