

ít hơn ngày thứ hai 8 chiếc xe đạp . Hỏi cả hai ngày cửa hàng bán được bao nhiêu chiếc xe đạp?

Bài 42 : Nam có ít hơn Bảo 8 viên bi . Hùng cho Nam thêm 3 viên bi . Hỏi Bảo còn nhiều hơn Nam bao nhiêu viên bi?

Bài 43 : Hùng cân nặng 22 kg . Hoàng cân nặng 24 kg . Hậu cân nặng 23 kg . Hỏi

- Bạn nào cân nặng nhất ?
- Hùng và Hoàng cân nặng bao nhiêu kg?
- Cả ba bạn cân nặng bao nhiêu kg?

Bài 44: Có 1 cân đĩa , người ta đặt lên đĩa cân thứ nhất 3 kg , đĩa thứ hai đặt túi đường và quả cân 1 kg thì cân thăng bằng . Hỏi túi đường nặng bao nhiêu kg?

Bài 45 : Bao gạo và bao đường cân nặng 86 kg . Bao gạo cân nặng 42 kg . Hỏi bao nào nặng hơn và nặng hơn bao kia bao nhiêu kg?

Bài 46 : Một thùng nước mắm có 36 lít . Sau khi rót ra bán thùng còn lại 12 lít . Hỏi số mắm đã bán được và số mắm còn lại trong thùng số mắm nào nhiều hơn và nhiều hơn bao nhiêu?

Bài 47 : Tìm x biết

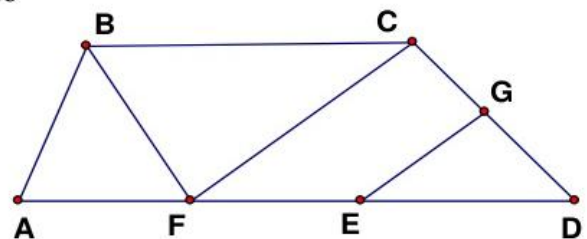
- a) $x + 26 = 48 + 52$ b) $x - 12 = 15 + 37$ c) $68 - x = 17 - 9$ d) $15 + 56 - x = 56$

Bài 48 : Hình vẽ dưới đây có bao nhiêu tam giác ,

5

bao nhiêu tứ giác ? Kể tên các tam giác , tứ giác đó

.....

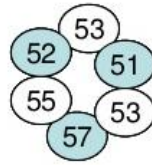


Bài 49 : Nói phép tính với các số thích hợp

$$\boxed{32 + 19}$$

$$\boxed{92 - 38}$$

$$\boxed{28 + 32}$$

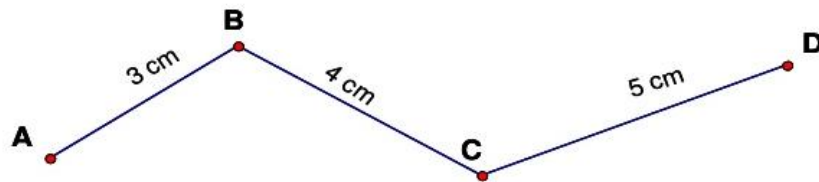


71 - 48

44 + 8

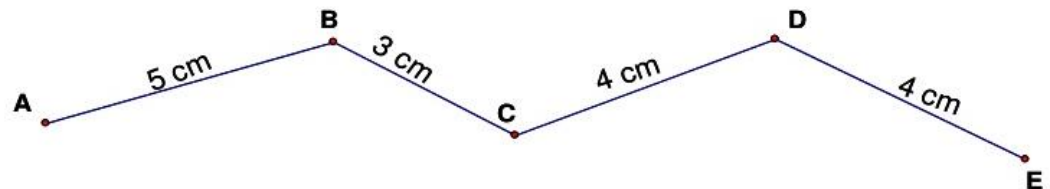
80 - 25

Bài 50 : Tính độ dài đường gấp khúc ABCD



Bài 51: Độ dài đường gấp khúc ABCD có tổng độ dài của hai đoạn thẳng AB và BC bằng 36 cm , đoạn thẳng CD dài 25 cm . Tính độ dài đường gấp khúc ABCD?

Bài 52 : Con kiến vàng bò từ A đến C , con kiến đen bò từ C đến E . Hỏi con kiến nào bò được đoạn đường dài hơn?



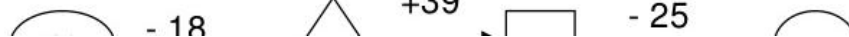
Bài 53: Hai đường gấp khúc ABC và MNP có độ dài bằng nhau, đoạn thẳng AB dài hơn đoạn thẳng MN . Hãy so sánh độ dài đoạn thẳng BC và đoạn thẳng NP .

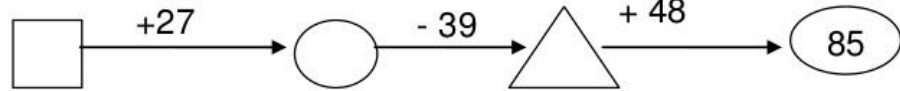
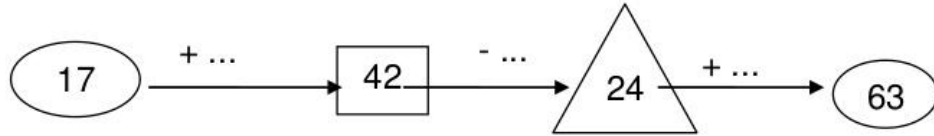
6

Bài 54 : Tam giác ABC có cạnh AB dài 14 cm , cạnh BC dài 18 cm, cạnh CA dài 22 cm . Tính chu vi tam giác ABC .

Bài 55: Tính chu vi tứ giác MNPQ có độ dài các cạnh lần lượt là 15 cm, 2 dm3cm, 20 cm, 3 dm?

Bài 56: Điền số





Bài 58 : Tính

$15 + 67 - 11 =$

$98 - 69 + 7 =$

$82 - 46 + 12 =$

$59 + 17 - 28 =$

Bài 59 : Đặt tính và tính

$15 + 7$
 $100 - 34$

$57 + 29$

$87 - 29$

$56 - 47$

$46 + 54$

Bài 60 : Tìm x biết :

$x + 12 = 71$
 $34 = 15$

$17 + x = 32$

$34 - x = 15$

$x -$

Bài 61 : Một cửa hàng ngày thứ nhất bán được 25 thùng sữa , ngày thứ nhất bán ít hơn ngày thứ hai 8 thùng sữa .

Hỏi ngày thứ hai của hàng đó bán được bao nhiêu thùng sữa?

Hỏi cả hai ngày cửa hàng bán được bao nhiêu thùng sữa ?

7

Bài 62 : Trong hình vẽ bên :

Có :.....đoạn thẳng



Đo là các đoạn thẳng

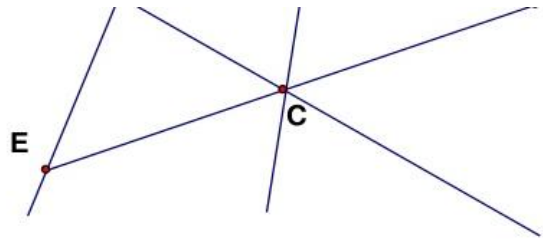
.....

Cóđường thẳng

Đó là các đường thẳng :.....

.....

Có ba điểm thẳng hàng là :.....



Bài 63 : Từ 4 chữ số : 0 ; 1; 2; 3 em hãy viết tất cả các số có hai chữ số khác nhau

.....

Bài 64 : Cho số a có hai chữ số

- Nếu chữ số hàng chục bớt đi 2 thì số a giảm đi bao nhiêu đơn vị ?
- Nếu chữ số hàng chục tăng thêm 1 và chữ số hàng đơn vị giảm đi 2 thì số a tăng thêm bao nhiêu đơn vị ?

Bài 65 :

- Tìm những số lớn hơn 35 mà chữ số hàng chục của nó bé hơn 4
- Tìm những số có hai chữ số bé hơn 24 mà chữ số hàng đơn vị của nó lớn hơn 4

Bài 66 : Viết tất cả những số có hai chữ số mà tổng hai chữ số của nó bằng 12

.....

Bài 67 : Viết tất cả những số có hai chữ số mà hiệu hai chữ số của nó 5

.....

Bài 68 : Viết các số có hai chữ số biết tổng hai chữ số của nó bằng số lớn nhất có 1 chữ số và hiệu hai chữ số của nó bằng 3 .

