

Ôn tập về phép cộng và phép trừ
(Phiếu 1 buổi 5)

Bài 1: Tính nhanh:

a) $26 + 17 + 23 + 14$

b) $46 + 2 + 18 + 54$

c) $37 - 5 + 37 -$

7

.....

.....

.....

.....

.....

.....

.....

.....

Bài 2: Tìm x, biết:

a) $x + 63 = 91$

b) $x - 45 = 45 + 37$

.....

.....

.....

.....

.....

.....

.....

c) $x + 24 = 49 + 5$

d) $76 - x = 29$

.....

.....

.....

.....

.....

.....

Bài 3: Điền dấu $> < =$ thích hợp vào chỗ chấm

a) $x + 32 \dots 41 + x$

b) $56 - y \dots 45 - y$

c) $x - 26 \dots x - 21$

Bài 4: Tìm một số biết số đó cộng với 45 thì bằng 62

.....

Bài 5: Tìm một số biết số đó trừ đi 26 thì bằng 38

.....

Bài 6: Đúng ghi Đ sai ghi S vào ô trống:

$25 + 48 = \square$

$76 - 29 = 57 \square$

$57 - 28 = 29 \square$

Ôn tập về phép cộng và phép trừ
(Phiếu 2 buổi 5)

Bài 1. Tính:

$83 - 35$

$69 + 25$

$61 - 39$

$52 - 18$

.....
.....
.....

$54 + 36$

$58 + 45$

$78 - 62$

$97 - 34$

.....
.....
.....

Bài 2. Điền số thích hợp vào ô trống:

$\square + 15 < 15 + 1$

$b/ 18 < \square + 16 < 20$

$c/ 10 \square \square < 13$

Bài 3. Cứ 4 cái bánh nóng đóng được một hộp bánh. Hỏi cần có bao nhiêu cái bánh nóng để đóng được 8 hộp bánh

.....
.....
.....
.....

Bài 4. Mai cao hơn Hoa 2cm. Bình thấp hơn Mai 3 cm. Hỏi ai cao nhất; ai thấp nhất? Hoa cao hơn Bình mấy xăng ti mét?

.....
.....
.....
.....

Bài 1 : (2điểm): Tính nhanh

a) $24 + 35 + 46 - 4 - 5 - 6 =$

b) $13 - 9 + 18 - 6 + 7 + 4 + 11 - 8 =$

Bài 2 (1.5điểm): Nam, An, Hạng, Dũng mỗi bạn đều có 8 que Tính, các bạn đều muốn chia số que Tính của mình thành hai phần khựng ai giống ai. An chọn cách chia làm 2 phần bằng nhau. Em giúp các bạn cũn lại chia số que Tính của mình sao cho khựng giống nhau.

Bài 3. (2điểm): Năm nay Hạng 8 tuổi, bố Hạng 32 tuổi. Hỏi ba năm sau tổng số tuổi của Bố và Hạng là bao nhiêu ?

Bài giải

Bài 4. (1.5điểm): Một hỡnh tứ giỏc cú 4 cạnh bằng nhau và cú chu vi là 24 cm. Tính cạnh của tứ giỏc ấy?

Bài giải:

Bài 5 (3điểm):

a) Cú một số lượng gạo, nếu thỡm 3kg nửa thỡ sẽ vừa đủ chia vào 10 tỳi, mỗi tỳi 4kg. Hỏi số lượng gạo đủ là bao nhiêu ki-lô-gam ?

b) Người ta đem chia số kẹo vào cỏc hỏp. Nếu đựng vào mỗi hỏp 10 vờn thỡ đợc tất cả 5 hỏp và cũn thờa 5 vờn. Hỏi số kẹo đem chia vào là bao nhiêu

Bài giải:

vì ?

Bài giải:

Bài 1 : Từ 3 chữ số 3, 5, 6. Em hãy viết tất cả các số có hai chữ số có thể được

Bài 2 : Hãy viết các số có hai chữ số sao cho mỗi số chỉ có 1 chữ số 5

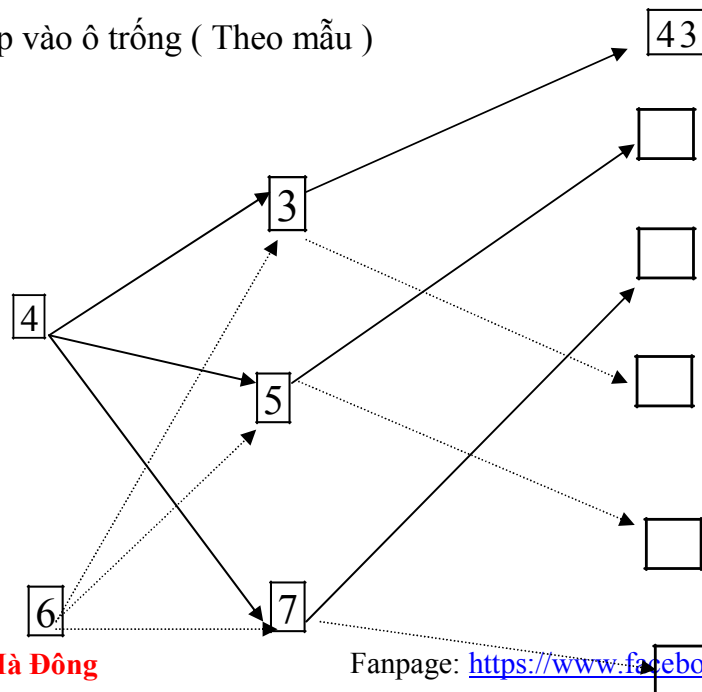
Bài 3 : Từ 3 số 4, 7, 9 em hãy viết tất cả các số có hai chữ số khác nhau (ở mỗi số không có hai chữ số giống nhau)

Bài 4 : Số x có bao nhiêu chữ số biết

a) x bé hơn 100

b) x đứng liền sau một số có hai chữ số

Bài 5 : Viết số thích hợp vào ô trống (Theo mẫu)



Bài 6 : Tìm x biết

a) $x + 12 = 46$

b) $42 + x = 87$

c) $x + 26 = 12 + 17$

d) $34 + x = 86 - 21$

Bài 7 : Tìm x biết

a) $x - 17 = 23$

b) $x - 15 = 21 + 49$

c) $x - 34 = 67 - 49$

Bài 8 : Tìm x biết

a) $17 - x = 12$

b) $72 + 12 - x = 48$

c) $28 + 26 - x = 67 - 39$

Bài 9 : Tìm y biết

a) $y + 56 = 56 - y$

b) $48 - y = 48 + y$

c) $9x = 7x + y$

Bài 10 : Điền dấu $<$, $>$, $=$ thích hợp vào chỗ trống (Với x khác 0)

a) $x + 32 \dots\dots\dots 41 + x$

d) $42 + 21 + x \dots\dots\dots 42 + 21$

b) $56 - y \dots\dots\dots 45 - y$

g) $52 - 47 \dots\dots\dots 52 - 47 - x$

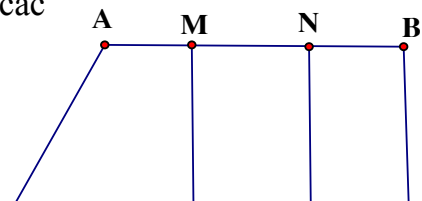
c) $x - 26 \dots\dots\dots x - 18$

h) $29 + 42 - x \dots\dots\dots 42 + 29 + x$

Bài 11 : Hình vẽ sau đây có bao nhiêu hình tứ giác , viết tên các

hình tứ giác đó

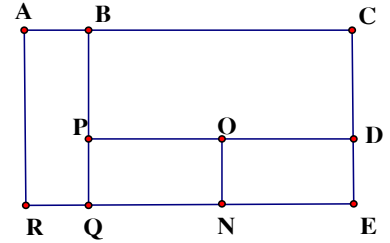
.....



.....
.....
.....

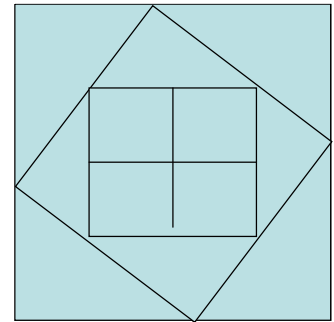
Bài 12 : Hình vẽ sau có bao nhiêu hình chữ nhật
viết tên các hình chữ nhật đó

.....
.....
.....



Bài 13 : Hình vẽ sau có bao nhiêu hình vuông ,
bao nhiêu hình tam giác

.....
.....
.....



Bài 14 : Bao gạo thứ nhất nặng 26 kg , bao gạo thứ 2 nặng hơn bao gạo thứ nhất 15 kg .
Hỏi cả hai bao gạo nặng bao nhiêu kg ?

Bài 15 : Thùng thứ nhất đựng 32 lít dầu , thùng thứ 2 đựng ít hơn thùng thứ nhất 9 lít dầu
. Hỏi cả hai thùng đựng được bao nhiêu lít dầu ?

Bài 16 : Một cửa hàng có 68 kg đường . Sau một ngày bán hàng còn lại 18 kg đường .
Hỏi cửa hàng đã bán hết bao nhiêu kg đường ?

Bài 17 : Một cửa hàng bán được 45 kg gạo trong ngày đầu , còn lại 28 gạo sau ngày thứ
nhất . Sau ngày thứ hai còn lại 2 kg gạo . Hỏi lúc ban đầu cửa hàng có bao nhiêu kg gạo ?
Cả hai ngày cửa hàng đã bán được bao nhiêu kg gạo ?

Bài 18 : Có một cân đĩa và hai quả cân loại 1kg và 5 kg . Làm thế nào cân được 4 kg gạo qua một lần cân ?

Bài 19: Thứ 5 tuần này là ngày 8 tháng 7 . Hỏi thứ 5 tuần trước là ngày nào ?

Bài 20 : Thứ sáu tuần này là ngày 16 tháng 9 . Hỏi thứ 7 tuần sau là ngày nào

Bài 21 : Hồng muốn biết sinh nhật của mình 15 tháng 6 là ngày thứ mấy .Bạn Mai lại cho biết ngày 7 tháng 6 là ngày thứ 3. Em hãy giúp bạn Hồng biết ngày sinh nhật của bạn là ngày thứ mấy ?

Bài 22: An có 12 viên bi . Bình có nhiều hơn An 9 viên bi . Chung có ít hơn Bình 6 viên bi . Hỏi cả ba bạn có bao nhiêu viên bi ?

Bài 23 : Bạn An có 9 viên bi . Nếu An cho Bình 4 viên bi thì Bình có 10 viên bi . Hỏi cả hai bạn có bao nhiêu viên bi

Bài 24 : Dũng có 1 số bi xanh và đỏ . Biết rằng số bi của Dũng ít hơn 10 viên . Trong đó số bi đỏ hơn số bi xanh 7 viên . Hỏi Dũng có bao nhiêu bi xanh , bao nhiêu bi đỏ?

Bài 25 : Lan có 4 bìa xanh và đỏ , số bìa xanh ít hơn số bìa đỏ . Hỏi Lan có bao nhiêu tấm bìa xanh , bao nhiêu tấm bìa đỏ ?

Bài 26 : Minh có 18 viên bi , nếu Minh cho Bình 3 viên thì Bình có nhiều hơn Minh 3 viên bi . Hỏi Bình có bao nhiêu viên bi ?

Bài tập 27 : Có ba thúng xoài , thúng thứ nhất ít hơn thúng thứ hai 6 quả , thúng thứ ba nhiều hơn thúng thứ hai 5 quả . biết thúng thứ nhất có 12 quả . Hỏi

- Thúng nào có nhiều xoài nhất ?
- Cả ba thúng có bao nhiêu quả xoài

Bài 28 : Hình vẽ sau đây có bao nhiêu đoạn thẳng , bao nhiêu tam giác , bao nhiêu tứ giác , kể tên các hình đó

.....

.....

.....

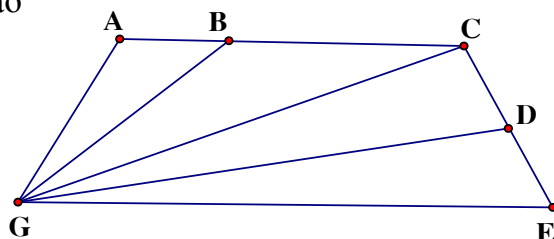
.....

.....

.....

.....

.....



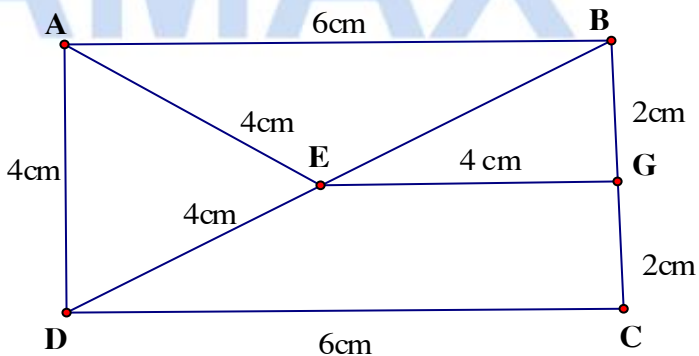
Bài 29 : Cho hình vẽ
Chu vi tam giác ACE là :

.....
Chu vi tam giác AED là :
Chu vi tứ giác ABGE là

.....
Chu vi tứ giác DEGC là

.....
Độ dài đường gấp khúc ABCDEG là.....

.....
Độ dài đường gấp khúc AEDCGE là :.....



Bài 30 : Điền chữ số thích hợp vào chỗ trống

a) - $\frac{\square 3}{5\square}$
27

b) - $\frac{8\square}{28}$
 $\square 6$

c) - $\frac{75}{\square 9}$
1 \square

--	--	--

Bài 31 : Điền các số vào ô trống sao cho có đủ các số từ 1 đến 9 sao cho tổng các số trong mỗi hàng , trong mỗi cột đều bằng 15

Bài 32 :

Hình vẽ bên có đoạn thẳng

Kể tên các đoạn thẳng :

.....

Hình vẽ bên có hình tam giác

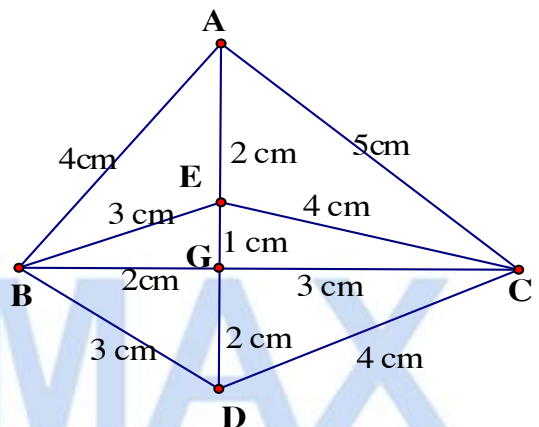
Tính chu vi mỗi tam giác

Bài 33 :

Hình vẽ dưới đây có tứ giác

Có hình chữ nhật

Có hình vuông



Bài 1 : Một cửa hàng ngày thứ nhất bán được 66 gói kẹo , ngày thứ nhất bán hơn ngày thứ hai 14 gói kẹo . Hỏi ngày thứ hai cửa hàng bán được bao nhiêu gói kẹo.

Bài 2 : Lan có nhiều hơn Huệ 8 bông hoa, Hồng có nhiều hơn Lan 4 bông hoa . Hỏi Hồng có nhiều hơn Huệ bao nhiêu bông hoa?

Bài 3 : Khánh có 18 quyển truyện . Nếu Khánh cho Hoà 2 quyển truyện thì Hoà có 19 quyển truyện . Hỏi Khánh và Hoà ai nhiều truyện hơn.

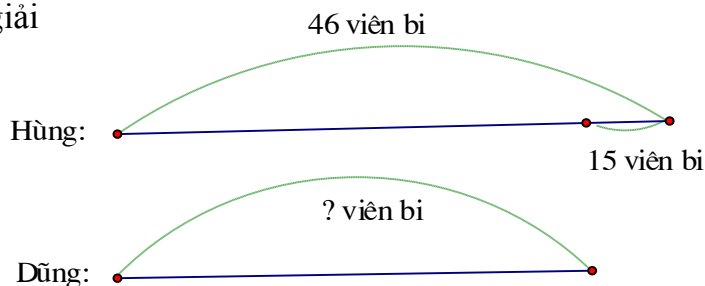
Bài 4 : Hộp thứ nhất có 78 viên kẹo , hộp thứ hai có ít hơn hộp thứ nhất 16 viên kẹo . Hỏi cả hai hộp có bao nhiêu viên kẹo?

Bài 5 : Có hai đàn vịt , đàn vịt thứ nhất có 95 con , đàn vịt thứ nhất nhiều hơn đàn vịt thứ hai 32 con . Hỏi cả hai đàn vịt có bao nhiêu con?

Bài 6 : Đoạn thẳng MN dài 45 cm , đoạn thẳng PQ ngắn hơn đoạn thẳng MN 14 cm . Hỏi đoạn thẳng PQ dài bao nhiêu cm ?

Bài 7 : Đặt một đề toán sau rồi giải

Tóm tắt :



Bài 7 : Một cửa hàng ngày thứ nhất bán được 25 chiếc xe đạp , ngày thứ nhất bán ít hơn ngày thứ hai 8 chiếc xe đạp . Hỏi cả hai ngày cửa hàng bán được bao nhiêu chiếc xe đạp?

Bài 8 : Nam có ít hơn Bảo 8 viên bi . Hùng cho Nam thêm 3 viên bi . Hỏi Bảo còn nhiều hơn Nam bao nhiêu viên bi?

Bài 9 : Hùng cân nặng 22 kg . Hoàng cân nặng 24 kg . Hậu cân nặng 23 kg . Hỏi

- a) Bạn nào cân nặng nhất ?
- b) Hùng và Hoàng cân nặng bao nhiêu kg?
- c) Cả ba bạn cân nặng bao nhiêu kg?

Bài 10: Có 1 cân đĩa , người ta đặt lên đĩa cân thứ nhất 3 kg , đĩa thứ hai đặt túi đường và quả cân 1 kg thì cân thăng bằng . Hỏi túi đường nặng bao nhiêu kg?

Bài 11 : Bao gạo và bao đường cân nặng 86 kg . Bao gạo cân nặng 42 kg . Hỏi bao nào nặng hơn và nặng hơn bao kia bao nhiêu kg?

Bài 12 : Một thùng nước mắm có 36 lít . Sau khi rót ra bán thùng còn lại 12 lít . Hỏi số mắm đã bán được và số mắm còn lại trong thùng số mắm nào nhiều hơn và nhiều hơn bao nhiêu?

Bài 13 : Tìm x biết

$$x + 26 = 48 + 52$$

$$b) x - 12 = 15 +$$

$$37$$

$$c) 68 - x = 17 -$$

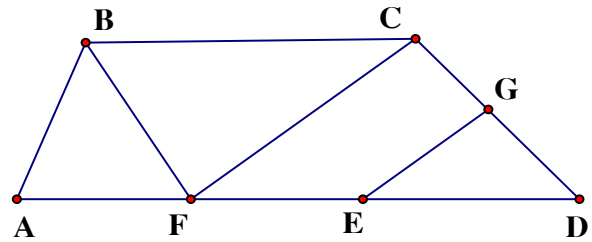
$$9$$

$$d) 15 + 56 - x =$$

$$56$$

Bài 14 : Hình vẽ dưới đây có bao nhiêu tam giác ,
bao nhiêu tứ giác ? Kể tên các tam giác , tứ giác đó

.....

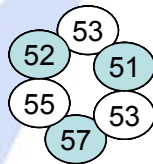


Bài 15 : Nối phép tính với các số thích hợp

$32 + 19$

$92 - 38$

$28 + 32$

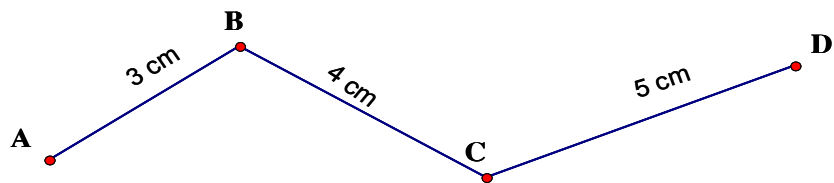


$71 - 48$

$44 + 8$

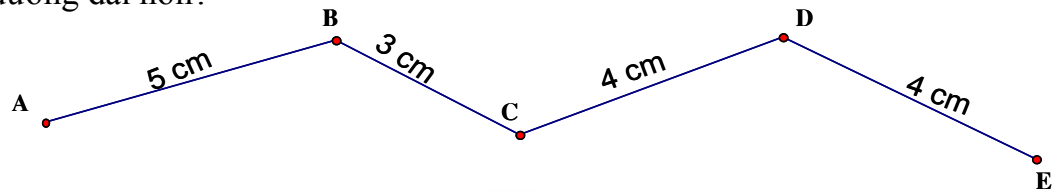
$80 - 25$

Bài 16 : Tính độ dài đường gấp khúc ABCD



Bài 17: Độ dài đường gấp khúc ABCD có tổng độ dài của hai đoạn thẳng AB và BC bằng 36 cm, đoạn thẳng CD dài 25 cm. Tính độ dài đường gấp khúc ABCD?

Bài 18 : Con kiến vàng bò từ A đến C, con kiến đen bò từ C đến E. Hỏi con kiến nào bò được đoạn đường dài hơn?



Bài 19: Hai đường gấp khúc ABC và MNP có độ dài bằng nhau, đoạn thẳng AB dài hơn đoạn thẳng MN. Hãy so sánh độ dài đoạn thẳng BC và đoạn thẳng NP.

Bài 20 : Tam giác ABC có cạnh AB dài 14 cm, cạnh BC dài 18 cm, cạnh CA dài 22 cm. Tính chu vi tam giác ABC.

Bài 21: Tính chu vi tứ giác MNPQ có độ dài các cạnh lần lượt là 15 cm, 2 dm3cm, 20 cm, 3 dm?

Bài 23: Điền số

