

ÔN TẬP CUỐI NĂM LỚP 1

Bài 1 : Điền dấu + , - thích hợp vào ô trống

$12 \square 5 \square 3 = 14$

$14 \square 4 \square 1 = 11$

$16 \square 3 \square 2 = 17$

$32 \square 30 \square 2 = 4$

$45 \square 20 \square 4 = 69$

$84 \square 10 \square 3 = 71$

Bài 2 :

Tìm 1 số biết rằng lấy số đó cộng với 5 rồi trừ đi 8 được kết quả là 11?

Bài 3 : Điền dấu > , < , = thích hợp vào ô trống

$12 + 6 \square 6 + 4 + 7$

$15 + 0 \square 15 - 0$

$18 - 5 \square 14 - 4 + 5$

$0 + 10 \square 10 + 0$

$30 + 40 \square 80 - 20$

$90 - 50 \square 10 + 40$

$70 - 40 \square 90 - 60$

$30 + 20 \square 10 + 40$

Bài 4 :

Nối phép tính với số thích hợp :

$80 - 60$

$20 + 30$

$20 \square 60$

$30 + 30$

$10 + 40$

$50 \square 70$

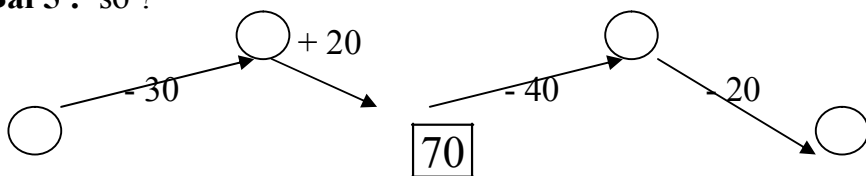
$50 + 20$

$60 - 40$

$90 - 30$

$80 - 10$

Bài 5 : số ?

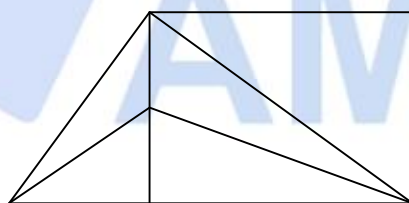


$$32 + 46 < \square < 22 + 40$$

Bài 6 : Điền số thích hợp vào ô trống sao cho cộng các số theo hàng ngang , theo cột dọc , theo đường chéo của hình vuông có các kết quả đều như nhau

		14
	23	
32	14	

Bài 7 :



Hình vẽ trên cótam giác

Đó là các tam giác

.....

.....

.....


.....

Bài 8 :

Đọc tên các điểm đoạn thẳng có trong hình vẽ sau

Cóđiểm

Là các điểm.....



.....
Có đoạn thẳng

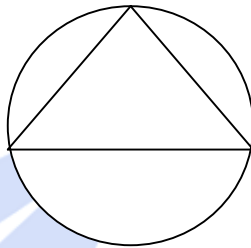
Là các đoạn thẳng

.....

.....

Bài 9 :

Vẽ 5 điểm sao cho có 3 điểm ở trong đường tròn và 4 điểm ở ngoài hình tam giác



Bài 10 *: Con gà mái của bạn An sau 2 tuần 1 ngày đã đẻ được 1 số trứng. bạn An tính rằng cứ 3 ngày nó đẻ được 2 quả trứng . Hỏi con gà đó đã đẻ được mấy quả trứng ?

.....

.....

.....

.....

.....

.....

Bài 11 *: Hè vừa rồi , bạn Bình về thăm ông bà nội được 1 tuần 2 ngày và thăm ông bà ngoại được 1 tuần 3 ngày . Hỏi bạn Bình đã về thăm ông bà nội ngoại được bao nhiêu ngày ?

.....

.....

.....

.....

Bài 12 *: An có ít hơn Bình 4 hòn bi , Bình có ít hơn Căn 3 hòn bi . Hỏi Căn có mấy hòn bi, biết rằng An có 5 hòn bi .

Bài 12 *:Số tuổi của An và Ba cộng lại bằng số tuổi của Lan và của Hương cộng lại . An nhiều tuổi hơn Hương . Hỏi Ba nhiều tuổi hơn hay ít tuổi hơn Lan ?

Bài 13 *: Anh có 15 hòn bi đỏ và 10 hòn bi đen . Anh cho em 5 hòn bi . Hỏi anh còn bao nhiêu hòn bi

Cách 1:

Cách 2:
