

## Bộ bài tập toán lớp 2

**Bài 1 :** Từ 3 chữ số 3, 5, 6. Em hãy viết tất cả các số có hai chữ số có thể được

**Bài 2 :** Hãy viết các số có hai chữ số sao cho mỗi số chỉ có 1 chữ số 5

**Bài 2 :** Từ 3 số 4, 7, 9 em hãy viết tất cả các số có hai chữ số khác nhau ( Ở mỗi số không có hai chữ số giống nhau )

**Bài 3 :** Số x có bao nhiêu chữ số biết

a) x bé hơn 100

b) x đứng liền sau một số có hai chữ số

**Bài 4 :** Tìm x biết

a)  $x + 12 = 32$

b)  $42 + x = 57$

c)  $x + 26 = 12 + 67$

d)  $24 + x = 86 - 21$

**Bài 5 :** Tìm x biết

a)  $x - 17 = 43$

b)  $x - 15 = 12 + 49$

c)  $x - 34 = 67 - 21$

**Bài 6 :** Tìm x biết

a)  $17 - x = 12$

b)  $72 + 12 - x = 48$

c)  $27 + 26 - x = 67 - 39$

**Bài 7 :** Tìm y biết

a)  $y + 56 = 56 - y$

b)  $48 - y = 48 + y$

c)  $9 \times y = 7 \times y$

**Bài 8:** Điền dấu <, >, = thích hợp vào chỗ trống ( Với x khác 0 )

a)  $x + 32 \dots\dots\dots 41 + x$

d)  $42 + 21 + x \dots\dots\dots 42 + 21$

b)  $56 - y \dots\dots\dots 45 - y$

g)  $52 - 47 \dots\dots\dots 52 - 47 - x$

c)  $x - 26 \dots\dots\dots x - 18$

h)  $29 + 42 - x \dots\dots\dots 42 + 29 + x$

**Bài 9 :** Bao gạo thứ nhất nặng 26 kg, bao gạo thứ 2 nặng hơn bao gạo thứ nhất 15 kg. Hỏi cả hai bao gạo nặng bao nhiêu kg ?

**Bài 10 :** Thùng thứ nhất đựng 32 lít dầu, thùng thứ 2 đựng ít hơn thùng thứ nhất 9 lít dầu. Hỏi cả hai thùng đựng được bao nhiêu lít dầu ?

**Bài 11 :** Một cửa hàng có 68 kg đường. Sau một ngày bán hàng còn lại 18 kg đường. Hỏi cửa hàng đã bán hết bao nhiêu kg đường ?

**Bài 12 :** Một cửa hàng bán được 45 kg gạo trong ngày đầu, còn lại 28 gạo sau ngày thứ nhất. Sau ngày thứ hai còn lại 2 kg gạo. Hỏi lúc ban đầu cửa hàng có bao nhiêu kg gạo? Cả hai ngày cửa hàng đã bán được bao nhiêu kg gạo ?

**Bài 13 :** Có một cân đĩa và hai quả cân loại 1kg và 5 kg. Làm thế nào cân được 4 kg gạo qua một lần cân ?

**Bài 14:** Thứ 5 tuần này là ngày 8 tháng 7. Hỏi thứ 5 tuần trước là ngày nào ?

**Bài 15 :** Thứ sáu tuần này là ngày 16 tháng 9. Hỏi thứ 7 tuần sau là ngày nào

**Bài 16 :** Hồng muốn biết sinh nhật của mình 15 tháng 6 là ngày thứ mấy. Bạn Mai lại cho biết ngày 7 tháng 6 là ngày thứ 3. Em hãy giúp bạn Hồng biết ngày sinh nhật của bạn là ngày thứ mấy ?

**Bài 17:** An có 12 viên bi. Bình có nhiều hơn An 9 viên bi. Chung có ít hơn Bình 6 viên bi. Hỏi cả ba bạn có bao nhiêu viên bi ?

**Bài 18 :** Bạn An có 9 viên bi. Nếu An cho Bình 4 viên bi thì Bình có 10 viên bi. Hỏi cả hai bạn có bao nhiêu viên bi

**Bài 19 :** Dũng có 1 số bi xanh và đỏ. Biết rằng số bi của Dũng ít hơn 10 viên. Trong đó số bi đỏ hơn số bi xanh 7 viên. Hỏi Dũng có bao nhiêu bi xanh, bao nhiêu bi đỏ?

**Bài 20 :** Lan có 4 bìa xanh và đỏ, số bìa xanh ít hơn số bìa đỏ. Hỏi Lan có bao nhiêu tấm bìa xanh, bao nhiêu tấm bìa đỏ ?

**Bài 21 :** Minh có 18 viên bi , nếu Minh cho Bình 3 viên thì Bình có nhiều hơn Minh 3 viên bi .  
Hỏi Bình có bao nhiêu viên bi ?

**Bài tập 22 :** Có ba thúng xoài , thúng thứ nhất ít hơn thúng thứ hai 6 quả , thúng thứ ba nhiều hơn thúng thứ hai 5 quả . biết thúng thứ nhất có 12 quả . Hỏi

- Thúng nào có nhiều xoài nhất ?
- Cả ba thúng có bao nhiêu quả xoài

**Bài 23 :** Hình vẽ sau đây có bao nhiêu đoạn thẳng , bao nhiêu tam giác , bao nhiêu tứ giác , kể tên các hình đó

**Bài 24 :** Điền chữ số thích hợp vào chỗ trống

a) 
$$\begin{array}{r} \square 3 \\ 5 \square \\ \hline 27 \end{array}$$

b) 
$$\begin{array}{r} 8 \square \\ \underline{28} \\ \square 6 \end{array}$$

c) 
$$\begin{array}{r} 75 \\ \underline{\square 9} \\ 1 \square \end{array}$$

**Bài 25 :** Điền các số vào ô trống sao cho có đủ các số từ 1 đến 9 sao cho tổng các số trong mỗi hàng , trong mỗi cột đều bằng 15

	9	
3	5	

**Bài 26 :**

Hình vẽ bên có ..... đoạn thẳng

Kể tên các đoạn thẳng :

.....  
 .....  
 .....  
 .....

Hình vẽ bên có .....hình tam giác

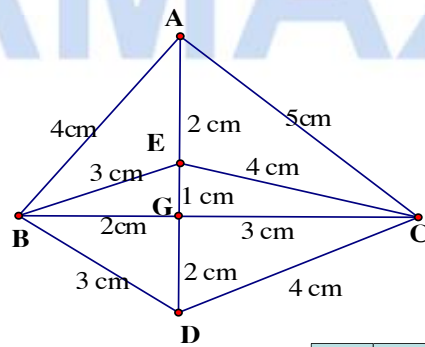
Tính chu vi mỗi tam giác

**Bài 27 :**

Hình vẽ dưới đây có ..... tứ giác

Có .....hình chữ nhật

Có .....hình vuông




## Bài tập khác

**Bài 1 :** Một cửa hàng ngày thứ nhất bán được 66 gói kẹo , ngày thứ nhất bán hơn ngày thứ hai 14 gói kẹo . Hỏi ngày thứ hai cửa hàng bán được bao nhiêu gói kẹo.

**Bài 2 :** Lan có nhiều hơn Huệ 8 bông hoa, Hồng có nhiều hơn Lan 4 bông hoa . Hỏi Hồng có nhiều hơn Huệ bao nhiêu bông hoa?

**Bài 3 :** Khánh có 18 quyển truyện . Nếu Khánh cho Hoà 2 quyển truyện thì Hoà có 19 quyển truyện . Hỏi Khánh và Hoà ai nhiều truyện hơn.

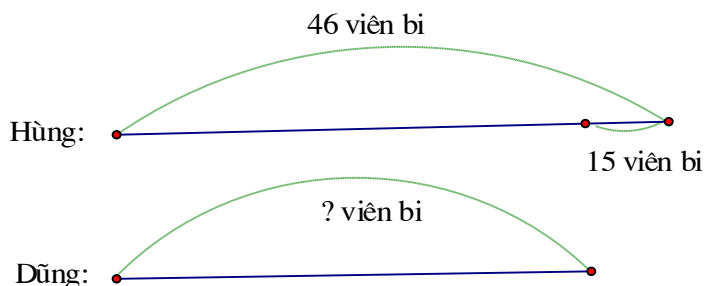
**Bài 4 :** Hộp thứ nhất có 78 viên kẹo , hộp thứ hai có ít hơn hộp thứ nhất 16 viên kẹo . Hỏi cả hai hộp có bao nhiêu viên kẹo?

**Bài 5 :** Có hai đàn vịt , đàn vịt thứ nhất có 95 con , đàn vịt thứ nhất nhiều hơn đàn vịt thứ hai 32 con . Hỏi cả hai đàn vịt có bao nhiêu con?

**Bài 6 :** Đoạn thẳng MN dài 45 cm , đoạn thẳng PQ ngắn hơn đoạn thẳng MN 14 cm . Hỏi đoạn thẳng PQ dài bao nhiêu cm ?

**Bài 7 :** Đặt một đề toán sau rồi giải

Tóm tắt :



**Bài 7 :** Một cửa hàng ngày thứ nhất bán được 25 chiếc xe đạp , ngày thứ nhất bán ít hơn ngày thứ hai 8 chiếc xe đạp . Hỏi cả hai ngày cửa hàng bán được bao nhiêu chiếc xe đạp?

**Bài 8 :** Nam có ít hơn Bảo 8 viên bi . Hùng cho Nam thêm 3 viên bi . Hỏi Bảo còn nhiều hơn Nam bao nhiêu viên bi?

**Bài 9 :** Hùng cân nặng 22 kg . Hoàng cân nặng 24 kg . Hậu cân nặng 23 kg . Hỏi

- Bạn nào cân nặng nhất ?
- Hùng và Hoàng cân nặng bao nhiêu kg?
- Cả ba bạn cân nặng bao nhiêu kg?

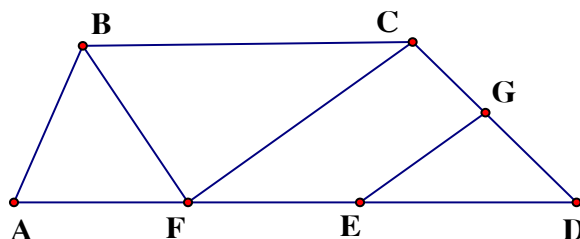
**Bài 10:** Có 1 cân đĩa , người ta đặt lên đĩa cân thứ nhất 3 kg , đĩa thứ hai đặt túi đường và quả cân 1 kg thì cân thăng bằng . Hỏi túi đường nặng bao nhiêu kg?

**Bài 11 :** Bao gạo và bao đường cân nặng 86 kg . Bao gạo cân nặng 42 kg . Hỏi bao nào nặng hơn và nặng hơn bao kia bao nhiêu kg?

**Bài 12 :** Một thùng nước mắm có 36 lít . Sau khi rót ra bán thùng còn lại 12 lít . Hỏi số mắm đã bán được và số mắm còn lại trong thùng số mắm nào nhiều hơn và nhiều hơn bao nhiêu?

**Bài 14 :** Hình vẽ dưới đây có bao nhiêu tam giác , bao nhiêu tứ giác ? Kể tên các tam giác , tứ giác đó

.....  
.....  
.....  
.....

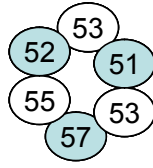


**Bài 15 :** Nối phép tính với các số thích hợp

$32 + 19$

$92 - 38$

$28 + 32$

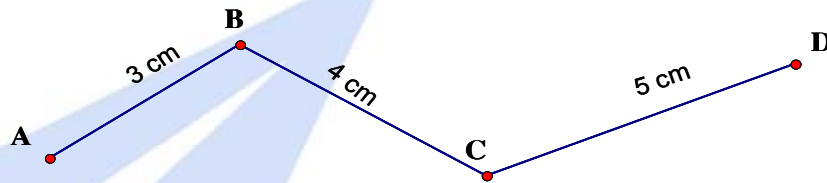


$71 - 48$

$44 + 8$

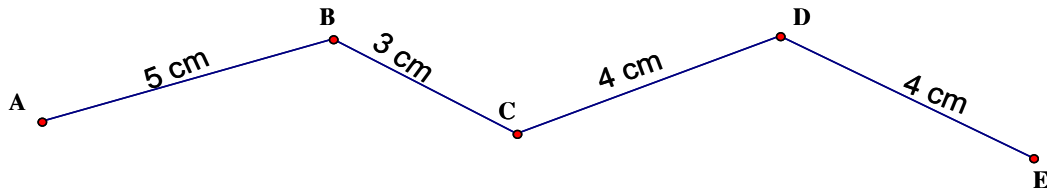
$80 - 25$

**Bài 16 :** Tính độ dài đường gấp khúc ABCD



**Bài 17:** Độ dài đường gấp khúc ABCD có tổng độ dài của hai đoạn thẳng AB và BC bằng 36 cm , đoạn thẳng CD dài 25 cm . Tính độ dài đường gấp khúc ABCD?

**Bài 18 :** Con kiến vàng bò từ A đến C , con kiến đen bò từ C đến E . Hỏi con kiến nào bò được đoạn đường dài hơn?

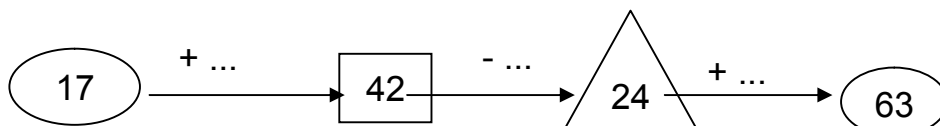
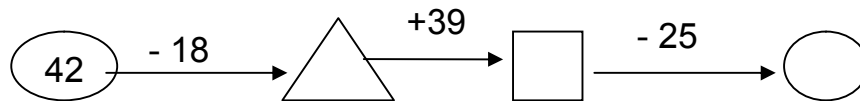


**Bài 19:** Hai đường gấp khúc ABC và MNP có độ dài bằng nhau, đoạn thẳng AB dài hơn đoạn thẳng MN . Hãy so sánh độ dài đoạn thẳng BC và đoạn thẳng NP .

**Bài 20 :** Tam giác ABC có cạnh AB dài 14 cm , cạnh BC dài 18 cm, cạnh CA dài 22 cm . Tính chu vi tam giác ABC .

**Bài 21:** Tính chu vi tứ giác MNPQ có độ dài các cạnh lần lượt là 15 cm, 2 dm3cm, 20 cm, 3 dm?

**Bài 23:** Điền số



## ÔN TẬP KỲ I - TOÁN LỚP 2

Họ và tên : .....  
Lớp : 2 D  
Điểm :                      Chữ ký phụ huynh:

### Bài 1 : Tính

$15 + 67 - 11 =$

$98 - 69 + 7 =$

$82 - 46 + 12 =$

$59 + 17 - 28 =$

### Bài 2 : Đặt tính và tính

$15 + 7$   
 $34$

$57 + 29$

$87 - 29$

$56 - 47$

$46 + 54$

$100 -$

### Bài 3 : Tìm x biết :

$x + 12 = 71$

$17 + x = 32$

$34 - x = 15$

$x - 34 = 15$

**Bài 4 :** Một cửa hàng ngày thứ nhất bán được 25 thùng sữa , ngày thứ nhất bán ít hơn ngày thứ hai 8 thùng sữa .

Hỏi ngày thứ hai của hàng đó bán được bao nhiêu thùng sữa?

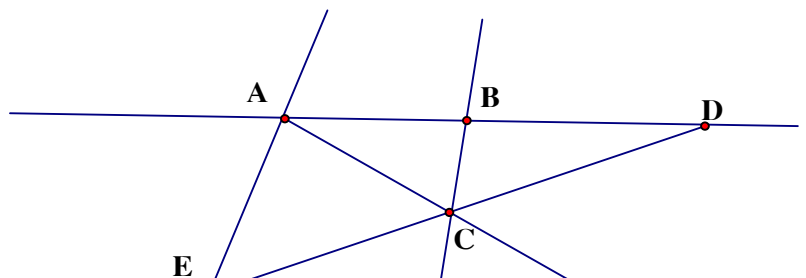
Hỏi cả hai ngày cửa hàng bán được bao nhiêu thùng sữa ?

### Bài 5 : Trong hình vẽ bên :

Có : .....đoạn thẳng

Đó là các đoạn thẳng

.....



.....

.....

Có .....đường thẳng

Đó là các đường thẳng :.....

.....

Có ba điểm thẳng hàng là :.....

## TOÁN ÔN TẬP TUẦN 23

**Bài 1 :** Từ 4 chữ số : 0 ; 1; 2; 3 em hãy viết tất cả các số có hai chữ số khác nhau

.....

**Bài 2 :** Cho số a có hai chữ số

- a) Nếu chữ số hàng chục bớt đi 2 thì số a giảm đi bao nhiêu đơn vị ?
- b) Nếu chữ số hàng chục tăng thêm 1 và chữ số hàng đơn vị giảm đi 2 thì số a tăng thêm bao nhiêu đơn vị ?

**Bài 3 :**

- a) Tìm những số lớn hơn 35 mà chữ số hàng chục của nó bé hơn 4
- b) Tìm những số có hai chữ số bé hơn 24 mà chữ số hàng đơn vị của nó lớn hơn 4

**Bài 4 :** Viết tất cả những số có hai chữ số mà tổng hai chữ số của nó bằng 12

.....

.....

**Bài 5 :** Viết tất cả những số có hai chữ số mà hiệu hai chữ số của nó 5

.....

.....

**Bài 6 :** Viết các số có hai chữ số biết tổng hai chữ số của nó bằng số lớn nhất có 1 chữ số và hiệu hai chữ số của nó bằng 3 .

**Bài 7 :** Hai số có hiệu bằng 14 , nếu thêm vào số trừ 3 đơn vị và giữ nguyên số bị trừ thì hiệu mới bằng bao nhiêu ?