



## PHIẾU BÀI TẬP (SỐ 2)

Họ và tên:.....

Lớp 2...

### **Bài 1:**

a) Liên trước số 100 là ...

c) Liên sau số 78 là ...

b) Liên sau số 39 là ...

d) Liên trước số 41 là ...

### **Bài 2:** Đặt tính rồi tính:

16 + 3    90 - 70    5 + 23    6 + 4    2 + 9    57 - 51    38 - 8

### **Bài 3:** Tính:

24 cm - 13 cm = ...    14 cm + 35 cm = ...    50 + 10 + 10 = ...

44 cm - 2 cm = ...    9 cm + 50 cm = ...    16 - 0 + 3 = ...

### **Bài 4:** Dũng có 68 viên bi. Hùng cho Dũng 20 viên bi. Hỏi Dũng có tất cả bao nhiêu viên bi?

### **Bài 5:** Lan có 47 que tính, Lan cho Mai 21 que tính. Hỏi Lan còn lại bao nhiêu que tính?

### **Bài 6:** Nối ô trống với số thích hợp:

$14 + \square < 19$

$18 - \square < 15$

$\square + 12 < 15$

**Bài 7:** Vẽ đoạn thẳng có độ dài 4 cm ?

## CÂU LẠC BỘ TOÁN – TIẾNG VIỆT (Tuần 3)

### I. Toán

**Bài 1:** Đặt tính rồi tính:

$$31 + 9 \quad 42 + 8 \quad 13 + 7 \quad 54 + 6 \quad 49 + 21 \quad 28 + 52 \quad 37 + 13 \quad 66 + 24$$

.....  
.....  
.....

**Bài 2:** Số?

$$\begin{array}{ccccc} 9 + \dots = 11 & 9 + \dots = 12 & 9 + \dots = 13 & \dots + 5 = 14 & 6 + \dots = 15 \\ 7 + \dots = 16 & \dots + 9 = 18 & 9 + \dots = 17 & \dots + 9 = 10 & 10 + \dots = 19 \end{array}$$

**Bài 3:** Giải bài toán theo tóm tắt sau:

Bài giải

Lớp 2A có : 39 bạn .....  
Lớp 2B có : 41 bạn .....  
Cả hai lớp có : ... bạn? .....

**Bài 4:** Tính:

$$\begin{array}{cccc} 37 + 3 + 5 = & 55 + 35 + 7 = & 14 + 23 + 43 = & 56 + 34 - 90 = \\ 42 + 8 + 10 = & 48 - 20 + 2 = & 68 - 28 - 20 = & 21 + 19 + 30 = \end{array}$$

**Bài 5:** Đo độ dài đoạn thẳng rồi điền số vào chỗ chấm:

Đoạn thẳng AB dài ... cm ; Đoạn thẳng BC dài ... cm;  
Đoạn thẳng AC dài ... cm, hay là ....dm.



|          |            |          |            |            |          |            |          |           |
|----------|------------|----------|------------|------------|----------|------------|----------|-----------|
| 1.       | 13         | ..       | .5         | .1         | 3.       | 45         | .7       | ..        |
| <u>8</u> | <u>   </u> | <u>4</u> | <u>   </u> | <u>   </u> | <u>8</u> | <u>   </u> | <u>6</u> | <u>34</u> |
| 20       | .0         | 20       | .0         | .0         | 60       | 80         | 90       | 50        |

## II. Tiếng việt:

**Bài 1:** Sắp xếp lại các từ trong mỗi câu dưới đây để tạo thành một câu mới:

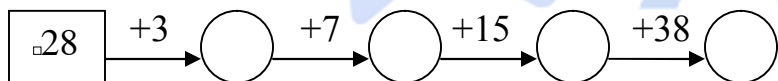
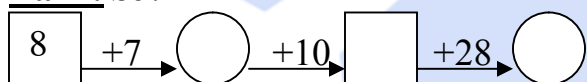
- a) Cuốn sách này mẹ mua. → .....
- b) Cái bút này chị tặng em. → .....
- c) Mẹ là người em yêu quý nhất. → .....

**Bài 2:** Ghi từ ngữ thích hợp vào chỗ chấm để tạo thành câu:

- a) Bố em là .....
- b) ..... là đồ dùng học tập thân thiết của em.

## CÂU LẠC BỘ TOÁN – TIẾNG VIỆT (TUẦN 5)

**Bài 1:** Số?



**Bài 2:** Xuân có 15 quyển vở, Xuân có nhiều hơn Thu 3 quyển vở. Hỏi Thu có bao nhiêu quyển vở?

.....

.....

**Bài 3:** Giải bài toán dựa theo tóm tắt:

Bài giải

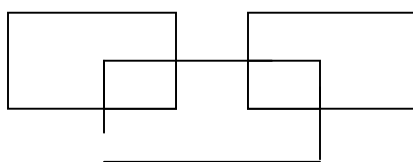
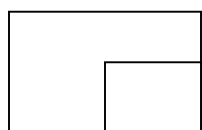
Ngăn trên: \_\_\_\_\_

.....

Ngăn dưới: \_\_\_\_\_

.....

**Bài 4:** Số?



Có .... hình chữ nhật

Có ... hình chữ nhật

## TIẾNG VIỆT

**Bài 1:** a) *Tìm thêm một tiếng mới ghép vào tiếng đã cho dùng để chỉ người:*

- bộ ....., công ....., bác ....., giáo ....., kĩ ....., học ....., nông .....

b) *Đặt câu với các từ cho trước sau:*

“quyển sách”: .....

“bút máy” : .....

“ngôi nhà”: .....

**Bài 2:** *Hoàn thành các câu sau:*

a) Mẹ em là .....

b) Bạn Hà là .....

c) ..... là bạn của nhà nông.

## CÂU LẠC BỘ TOÁN – TIẾNG VIỆT (TUẦN 8)

### I. Toán:

**Bài 1:** Đặt tính rồi tính:

26 + 43    43 + 26    29 + 18    7 + 36    26 + 14    93 + 7    72 + 28    42 + 58

**Bài 2:** Quang cân nặng 36kg. Minh cân nặng hơn Quang 8kg. Hỏi Minh cân nặng bao nhiêu li- lô-gam?

**Bài 3:** Một cửa hàng có 85 chiếc xe đạp, đã bán được 25 chiếc xe đạp. Hỏi cửa hàng còn lại bao nhiêu chiếc xe đạp?

**Bài 4:** Tính:

$16 + 5 - 10 =$

$24 - 13 + 4 =$

$45\text{kg} + 27\text{kg} - 20\text{kg} =$

$7 + 6 + 18 =$

$35 + 19 - 32 =$

$89\text{dm} - 36\text{dm} + 47\text{dm} =$

**Bài 5:** Số ?

$$\square + \square = \square$$
$$\square - \square = \square$$

$6 < 62$

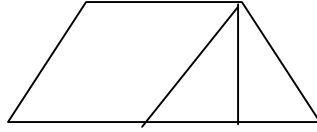
$34 > \square 5$

$7 > 78$

$\square 6 < 25 < 2\square$

**Bài 6:** Trong hình vẽ bên :

- Có ... tam giác.
- Có ... tứ giác.



## II. Tiếng Việt:

**Bài 1:** Em hãy đặt dấu phẩy vào những chỗ thích hợp trong các câu dưới đây:

- Bạn Lan lớp em chăm ngoan học giỏi.
- Mẹ em rất phúc hậu dịu dàng.
- Chúng em luôn kính trọng biết ơn thầy giáo cô giáo.
- Em nấu cơm rửa bát giúp mẹ.

**Bài 2:** Đặt câu:

- Tìm từ chỉ hoạt động của loài vật và đặt câu với từ ấy.
- Tìm một từ chỉ trạng thái của loài vật và đặt câu với từ đó.

**Bài 3:** Đặt 3 câu theo mẫu “ Ai là gì?”.

**Bài 4:** Viết một đoạn văn ngắn (4 -5 câu) kể về mẹ của em.

## CÂU LẠC BỘ TOÁN – TIẾNG VIỆT (TUẦN 8)

### I. Toán:

**Bài 1:** Đặt tính rồi tính:

$26 + 43 \quad 43 + 26 \quad 29 + 18 \quad 7 + 36 \quad 26 + 14 \quad 93 + 7 \quad 72 + 28 \quad 42 + 58$

**Bài 2:** Tính:

$16 + 5 - 10 =$

$24 - 13 + 4 =$

$45\text{kg} + 27\text{kg} - 20\text{kg} =$

$7 + 6 + 18 =$

$35 + 19 - 32 =$

$89\text{dm} - 36\text{dm} + 47\text{dm} =$

**Bài 3:** Số ?

$\square \quad \square \quad \square$

$\square$

$\square$

$$\begin{array}{l} + \quad = \\ \square - \square = \square \end{array}$$

$$6 < 62$$

$$7 > 78$$

$$34 > \square 5$$

$$\square 6 < 25 < 2\square$$

**Bài 4:** Bao gạo thứ nhất cân nặng 35kg, bao gạo này nhẹ hơn bao gạo thứ hai 8kg. Hỏi bao gạo thứ hai cân nặng bao nhiêu ki-lô-gam?

**Bài 5:** Bạn Bảo có 26 viên bi, bạn Bảo có ít hơn bạn Phúc 8 viên bi, bạn Ngân có nhiều hơn bạn Phúc 5 viên bi. Hỏi bạn Ngân có bao nhiêu viên bi?

**Bài 6:** Trong hình vẽ bên :

- Có ... tam giác.
- Có ... tứ giác.



## II. Tiếng Việt:

**Bài 1:** Em hãy đặt dấu phẩy vào những chỗ thích hợp trong các câu dưới đây:

- a) Bạn Lan lớp em chăm ngoan học giỏi.
- b) Mẹ em rất phúc hậu dịu dàng.
- c) Chúng em luôn kính trọng biết ơn thầy giáo cô giáo.
- d) Em nấu cơm rửa bát giúp mẹ.

**Bài 2:** Đặt câu:

- a) Tìm từ chỉ hoạt động của loài vật và đặt câu với từ ấy.
- b) Tìm một từ chỉ trạng thái của loài vật và đặt câu với từ đó.

**Bài 3:** Đặt 3 câu theo mẫu “ Ai là gì?”.

**Bài 4:** Viết một đoạn văn ngắn (4 -5 câu) kể về mẹ của em.

**Bài 5:** Viết một đoạn văn ngắn (4-5 câu) nói về người bạn thân của em.

## PHIẾU ÔN GIỮA KÌ I

**Phần 1:** Mỗi bài dưới đây có kèm theo các câu trả lời A, B, C, D (là đáp số, là kết quả...). Hãy khoanh vào chữ đặt trước câu trả lời đúng:

1. Số liền trước của 39 là :




A. 40                      B. 38                      C. 92                      D. 94

2. Kết quả của phép cộng  $26 + 7$  là:

A. 96                      B. 23                      C. 43                      D. 33

3. Số hình chữ nhật có trong hình bên là:



A. 9                      B. 4                      C. 5                      D. 6

4. Cho phép trừ  $59 - 34 = 25$ , số bị trừ là:

A. 25                      B. 34                      C. 59                      D. 95

5. Độ dài một gang tay của mẹ là:

A. 20 dm                      B. 2 cm                      C. 200 cm                      D. 20 cm

6.  $6\boxed{\phantom{0}} < 61$

Số cần điền là:

A. 0                      B. 2                      C. 3                      D. 9

**Phần 2:**

**1. Đặt tính rồi tính:**

$75 + 25$

$35 + 47$

$69 + 8$

$76 - 25$

.....

.....

.....

2. Một cửa hàng buổi sáng bán được 76 kg đường, buổi chiều bán được nhiều hơn buổi sáng 24 kg đường. Hỏi buổi chiều cửa hàng bán được bao nhiêu ki- lô- gam đường?

.....

.....

.....

## PHIẾU CUỐI TUẦN 9

**Để chuẩn bị cho thi giữa kì 1 (Thứ 3, thứ 4) phụ huynh cho các con đọc và trả lời các bài tập đọc đã học. Học thuộc các bảng cộng đã học.**

*Các con làm bài vào vở ô li Toán.*

### **I. TOÁN:**

**Bài 1:** Đặt tính rồi tính:

$$15 + 7 \quad 36 + 19 \quad 45 + 28 \quad 29 + 44 \quad 50 + 39 \quad 98 - 23 \quad 75 - 14$$

**Bài 2:** Tháng trước mẹ mua con lợn nặng 29kg về nuôi, tháng sau nó tăng thêm 12 kg nữa. Hỏi tháng sau con lợn đó nặng bao nhiêu ki- lô- gam?

**Bài 3:** Anh cao 78 cm, em thấp hơn anh 15 cm. Hỏi em cao bao nhiêu xăng ti mét?

**Bài 4:** An làm được 49 lá cờ, Mai làm được ít hơn An 21 lá cờ. Hỏi Mai làm được bao nhiêu lá cờ?

**Bài 5:** Tìm x:

a)  $x + 30 = 50$

c)  $7 + x = 10$

b)  $x + 12 = 47$

d)  $17 + x = 39$

**Bài 6:** Tính:

$$23 + 14 + 10 = \quad 54 - 10 + 21 = \quad 16 \text{ dm} + 5 \text{ dm} - 10 \text{ dm} =$$

$$45 + 22 - 13 = \quad 79 - 56 - 11 = \quad 24 \text{ kg} - 13 \text{ kg} + 4 \text{ kg} =$$

### **II. TIẾNG VIỆT:**

**Bài 1:** Viết câu hỏi cho bộ phận gạch chân:

a. Các bạn ấy là những đội viên ưu tú.

b. Mùa xuân là tết trồng cây.

c. Mèo là con vật hay ăn vụng nhất.

**Bài 2:** Gạch chân bộ phận trả lời câu hỏi “là gì”

a) Trung thu này là trung thu đầu tiên sống trong hoà bình.

b) Khi là con vật em yêu thích.

c) Hoa đào là loài hoa nở vào mùa xuân.

**Bài 3:** Điền dấu phẩy vào chỗ thích hợp:

a) Chào mào sáo sậu sáo đen đàn đàn lũ lũ bay đi bay về.

## PHIẾU CUỐI TUẦN 11

*Các con làm bài vào vở ô ly Toán.*

**Bài 1:** Đặt tính rồi tính hiệu, biết số bị trừ và số trừ lần lượt là:

31 và 17    62 và 44    51 và 8    82 và 9    92 và 45    52 và 27    82 và 38    42 và 16

**Bài 2:** Tìm  $x$ :

$$x + 46 = 72 \quad 48 + x = 51 \quad x + 25 = 41 \quad x + 39 = 92 \quad 47 + x = 62 \quad x + 53 = 82$$

**Bài 3:**  $>$ ,  $<$ ,  $=$  ?

$$45 \text{ cm} \dots 27 \text{ cm} + 18 \text{ cm} \qquad 52 \text{ cm} + 19 \text{ cm} \dots 81 \text{ cm}$$

$$40 \text{ cm} \dots 81 \text{ cm} - 37 \text{ cm} \qquad 72 \text{ cm} - 39 \text{ cm} \dots 16 \text{ cm}$$

$$7 \text{ dm} \dots 92 \text{ cm} - 19 \text{ cm} \qquad 41 \text{ cm} - 8 \text{ cm} \dots 4 \text{ dm}$$

**Bài 4:** Anh 22 tuổi, em kém anh 5 tuổi. Hỏi em bao nhiêu tuổi?

**Bài 5:** Có 62 lít dầu đựng trong hai can. Biết can 1 có 34 lít dầu. Hỏi can 2 có bao nhiêu lít dầu?

**Bài 6:** Tính:

$$12 - 7 - 8 = \qquad 12 - 9 - 7 = \qquad 62 - 37 - 28 = \qquad 32 - 8 - 7 =$$

$$42 - 15 + 6 = \qquad 11 - 5 + 7 = \qquad 24 + 6 - 11 = \qquad 45 - 3 + 28 =$$

**TIẾNG VIỆT:**

**Bài 1:**

- Tìm từ chỉ đồ dùng để nấu ăn ở nhà?
- Tìm từ chỉ đồ dùng để phục vụ cho việc ăn uống trong nhà?
- Tìm từ chỉ đồ dùng phục vụ cho việc nghỉ ngơi, giải trí trong nhà.

**Bài 2:** Gạch dưới từ chỉ hoạt động trạng thái

- Ông em trồng cây xoài xát này trước sân khi em còn đi lẫm chẫm.
- Mùa xoài nào, mẹ em cũng chọn những quả chín vàng và to nhất bày lên bàn thờ ông .