

BÀI KIỂM TRA HỌC SINH GIỎI TOÁN 1

(Thời gian làm bài 40 phút)

Họ và tên : Lớp :

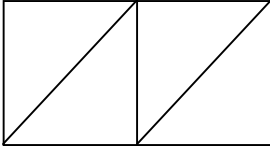
PHẦN A - TRẮC NGHIỆM

1. Đúng ghi Đ, sai ghi S vào ô trống:

Có 5 trong một năm

Có 90 số có hai chữ số

2. Khoanh tròn chữ cái trước ý trả lời đúng.

| | | |
|---|----------------------------|---------------------------|
| Với bốn chữ số 2 , 0 , 5 , 1. Ta có thể viết được bao nhiêu số có 2 chữ số khác nhau? Số cần điền vào chỗ chấm là: | a . 11 c . 9 | b . 10 d . 8 |
|  Số đoạn thẳng là: | a . 9 c . 11 | b . 10 d . 8 |
| Ngày thứ bảy của tuần này là ngày 19 tháng 2 Ngày thứ sáu của tuần trước là ngày..... | a . 12 c . 10 | b . 11 d . 9 |
| Lúc 26 tuổi mẹ sinh ra em. Năm nay mẹ 29 tuổi .Hỏi tuổi của em hiện nay? Đáp số là: | a . 55 tuổi c . 13 tuổi | b . 45 tuổi d . 3 tuổi |

PHẦN B - TRÌNH BÀY BÀI GIẢI

Bài 1.a/ Cho các số : 2 , 3 , 4.

Điền số vào ô trống sao cho khi cộng các số theo hàng ngang, cột dọc, đường chéo đều có kết quả là 9

| | | |
|--|--|--|
| | | |
| | | |
| | | |

b/ Năm nay tổng số tuổi của hai chị em Chi và Thái là 11 tuổi . Sau 2 năm nữa tổng số tuổi của hai chị em là tuổi.

Bài 2: Sang năm Nụ vừa tròn 10 tuổi . Hỏi năm ngoái Nụ bao nhiêu tuổi?

Tóm tắt

Bài giải

.....
.....
.....

Bài 3. a/ Vẽ 7 điểm trong đó có 4 điểm nằm trong hình tam giác. 5 điểm nằm trong hình tròn. Đặt tên cho các điểm.

b/ Số hình vuông là:

| | | |
|--|--|--|
| | | |
| | | |
| | | |


(A) : 9 hình

(B) : 14 hình

(C) : 13 hình

(D) : 10 hình

Bắc



c/ Ba có 6 bi, Bình có hơn Ba 3 bi ,

ít hơn Bình 2 bi. Bình có bi.

Bắc có bi.

BÀI KIỂM TRA HỌC SINH GIỎI TOÁN 1

42

(Thời gian làm bài 40 phút)

Họ và tên :Lớp :

PHẦN A - TRẮC NGHIỆM

1. Đúng ghi Đ, sai ghi S vào ô trống:

Thứ Hai là ngày đầu tuần

13 là số lẻ có hai chữ số khác nhau

2. Khoanh tròn chữ cái trước ý trả lời đúng.

| | |
|---|---|
| Với bốn chữ số 3 , 0 , 9 , 1.Ta có thể viết được bao nhiêu số có 2 chữ số ? Số cần điền vào chỗ chấm là: | a . 12 b . 11 c . 9 d . 13 |
| Số bi của Thiết và của Thủ bằng nhau. Nếu Thiết cho Thủ 2 hòn bi thì Thủ sẽ nhiều hơn Thiết mấy hòn bi? | a. 2 hòn bi b. 3 hòn bi c . 1 hòn bi d . 4 hòn bi |
| $y + 87 = 87 + 15$ y là số nào? | a . y = 72 b . y = 15 c . y = 92 d . y = 51 |
| Bố hơn mẹ 5 tuổi. Hiện nay mẹ 32 tuổi . Hỏi bố bao nhiêu tuổi? Đáp số là : | a . 34 tuổi b . 37 tuổi c . 27 tuổi d . 7 tuổi |

PHẦN B - TRÌNH BÀY BÀI GIẢI

Bài1. a/ Viết tắt cả các số có hàng đơn vị là 7 theo thứ tự giảm dần:

b/ Cho 3 chữ số: 3, 4, 5. Hãy viết tắt cả các số có hai chữ số nhỏ hơn 50:

c/ Ngày mùng 1 tháng 1 là thứ bảy . Hỏi ngày 10 tháng 1 là ngày thứ mấy? Vì sao?

- Từ thứ tư tuần này đến thứ sáu của tuần liền sau cách nhau bao nhiêu ngày?

d/ Hòa cho Bình 5 nhãn vở, Hòa còn 12 nhãn vở . Hỏi Hòa có bao nhiêu nhãn vở?

Tóm tắt

Bài giải

Bài 2.a/ Viết tiếp vào dãy số.

- 0, 1, 3, 6,,,

-,,, 10, 7, 4, 1.

b/ Điền Đ (đúng) với giá trị đúng của a và điền S (sai) với giá trị sai của a:

$$23 + 44 < a < 70$$

$$a = 68, 69 ;$$

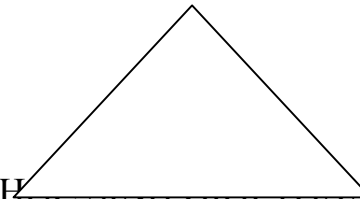
$$a = 69;$$

$$a = 67, 68, 69, 70$$

$$a = 68$$

Bài 3. a/ Có 10 quyển vở cô giáo thưởng cho hai bạn . Biết rằng số vở của bạn thứ nhất ít hơn số vở của bạn thứ hai là 4 quyển . Bạn thứ nhất có.....quyển vở; Bạn thứ hai có quyển vở.

b/ Kẻ thêm 2 đoạn thẳng vào hình bên để có 6 tam giác.



BÀI KIỂM TRA HỌC SINH GIỎI LỚP 1
(Thời gian làm bài 40 phút)

43

Họ và tên : Lớp :

PHẦN A - TRẮC NGHIỆM

1. Đúng ghi Đ, sai ghi S vào ô trống:

Số 15 đọc là: Mười năm

10 là số chẵn lớn nhất có hai chữ số

2. Khoanh tròn chữ cái trước ý trả lời đúng.

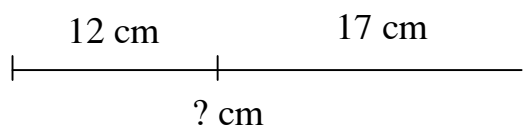
| | |
|--|---|
| Cho dãy số : 1 cm, 4 cm, 7 cm, 10 cm, 13 cm , Số cần điền vào chỗ chấm là: | a . 14 cm b . 16 c . 15 cm d . 16 cm |
| Số kẹo của Thơ và của Tuổi bằng nhau. Nếu Tuổi cho Thơ 2 cái kẹo thì Tuổi sẽ ít hơn Thơ mấy cái kẹo? | a. 2 cái kẹo b. 3 cái kẹo c . 1 cái kẹo d . 4 cái kẹo |
| 3 con chó có tất cả bao nhiêu chân? | a . 12 cái chân b. 8 cái c . 7 cái chân d. 11 cái |
| Lớp em có 24 bạn nữ và 21 bạn nam . Hỏi số nữ nhiều hơn số nam bao nhiêu bạn? Đáp số là : | a . 3 b . 45 bạn c . 45 d . 3 bạn |

PHẦN B - TRÌNH BÀY BÀI GIẢI

Bài1. a/ - Số nhỏ nhất có hai chữ số giống nhau là:.....

- Số lẻ lớn nhất có hai chữ số khác nhau là:

b/ Đặt đề toán theo tóm tắt sau rồi giải.



Bài toán:
.....
.....

Bài giải

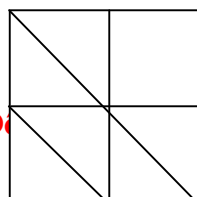
.....
.....
.....

Bài2. a/ Số? $14 + 23 = 68 - \square$

$$56 - 55 > \square - 65$$

$$3 \square$$

b/ Hình dưới đây có:
..... hình vuông.



$$\begin{array}{r} \square 3 \\ \square 3 \\ \hline 89 \end{array}$$

..... hình tam giác.
..... đoạn thẳng.

Bài 3. Hùng năm nay 10 tuổi. Hùng nhiều hơn em Lan 4 tuổi. Hỏi năm nay em Lan bao nhiêu tuổi?

Tóm tắt

Bài giải

Bài 4. - Hôm nay là thứ năm ngày 16. Hỏi ba ngày nữa là thứ mấy? Ngày mấy?

- Thứ năm tuần này là ngày 22 tháng 3. Hỏi thứ tư tuần sau là ngày mấy trong tháng?

BÀI KIỂM TRA HỌC SINH GIỎI TOÁN 1
(Thời gian làm bài 40 phút)

44

Họ và tên : Lớp :

PHẦN A - TRẮC NGHIỆM

1. Đúng ghi Đ, sai ghi S vào ô trống:

Có 10 số gồm hai chữ số giống nhau Có 4 mùa trong 1 năm

2. Khoanh tròn chữ cái trước ý trả lời đúng.

| | |
|---|---|
| Lấy số lớn nhất có hai chữ số trừ đi số lớn nhất có một chữ số được kết quả là: | a . 99 b . 9 c . 10 d . 90 |
| Đạt có nhiều hơn Tính 6 quả cam. Hỏi đạt phải cho Tính mấy quả cam để số cam của hai bạn bằng nhau? | a. 6 quả b. 2 quả c . 4 quả d . 3 quả |
| 3 con gà có tất cả bao nhiêu chân? | a . 12 cái chân b. 3 cái c . 6 cái chân d. 8 cái |
| Lúc đầu có: con chim Bay đi : 3 con chim Còn lại: 10 con chim Số cần điền vào chỗ chấm là: | a . 7 con chim b . 7 c . 13 d . 13 con chim |

PHẦN B - TRÌNH BÀY BÀI GIẢI

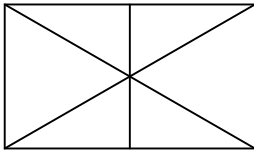
Bài 1. a/ Thay chữ a, b bằng số thích hợp (chữ giống nhau thì số giống nhau)

$$\begin{array}{r} + a b \quad \dots\dots \\ \underline{a c} \quad \dots\dots \\ 8 b \quad \dots\dots \end{array} \quad \begin{array}{r} - a a \quad \dots\dots \\ \underline{b b} \quad \dots\dots \\ b b \quad \dots\dots \end{array} \quad \begin{array}{r} + 5 a \quad \dots\dots \\ \underline{a 3} \quad \dots\dots \\ c 5 \quad \dots\dots \end{array} \quad \begin{array}{r} - n 6 \quad \dots\dots \\ \underline{2 n} \quad \dots\dots \\ d 1 \quad \dots\dots \end{array}$$

b/ Hình bên có tam giác.
.....đoạn thẳng.

c/ Ngọc có hai túi bi. Mỗi túi có 5 viên bi.
Ngọc chuyển 2 viên bi từ túi thứ hai sang túi

nhiều



thứ nhất thì bây giờ Ngọc có tất cả bao
viên bi?

Bài giải

.....
.....
.....

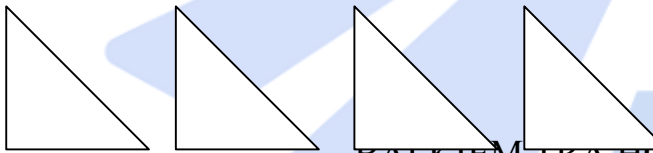
Bài 2: Nhà Lan nuôi một đàn gà. Mẹ biếu bà 1 đôi gà và bán đi 2 chục con, mẹ còn lại 5 con gà. Hỏi nhà Lan nuôi bao nhiêu con gà?

Tóm tắt

Bài giải

.....
.....
.....

Bài 3. Ghép các tam giác sau thành
2 hình vuông(Vẽ hình minh họa)



BÀI KIỂM TRA HỌC SINH GIỎI TOÁN 1

45

(Thời gian làm bài 40 phút)

Họ và tên : Lớp :

PHẦN A - TRẮC NGHIỆM

1. Đúng ghi Đ, sai ghi S vào ô trống:

Có 9 số gồm hai chữ số giống nhau Chủ nhật là ngày đầu tuần

2. Khoanh tròn chữ cái trước ý trả lời đúng.

| | | |
|---|----------------|-----------|
| Lấy số lớn nhất có một chữ số cộng với số nhỏ nhất có hai chữ số được kết quả là: | a . 99 | b . 9 |
| | c . 19 | d . 10 |
| Đạt có nhiều hơn Tính 8 quả cam. Hỏi đạt phải cho Tính mấy quả cam để số cam của hai bạn bằng nhau? | a. 6 quả | b. 8 quả |
| | c . 4 quả | d .3 quả |
| 5 con gà có tất cả bao nhiêu chân? | a .12 cái chân | b. 10 cái |
| | c .8 cái chân | d. 6 cái |
| Hùng đến trường lúc 7 giờ sáng . Hùng ra về lúc 10 giờ trưa . Hùng đã ở trường trong: | a . 1 giờ | b . 2 giờ |
| | c . 3 giờ | d . 4 giờ |

PHẦN B - TRÌNH BÀY BÀI GIẢI

Bài 1. Ghi chữ Đ vào trước câu trả lời em cho là đúng.

$$\begin{array}{r}
 - 86 \\
 \underline{+ 23} \\
 \hline
 \end{array}
 \quad
 \begin{array}{r}
 + 25 \\
 \underline{+ 43} \\
 \hline
 \end{array}
 \quad
 \begin{array}{r}
 + 48 \\
 \underline{+ 1} \\
 \hline
 \end{array}
 \quad
 \begin{array}{r}
 - 37 \\
 \underline{- 20} \\
 \hline
 \end{array}
 \quad
 \begin{array}{r}
 + 5 \\
 \underline{+ 21} \\
 \hline
 \end{array}
 \quad
 \begin{array}{r}
 - 100 \\
 \underline{- 40} \\
 \hline
 \end{array}
 \quad
 \begin{array}{r}
 + 90 \\
 \underline{+ 10} \\
 \hline
 \end{array}$$

$$69 \square \quad 68 \square \quad 58 \square \quad 17 \square \quad 26 \square \quad 60 \square \quad 100$$

$$37 - 7 - 10 + 4 > 73 - 10 - 30 + 4 \square \quad 49 - 15 + 34 = 34 + 15 - 49 + 68 \square$$

$$72 + 14 - 66 < 48 - 37 + 18 \square \quad A + 54 - B = A - B - 54 + 1$$

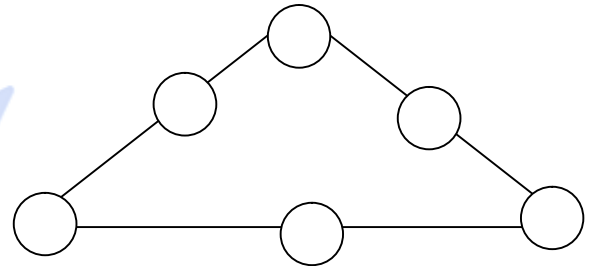
Bài 2.a/ An có 67 viên bi đựng trong 2 túi . Túi thứ nhất có chục viên bi . Túi thứ hai có bao nhiêu viên bi?

Tóm tắt

Bài giải

.....

b/ Cho các số từ 0 đến 5. Hãy điền vào vòng tròn sao cho khi cộng các số trên mỗi cạnh của hình tam giác đều được kết quả là 6.



Bài 3.a/ Hùng làm bài và học bài lúc kim giờ chỉ vào số 7 , kim phút chỉ vào số 12. Hùng học xong và đi ngủ sau 2 giờ. Hỏi lúc Hùng đi ngủ kim giờ chỉ vào số mấy? Kim phút chỉ vào số mấy?

b/ Tính: $94 - 43 + 15 = \dots\dots\dots$ $28 + 30 - 57 = \dots\dots\dots$
 $= \dots\dots\dots$ $= \dots\dots\dots$

c/ Số?

$$17 - 5 + 4 > 17 - 3 + \square$$

$$24 + a - 5 < 25 + a - \square$$

| | | | | | | |
|---|---|---|---|---|--|---|
| 9 | 5 | 3 | | 9 | | |
| | 4 | | 2 | | | 1 |

BÀI KIỂM TRA HỌC SINH GIỎI TOÁN 1
 (Thời gian làm bài 40 phút)

46

Họ và tên : Lớp :

PHẦN A - TRẮC NGHIỆM

1. Đúng ghi Đ, sai ghi S vào ô trống:

- 4 que tính nhiều hơn 3 que tính nên $4 > 3$; $14 < 20 < 19$;
 Hai quả cam lớn nặng hơn 3 quả cam nhỏ nên $2 > 3$; $12 < 14 < 15$

2. Khoanh tròn chữ cái trước ý trả lời đúng.

| | | |
|--|----------------|----------------------|
| Ngày 19 của tháng là ngày thứ tư. Hỏi ngày 11 trong tháng là ngày thứ mấy ? | a . 99 | b . 9 |
| 20 cm <input type="checkbox"/> 12 giờ | c . 19 | d . 10 |
| Dấu cần điền vào ô trống là: | a . > | b . < |
| Nếu xếp mỗi tam giác bằng 3 que diêm thì với 9 que diêm , ta có thể xếp nhiều nhất là: | c . = | d . Không có dấu nào |
| | a . 3 tam giác | b . 4 tam giác |
| | c . 2 tam giác | d . 5 tam giác |