

Bài tập HSG lớp 2

Bài 1 : Từ 3 chữ số 3, 5, 6 . Em hãy viết tất cả các số có hai chữ số có thể được.

Bài 2 : Hãy viết các số có hai chữ số sao cho mỗi số chỉ có 1 chữ số 5 .

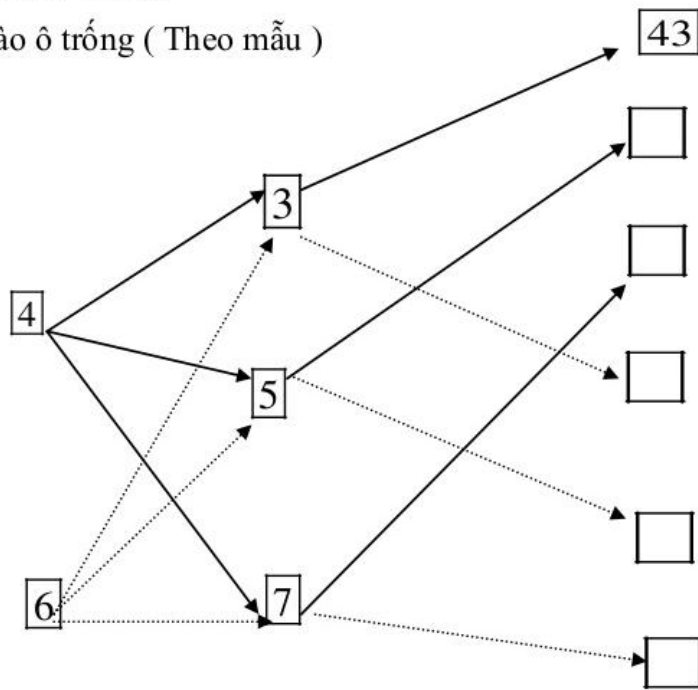
Bài 3 : Từ 3 số 4, 7, 9 em hãy viết tất cả các số có hai chữ số khác nhau (ở mỗi số không có hai chữ số giống nhau) .

Bài 4 : Số x có bao nhiêu chữ số biết :

a) x bé hơn 100

b) x đứng liền sau một số có hai chữ số

Bài 5 : Viết số thích hợp vào ô trống (Theo mẫu)



Bài 6 : Tìm x biết

a) $x + 12 = 46$

b) $42 + x = 87$

c) $x + 26 = 12 + 17$

d) $34 + x = 86 - 21$

Bài 7 : Tìm x biết

a) $x - 17 = 23$

b) $x - 15 = 21 + 49$

c) $x - 34 = 67 - 49$

Bài 8 : Tìm x biết

a) $17 - x = 12$

b) $72 + 12 - x = 48$

c) $28 + 26 - x = 67 - 39$

Bài 9 : Tìm y biết

a) $y + 56 = 56 - y$

b) $48 - y = 48 + y$

c) $9 \times y = 7 \times y$

Bài 10 : Điền dấu $<$, $>$, $=$ thích hợp vào chỗ trống (Với x khác 0)

a) $x + 32 \dots\dots\dots 41 + x$

d) $42 + 21 + x \dots\dots\dots 42 + 21$

b) $56 - y \dots\dots\dots 45 - y$

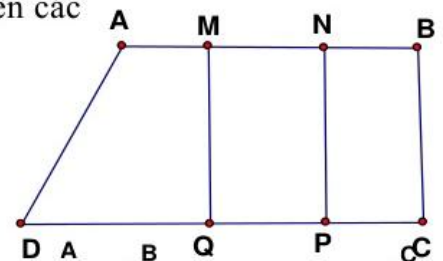
g) $52 - 47 \dots\dots\dots 52 - 47 - x$

c) $x - 26 \dots\dots\dots x - 18$

h) $29 + 42 - x \dots\dots\dots 42 + 29 + x$

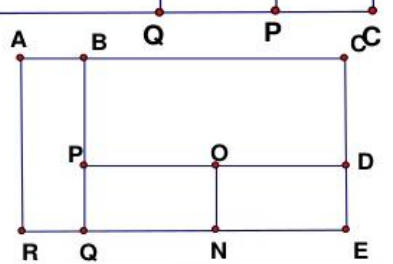
Bài 11 : Hình vẽ sau đây có bao nhiêu hình tứ giác , viết tên các hình tứ giác đó

.....
.....



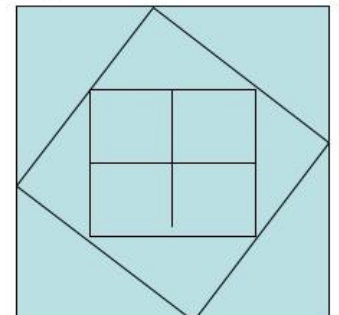
Bài 12 : Hình vẽ sau có bao nhiêu hình chữ nhật viết tên các hình chữ nhật đó

.....
.....



Bài 13 : Hình vẽ sau có bao nhiêu hình vuông , bao nhiêu hình tam giác

.....
.....
.....
.....



Bài 14 : Bao gạo thứ nhất nặng 26 kg , bao gạo thứ 2 nặng hơn bao gạo thứ nhất 15 kg . Hỏi cả hai bao gạo nặng bao nhiêu kg ?

- Bài 15 :** Thùng thứ nhất đựng 32 lít dầu , thùng thứ 2 đựng ít hơn thùng thứ nhất 9 lít dầu . Hỏi cả hai thùng đựng được bao nhiêu lít dầu ?
- Bài 16 :** Một cửa hàng có 68 kg đường . Sau một ngày bán hàng còn lại 18 kg đường . Hỏi cửa hàng đã bán hết bao nhiêu kg đường ?
- Bài 17 :** Một cửa hàng bán được 45 kg gạo trong ngày đầu , còn lại 28 gạo sau ngày thứ nhất . Sau ngày thứ hai còn lại 2 kg gạo . Hỏi lúc ban đầu cửa hàng có bao nhiêu kg gạo ? Cả hai ngày cửa hàng đã bán được bao nhiêu kg gạo ?
- Bài 18 :** Có một cân đĩa và hai quả cân loại 1kg và 5 kg . Làm thế nào cân được 4 kg gạo qua một lần cân ?
- Bài 19:** Thứ 5 tuần này là ngày 8 tháng 7 . Hỏi thứ 5 tuần trước là ngày nào ?
- Bài 20 :** Thứ sáu tuần này là ngày 16 tháng 9 . Hỏi thứ 7 tuần sau là ngày nào
- Bài 21 :** Hồng muốn biết sinh nhật của mình 15 tháng 6 là ngày thứ mấy .Bạn Mai lại cho biết ngày 7 tháng 6 là ngày thứ 3. Em hãy giúp bạn Hồng biết ngày sinh nhật của bạn là ngày thứ mấy ?
- Bài 22:** An có 12 viên bi . Bình có nhiều hơn An 9 viên bi . Chung có ít hơn Bình 6 viên bi . Hỏi cả ba bạn có bao nhiêu viên bi ?
- Bài 23 :** Bạn An có 9 viên bi . Nếu An cho Bình 4 viên bi thì Bình có 10 viên bi . Hỏi cả hai bạn có bao nhiêu viên bi
- Bài 24 :** Dũng có 1 số bi xanh và đỏ . Biết rằng số bi của Dũng ít hơn 10 viên . Trong đó số bi đỏ hơn số bi xanh 7 viên . Hỏi Dũng có bao nhiêu bi xanh , bao nhiêu bi đỏ?

2

- Bài 25 :** Lan có 4 bìa xanh và đỏ , số bìa xanh ít hơn số bìa đỏ . Hỏi Lan có bao nhiêu tấm bìa xanh , bao nhiêu tấm bìa đỏ ?
- Bài 26 :** Minh có 18 viên bi , nếu Minh cho Bình 3 viên thì Bình có nhiều hơn Minh 3 viên bi . Hỏi Bình có bao nhiêu viên bi ?
- Bài 27 :** Có ba thúng xoài , thúng thứ nhất ít hơn thúng thứ hai 6 quả , thúng thứ ba nhiều hơn thúng thứ hai 5 quả . biết thúng thứ nhất có 12 quả . Hỏi
- Thúng nào có nhiều xoài nhất ?
 - Cả ba thúng có bao nhiêu quả xoài

Bài 28 : Hình vẽ sau đây có bao nhiêu đoạn thẳng , bao nhiêu tam giác , bao nhiêu tứ giác , kể tên các hình đó

Bài 29 : Cho hình vẽ
Chu vi tam giác ACE là :

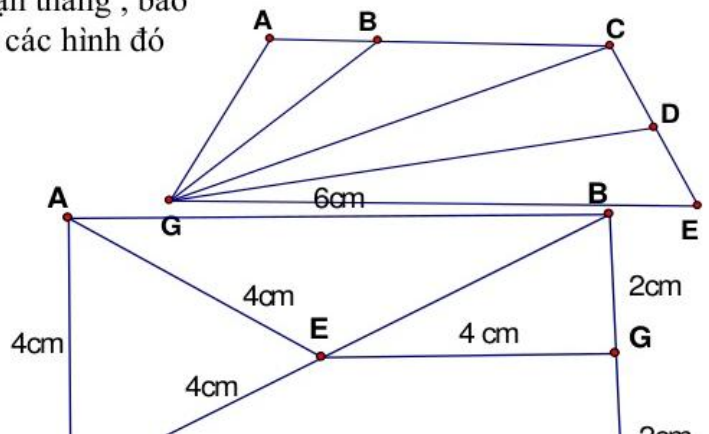
.....

Chu vi tam giác AED là :

.....

Chu vi tứ giác ABGE là :

.....



Chu vi tứ giác DEGC là :



.....

Độ dài đường gấp khúc ABCDEG là :

.....

.....

Độ dài đường gấp khúc AEDCGE là :

.....

.....

Bài 30 : Điền chữ số thích hợp vào chỗ trống

a)
$$\begin{array}{r} \square 3 \\ 5 \square \\ \hline 27 \end{array}$$

b)
$$\begin{array}{r} 8 \square \\ \square 28 \\ \hline \square 6 \end{array}$$

c)
$$\begin{array}{r} 75 \\ \square 9 \\ \hline 1 \square \end{array}$$

3

Bài 31 : Điền các số vào ô trống sao cho có đủ các số từ 1 đến 9 sao cho tổng các số trong mỗi hàng , trong mỗi cột đều bằng 15

	9	
3	5	

Bài 32 :

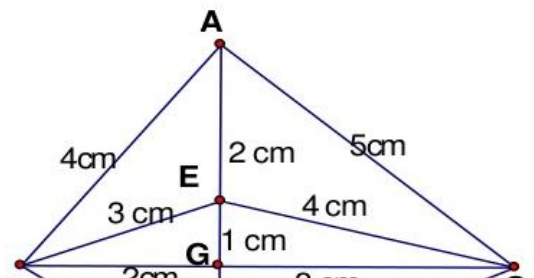
Hình vẽ bên có đoạn thẳng

Kể tên các đoạn thẳng :

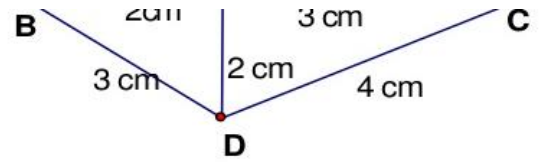
.....

.....

.....



.....
.....



Hình vẽ bên cóhình tam giác

Tính chu vi mỗi tam giác

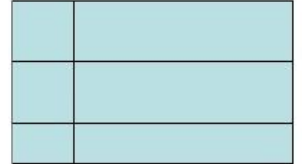
.....
.....

Bài 33 :

Hình vẽ dưới đây có tứ giác

Cóhình chữ nhật

Cóhình vuông



Bài 34 : Một cửa hàng ngày thứ nhất bán được 66 gói kẹo , ngày thứ nhất bán hơn ngày thứ hai 14 gói kẹo . Hỏi ngày thứ hai cửa hàng bán được bao nhiêu gói kẹo.

Bài 35 : Lan có nhiều hơn Huệ 8 bông hoa, Hồng có nhiều hơn Lan 4 bông hoa . Hỏi Hồng có nhiều hơn Huệ bao nhiêu bông hoa?

Bài 36 : Khánh có 18 quyển truyện . Nếu Khánh cho Hoà 2 quyển truyện thì Hoà có 19 quyển truyện . Hỏi Khánh và Hoà ai nhiều truyện hơn.

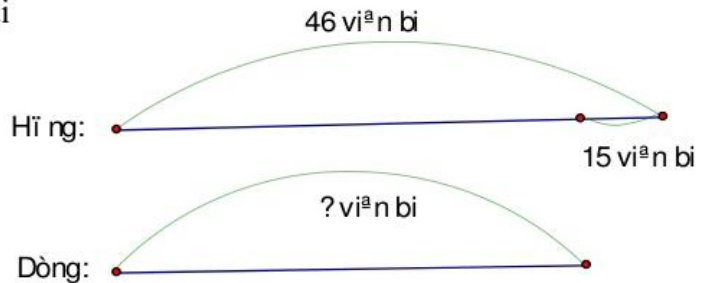
Bài 37 : Hộp thứ nhất có 78 viên kẹo , hộp thứ hai có ít hơn hộp thứ nhất 16 viên kẹo . Hỏi cả hai hộp có bao nhiêu viên kẹo?

Bài 38 : Có hai đàn vịt , đàn vịt thứ nhất có 95 con , đàn vịt thứ nhất nhiều hơn đàn vịt thứ hai 32 con . Hỏi cả hai đàn vịt có bao nhiêu con?

Bài 39 : Đoạn thẳng MN dài 45 cm , đoạn thẳng PQ ngắn hơn đoạn thẳng MN 14 cm . Hỏi đoạn thẳng PQ dài bao nhiêu cm ?

Bài 40 : Đặt một đề toán sau rồi giải

Tóm tắt :



Bài 41 : Một cửa hàng ngày thứ nhất bán được 25 chiếc xe đạp . ngày thứ nhất bán