









BÀI TẬP PHÁT TRIỂN TƯ DUY CHO TRẺ









Tên:.....

Ngày:.....

1. Khoanh tròn những số nhỏ nhất

| | | | | | | | |
|---|---|---|---|---|--|---|---|
|  |  |  |  |  |  |  |  |
| 5 | 6 | 4 | 3 | 7 | 5 | 9 | 3 |

2. Khoanh tròn những con số lớn nhất

| | | | | | | | |
|---|---|---|---|---|--|---|---|
|  |  |  |  |  |  |  |  |
| 4 | 6 | 5 | 4 | 8 | 4 | 9 | 7 |

3. Điền những số thiếu vào ô trống

| | | | | |
|----------|---|----------|--|----------|
| 0 |  | 2 |  | 4 |
| 5 |  | 7 |  | 9 |

4. Khoanh tròn con số lớn nhất trong mỗi phần

3



7



9



6



8



2



5









4



5. Vẽ vòng tròn bao quanh mỗi loài động vật



6. Khoanh tròn con số đúng

| | |
|--|---|
|  <p>2 1 3</p> |  <p>1 2 3</p> |
|  <p>3 2 1</p> |  <p>2 1 3</p> |
|  <p>3 1 2</p> |  <p>1 2 3</p> |

7. Làm phép cộng



$$\begin{array}{ccc} 5 & + & 1 & = & 6 \\ \text{.....} & & \text{.....} & & \text{.....} \end{array}$$



$$\text{.....} + \text{.....} = \text{.....}$$



$$\text{.....} + \text{.....} = \text{.....}$$



$$\text{.....} + \text{.....} = \text{.....}$$