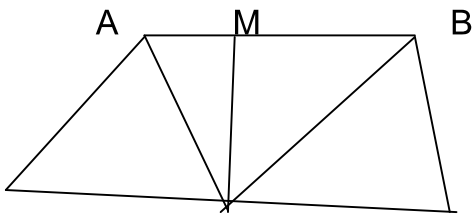


.....
.....
.....
.....
.....
.....
.....

Bài 4: Hình dưới đây cóhình tam giác và có.....hình tứ giác



Đó là:Hình tam giác:.....

.....
.....
.....

Và hình tứ giác:.....

.....
.....

Bài 5 : Tính giá trị biểu thức :

a) $6 \times 12 + 34 =$

.....
.....

b) $56 \times 3 - 19 =$

.....
.....

c) $356 - 66 : 2 =$

.....
.....

d) $245 + 12 \times (24 : 8) =$

.....
.....

Đề ôn tập môn toán lớp 2

đề số 12

Bài 1:Tính nhanh:

$42 + 25 + 8$

=.....

=.....

$56 + 29 - 26$

=.....

=.....

$72 - 38 - 32$

=.....

=.....

Bài 2:Tìm x:

$a.x + 12 = 24 + 12$

.....

.....

.....

$x - 44 = 13 + 14$

.....

.....

.....

$38 - x = 9 + 9$

.....

.....

.....

Bài 3:Lớp 2 A có 11 bạn ghi tên học thêm về âm nhạc và 9 bạn ghi tên học thêm về mỹ thuật,nhưng cả lớp chỉ có 16 bạn ghi tên học thêm về âm nhạc và về mỹ thuật.Em hãy giải thích tại sao như vậy.

Bài giải:

.....

.....

.....

.....

.....

Bài 4: Trong sân có 14 con gà.Số gà mái nhiều hơn số gà trống 2con.Hỏi có bao nhiêu con gà mái?có bao nhiêu con gà trống?

Bài giải:

.....

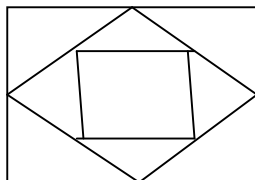
.....

.....
.....
.....
.....

Bài 5: Em hãy điền số thích hợp vào ô trống để khi cộng các số theo hàng ngang, theo cột dọc, theo đường chéo đều có kết quả như nhau.

8		
	10	
		12

Bài 6: Hãy đếm xem có bao nhiêu tam giác và bao nhiêu hình tứ giác



.....
.....
.....

Đề ôn tập môn toán lớp 2

ĐỀ SỐ 13

Bài 1: Tính nhanh:

a. $24 + 35 + 46 + 57 - 25 - 14 - 36 - 47$

=.....

=.....

=.....

b. $43 - 19 + 57 - 31$

=.....

=.....=.....

.....

Bài 2: Tìm hai số biết tổng của chúng bằng 4 và tích của chúng bằng 0

Bài giải:

Ta có:.....

.....

Vậy:.....

Bài 3: Điền số thích hợp vào ô trống:

a. $10 + 3 < \square < 17$

b. $8 + \square < 10 - \square$

Bài 4: Hiện tại tuổi ông và tuổi cháu cộng lại là 78 tuổi. Hỏi sau 4 năm nữa tuổi ông và tuổi cháu cộng lại là bao nhiêu tuổi.

Bài giải:

.....

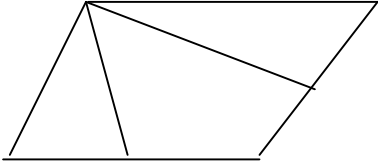
.....

.....

.....

.....

Bài 5: Hình vẽ có:.....Hình tam giác và.....hình tứ giác



Đề ôn tập môn toán lớp 2

ĐỀ SỐ 14

Bài 1: Nối dãy tính với số thích hợp:

12 :4 +5	25 :5 +4	27 :3 -2	15 :3 +1
----------	----------	----------	----------

6 7 8 9

Bài 2: Điền dấu(+; - ; x ; :)vào ô trống để được phép tính đúng:

a. 4 5 2 = 10 b. 4 2 7 = 9

Bài 3: Viết số thích hợp vào chỗ chấm:

: x : : 3

24 ----->6----->18----->9----->

x +..... : ... x 2

5----->15-----> 28----->7 ----->

Bài 4: Mỗi thùng dầu có 5lít dầu.Hỏi 3 thùng dầu như thế có bao nhiêu lít dầu?
Bài giải

.....

Bài 5: Tùng, Toàn và Nam có tất cả 8 quả bóng. Tùng có số bóng ít nhất, Toàn có số bóng nhiều nhất còn Nam có 3 quả bóng. Hỏi mỗi bạn có mấy quả bóng.

Bài giải

.....
.....
.....
.....

Đề ôn tập môn toán lớp 2

ĐỀ SỐ 15

Bài 1: Khoanh vào chữ đặt trước câu trả lời đúng:

$$4 \times 4 : 2 = \dots$$

A.3

B.16

C. 8

D. 2

Bài 2: Tìm X:

a. $3 \times X = 18 + 3$

b. $X : 2 = 18 - 14$

c. $X \times 4 = 7 + 9$

.....
.....
.....

Bài 3: Có 15 lít dầu đựng trong 3 thùng như nhau. Hỏi mỗi thùng có bao nhiêu lít dầu?

Bài giải

.....
.....
.....
.....

Bài 4: Có 15 lít dầu chia đều mỗi thùng 5 lít. Hỏi chia được mấy thùng

Bài giải:

.....
.....
.....

Bài 5: điền dấu > ; < ; =

a) $32 \times 3 \dots\dots\dots 22 \times 4$

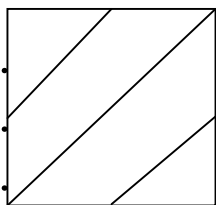
b) $22 \times 4 \dots\dots\dots 44 \times 2$

.....

c) $31 \times 3 \dots\dots\dots 11 \times 9$

d) $15 \times 6 \dots\dots\dots 14 \times 7$

Bài 6: Hình bên có.....tam giác và có.....tứ giác.



Đề ôn tập môn toán lớp 2

ĐỀ SỐ 16

Bài 1:Viết số thích hợp vào chỗ trống:

a. $3 \times \square = 24$

b. $\square \times 3 = 12$

c. $\square \times 3 = 15$

d. $2 \times \square = 16$

Bài 2: Tìm một số biết rằng số đó nhân với 3 thì được 15

Bài giải:

Bài 3: Tìm một số biết rằng 2 nhân với số đó thì bằng 19 trừ đi 7

Bài giải:

Bài 4:Nối X với số thích hợp:

$X \times 3 = 12$

$X \times 2 = 10$

$3 \times X = 9$

2 3 4 5 6

Bài 5: Nối X với số thích hợp:

$$2 < 3 \times X < 12$$

0 1 2 3 4

Đề ôn tập môn toán lớp 2

ĐỀ SỐ 17

Bài 1: Tìm X

$$X : 5 = 12 - 8$$

.....
.....
.....

$$X : 2 = 18 - 14$$

.....
.....
.....

$$X : 5 + 26 = 4 \times 9$$

.....
.....
.....
.....
.....

$$X \times 4 - 19 = 45 : 5$$

.....
.....
.....
.....
.....

Bài 2: Tìm một số, biết rằng số đó chia cho 4 thì được 5

Bài làm:

.....
.....
.....
.....

Bài 3: Số ?

$$3 \xrightarrow{X \dots} 27 \xrightarrow{-25} \square \xrightarrow{X \dots} 18 \xrightarrow{:3} \square$$

$$\square \xrightarrow{X 4} \square \xrightarrow{: 2} \square \xrightarrow{: 3} 2 \xrightarrow{X 9} \square$$

Bài 4: Tính chu vi hình tam giác có độ dài các cạnh là 2dm;4dm;27cm.

Bài giải:

.....
.....
.....
.....
.....
.....

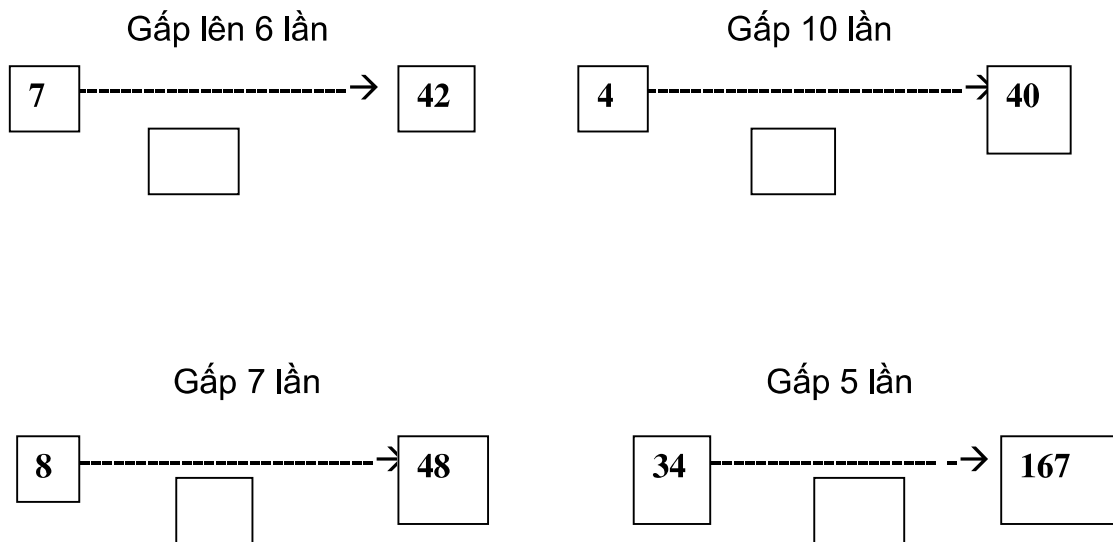
Bài 7 : Một bao gạo nặng 25 kg .Hỏi 6 bao như thế nặng bao nhiêu kg ?

.....
.....
.....

Bài 8 : Mỗi tuần có 7 ngày .Số ngày trong 8 tuần là :

- A. 63 ngày B. 56 ngày C. 49 ngày D. 65 ngày

Bài 9 : đúng ghi Đ sai ghi S



Đề ôn tập môn toán lớp 2

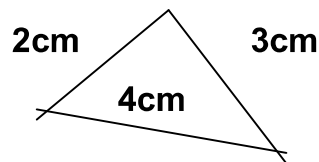
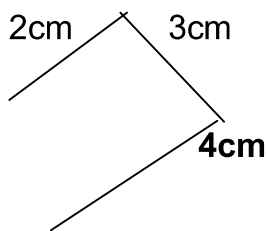
ĐỀ SỐ 18

Bài 1: Hình tam giác ABC có 3 cạnh bằng nhau và có chu vi bằng 24cm. Tính độ dài cạnh AB?

Bài giải:

.....
.....
.....

Bài 2: Hãy so sánh độ dài đường gấp khúc ABCD và chu vi hình tam giác ABC.



.....
.....
.....