

Tiết 79. Luyện tập chung tính giá trị biểu thức - Bài tập Toán 3

1. Tính giá trị biểu thức :

a)  $238 - (55 - 35) = \dots\dots\dots$        $175 - (30 + 20) = \dots\dots\dots$

b)  $84 : (4 : 2) = \dots\dots\dots$        $(72 + 18) \times 3 = \dots\dots\dots$

2. Tính giá trị biểu thức :

a)  $(421 - 200) \times 2 = \dots\dots\dots$        $421 - 200 \times 2 = \dots\dots\dots$

b)  $90 + 9 : 9 = \dots\dots\dots$        $(90 + 9) : 9 = \dots\dots\dots$

c)  $48 \times 4 : 2 = \dots\dots\dots$        $48 \times (4 : 2) = \dots\dots\dots$


d)  $67 - (27 + 10) = \dots\dots\dots$        $67 - 27 + 10 = \dots\dots\dots$

3. Điền ">, <, =" vào chỗ chấm:

$(12 + 11) \times 3 \dots 45$

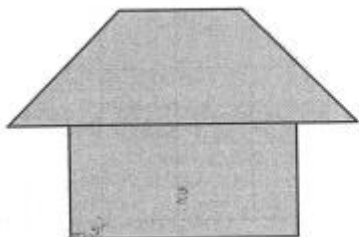
$30 \dots (70 + 23) : 3$

4. Cho 8 hình tam giác như hình bên:

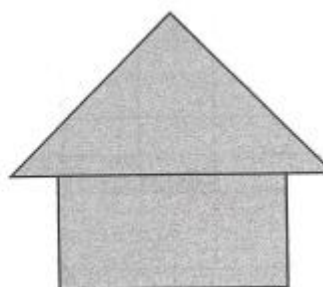


Hãy xếp thành hình cái nhà:

a)



b)



5. Tính giá trị biểu thức :

a)  $324 - 20 + 61 = \dots\dots\dots$        $180 + 12 - 50 = \dots\dots\dots$

b)  $21 \times 3 : 9 = \dots\dots\dots$        $40 : 2 \times 6 = \dots\dots\dots$

6. Tính giá trị biểu thức :

a)  $15 + 7 \times 8 = \dots\dots\dots$

b)  $90 + 28 : 2 = \dots\dots\dots$

$123 \times (42 - 40) = \dots\dots\dots$

$72 : (2 \times 4) = \dots\dots\dots$

7. Nối mỗi biểu thức với giá trị của biểu thức đó (theo mẫu):

$86 - (81 - 31)$	$90 + 70 \times 2$	$142 - 42 : 2$		
230	36	280	50	121
$56 \times (17 - 12)$	$(142 - 42) : 2$			

8. Người ta xếp 800 cái bánh vào các hộp, mỗi hộp 4 cái. Sau đó xếp các hộp vào thùng, mỗi thùng 5 hộp. Hỏi có bao nhiêu thùng bánh?

*Bài giải*

