



Ôn tập về đại lượng - Bài tập Toán 3

1. Khoanh vào chữ đặt trước câu trả lời đúng:

$$7m\ 3cm = ?$$


- A. 73cm B. 703cm C. 730cm D. 7003cm

2. Nhìn hình vẽ dưới đây rồi viết tiếp vào chỗ chấm



- a) Quả cam cân nặng b) Quả đu đủ cân nặng
c) Quả đu đủ nặng hơn quả cam là:.....

3. a) Vẽ thêm kim phút để đồng hồ chỉ thời gian tương ứng :



Lan đi từ nhà lúc 7 giờ kém 5 phút Lan tới trường lúc 7 giờ 10 phút

b) Nhìn các đồng hồ rồi viết số thích hợp vào chỗ chấm :

Lan đi từ nhà đến trường hết phút.

4. Bình có 2 tờ giấy bạc loại 2000 đồng. Bình mua bút chì hết 2700 đồng. Hỏi Bình còn lại bao nhiêu tiền?

Bài giải

.....
.....

5. Viết số thích hợp vào chỗ chấm :



- Đồng hồ chỉ giờ..... phút.

- Cho biết đồng hồ chạy nhanh 5 phút.

Lẽ ra đồng hồ phải chỉ giờ.....phút.

hoc360.net