



ÔN TẬP VỀ PHÂN SỐ

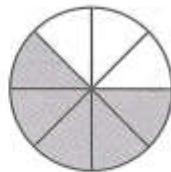
1. a) Viết phân số chỉ phần đã tô đậm của mỗi hình dưới đây (theo mẫu):



$$\frac{3}{4}$$



.....

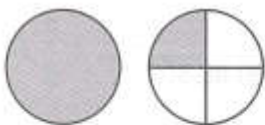


.....



.....

b) Viết hỗn số chỉ phần đã tô đậm của mỗi hình dưới đây (theo mẫu):



$$1\frac{1}{4}$$



.....



.....



.....

2. Rút gọn các phân số :

$$\frac{3}{6} = \dots\dots\dots; \quad \frac{18}{24} = \dots\dots\dots; \quad \frac{5}{35} = \dots\dots\dots;$$

$$\frac{40}{90} = \dots\dots\dots; \quad \frac{75}{30} = \dots\dots\dots;$$

3. Quy đồng mẫu số các phân số :

a) $\frac{3}{4}$ và $\frac{2}{5}$:

b) $\frac{5}{12}$ và $\frac{11}{36}$:

c) $\frac{2}{3}$, $\frac{3}{4}$ và $\frac{4}{5}$:

.....

4. Điền dấu $>$, $<$, $=$?

$$\frac{7}{12} \dots \frac{5}{12}$$

$$\frac{2}{5} \dots \frac{6}{15}$$

$$\frac{7}{10} \dots \frac{7}{9}$$

5. Viết phân số thích hợp vào vạch ở giữa $\frac{2}{5}$ và $\frac{3}{5}$ trên tia số :

