


TIẾT 15. LUYỆN TẬP XEM ĐỒNG HỒ - TOÁN 3

1. Đồng hồ chỉ mấy giờ ?




2. Giải bài toán theo tóm tắt sau :

Có : 4 thuyền

Mỗi thuyền : 5 người


Tất cả : ... người?

*Bài giải*



3. Đúng ghi Đ, sai ghi S :

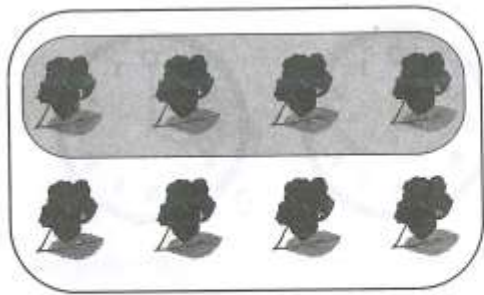
a) Đã khoanh vào  $\frac{1}{3}$  số quả cam trong hình :




Hình 1

Hình 2

b) Đã khoanh vào  $\frac{1}{2}$  số bông hoa trong hình :



Hình 3



Hình 4

4. Điền ">, <, =" vào chỗ chấm :

$2 \times 4 \dots 3 \times 4$

$12 : 3 \dots 12 : 4$

$3 \times 5 \dots 5 \times 3$

$25 : 5 \dots 24 : 4$

$5 \times 8 \dots 5 \times 6$

$18 : 3 \dots 30 : 5$