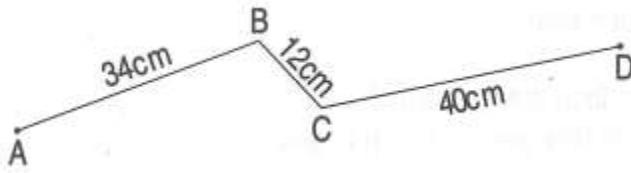



Tiết 11. Ôn tập về hình học - Toán 3

1. a) Tính độ dài đường thẳng gấp khúc ABCD :


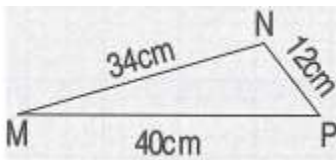


Bài giải



b) Tính chu vi hình tam giác MNP :

Bài giải

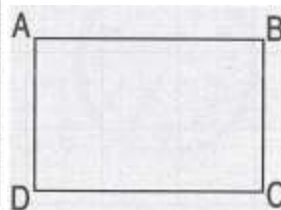



2. a) Đo độ dài mỗi cạnh hình chữ nhật ABCD, viết kết quả đo vào chỗ chấm :

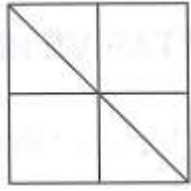
AB = BC = CD = DA =

b) Tính chu vi hình chữ nhật ABCD.

Bài giải



3. Số?

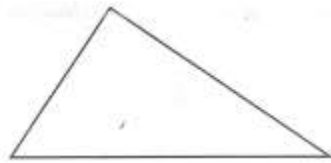


Trong hình bên có :

a) hình vuông.

b) hình tam giác.

4. Kẻ thêm một đoạn thẳng vào hình bên để được 2 hình tam giác và 1 hình tứ giác.



hoc360.net