

Tiết 10. Luyện tập các phép tính với số có ba chữ số

1. Tính :


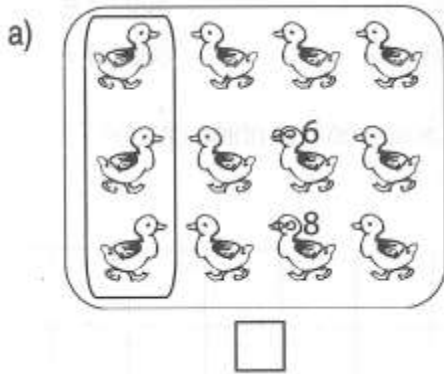
a) $5 \times 3 + 132 = \dots\dots\dots$

b) $32 : 4 + 106 = \dots\dots\dots$

c) $20 \times 3 : 2 = \dots\dots\dots$


2. Đúng ghi Đ, sai ghi S :

Đã khoanh vào $\frac{1}{4}$ số con vịt trong hình vẽ :



3. Mỗi bàn có 2 học sinh. Hỏi 4 bàn như vậy có bao nhiêu học sinh?

Bài giải



4. Xếp 4 hình tam giác để được hình cái mũ (xem hình vẽ) :

