

Ôn tập Toán lớp 3- Bộ đề ôn tập cuối năm Toán lớp 3

ĐỀ KIỂM TRA MÔN TOÁN LỚP 3

Đề 1

Bài 1 (2 đ): Tính nhanh

a. $38 + 42 + 46 + 50 + 54 + 58 + 62$

b. $11 + 137 + 72 + 63 + 128 + 89$.

Bài 2 (2 đ): Tìm x

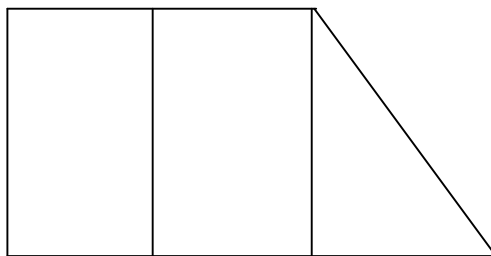
a. $64 : X = 21$ (dư 1)

b. $X : 6 = 7$ (dư 3)

Bài 3 (2 đ): An có 72 viên kẹo đựng trong 6 túi, An cho bạn 2 túi. Hỏi An còn lại bao nhiêu viên kẹo ?

Bài 4 (2 đ): Năm nay, mẹ tôi 38 tuổi. Hai năm nữa, tuổi em tôi bằng $\frac{1}{4}$ tuổi mẹ tôi. Vậy năm nay, em tôi bao nhiêu tuổi?

Bài 5 (2 đ): Hình vẽ bên có bao nhiêu hình tam giác? Bao nhiêu hình tứ giác? Hãy kể tên các hình tam giác, tứ giác đó.



ĐỀ KIỂM TRA MÔN TOÁN LỚP 3

Đề 2

Bài 1(2 đ): Tính nhanh

a. $15 \times 2 + 15 \times 3 + 15 \times 5 = 100$

b. $60 + 65 + 70 + 75 + 80 + 85 + 90 + 95$

Bài 2 (2 đ): Tìm x

a. $85 : X = 9$ (dư 4)

Ôn tập Toán lớp 3- Bộ đề ôn tập cuối năm Toán lớp 3

b. 52: $X = 4$ (dư 4)

Bài 3(2 đ): An có 27 quyển truyện tranh, Bình có 19 quyển truyện tranh, Dũng có nhiều hơn Bình 12 quyển truyện tranh. Hỏi Dũng có nhiều hơn An bao nhiêu quyển truyện tranh ?

Bài 4(2 đ): Năm nay, mẹ tôi 38 tuổi. Sang năm, tuổi anh tôi bằng $\frac{1}{3}$ tuổi mẹ tôi. Hỏi mẹ tôi sinh anh tôi năm mẹ tôi bao nhiêu tuổi ?

Bài 5(2 đ): Cho hình vuông có cạnh dài 3 cm.Tính chu vi hình vuông,diện tích hình vuông.

ĐỀ KIỂM TRA MÔN TOÁN LỚP 3

Đề 3

Bài 1(2 đ):Tính nhanh

a. $37 \times 18 - 9 \times 74 + 100$

b. $52 - 42 + 37 - 28 + 38 + 63$

Bài 2 (2 điểm): Tìm X

a. $(x + 37) + 19 = 65$

b. $(x - 36) + 17 = 80$

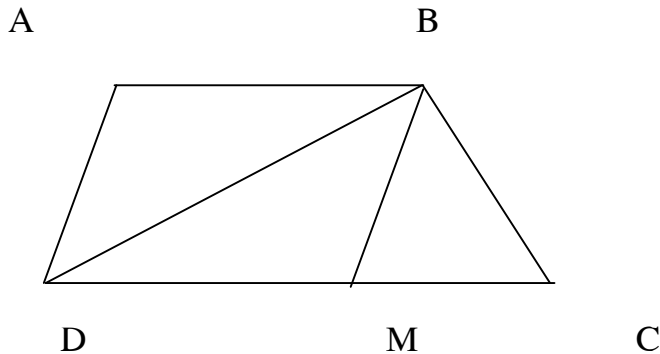
Bài 3(2 đ): Hùng có 16 que tính, Minh có nhiều hơn Hùng 7 que tính nhưng ít hơn Hải 3 que tính. Hỏi cả 3 bạn có bao nhiêu que tính ?

Bài 4(2 đ): Có 4 thùng kẹo, mỗi thùng có 6 hộp kẹo, mỗi hộp kẹo có 28 viên kẹo. Hỏi có tất cả bao nhiêu viên kẹo ?

Bài 5(2 đ): Hình vẽ bên có bao nhiêu hình tam giác ? Bao nhiêu hình tứ giác? Hãy kể tên các hình tam giác, tứ giác đó.

b. DB là cạnh chung của tam giác nào ?

Ôn tập Toán lớp 3- Bộ đề ôn tập cuối năm Toán lớp 3



ĐỀ KIỂM TRA MÔN TOÁN LỚP 3

Đề 4

Bài 1 (2 đ): Tính nhanh

a. $998 \times 2 + 2 \times 2$

b. $73 \times 2 + 2 \times 27$

Bài 2 (2 đ): Tìm X

a. $80 - (x - 23) = 65$

b. $75 - (X - 7) = 25$

Bài 3 (2 đ): Viết thêm 3 số vào mỗi dãy số sau :

a. 0, 2, 4, 6, 8, 10, 12, □.

b. 1, 3, 5, 7, 9□..

Bài 4 (2 đ): Có 3 đoạn dây dài tổng cộng 96 m. Đoạn thứ nhất dài 42 m, đoạn thứ 2 ngắn hơn đoạn thứ nhất 14 m. Hỏi đoạn dây thứ 3 dài bao nhiêu m ?

Bài 5 (2 đ): Có 5 thùng kẹo như nhau chứa tổng cộng 720 viên kẹo, mỗi thùng kẹo có 6 gói. Hỏi mỗi gói chứa bao nhiêu viên kẹo ?

ĐỀ KIỂM TRA MÔN TOÁN LỚP 3 - Đề 5

Bài 1 (2 đ): Tính nhanh

a. $1 + 2 + 3 + 4 + 5 + 6 + 7 + 8 + 9 + 10$

b. $2 + 4 + 6 + 8 + 10 + 12 + 14 + 16 + 18 + 20$

Bài 2 (2 đ): Tìm X

a. $1999 + X = 2000 + 5$

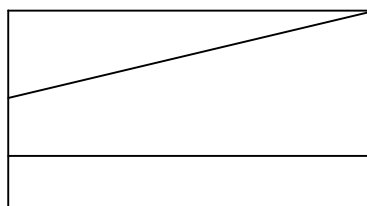
b. $X \times 2 = 3900 + 98$

Ôn tập Toán lớp 3- Bộ đề ôn tập cuối năm Toán lớp 3

Bài 3(2 đ): Một nhà máy có 3 tổ công nhân, tổ một có số công nhân gấp đôi tổ hai, tổ ba có số công nhân bằng $\frac{1}{3}$ tổ một, tổ hai có 9 công nhân. Hỏi nhà máy có bao nhiêu công nhân ?

Bài 4(2 đ): Năm nay, bố tôi 45 tuổi. Năm trước, tuổi chị tôi bằng $\frac{1}{5}$ tuổi bố tôi. Vậy năm nay, chị tôi bao nhiêu tuổi ?

Bài 5(2 đ): Hình vẽ bên có bao nhiêu hình tam giác ? Bao nhiêu hình tứ giác? Hãy kể tên các hình tam giác, tứ giác đó.



ĐỀ KIỂM TRA MÔN TOÁN LỚP 3 - Đề 6

Bài 1 (2 đ): Tính nhanh

a. $1 + 3 + 5 + 7 + 9 + 11 + 13 + 15 + 17 + 19$

b. $13 + 13 + 13 + 13 + 13 + 5$

Bài 2 (2 đ): Tìm X

a. $X + 75 = 482 - 25$

b. $X - 85 = 100 - 85$

Bài 3 (2 đ): Viết thêm 3 số vào mỗi dãy số sau :

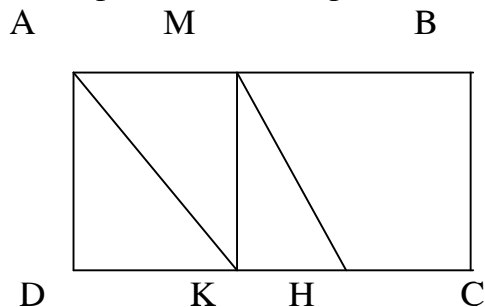
a. 10, 20, 30, 40 □ □

b. 1, 4, 7, 10, □.

Bài 4 (2 đ): Lan có 56 que tính, Lan chia cho Hồng $\frac{1}{4}$ số que tính, sau đó chia cho Huệ $\frac{1}{3}$ số que tính còn lại. Hỏi sau khi chia cho hai bạn, Lan còn lại bao nhiêu que tính ?

Bài 5 (2 đ): Hình vẽ bên có bao nhiêu hình tam giác? Bao nhiêu hình tứ giác? Hãy kể tên các hình tam giác, tứ giác đó.

Ôn tập Toán lớp 3- Bộ đề ôn tập cuối năm Toán lớp 3



ĐỀ KIỂM TRA MÔN TOÁN LỚP 3

Đề 7

Bài 1(2 đ): Tính nhanh

a. $38 + 42 + 46 + 50 + 54 + 58 + 62$

b. $11 + 137 + 72 + 63 + 128 + 89.$

Bài 2(2 đ): Tìm X

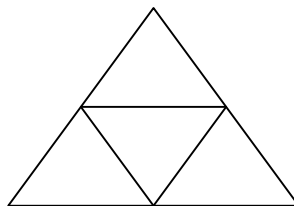
a. $X - 1 - 2 - 3 - 4 = 0$

b. $X : 4 = 22(\text{ dư } 3)$

Bài 3(2 đ): Cho 3 chữ số 1,3,2. Hãy lập tất cả các số có 3 chữ số khác nhau từ các chữ số trên.

Bài 4(2 đ) : Tấm vải thứ nhất dài hơn tấm vải thứ hai 24 m, và tổng độ dài hai tấm vải bằng 40 m. Hỏi tấm vải thứ nhất dài gấp mấy lần tấm vải thứ hai ?

Bài 5(2 đ): Hình vẽ bên có bao nhiêu hình tam giác ? Bao nhiêu hình tứ giác? Hãy kể tên các hình tam giác, tứ giác đó.



ĐỀ KIỂM TRA MÔN TOÁN LỚP 3

Đề 8

Ôn tập Toán lớp 3- Bộ đề ôn tập cuối năm Toán lớp 3

Bài 1(2 đ): Tính nhanh

a. $137 \times 3 + 3 \times 863$

b. $45 \times 9 + 45$

Bài 2(2 đ): (4đ). Tính giá trị của x trong biểu thức sau:

a. $173 - (x : 49) = 27$

b. $945 - (75 : x) = 940$

Bài 3(2 đ): Có bao nhiêu số:

a. Có 1 chữ số ?

b. Có 2 chữ số ?

c. Có 3 chữ số ?

d. Có 4 chữ số ?

Bài 4(2 đ): Hiện nay em 4 tuổi, anh 10 tuổi. Hỏi mấy năm nữa tuổi anh gấp đôi tuổi em?

Bài 5(2 đ): Cho hình vuông có chu vi bằng 20cm .Tìm diện tích hình vuông đó.

ĐỀ KIỂM TRA MÔN TOÁN LỚP 3

Đề 9

Bài 1 (2 đ): Tính nhanh

a. $345 \times 6 - 655 \times 6$

b. $468 \times 8 + 532 \times 8$

Bài 2 (2 đ): Tìm X

a. $X \times 7 = 70 : 10$

b. $X : 4 = 1800 + 23$

Bài 3 (2 đ): Có bao nhiêu số chẵn:

a. Có 1 chữ số ?

b. Có 2 chữ số ?

c. Có 3 chữ số ?

Ôn tập Toán lớp 3- Bộ đề ôn tập cuối năm Toán lớp 3

Bài 4 (2 đ): An có 42 que tính, Minh có 16 que tính. Nếu An cho Minh 7 que tính thì An còn nhiều hơn Minh bao nhiêu que tính?

Bài 5 (2 đ): Một miếng đất hình chữ nhật có chiều rộng 9cm, chiều dài hơn chiều rộng 6cm. Tìm chu vi và diện tích hình chữ nhật đó.

ĐỀ KIỂM TRA MÔN TOÁN LỚP 3

Đề 10

Bài 1 (2 đ): Tính nhanh

a. $25 \times 5 + 15 \times 5 + 60 \times 5$

b. $60 \times 4 + 4 \times 40$

Bài 2 (2 đ): Tìm X

a. $X \times 4 = 29 + 3$

b. $X : 6 = 24 + 8$

Bài 3 (2 đ): Viết tiếp 3 số hạng vào dãy số sau:

c. 1, 2, 4, 8, 16, □..

d. 45, 40, 3, 30, □..

Bài 4 (2 đ): Hiện nay con 8 tuổi, tuổi mẹ gấp 4 lần tuổi con. Hỏi trước đây mấy năm tuổi con bằng $\frac{1}{5}$ tuổi mẹ?

Bài 5 (2 đ): Hình chữ nhật có chu vi bằng 28cm chiều dài 8 cm. Tìm diện tích hình chữ nhật đó.

ĐỀ KIỂM TRA MÔN TOÁN LỚP 3

Đề 11

Bài 1 (2 đ): Tính nhanh

a. $224 \times 3 + 776 \times 3$

b. $135 \times 8 + 8 \times 965$

Bài 2 (2 đ): Tìm X

a. $X \times 3 \times 4 = 84$

Ôn tập Toán lớp 3- Bộ đề ôn tập cuối năm Toán lớp 3

b. $(X - 16) : 9 = 2$

Bài 3(2 đ): Cho dãy số: 2; 4; 6; 8; 10;..... Hỏi:

- Số hạng thứ 20 là số nào?
- Số 93 có thuộc dãy số trên không ? Vì sao ?

Bài 4(2 đ): Trong một trại chăn nuôi, An đếm được 88 chân gà, và số heo kém số gà 4 lần. Hỏi trong trại chăn nuôi có bao nhiêu chân heo ?

Bài 5(2 đ): Tuổi Tùng bằng $\frac{1}{10}$ tuổi bố và bằng $\frac{1}{8}$ tuổi của mẹ. Bố hơn mẹ 8 tuổi. Hỏi Tùng bao nhiêu tuổi ?

ĐỀ KIỂM TRA MÔN TOÁN LỚP 3

Đề 12

Bài 1(2 đ): Tính nhanh

- $416 \times 2 + 594 \times 2$
- $64 \times 4 + 37 \times 4$

Bài 2 (2 đ): Tìm X

- $(x - 19) - 20 = 36$
- $75 - (x + 8) = 60$

Bài 3 (2 đ):

- Dãy số chẵn liên tiếp từ 2 đến 246 có tất cả bao nhiêu số hạng ?
- Dãy số lẻ liên tiếp từ 15 đến 343 có tất cả bao nhiêu số hạng ?

Bài 4 (2 đ): Có 3 hộp bút chì. Nếu lấy 6 bút chì từ hộp thứ nhất chuyển sang hộp thứ hai, rồi lại lấy 4 bút chì từ hộp thứ hai chuyển sang hộp thứ ba, cuối cùng lấy 2 bút chì ở hộp thứ ba chuyển sang hộp thứ nhất thì mỗi hộp có đúng 12 bút chì. Hỏi thực sự mỗi hộp có bao nhiêu bút chì ?

Bài 5 (2 đ): Một hình chữ nhật có chiều dài gấp 3 lần chiều rộng và có diện tích bằng 75 cm.Tính chu vi hình chữ nhật đó.

Ôn tập Toán lớp 3- Bộ đề ôn tập cuối năm Toán lớp 3
ĐỀ KIỂM TRA MÔN TOÁN LỚP 3

ĐỀ 13

Bài 1 (2 đ): Tính nhanh

a. $205 \times 6 + 795 \times 6$

b. $462 \times 4 - 62 \times 4$

Bài 2 (2 đ): Cho tích sau: 9×7

a. Nếu thêm 2 đơn vị vào thừa số thứ nhất thì tích tăng bao nhiêu?

b. Nếu thêm 3 đơn vị vào thừa số thứ 2 thì tích tăng bao nhiêu ?

Bài 3(2 đ): Hai ngăn sách có tổng cộng 84 quyển. Nếu lấy 4 quyển sách của ngăn thứ nhất chuyển sang ngăn thứ hai thì số sách ở 2 ngăn bằng nhau. Hỏi thực sự mỗi ngăn có bao nhiêu quyển sách ?

Bài 4(2 đ): Nhà Hùng có nuôi 20 con gà gồm : gà trống, gà mái và gà con. Biết số gà con gấp 6 lần số gà trống và gấp 2 lần số gà mái. Hỏi mỗi loại gà có mấy con ?

Bài 5(2 đ): Có một hình vuông chu vi 20cm, một hình chữ nhật có chiều rộng bằng cạnh hình vuông và có chu vi 26 cm. Tìm diện tích hình chữ nhật.

ĐỀ KIỂM TRA MÔN TOÁN LỚP 3

ĐỀ 14

Bài 1(2 đ): Tính nhanh

a. $720 \times 3 - 20 \times 3$

b. $145 \times 5 + 955 \times 5$

Bài 2(2 đ): Cho tích sau : $A \times B$

c. Nếu thêm 1 đơn vị vào thừa số A thì tích tăng bao nhiêu?

d. Nếu thêm 5 đơn vị vào thừa số B thì tích tăng bao nhiêu ?

Bài 3(2 đ): Có một số bi chia thành 8 túi, mỗi túi được 14 viên bi. Hỏi muốn chia số bi đó thành mỗi túi 4 bi thì chia được bao nhiêu túi?

Ôn tập Toán lớp 3- Bộ đề ôn tập cuối năm Toán lớp 3

Bài 4(2 đ) : Mẹ sinh con năm 24 tuổi. Khi tuổi mẹ gấp 4 lần tuổi con thì mẹ bao nhiêu tuổi ? Con bao nhiêu tuổi ?

Bài 5(2 đ): Cho hình chữ nhật có chu vi 48cm,chiều dài hơn chiều rộng 6cm.Tìm diện tích hình chữ nhật đó.

ĐỀ KIỂM TRA MÔN TOÁN LỚP 3

Đề 15

Bài 1(2 đ): Tính nhanh

a. $350 \times 2 + 640 \times 2$

b. $125 \times 5 - 25 \times 5$

Bài 2(2 đ): (4đ). Tìm y:

a. $y \times 2 - 7 = 1003$

b. $965 - (55 : y) = 960$

Bài 3(2 đ): Hồng và Lan đi mua vở, hai bạn trả chung số tiền là 36 000 đồng, biết Hồng mua 7 quyển vở và trả nhiều hơn Lan 6000 đồng. Hỏi Lan mua bao nhiêu quyển vở ?

Bài 4(2 đ) : Hiện nay tuổi anh gấp 3 lần tuổi em. Hỏi khi tuổi em tăng gấp đôi thì lúc đó tuổi anh gấp mấy lần tuổi em ?

Bài 5(2 đ) : Cho một hình chữ nhật có chu vi 38cm,nếu tăng chiều rộng thêm 8cm và tăng chiều dài thêm 3cm thì được một hình vuông .Tìm diện tích hình chữ nhật.

ĐỀ KIỂM TRA MÔN TOÁN LỚP 3

Đề 16

Bài 1(2 đ): Tính nhanh

a. $201 \times 7 + 799 \times 7$

b. $564 \times 8 - 64 \times 4 \times 2$

Bài 2(2 đ) (4đ) .Tính giá trị của x trong biểu thức sau:

a) $674 - (12 + x) = 427$

b) $36 \times (x - 9) = 900$

Ôn tập Toán lớp 3- Bộ đề ôn tập cuối năm Toán lớp 3

Bài 3(2 đ): Một hội nghị , người ta dự kiến bố trí chỗ ngồi đủ cho 128 người dự. Nhưng thực tế có 160 người dự, nên mỗi dãy ghế phải thêm 2 chỗ ngồi. Hỏi có tất cả bao nhiêu dãy ghế?

Bài 4(2 đ) : Tuổi của bố Mai, mẹ Mai và tuổi của Mai cộng lại là 70 tuổi. Mẹ và Mai có tất cả 35 tuổi. Bố hơn Mai 30 tuổi. Hỏi tuổi của mỗi người?

Bài 5(2 đ): Cho một hình chữ nhật có chiều dài gấp 4 lần chiều rộng và có diện tích bằng 196 cm^2 .Tìm chu vi hình chữ nhật.

ĐỀ KIỂM TRA MÔN TOÁN LỚP 3

Đề 17

Bài 1(2 đ): Tính nhanh

a. $286 \times 9 + 714 \times 3 \times 3$

b. $4 \times 175 + 925 \times 2 \times 2$

Bài 2(2 đ) : Tìm X

a. $936 + 42 : x = 943$

b. $(45 - x) \times 37 = 1147$

Bài 3(2 đ): Một đoàn du khách có 26 người đón taxi, mỗi xe ta xi chở được 4 người. Hỏi đoàn du khách phải đón tất cả bao nhiêu chiếc ta xi ?

Bài 4(2 đ): Có 10 quả bóng gồm 4 loại màu: Xanh, đỏ ,tím, vàng. Biết số bóng xanh gấp 6 lần số bóng vàng, số bóng vàng bằng $\frac{1}{2}$ số bóng đỏ. Hỏi mỗi loại có bao nhiêu quả bóng?

Bài 5(2 đ): Tìm diện tích hình chữ nhật có chiều dài gấp đôi chiều rộng,biết rằng nếu tăng chiều dài thêm 8cm thì diện tích sẽ tăng thêm 48 cm^2 .

ĐỀ KIỂM TRA MÔN TOÁN LỚP 3

Đề 18

Bài 1(2 đ): Tính nhanh

a. $268 \times 6 - 68 \times 2 \times 3$

b. $80 \times 5 + 5 \times 2 \times 10$

Ôn tập Toán lớp 3- Bộ đề ôn tập cuối năm Toán lớp 3

Bài 2 (2 đ): Tìm X

a. $938 + 42 : x = 945$

b. $(45 - x) \times 3 = 114$

Bài 3 (2 đ): An hỏi Bình “ bây giờ là mấy giờ” Bình đáp : "Từ giờ đến nửa đêm bằng $\frac{1}{5}$ từ lúc bắt đầu ngày đến bây giờ”. Tính xem bây giờ là mấy giờ?

Bài 4 (2 đ) : Mẹ sinh con năm 28 tuổi. Khi tuổi mẹ gấp 4 lần tuổi con thì mẹ bao nhiêu tuổi ? Con bao nhiêu tuổi ?

Bài 5 (2 đ): Cho một hình chữ nhật có diện tích 486cm^2 . Nếu giảm chiều dài xuống 3 lần, giảm chiều rộng xuống 2 lần thì được một hình vuông. Tìm chu vi hình chữ nhật.

ĐỀ KIỂM TRA MÔN TOÁN LỚP 3

Đề 19

Bài 1 (2 đ): Tính nhanh

a. $211 \times 7 + 789 \times 7$

b. $562 \times 8 - 62 \times 4 \times 2$

Bài 2(2 đ):Tính giá trị của x trong biểu thức sau:

a) $676 - (12 + x) = 429$

b) $9 \times (x - 9) = 900$

Bài 3(2 đ): Có 4 thùng như nhau đựng 224 lít dầu.Hỏi có 9 thùng như vậy thì đựng được bao nhiêu lít dầu?

Bài 4(2 đ): Lan có 48 que tính, Hồng có số que tính bằng $\frac{1}{3}$ số que tính của Lan.Hỏi hai bạn có tất cả bao nhiêu que tính ?

Bài 5(2 đ): Hộp thứ nhất có 12 bút chì, hộp thứ hai có số bút chì gấp 3 lần hộp thứ nhất, hộp thứ ba có số bút chì kém hơn hộp thứ hai 2 lần. Hỏi hộp thứ ba nhiều hơn hộp thứ nhất bao nhiêu bút chì ?

Ôn tập Toán lớp 3- Bộ đề ôn tập cuối năm Toán lớp 3
ĐỀ KIỂM TRA MÔN TOÁN LỚP 3

Đề 20

Bài 1(2 đ): Tính nhanh

a. $415 \times 2 + 595 \times 2$

b. $65 \times 4 + 35 \times 4$

Bài 2(2 đ): Tìm X

a. $(x - 19) - 21 = 37$

b. $75 - (x + 8) = 15$

Bài 5(2 đ): Dũng và Minh có 63 viên bi, biết $\frac{1}{4}$ số bi của Dũng bằng tổng số bi của hai bạn. Hỏi mỗi bạn có bao nhiêu viên bi?

Bài 4(2 đ): Có 3 thùng dầu, thùng thứ nhất ít hơn thùng thứ hai 8 lít, thùng thứ hai ít hơn thùng thứ ba 10 lít, biết thùng thứ nhất có 27 lít dầu. Hỏi 3 thùng chứa tất cả bao nhiêu lít dầu?

Bài 5(2 đ): Cho hình chữ nhật có chu vi 52cm, chiều dài hơn chiều rộng 6cm. Tìm diện tích hình chữ nhật đó.

ĐỀ KIỂM TRA MÔN TOÁN LỚP 3

Đề 21

Bài 1(2 đ): Tính nhanh

a. $995 \times 5 + 4 \times 5 + 5$

b. $295 \times 3 - 95 \times 3$

Bài 2(2 đ): Tìm X

a. $1000 + 99 + X = 1000 + 1005$

b. $X \times 3 = 2900 + 1$

Bài 3(2 đ): Minh có 24 quyển sách, Bình có số sách gấp 3 lần Minh. Hỏi Bình phải chuyển cho Minh bao nhiêu quyển sách để có số sách của Bình gấp 2 lần số sách của Minh?

Ôn tập Toán lớp 3- Bộ đề ôn tập cuối năm Toán lớp 3

Bài 4(2 đ): Cho 3 chữ số 4,0,6. Hãy lập tất cả các số có 3 chữ số khác nhau từ các chữ số trên

Bài 5(2 đ): Hồng hỏi Cúc: “ Bây giờ là mấy giờ chiều?”. Cúc trả lời: Thời gian từ lúc 12 giờ trưa đến bây giờ bằng $\frac{1}{3}$ thời gian từ bây giờ đến hết ngày (tức 12 giờ đêm hôm nay).

Em hãy xem bây giờ là mấy giờ?