

MÔN: TOÁN - LỚP 2

Thời gian: 40 phút

1/ Đúng điền Đ, sai điền S vào ô trống.

$$\begin{array}{r} 16 \\ + 21 \\ \hline 37 \end{array} \quad \square$$

$$\begin{array}{r} 36 \\ + 5 \\ \hline 86 \end{array} \quad \square$$

$$\begin{array}{r} 25 \\ + 36 \\ \hline 511 \end{array} \quad \square$$

$$\begin{array}{r} 32 \\ - 8 \\ \hline 30 \end{array} \quad \square$$

2/ Đánh X vào ô trống trước ý trả lời đúng.

\* Số bị trừ là 36, số trừ là 12. Vậy hiệu của nó là :

a/  36

b/  24

c/  12

d/  48

\* Lớp em có 18 bạn nam và 15 bạn nữ . Vậy lớp em có tất cả là:

a/  33 bạn

b/  43 bạn

c/  313 bạn

d/  23 bạn

3/ Đặt tính rồi tính.

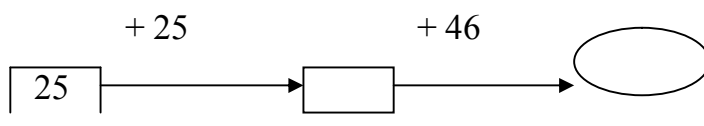
a)  $15 + 29$

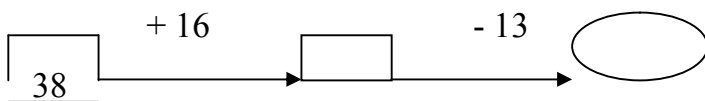
b)  $48 + 9$

c)  $50 + 17$

d)  $48 - 36$

4/ Số





5/ Bao gạo thứ nhất nặng 36 kg . Bao gạo thứ hai nặng hơn bao gạo thứ nhất 15 kg .  
Hỏi bao gạo thứ hai nặng bao nhiêu ki- lô -gam ?

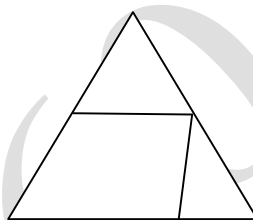
**Bài giải**

.....  
.....  
.....

6/ Hình sau có :

a/ ..... hình tam giác.

b/ ..... hình tứ giác.



**ĐỀ SỐ 56**

**KIỂM TRA ĐỊNH KÌ GIỮA HỌC KÌ I - NĂM HỌC 2011 - 2012**

**MÔN: TOÁN - LỚP 2**

Thời gian: 40 phút

**Phần 1:**

**Câu 1:** Hãy khoanh tròn vào chữ cái đặt trước câu trả lời đúng nhất :

1. “75kg” đọc là :

A. Bảy mươi lăm

C. Bảy mươi ki – lô – gam

B. Bảy mươi lăm ki – lô – gam

D. Bảy chục năm ki – lô – gam

2. Số liền sau của 99 là:

A. 98

B. 90

C. 100

D. 91

3. 100 cm = .....dm. Số thích hợp điền vào chỗ chấm là:

- A. 1                      B. 10                      C. 100                      D. 11

4. “Bạn Hà học lớp 2 cao khoảng” :

- A. 11m                      B. 11cm                      C. 11dm                      D. 11

**Câu 2 :**

a/ Đúng ghi Đ sai ghi S

$6 + 8 + 2 = 15$      

$25 + 30 = 55$      

b/ Điền dấu > ; < ; = vào chỗ chấm .....

$8 + 6$  .....  $8 + 8$

$9 + 6 - 5$  ..... 10

**Phần 2:**

Bài 1. a, Tính

25	46	57	47
+	+	+	+
9	18	19	35
-----	-----	-----	-----

b, Đặt tính rồi tính:

$36 + 46$

$35 + 47$

$8 + 59$

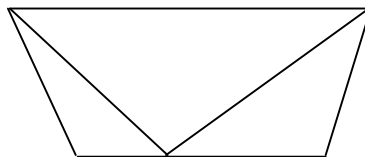
$28 + 63$

Bài 2. Hà cân nặng 29kg, Mai cân nặng hơn Hà 4kg. Hỏi Mai cân nặng bao nhiêu ki-lô-gam ?

Bài giải

Bài 3: Trong hình bên:

- a) Có ..... hình tam giác.  
b) Có ..... hình tứ giác.



ĐỀ SỐ 57

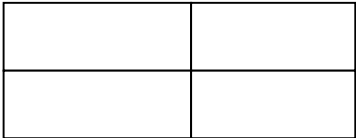
KIỂM TRA ĐỊNH KÌ GIỮA HỌC KÌ I - NĂM HỌC 2011 - 2012

MÔN: TOÁN - LỚP 2

Thời gian: 40 phút

**A. Phần I:** Trắc nghiệm :

Câu	Nội dung bài làm	Khoanh tròn vào chữ cái đặt trước kết quả đúng
1	$15\text{ cm} + 5\text{ cm} + 4\text{ cm} = \dots\dots\dots$ Kết quả đúng cần điền vào chỗ chấm là :	A. 20 cm      B. 24 cm C. 19 cm      D. 25 cm
2	Số liền sau của số 98 là :	A. 99                      B. 100 C. 88                      D. 97
3.	$9\text{dm} = \dots\dots\text{cm}$ . Số cần điền vào chỗ chấm là:	A. 9                      B. 19 C. 90
4	$32 + 15 \dots\dots\dots 32 + 14$ .Dấu cần điền vào chỗ chấm là :	A. > ;      B. < ;      C. =

5	$\begin{array}{r} + \quad 37 \\ 4 \dots \\ \hline 81 \end{array}$ <p>Chữ số cần điền vào chỗ chấm là:</p>	<p>A. 3                      B. 4</p> <p>C. 5                      D. 6</p>
6	<p>Kết quả của phép tính : <math>26 + 38</math> là :</p>	<p>A. 64                      B. 54</p> <p>C. 90                      D. 94</p>
7	 <p>Hình vẽ trên có số hình chữ nhật là :</p>	<p>A. 6 hình                      B. 7 hình</p> <p>C. 8 hình                      D. 9 hình</p>
8	$7 \dots > 78$ Chữ số thích hợp điền vào chỗ chấm là:	<p>A. 6                              B. 7</p> <p>C. 8                              D. 9</p>
9	$50 < \dots < 70$ Số tròn chục cần điền vào chỗ chấm là:	<p>A. 60                              B. 40</p> <p>C. 70                              D. 50</p>
10	<p>Chi hái được 21 quả bưởi. Mẹ hái nhiều hơn Chi 9 quả bưởi . Hỏi mẹ hái được bao nhiêu quả bưởi ?</p>	<p>A. 30 quả bưởi</p> <p>B. 12 quả bưởi</p> <p>C. 29 quả bưởi</p> <p>D. 13 quả bưởi</p>

**B/ Phần II-Tự luận :**

**1. Tính: ( 2 điểm )**

$$\begin{array}{r} + 35 \\ 42 \\ \hline \end{array} \quad \begin{array}{r} 68 \\ - 36 \\ \hline \end{array} \quad \begin{array}{r} 94 \\ - 50 \\ \hline \end{array} \quad \begin{array}{r} 87 \\ \perp 13 \\ \hline \end{array}$$

.....

**2. Điền dấu**  **vào chỗ chấm:**

$$381 - 81 \dots 301 \quad ;$$

$$76 \text{ kg} - 34 \text{ kg} + 29 \text{ kg} \dots 70 \text{ kg}$$

**3. Một cửa hàng buổi sáng bán được 48 lít dầu, buổi chiều bán được ít hơn buổi sáng 11 lít dầu . Hỏi buổi chiều cửa hàng bán được bao nhiêu lít dầu ?**

**Bài giải:**


ĐỀ SỐ 58

KIỂM TRA ĐỊNH KÌ GIỮA HỌC KÌ I - NĂM HỌC 2011 - 2012

MÔN: TOÁN - LỚP 2

Thời gian: 40 phút

**Phần 1:** Mỗi bài tập dưới đây có các câu trả lời A, B, C, D. Hãy khoanh tròn chữ đặt trước câu trả lời đúng:

1/ Số liền trước của 61 là:

A. 62

B. 60

C. 59

D. 63

2/ Số liền sau của 99 là:

A. 96

B. 97

C. 98

D. 100

3/ Viết số thích hợp vào chỗ trống:

$$10 = 6 + \dots\dots\dots$$

Số viết vào chỗ chấm là:

A. 3

B. 4

C. 5

D. 6

4/ Hãy khoanh vào câu có kết quả đúng:

$$18 + 7 = ?$$

A. 25

B. 23

C. 27

D. 30

5/ 45 là kết quả của phép tính nào?

A.  $17 + 27$

B.  $17 + 24$

C.  $28 + 17$

D.  $38 + 15$

6/  $15\text{ cm} + 5\text{ cm} + 4\text{ cm} = \dots\dots\dots$ . Kết quả đúng cần điền vào chỗ chấm là :

A. 20 cm

B. 24 cm

C. 19 cm

D. 25 cm

7/  $80\text{ cm} = \dots\dots\text{ dm}$ . Số cần điền vào chỗ trống là:

A. 80

B. 8

C. 18

D. 1

8/  $50 < \dots\dots\dots < 70$ . Số tròn chục cần điền vào chỗ chấm là:

A. 60

B. 40

C. 70

D. 50

9/  $90 - 40 = ?$

A. 40

B. 60

C. 50

D. 80


10/ Hình sau có mấy hình chữ nhật?

A. 3

B. 4

C. 5

D. 6



**Phần 2:**

1/ Tính:

$3\text{ kg} + 6\text{ kg} - 4\text{ kg} =$

$16\text{ kg} + 2\text{ kg} - 5\text{ kg} =$

2/ Đặt tính rồi tính:

$68 + 13$

$56 - 42$

$58 + 26$

$18 + 22$

.....  
.....  
.....  
.....

3/ Mẹ mua về 26 kg vừa gạo nếp vừa gạo tẻ, trong đó có 13 kg gạo tẻ. Hỏi có bao nhiêu ki-lô-gam gạo nếp?

**ĐỀ SỐ 59**

**KIỂM TRA ĐỊNH KÌ GIỮA HỌC KÌ I - NĂM HỌC 2011 - 2012**

**MÔN: TOÁN - LỚP 2**

Thời gian: 40 phút



Hãy đánh dấu X vào  đặt trước câu trả lời đúng:

Câu 1/ Kết quả của phép cộng  $28 + 4$  là:

a  68

c  32

b  22

d  24

Câu 2/ Kết quả của phép trừ  $64\text{kg} - 12\text{kg}$  là:

a  42kg

c  52

b  42

d  52kg

Câu 3/ Số liền trước số 48 là:

a  47

b  49

c  50

Câu 4/ Số liền sau số 79 là:

a  78

c  77

b  80

d  69

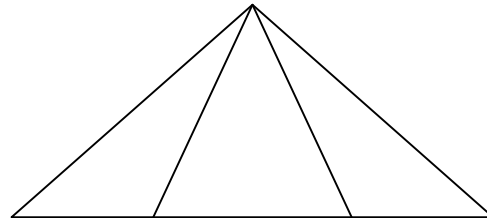
Câu 5/ Hình bên có mấy hình tam giác?

a  3 hình

c  5 hình

b  4 hình

d  6 hình



Câu 6/ Điền chữ số thích hợp vào ô trống

$$\begin{array}{r} 5 \square \\ + 27 \\ \hline \end{array}$$

6 6

\_\_\_\_\_

$$\begin{array}{r} + \square 8 \\ \hline \end{array}$$

\_\_\_\_\_

8 1

9

Câu 7/ Tính

$\begin{array}{r} 15 \\ + 7 \\ \hline \end{array}$	$\begin{array}{r} 36 \\ + 9 \\ \hline \end{array}$	$\begin{array}{r} 45 \\ - 15 \\ \hline \end{array}$	$\begin{array}{r} 50 \\ - 30 \\ \hline \end{array}$
----------------------------------------------------	----------------------------------------------------	-----------------------------------------------------	-----------------------------------------------------

Câu 8/ Tháng trước mẹ mua con lợn nặng 29 kg về nuôi, tháng sau nó tăng thêm 12 kg nữa. Hỏi tháng sau con lợn đó nặng bao nhiêu ki-lô-gam?

Bài giải

.....

.....

.....

.....

Câu 9/ Tính:

$$5 \text{ kg} + 15 \text{ kg} + 6 \text{ kg} =$$

$$151 - 121 + 301 =$$

$$7 \text{ cm} + 8 \text{ cm} + 9 \text{ cm} =$$

$$6 \text{ cm} - 4 \text{ cm} + 27 \text{ cm} =$$