

.....

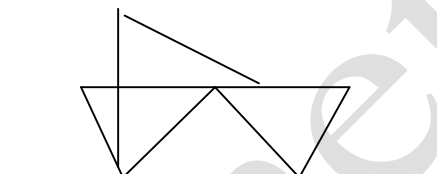
.....

.....

Bài 5: Hình bên có: đoạn thẳng.

Tam giác.

Tứ giác.



TRƯỜNG TIỂU HỌC GIA ĐỀ KIỂM TRA HỌC SINH GIỎI TIỂU HỌC SINH

Năm học : 2010-2011

MÔN TOÁN 2

(Thời gian làm bài 40 phút)

Bài 1: (4 điểm)

a) Viết tất cả các chữ số có hai chữ số mà tổng hai chữ số của số đó bằng số nhỏ nhất có hai chữ số.

.....

b) Tính tổng các số lập được ở trên

.....

.....

Bài 2 : (5 điểm)

1. Tìm x

a) $X \times 2 \times X = 8$

b) $X : 2 \times X = 8$

.....

.....

.....

2. Tính nhanh

a) $10 - 9 + 8 - 7 + 6 - 5 + 4 - 3 + 2 - 1$

.....

.....

b) $1 + 3 + 5 + 7 + 9 + 10 + 8 + 6 + 4 + 2 + 0$

.....

.....

Bài 3 : (6 điểm)

1. Năm nay kỉ niệm ngày quốc tế lao động 1- 5 vào thứ 3

Năm nay kỉ niệm ngày thành lập đội 15-5 vào thứ

Năm nay kỉ niệm ngày sinh nhật Bác 19-5 vào thứ

2. Hoa, Mai, Huệ cùng gắp thuyền được tất cả 60 chiếc. Số thuyền của Hoa ít hơn số thuyền của Huệ là 3 chiếc. Số thuyền của Hoa và Mai cộng lại được 37 chiếc. Hỏi mỗi bạn gắp được bao nhiêu chiếc thuyền ?

Tóm tắt

Bài giải

.....

.....

.....

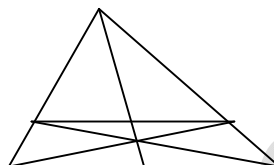
.....

Bài 4 : (4 điểm)

Hình vẽ bên có :

a) hình tam giác

b) hình tứ giác



Bài 5 : (1 điểm)

Hiệu lớn nhất của hai số có hai chữ số khác nhau là bao nhiêu ?

.....

TRƯỜNG TIỂU HỌC GIA SĨ ĐỀ KIỂM TRA HỌC SINH GIỎI: MÔN TOÁN 2
SINH

(Thời gian HS làm bài 40 phút)

Họ và tên.....Lớp.....

BÀI 1:

a/ Viết các số có hai chữ số mà chữ số hàng chục kém chữ số hàng đơn vị là 4:

.....

b/ Tìm hai số khi biết tổng của chúng bằng 8 và hiệu tích của chúng bằng 0.

.....
.....

BÀI 2:

a/ Viết mỗi biểu thức sau thành tích hai thừa số;

$$4 \times 3 + 4 \times 2 = \dots\dots\dots$$

$$3 \times 5 + 3 = \dots\dots\dots$$

b/ Điền số thích hợp vào ô trống:

$$\square : 5 + 32 = 32$$

$$27 \times \square + 14 = 41$$

$$35 : \square - 17 = 18$$

$$\square \times 12 + 43 = 43$$

BÀI 3:

a/ Tìm x

$$x \times 5 = 12 + 18$$

$$x + x + x - 12 = 15$$

Viết số x bé nhất khi $45 < X - 6 < 58$

.....X

bằng.....

vì

.....

BÀI 4: An có một số vở , An viết hết 7 vở, còn lại 8 vở chưa viết. Hỏi An có bao nhiêu quyển vở?

Tóm tắt

Bài giải

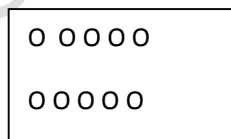
.....
.....
.....
.....
.....

b/ Tùng có một số kẹo , Tùng cho anh 2 chiếc thì số kẹo hai anh em bằng nhau. Vậy Tùng hơn anh.....cái kẹo, vì

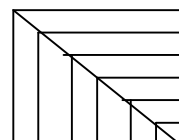
.....

BÀI 5:

a/Gạch 2 gạch vào $\frac{1}{3}$ số hình tròn trong hình vẽ , và gạch 1 gạch vào $\frac{1}{5}$ số hình tròn còn lại.



b/ Hình vẽ bên có;



.... Hình tam giác

..... Hình tứ giác

.....Hình vuông.

ĐỀ KHẢO SÁT HỌC SINH GIỎI – NĂM HỌC 2010– 2011

MÔN: Toán – Lớp 2

(Thời gian làm bài 40 phút)

Họ và tên:**Lớp:**.....**SBD**

Số phách

Điểm:

Bài 1: (4 điểm)

a/ Viết các số từ 31 đến 40 theo thứ tự giảm dần:

.....

b/ Trong các số vừa viết được, hiệu của số lớn nhất và số bé nhất là:

.....

c/ Viết hiệu đó dưới dạng tích của 2 thừa số:

.....

Bài 2: (7 điểm) - 1/ Số?

$$\square \times 3 < 12$$

$$12 : \square > 2$$

$$41 < \square + 16 < 44$$

$$2 \times 9 < \square \times 9$$

$$\square - 32 = 16 + 20 - 19$$

$$9 > \square : 2 > 7$$

2/ Tính nhanh:

$$5 \times 5 \times 2 =$$

.....

.....

$$26 + 17 + 23 - 24 =$$

.....

.....

Bài 3: (6 điểm)

1/ Thứ hai tuần này là ngày mùng 2. Hỏi thứ tư tuần sau là ngày nào? Vì sao?

.....

.....
.....
.....

2/ Ba năm trước Tân lên 6 tuổi. Hỏi sau 5 năm nữa Tân bao nhiêu tuổi.

.....
.....
.....
.....

Bài 4: (3 điểm) Vẽ hình minh họa:

Có 6 cây trồng thành: 3 hàng, mỗi hàng 3 cây và 3 hàng mỗi hàng 2 cây

TRƯỜNG TIỂU HỌC GIA SINH

ĐỀ KHẢO SÁT HỌC SINH GIỎI BẬC TIỂU
HỌC

Năm học 2010 - 2011

Thời gian làm bài: 40 phút

Bài 1 (4 điểm)

a) Tìm số lớn nhất điền vào chỗ chấm:

$$90 > 91 - \dots > 85$$

$$148 < \dots < 155$$

b) Các số có 2 chữ số mà tổng của chữ số hàng chục và chữ số hàng đơn vị bằng 5 là:.....
.....

Bài 2 (4 điểm):

a) Điền số:

$$\square - 28 = 15 - 3$$
$$\square : 4 = 2 \times 3$$

$$18 : \square = 12 : 2$$
$$3 < 15 : \square < 6$$

b) Điền dấu phép tính và số thích hợp vào ô trống:

1 □	□ □	□	3
<u>□ 6</u>	<u>□ □</u>	<u>6</u>	<u>□</u>
7 4	2 5	6	0

Bài 3 (4 điểm):

a) Vũ nói: "6 giờ chẳng khác gì 18 giờ". Thụ nói: "6 giờ và 18 giờ có khác nhau đấy chứ!". Em hãy cho biết Vũ muốn nói gì? Thụ muốn nói gì?

.....

.....

.....

b) Điền Đ vào câu trả lời đúng, S vào câu trả lời sai:

Ngày thứ 2 đầu tiên của tháng 4 là ngày 6, vậy trong tháng 4 có:

A) 3 ngày thứ 2 B) 4 ngày thứ 2 C) 5 ngày thứ 2

Bài 4 (5 điểm): Trong dịp tết trồng cây mùa xuân vừa qua lớp em trồng cây được 18 cây các loại bao gồm: vải, nhãn, cam, mỗi loại 4 cây, còn lại là cây bóng mát. Tìm số cây bóng mát lớp em trồng được?

Tóm tắt

Bài giải

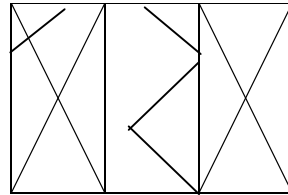
.....

.....

.....

.....

(3điểm): Hình vẽ bên có:



.....hình vuông

.....hình tam giác.

ĐỀ THI KHẢO SÁT CHẤT LƯỢNG HỌC SINH GIỎI

MÔN : TOÁN (LỚP 2)

Thời gian làm bài (40 phút)

Bài 1 : (6 điểm)

1- Cho các chữ số : 0, 1, 2, 3

a- Viết tất cả các số có hai chữ số khác nhau từ các số trên

- Các số đó là:

b- Tính tổng các số chẵn vừa viết được ở trên:

2- Viết tiếp thích hợp vào ô trống.

1; 4; 7; \square ; \square ; \square

Bài 2 (5 điểm)

1- Với ba chữ số 1; 0; 6

a- Viết số có ba chữ số có giá trị lớn nhất - số đó là:

b- Viết số có ba chữ số có giá trị nhỏ nhất - số đó là:

2- Điền số :

$$\square \times 3 \quad 12 : \dots 3 \quad \square$$

→ →

$$\square \quad \square \quad \square$$
$$2 \times \dots \quad 14 + \dots \quad 30$$

→ →

Bài 3: (6 điểm)

1- Thứ ba tuần này là ngày 10 tháng 4

- Thứ ba tuần trước là ngày.....

- Thứ ba tuần sau là ngày.....

2- Nếu thái cho bình 6 viên bi thì số bi của 2 bạn bạn bằng nhau mỗi bạn có 25 viên. Hỏi trước đó:

+Thái có bao nhiêu viên bi?

+ Bình có bao nhiêu viên bi?

Bài giải

.....
.....