

.....

.....

.....

2. Tính nhanh

a) $10 - 9 + 8 - 7 + 6 - 5 + 4 - 3 + 2 - 1$

.....

.....

b) $1 + 3 + 5 + 7 + 9 + 10 + 8 + 6 + 4 + 2 + 0$

.....

.....

Bài 3 : (6 điểm)

1. Năm nay kỉ niệm ngày quốc tế lao động 1- 5 vào thứ 3

Năm nay kỉ niệm ngày thành lập đội 15-5 vào thứ

Năm nay kỉ niệm ngày sinh nhật Bác 19-5 vào thứ

2. Hoa, Mai, Huệ cùng gấp thuyền được tất cả 60 chiếc. Số thuyền của Hoa ít hơn số thuyền của Huệ là 3 chiếc. Số thuyền của Hoa và Mai cộng lại được 37 chiếc. Hỏi mỗi bạn gấp được bao nhiêu chiếc thuyền ?

Tóm tắt

Bài giải

.....

.....

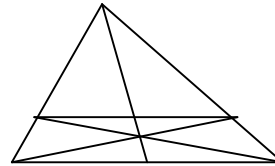
.....

Bài 4 : (4 điểm)

Hình vẽ bên có :

a) hình tam giác

b) hình tứ giác



Bài 5 : (1 điểm)

Hiệu lớn nhất của hai số có hai chữ số khác nhau là bao nhiêu ?

.....

TRƯỜNG TIỂU HỌC GIA
SINH

ĐỀ KIỂM TRA HỌC SINH GIỎI: MÔN TOÁN 2

(Thời gian HS làm bài 40 phút)

Họ và tên.....Lớp.....

BÀI 1:

a/ Viết các số có hai chữ số mà chữ số hàng chục kém chữ số hàng đơn vị là 4:

.....

b/ Tìm hai số khi biết tổng của chúng bằng 8 và hiệu tích của chúng bằng 0.

.....

.....

BÀI 2:

a/ Viết mỗi biểu thức sau thành tích hai thừa số:

$4 \times 3 + 4 \times 2 = \dots\dots\dots$

$3 \times 5 + 3 = \dots\dots\dots$

b/ Điền số thích hợp vào ô trống:

$\square : 5 + 32 = 32$

$27 \times \square + 14 = 41$

$35 : \square - 17 = 18$

$\square \times 12 + 43 = 43$

BÀI 3:

a/ Tìm x

$x \times 5 = 12 + 18$

$x + x + x - 12 = 15$

Viết số x bé nhất khi $45 < X - 6 < 58$

.....Xbằng..... vì

.....

BÀI 4: An có một số vở , An viết hết 7 vở, còn lại 8 vở chưa viết. Hỏi An có bao nhiêu quyển vở?

Tóm tắt

Bài giải

.....
.....
.....
.....
.....

b/ Tùng có một số kẹo , Tùng cho anh 2 chiếc thì số kẹo hai anh em bằng nhau. Vậy Tùng hơn anh.....cái kẹo, vì

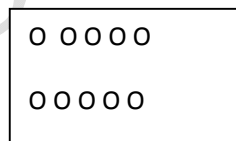
.....

BÀI 5:

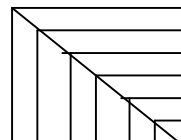
a/Gạch 2 gạch vào $\frac{1}{3}$ số hình tròn trong

hình vẽ , và gạch 1 gạch vào $\frac{1}{5}$ số hình tròn

còn lại.



b/ Hình vẽ bên có;



.... Hình tam giác

..... Hình tứ giác

.....Hình vuông.

ĐỀ KHẢO SÁT HỌC SINH GIỎI – NĂM HỌC 2010– 2011

MÔN: Toán – Lớp 2

(Thời gian làm bài 40 phút)

Họ và tên:Lớp:.....SBD

Số phách

Điểm:

Bài 1: (4 điểm)

a/ Viết các số từ 31 đến 40 theo thứ tự giảm dần:

.....

b/ Trong các số vừa viết được, hiệu của số lớn nhất và số bé nhất là:

.....

c/ Viết hiệu đó dưới dạng tích của 2 thừa số:

.....

Bài 2: (7 điểm) - 1/ Số?

$$\square \times 3 < 12$$

$$12 : \square > 2$$

$$41 < \square + 16 < 44$$

$$2 \times 9 < \square \times 9$$

$$\square - 32 = 16 + 20 - 19$$

$$9 > \square : 2 > 7$$

2/ Tính nhanh:

$$5 \times 5 \times 2 =$$

$$26 + 17 + 23 - 24 =$$

.....

.....

.....

.....

Bài 3: (6 điểm)

1/ Thứ hai tuần này là ngày mùng 2. Hỏi thứ tư tuần sau là ngày nào? Vì sao?

.....

.....

2/ Ba năm trước Tân lên 6 tuổi. Hỏi sau 5 năm nữa Tân bao nhiêu tuổi.

.....
.....
.....
.....

Bài 4: (3 điểm) Vẽ hình minh họa:

Có 6 cây trồng thành: 3 hàng, mỗi hàng 3 cây và 3 hàng mỗi hàng 2 cây

TRƯỜNG TIỂU HỌC GIA SINH

ĐỀ KHẢO SÁT HỌC SINH GIỎI BẬC TIỂU
HỌC

Năm học 2010 - 2011

Thời gian làm bài: 40 phút

Bài 1 (4 điểm)

a) Tìm số lớn nhất điền vào chỗ chấm:

$$90 > 91 - \dots > 85$$

$$148 < \dots < 155$$

b) Các số có 2 chữ số mà tổng của chữ số hàng chục và chữ số hàng đơn vị bằng 5 là:.....
.....

Bài 2 (4 điểm):

a) Điền số:

$$\square - 28 = 15 - 3$$
$$\square : 4 = 2 \times 3$$

$$18 : \square = 12 : 2$$
$$3 < 15 : \square < 6$$

b) Điền dấu phép tính và số thích hợp vào ô trống:

1 <input type="checkbox"/>	<input type="checkbox"/> <input type="checkbox"/>	<input type="checkbox"/>	3
<u> </u> <u>6</u>	<u> </u> <u> </u>	<u> </u> <u>6</u>	<u> </u> <u> </u>
7 4	2 5	6	0

Bài 3 (4 điểm):

a) Vũ nói: "6 giờ chẳng khác gì 18 giờ". Thư nói: "6 giờ và 18 giờ có khác nhau đấy chứ!". Em hãy cho biết Vũ muốn nói gì? Thư muốn nói gì?

.....

.....

.....

b) Điền Đ vào câu trả lời đúng, S vào câu trả lời sai:

Ngày thứ 2 đầu tiên của tháng 4 là ngày 6, vậy trong tháng 4 có:

A) 3 ngày thứ 2 B) 4 ngày thứ 2 C) 5 ngày thứ 2

Bài 4 (5 điểm): Trong dịp tết trồng cây mùa xuân vừa qua lớp em trồng cây được 18 cây các loại bao gồm: vải, nhãn, cam, mỗi loại 4 cây, còn lại là cây bóng mát. Tìm số cây bóng mát lớp em trồng được?

Tóm tắt

Bài giải

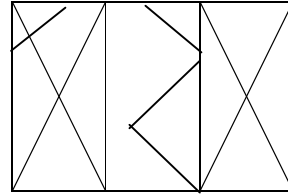
.....

.....

.....

.....

..... **Bài 5**
(3điểm): Hình vẽ bên có:



.....hình vuông

.....hình tam giác.

ĐỀ THI KHẢO SÁT CHẤT LƯỢNG HỌC SINH GIỎI

MÔN : TOÁN (LỚP 2)

Thời gian làm bài (40 phút)

Bài 1 : (6 điểm)

1- Cho các chữ số : 0, 1, 2, 3

a- Viết tất cả các số có hai chữ số khác nhau từ các số trên

- Các số đó là:

b- Tính tổng các số chẵn vừa viết được ở trên:

2- Viết tiếp thích hợp vào ô trống.

1; 4; 7; □; □; □

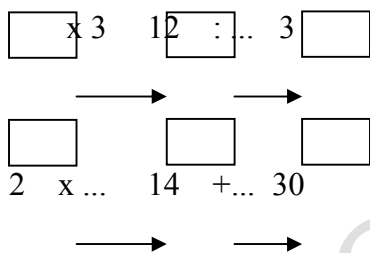
Bài 2 (5 điểm)

1- Với ba chữ số 1; 0; 6

a- Viết số có ba chữ số có giá trị lớn nhất - số đó là:

b- Viết số có ba chữ số có giá trị nhỏ nhất - số đó là:

2- Điền số :



Bài 3: (6 điểm)

1- Thứ ba tuần này là ngày 10 tháng 4

- Thứ ba tuần trước là ngày.....

- Thứ ba tuần sau là ngày.....

2- Nếu thái cho bình 6 viên bi thì số bi của 2 bạn bằng nhau mỗi bạn có 25 viên. Hỏi trước đó:

+ Thái có bao nhiêu viên bi?

+ Bình có bao nhiêu viên bi?

Bài giải

.....

.....

.....

.....

.....

.....

Tóm tắt

<p>.....</p> <p>.....</p> <p>.....</p> <p>.....</p> <p>.....</p> <p>.....</p> <p>.....</p> <p>.....</p> <p>.....</p> <p>.....</p> <p>.....</p> <p>.....</p> <p>.....</p> <p>.....</p> <p>.....</p> <p>.....</p> <p>.....</p> <p>.....</p> <p>.....</p> <p>.....</p> <p>.....</p> <p>.....</p> <p>.....</p> <p>.....</p> <p>.....</p> <p>.....</p>	<p>.....</p> <p>.....</p> <p>.....</p> <p>.....</p> <p>.....</p> <p>.....</p> <p>.....</p> <p>.....</p> <p>.....</p> <p>.....</p> <p>.....</p> <p>.....</p> <p>.....</p> <p>.....</p> <p>.....</p> <p>.....</p> <p>.....</p> <p>.....</p> <p>.....</p> <p>.....</p> <p>.....</p> <p>.....</p> <p>.....</p> <p>.....</p> <p>.....</p> <p>.....</p>
---	---

Bài 4: (3 Điểm)

- Cho hình vẽ sau hãy kẻ thêm 3 đoạn thẳng để có 4 hình tam giác.

