

b) Số liền trước của 80 là:

- A. 79                      B. 89                      C. 81                      D. 70

c) Tính:  $37 + 3 - 10 = \dots\dots\dots$  Số cần điền vào chỗ chấm là:

- A. 20                      B. 40                      C. 30                      D. 50

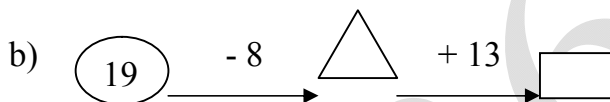
d) Số lớn nhất trong các số: 25; 52; 45; 54 là:

- A. 25                      B. 52                      C. 45                      D. 54

**Bài 2:** Điền số thích hợp vào ô trống:

a)

$$\begin{array}{r} 36 \\ + \square \\ \hline 8 \\ \hline 74 \end{array}$$
$$\begin{array}{r} 4\square \\ + \\ \hline 27 \\ \hline 72 \end{array}$$



**Bài 3:** Đúng ghi Đ, sai ghi S vào ô trống:

- a)  $5 \text{ dm} = 50 \text{ cm}$                        b)  $17 \text{ dm} + 13 \text{ dm} = 20 \text{ dm}$

## II. PHẦN TỰ LUẬN

**Bài 1:** Đặt tính rồi tính tổng, biết các số hạng lần lượt là:

- |             |             |             |             |
|-------------|-------------|-------------|-------------|
| a) 38 và 44 | b) 29 và 34 | c) 57 và 15 | d) 46 và 25 |
| .....       | .....       | .....       | .....       |
| .....       | .....       | .....       | .....       |
| .....       | .....       | .....       | .....       |
| .....       | .....       | .....       | .....       |

**Bài 2:** Giải bài toán theo tóm tắt sau:

Lần đầu bán : 35kg gạo

Bài giải

Lần sau bán : 48kg gạo

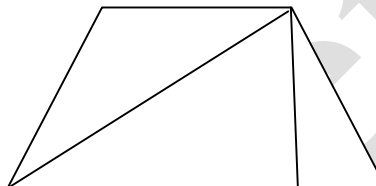
Cả hai lần bán : ... kg gạo?

.....  
.....  
.....  
.....

**Bài 3:** Trong hình bên

a) Có mấy hình tam giác? .....

b) Có mấy hình tứ giác? .....



**ĐỀ SỐ 49**

**KIỂM TRA ĐỊNH KÌ GIỮA HỌC KÌ I - NĂM HỌC 2011 - 2012**

**MÔN: TOÁN - LỚP 2**

Thời gian: 40 phút

**I. phần trắc nghiệm :** Em hãy khoanh vào câu trả lời đúng nhất:

1. Cho các số sau : 29 , 85 , 92 , 56 . Số lớn nhất trong các số đó là :

- a. 92                      b. 56                      c. 29                      d. 85

2. Số liền trước của 89 là :

- a. 80                      b. 98                      c. 90                      d. 88

3. 1 dm = ..... cm

- a. 100                      b. 11                      c. 10                      d. 1

4. 6 kg + 20 kg = .....

- a. 80 kg                      b. 26 kg                      c. 86 kg                      d. 62 kg

5. Số lớn hơn 57 và bé hơn 59 là :

- a. 60                      b. 56                      c. 58                      d. 55

6. Số hình chữ nhật trong hình vẽ sau là :

a. 3

b. 5

c. 7

d. 9

II. phần tự luận :

1. Tính :

$$\begin{array}{r} 14 \\ + 23 \\ \hline \end{array}$$

$$\begin{array}{r} 69 \\ + 17 \\ \hline \end{array}$$

$$\begin{array}{r} 38 \\ + 42 \\ \hline \end{array}$$

$$\begin{array}{r} 35 \\ + 24 \\ \hline \end{array}$$

2. Tính :

$8 + 3 + 6 = \dots\dots\dots$

$16\text{kg} + 3\text{kg} - 5\text{kg} = \dots\dots\dots$

$15 - 5 + 7 = \dots\dots\dots$

$32\text{l} + 8\text{l} - 10\text{l} = \dots\dots\dots$

3. Bài toán:

Một cửa hàng buổi sáng bán được 43 kg đường, buổi chiều bán được nhiều hơn buổi sáng 17 kg đường. Hỏi buổi chiều cửa hàng đó bán được bao nhiêu ki- lô- gam đường ?

Bài giải

.....  
.....  
.....  
.....

Điền chữ số thích hợp với ô trống:

$$\begin{array}{r} 3 \square \\ + \\ 27 \\ \hline 62 \end{array}$$

$$\begin{array}{r} 29 \\ + \\ 1 \square \\ \hline 44 \end{array}$$

ĐỀ SỐ 50

KIỂM TRA ĐỊNH KÌ GIỮA HỌC KÌ I - NĂM HỌC 2011 - 2012

MÔN: TOÁN - LỚP 2

Thời gian: 40 phút

**Câu 1:** Tính nhẩm:

$9 + 6 = \dots$

$7 + 0 = \dots$

$7 + 7 = \dots$

$18 + 5 = \dots$

$9 + 8 = \dots$

$8 + 7 = \dots$

**Câu 2:** Đánh dấu x vào ô đúng:

a)  $10 + 9 - 5 = 13$

$19 - 12 - 4 = 3$

$10 + 8 - 6 = 12$

$19 - 13 - 4 = 1$

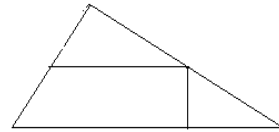
b)  $10\text{cm} = 1\text{dm}$

$6\text{dm} = 6\text{cm}$

**Câu 3:** Trong hình bên:

a/ Có..... hình tam giác

b/ Có..... hình tứ giác



**Câu 4:** Đặt tính rồi tính :

$38 + 56$

;

$69 - 17$

;

$45 + 39$

;

$9 + 64$

.....

.....

.....

.....

.....

.....

.....

.....

.....

.....

.....

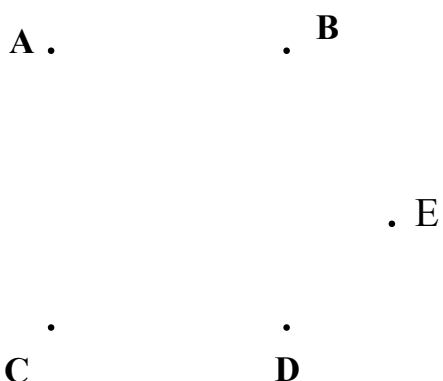
.....

**Câu 5:** Mẹ hái được 35 quả bưởi, chị hái nhiều hơn mẹ 18 quả bưởi . Hỏi chị hái được bao nhiêu quả bưởi ?

Bài giải:

.....  
.....  
.....

.....  
**Câu 6:** Dùng thước và bút nối các điểm để có 1 hình chữ nhật:



ĐỀ SỐ 51

**KIỂM TRA ĐỊNH KÌ GIỮA HỌC KÌ I - NĂM HỌC 2011 - 2012**

**MÔN: TOÁN - LỚP 2**

Thời gian: 40 phút

**Phần I: Trắc nghiệm**

***Khoanh vào chữ đặt trước câu trả lời đúng nhất:***

1. Số lớn nhất có hai chữ số là:

- A. 98                      B. 99                      C. 90

2. Số liền trước 99 là:

- A. 98                      B. 90                      C. 100

3. Kết quả của phép tính  $80 + 20$  là:

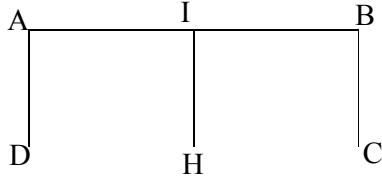
- A. 90                      B. 100                      C. 80

4.  $3\text{dm} = \dots\dots$ . Kết quả thích hợp điền vào chỗ chấm là:

- A. 20cm                      B. 3cm                      C. 30cm

5. Hình vẽ bên có mấy hình chữ nhật:

- A. 1 hình  
B. 2 hình  
C. 3 hình



6. Dấu thích hợp điền vào ô trống sau là:

$$20 + 8 \square 18 + 10$$

- A. >                      B. <                      C. =

7. Số 46 trong phép tính  $46 - 6 = 40$  là:

- A. Số bị trừ                      B. Số trừ                      C. Hiệu

8. Có 17 con gà và 9 con vịt. Hỏi cả gà và vịt có bao nhiêu con?

- A. 25 con                      B. 26 con                      C. 27 con

## Phần 2: Tự luận

**Bài 1:** Đặt tính rồi tính

$48 + 26$                        $39 - 27$                        $25 + 75$                        $47 - 24$

.....  
.....  
.....  
.....

**Bài 2:** Bài toán

Bao gạo thứ nhất cân nặng 45kg, bao gạo thứ hai nặng hơn bao gạo thứ nhất 29kg. Hỏi bao gạo thứ hai cân nặng bao nhiêu ki-lô-gam?

.....

**Bài 3:** Tính:

$5\text{cm} + 6\text{cm} + 7\text{cm} =$

$7\text{dm} - 3\text{dm} + 9\text{dm} =$

$18\text{kg} - 5\text{kg} + 6\text{kg} =$

$10\text{kg} - 5\text{kg} + 70\text{kg} =$

**ĐỀ SỐ 52**

**KIỂM TRA ĐỊNH KÌ GIỮA HỌC KÌ I - NĂM HỌC 2011 - 2012**

**MÔN: TOÁN - LỚP 2**

Thời gian: 40 phút

**Bài 1:** Thực hiện các phép tính sau:

11	48	85	79
+	+	-	-
25	52	42	16
_____	_____	_____	_____

**Bài 2:** Đặt tính rồi tính tổng, biết các số hạng là:

24 và 19

19 và 9

36 và 48

55 và 45

**Bài 3:** Viết số thích hợp vào chỗ chấm :

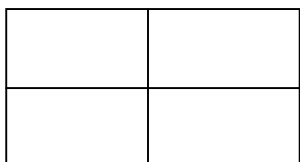
- Số liền sau của 62 là .....
- Số liền trước của 1 là .....
- Số lớn nhất có 2 chữ số là .....
- Số bé nhất có 2 chữ số giống nhau là .....

**Bài 4 : Tính:**

$$5 + 9 + 7 =$$

$$6\text{kg} + 8\text{kg} - 4\text{kg} =$$

**Bài 5: Hình sau có bao nhiêu hình chữ nhật?**



Trả lời: .....

**Bài 6: Bài toán**

Vườn nhà Hà có 18 cây chanh, vườn nhà Hoa có ít hơn vườn nhà Hà 8 cây chanh. Hỏi vườn nhà Hoa có mấy cây chanh?

.....  
.....  
.....  
.....

ĐỀ SỐ 53

**KIỂM TRA ĐỊNH KÌ GIỮA HỌC KÌ I - NĂM HỌC 2011 - 2012**



**MÔN: TOÁN - LỚP 2**

Thời gian: 40 phút

**I/ PHẦN TRẮC NGHIỆM**

Đánh dấu X vào ô trống trước kết quả đúng:

Câu 1: Số liền trước của 90 là:

91

89

79

Câu 2: 9dm = .....

9cm

10 cm

90 cm

Câu 3: Trong phép tính  $45 + 48 = ?$  Kết quả là:

93

80

73

Câu 4: Số lớn nhất có 2 chữ số khác nhau là:

97

98

99

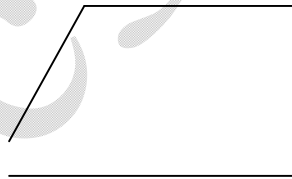
Câu 5: Mận cao 95 cm, Đào cao hơn Mận 3cm. Hỏi Đào cao bao nhiêu xăng-ti-mét?

92 cm

98cm

3 cm

Câu 6: Em hãy kẻ thêm một đoạn thẳng vào hình bên để có một hình chữ nhật và một hình tam giác.



**II/ PHẦN THỰC HÀNH:**

Câu 1: Đặt tính rồi tính:

$35 + 26$

$46 + 37$

$68 - 6$

$49 - 8$

