

Số phách

Số phách

ĐỀ KHẢO SÁT HỌC SINH GIỎI LỚP 2

Năm học: 2010-2011

Môn: Toán

(Thời gian học sinh làm bài: 40 phút)

Họ và tên:

Lớp:

Bài 1: (4 đ).

- Viết số bé nhất có 3 chữ số.
- Viết số lớn nhất có 3 chữ số.
- Viết số có 2 chữ số mà chữ số hàng đơn vị gấp 2 lần chữ số hàng chục.

Bài 2 (5 đ) a, Điền chữ số thích hợp vào ô trống:

$$\begin{array}{r} + 1 \square \\ \square 6 \\ \hline \end{array} \quad \begin{array}{r} - \square 2 \\ 3 \square \\ \hline \end{array} \quad \begin{array}{r} + \square 7 \\ 4 \square \\ \hline \end{array} \quad \begin{array}{r} - 4 \square 3 \\ \square 2 3 \\ \hline \end{array}$$

7 3

\square 8

8 6

1 4 \square

ĐỀ THI HỌC SINH GIỎI NĂM HỌC 2010- 2011

MÔN TOÁN LỚP 2.

(Thời gian học sinh làm bài: 40 phút).

Họ tên.....Lớp:.....SBD:.....

Bài 1: (6 điểm)

1, Cho các chữ số 0, 1, 3, 5.

a. Các số có hai chữ số khác nhau từ các số trên là:.....

.....

b. Tính tổng của số lớn nhất và số nhỏ nhất trong các số vừa tìm được.

.....

2, Viết tiếp 3 số thích hợp vào ô trống.

1; 2; 3; 5; 8; ; ;

Bài 2: (4 điểm).

1, Viết tất cả các số có hai chữ số mà tổng hai chữ số của mỗi số bằng 11.

.....

2, Điền dấu +; - ; = thích hợp vào ô trống.

37 28 5 4 37 28 5 4

37 28 5 4

Bài 3: (3 điểm)

Có hai thùng dầu đựng dầu, thùng thứ nhất chứa 51 lít dầu. Nếu đổ từ thùng thứ nhất sang thùng thứ hai 15 lít dầu thì số dầu hai thùng bằng nhau. Hỏi lúc đầu thùng thứ hai chứa bao nhiêu lít dầu?

Tóm tắt

Bài giải

.....

.....

.....

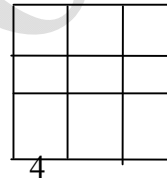
.....

.....

.....

Bài 4: (4 điểm)

Hình vuông có 9 ô, mỗi ô viết một trong các số từ 0 đến 8. Hãy điền các ô bị xoá, biết rằng tổng các số trên cùng một hàng, một cột, một đường chéo đều có kết quả bằng nhau.



Bài 5: (3 điểm)

Cho hình vẽ sau:

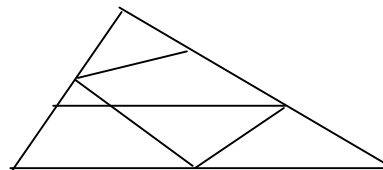
a, Hình vẽ bên có:.....tứ giác.

b, Hãy kể tên các hình tứ giác đó.....

.....

.....

.....



TRƯỜNG TIỂU HỌC

ĐỀ KHẢO SÁT HỌC SINH GIỎI

GIA SINH

Môn toán lớp 2

(Thời gian làm bài 40 phút).

Bài 1 : (6 đ)

1, Cho các chữ số : 0,1,2,3.

a, Lập các số có hai chữ số khác nhau từ các chữ số trên .

.....

b, Tính tổng các số lớn nhất có hàng chục là 1,2,3; vừa viết được

.....
.....

2, Viết tiếp 3 số thích hợp vào chỗ chấm

1, 2, 3, 5, 8,,,

Bài 2 (5 đ)

1: Tổng lớn nhất của hai số có một chữ số là:

Tổng bé nhất của số có một chữ và số có hai chữ số là:.....

2, Thứ hai tuần này là ngày 19 tháng 3. vậy ;

Thứ hai tuần trước là ngày

Thứ hai tuần sau là ngày

Bài 3: (5điểm)

Nếu Lan cho Nga 12 nhãn vở thì số nhãn vở của hai bạn bằng nhau và mỗi bạn có 21 nhãn vở. Hỏi trước khi cho Lan có bao nhiêu nhãn vở, Nga có bao

Nhiều nhãn vở Nga có bao nhiêu nhãn vở.

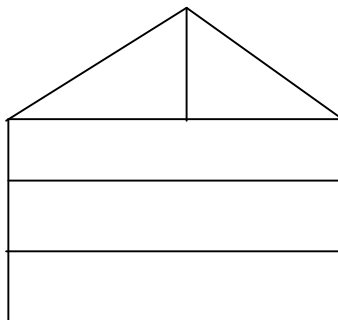
Bài4: (4điểm)

1; Hình bên cóhình tam giác

Có.....hình tứ giác.

2; Hãy kẻ thêm một đoạn thẳng để hình.....

Bên có 7 hình tam giác .



BÀI KHẢO SÁT CHẤT LƯỢNG HỌC SINH GIỎI

Bài 1: (3 điểm)

a) Số liền trước của 223 là,Số liền trước của a là....., Số liền trước của $m + 1$ là:.....

b) Số liền sau của 223 là, Số liền sau của a là....., Số liền sau của $m + 1$ là:.....

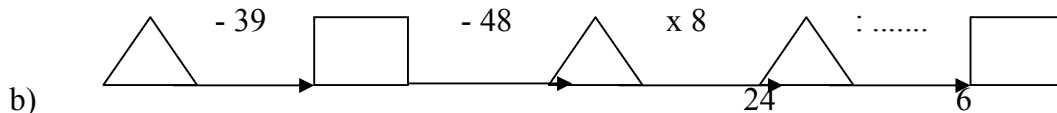
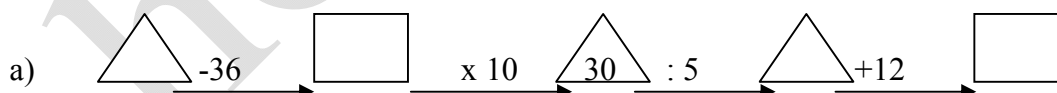
c) Viết tiếp 3 số vào dãy số sau:

3, 6, 9, 12,.....,,

40, 36, 32, 28,,,

Bài 2: (6 điểm)

Số ?



Bài 3: (3 điểm)

Cho hai số có 3 chữ số

a) Hai số đó có cùng số trăm và số chục. Nhưng các số đơn vị hơn kém nhau 5 đơn vị. Hai số đó hơn kém nhau..... đơn vị.

Ví dụ:.....

b) Hai số đó cùng số chục và số đơn vị nhưng hai số trăm hơn kém nhau 3 đơn vị. Hai số đó hơn kém nhau..... đơn vị.

Ví dụ:.....

Bài 4: (5 điểm)

Hà có 40 viên bi gồm hai màu xanh và đỏ. Hà cho Tú 14 viên bi xanh thì Hà còn 12 viên bi xanh. Hỏi Hà có bao nhiêu viên bi đỏ?

Tóm tắt

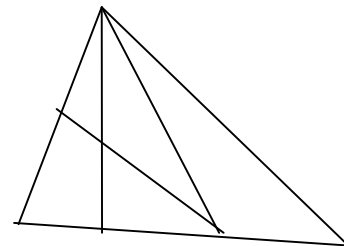
Bài giải

.....
.....
.....
.....
.....
.....

Bài 5: (3 điểm)

Hình vẽ dưới đây có

- đoạn thẳng
- hình tam giác
- hình tứ giác



ĐỀ KHẢO SÁT CHẤT LƯỢNG HỌC SINH GIỎI

Họ và tên:..... Trường.....

Bài 1: (3 điểm) Cho các chữ số: 0,2,3,5.

a) Viết các số chẵn có hai chữ số khác nhau từ các chữ số trên.

.....
.....

b) Viết các số lẻ có hai chữ số từ các chữ số trên.

.....
.....

Bài 2: (5 điểm)

1) Hai số có tổng là 73. Nếu thêm vào một số hạng 27 đơn vị và giữ nguyên số hạng kia thì tổng mới là bao nhiêu? (Viết cả phép tính).

.....
.....
.....

2) Viết các số có hai chữ số mà chữ số hàng chục gấp 3 chữ số hàng đơn vị.

.....
.....

3) Điền số thích hợp vào ô trống để khi cộng 4 số ở 4 ô liên nhau bất kì đều có tổng là 35.

7		11	8				
---	--	----	---	--	--	--	--

Bài 3: (5 điểm)

1) Tính nhanh:

$19 + 27 + 21 - 17$

=

=

=

$2 - 4 + 6 - 8 + 10 - 12 + 14$

=

=

=

2) Thứ ba đầu tiên của tháng tư là ngày mùng 3. Hỏi các ngày thứ ba tiếp theo của tháng tư là những ngày nào?

Bài 4: (3 điểm) Mẹ mua về 25 quả trứng gà và một chục quả trứng vịt. Mẹ biếu bà 13 quả. Hỏi cả hai loại mẹ còn bao nhiêu quả trứng ?

Tóm tắt

Bài giải

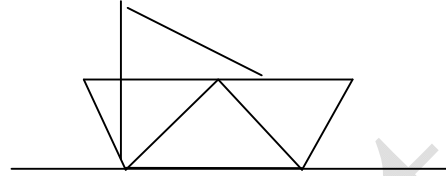
.....
.....
.....
.....
.....

.....
.....
.....
.....
.....

.....
.....
Bài 5: Hình bên có: đoạn thẳng.

Tam giác.

Tứ giác.



TRƯỜNG TIỂU HỌC GIA ĐỀ KIỂM TRA HỌC SINH GIỎI TIỂU HỌC SINH

Năm học : 2010-2011

MÔN TOÁN 2

(Thời gian làm bài 40 phút)

Bài 1: (4 điểm)

a) Viết tất cả các chữ số có hai chữ số mà tổng hai chữ số của số đó bằng số nhỏ nhất có hai chữ số.

.....
b) Tính tổng các số lập được ở trên

.....
Bài 2 : (5 điểm)

1. Tìm x

a) $X \times 2 \times X = 8$

b) $X : 2 \times X = 8$