

**ĐỀ SỐ 10)**

Trường tiểu học Phúc sơn

Thứ      ngày      tháng      năm 2010

Họ Và Tên:.....

Kiểm tra định CUỐI HKI

Lớp 2.....

Mụn: Toản

Thời gian: 40 phút

**I. Trắc nghiệm khách quan:**

*Khoanh vào chữ cái trước ý đúng trong mỗi câu sau:*

**Bài 1.** Số liền trước 50 là

A. 49

B. 51

C. 48

**Bài 2.** Số lớn nhất có hai chữ số là:

A. 88

B. 99

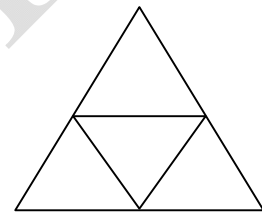
C. 90

**Bài 3.** Hình vẽ bên có mấy hình tam giác?

A. 3

B. 4

C. 5



**Bài 4.** Câu nào đúng?

A. Một ngày có 24 giờ

B. Một ngày có 12 giờ

C. Một ngày có 20 giờ

**Bài 5.** Tính tổng , biết các số hạng là 48 và 17.

A.56

B. 65

C. 45

**Bài 6.** Tìm x :  $x + 16 = 30$

A.15

B. 16

C. 14

**Bài 7.** Tính kết quả  $86 - 6 - 9 = ?$

A. 71

B. 70

C. 81

**Bài 8.** Mẹ hái được 55 quả cam , mẹ biếu bà 20 quả cam . Hỏi mẹ còn lại bao nhiêu quả cam?

A .30 quả

B. 35 quả

C.25 quả

**II. Trắc nghiệm tự luận:**

**Bài 3.** Đặt tính rồi tính :

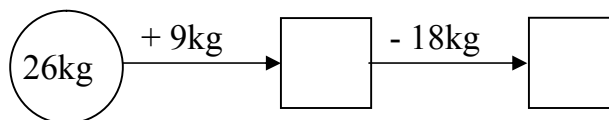
$46 + 49$

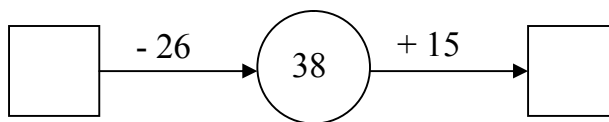
$83 - 35$

$80 - 43$

$45 + 39$

**Bài 2.**





**Bài 3.** Tính

$$\begin{aligned} 34 + 66 - 20 &= \\ &= \end{aligned}$$

$$\begin{aligned} 85 - 15 + 12 &= \\ &= \end{aligned}$$

**Bài 4.** Một cửa hàng buổi sáng bán được 83 l dầu , buổi chiều bán được ít hơn buổi sáng 27l dầu. Hỏi buổi chiều cửa hàng đó bán được bao nhiêu l dầu?

**Bài giải**

.....

.....

.....

.....

.....

.....

.....

.....

.....

.....

.....

.....

.....

.....

.....

.....

.....

.....

.....

.....

.....

.....

.....

**Bài 5.** Điền số còn thiếu vào ô trống

$$\begin{array}{r} 4... \\ - 17 \\ \hline 23 \end{array}$$

$$\begin{array}{r} .... \\ - 37 \\ \hline 49 \end{array}$$





**ĐỀ SỐ 12)**

Phòng gd&dt  
Huyện lập thạch

**BÀI KIỂM TRA ĐỊNH KÈ CUỐI KÈ 1**

**Môn: TOÁN 2**

*Thời gian làm bài: 40 phút (không kể thời gian giao đề)*

**I/Trắc nghiệm (3 ĐIỂM):** Mỗi bài tập dưới đây có 4 phương án trả lời (là đáp số, kết quả tính, ... ). Em hãy chọn phương án trả lời đúng.

1. Số 59 đọc là:

- A. Năm chín      B. Năm mươi chín      C. Chín năm      D. Chín mươi lăm

2. Ngày 22 tháng 12 năm 2008 là thứ Hai. Ngày đầu tiên của năm 2009 là thứ mấy?

- A. Thứ Hai      B. Thứ Ba      C. Thứ Tư      D. Thứ Năm

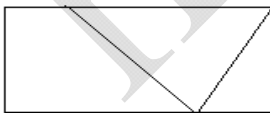
3. Số lớn nhất có 2 chữ số khác nhau là:

- A. 99      B. 89      C. 98      D. 100

4. 92 bằng tổng của hai số nào trong các cặp số sau đây?

- A. 32 và 50      B. 55 và 47      C. 37 và 55      D. 55 và 47

5. Hình vẽ dưới đây có bao nhiêu hình tứ giác?



- A. 2      B. 3  
C. 4      D. 5

6. An có 8 viên bi. Hùng có nhiều hơn An 2 viên bi. Hỏi Hùng có bao nhiêu viên bi?

- A. 10      B. 10 viên bi      C. 10 (viên bi)      D. 6 viên bi

**II/ PHẦN TỰ LUẬN (7 ĐIỂM)**

**Bài 1 (3 điểm):** Đặt tính rồi tính

---

$36 + 47$	$100 - 65$	$47 + 37$	$94 - 57$

**Bài 2 (1 điểm):** Tìm a, biết:

$37 + a = 81$	$63 - a = 25$

**Bài 3 (2 điểm):** Một khu vườn có 100 cây đào, sau khi bán đi một số cây đào thì khu vườn còn lại 37 cây đào. Hỏi đã bán bao nhiêu cây đào?

**Bài giải:**

.....

.....

.....

.....

.....

.....

.....

.....

.....

.....

**Bài 4 (1 điểm):**

Hãy vẽ thêm một đoạn thẳng vào hình bên để có 1 hình tam giác và 2 hình tứ giác.

Đọc tên các hình đó?

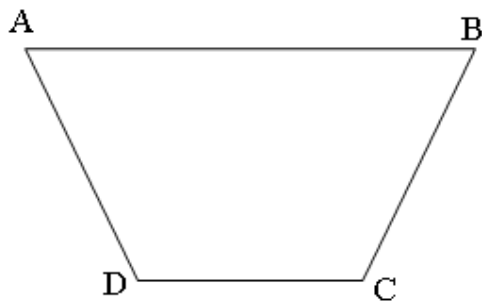
.....

.....

.....

.....

.....



**ĐỀ SỐ 13)**

Họ tên HS: .....	<b>KIỂM TRA CUỐI HK1 (2010-2011)</b> <b>MÔN: Toán lớp 2</b> <b>Thời gian: 40 phút</b>	Điểm:
Lớp: .....		GK(ký):
Trường TH số 2 Nam Phước		

1.(1 điểm): Viết số thích hợp vào chỗ chấm :

a/ 78 ; 79 ; 80 ; .....; 85

b/ 76 ; 78 ; 80 ; .....; 90

2.(1 điểm): Viết số liền trước, liền sau vào chỗ chấm cho thích hợp:

Số liền trước	Số đã cho	Số liền sau
.....	25	.....
.....	90	.....

3.(1 điểm): Đúng ghi Đ, sai ghi S vào ô trống:

a/  $9 + 7 = 17$

b/  $13 - 8 = 6$

c/  $16 - 9 = 7$

d/  $8 + 9 = 17$

4.( 2 điểm): Đặt tính rồi tính :

31 + 15	53 - 28	36 + 26	100 - 36

5.(1 điểm): Tìm x:

$$89 - x = 36$$

$$x + 6 = 45$$

.....  
.....

.....  
.....

6.(1điểm): Lớp 2A có 26 học sinh, lớp 2B có nhiều hơn lớp 2A 6 học sinh. Hỏi lớp 2B có bao nhiêu học sinh?

**Giải:**

.....  
.....  
.....  
.....

7. (2 điểm): Xem tờ lịch tháng 2 dưới đây rồi trả lời câu hỏi :

Tháng	Thứ hai	Thứ ba	Thứ tư	Thứ năm	Thứ sáu	Thứ bảy	Chủ nhật
<b>2</b>				1	2	3	4
	5	6	7	8	9	10	11
	12	13	14	15	16	17	18
	19	20	21	22	23	24	25
	26	27	28				

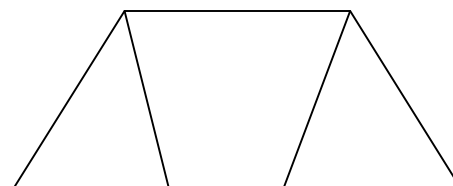
Trong tháng 2:

- a. Có ..... ngày thứ năm.
- b. Các ngày thứ năm là:.....
- c. Ngày 17 tháng hai là ngày thứ : .....
- d. Có tất cả ..... ngày.

8. (1điểm): Viết số thích hợp vào chỗ chấm:

Hình vẽ bên :

- a. Có ..... hình tam giác
- b. Có ..... hình tứ giác





**ĐỀ SỐ 14)**

**KIỂM TRA HỌC KỲ 1**

NĂM HỌC 2010-2011

Ngày kiểm tra: 23 - 12 - 2010

Chữ ký giám khảo	Số mật mã:
---------------------	------------

**Môn: TOÁN – Lớp Hai**

Thời gian làm bài: 35 phút (Không kể thời gian giao đề)

**Bài 1:** Tính: (2,5 điểm)

a/  $8 + 4 = \dots$                        $7 + 9 = \dots$                        $15 - 9 = \dots$                        $13 - 6 = \dots$

b/  $16 + 5 - 10 = \dots$                        $24 - 13 + 4 = \dots$                        $51 - 19 - 5 = \dots$

**Bài 2:** Đặt tính rồi tính: (2 điểm)

$47 + 25$	$93 - 28$	$56 + 34$	$100 - 47$
.....	.....	.....	.....
.....	.....	.....	.....
-----	-----	-----	-----
.....	.....	.....	.....

**Bài 3:** Tính  $x$  (1,5 điểm):

$x + 18 = 42$                                        $x - 32 = 58$                                        $60 - x = 16$

.....  
.....

**Bài 4:** Xem tờ lịch tháng 12 dưới đây rồi trả lời câu hỏi: (1 điểm)

	Thứ hai	Thứ ba	Thứ tư	Thứ năm	Thứ sáu	Thứ bảy	Chủ nhật
			1	2	3	4	5

Tháng	6	7	8	9	10	11	12
12	13	14	15	16	17	18	19
	20	21	22	23	24	25	26
	27	28	29	30	31		

a/ Có ..... ngày thứ bảy. Đó là các ngày .....

b/ Ngày 23 tháng 12 là thứ .....

c/ Tháng 12 có ..... ngày.

**Bài 5:** a/ Một cửa hàng có 85 chiếc xe đạp, đã bán được 27 chiếc xe đạp. Hỏi cửa hàng còn lại bao nhiêu chiếc xe đạp?(1 đ)

Bài giải

.....  
.....  
.....  
.....  
.....  
.....  
.....  
.....

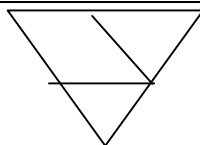
b/ Mẹ vắt được 67 lít sữa bò, chị vắt được 33 lít sữa bò. Hỏi mẹ và chị vắt được bao nhiêu lít sữa bò? (1 đ)

Bài giải

.....  
.....  
.....  
.....  
.....  
.....  
.....  
.....  
.....  
.....

**Bài 6:** (1 điểm) Khoanh vào chữ đặt trước câu trả lời đúng:

a/ Số hình tam giác là:



- A/ 3 hình
- B/ 2 hình
- C/ 1 hình

b/ Số hình tứ giác là:

- A/ 2 hình
- B/ 3 hình
- C/ 4 hình

**ĐỀ SỐ 15)**

**Trường Tiểu học Toàn Thắng Bài kiểm tra định kì Cuối kì i**

**Năm học: 2010-2011**

Câu 1: (0,5 điểm)

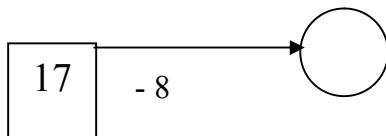
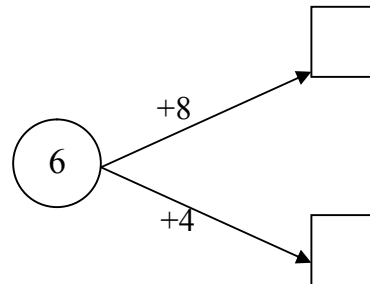
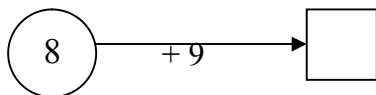


Câu 2: ( 0,5 điểm)

Đọc số	Viết số
Tám mươi tư	.....
.....	76

Câu 3:

**Số** ? (1 điểm)



Câu 4: Đúng ghi Đ, sai ghi S vào ô trống: ( 1 điểm)

$9 + 5 = 14$

$18 - 9 = 9$

$7 + 9 = 17 \quad \square$

$15 - 7 = 9 \quad \square$

Câu 5: (2 điểm) Đặt tính rồi tính:

$46 + 28$

$72 - 36$

$46 + 34$

$90 - 47$

.....  
.....  
.....

Câu 6: Tìm X (1 điểm)

$X + 40 = 90$

$X - 16 = 58$

.....  
.....

Câu 7: Giải toán: (3 điểm)

a, Quang cân nặng 38 kg. Minh cân nặng hơn Quang 6 kg. Hỏi Minh cân nặng bao nhiêu ki-lô-gam?

.....  
.....  
.....

b, Một cửa hàng có 65 chiếc xe đạp, đã bán được 28 chiếc xe đạp. Hỏi cửa hàng còn lại bao nhiêu chiếc xe đạp?

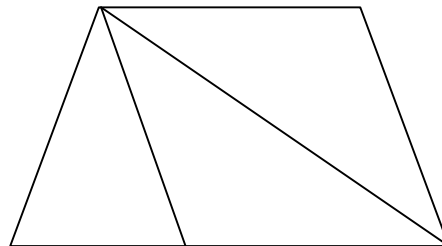
.....  
.....  
.....

Câu 8: (1 điểm)

Hình bên có:

-..... hình tứ giác.

-..... hình tam giác.



**ĐỀ SỐ 16)**

Họ và tên HS: .....	<b>KIỂM TRA ĐỊNH KỲ CUỐI HỌC KỲ I Môn : TOÁN- LỚP HAI</b>	Chữ ký GT	Số mật mã
Lớp:..... Trường: Lê Thị Hồng Gấm			Số TT
Năm học: 2010 - 2011	Ngày kiểm tra: ...../ 12../ 2010.		
Số BD : ..... Phòng : .....			

**Bài 1:** ?

36, 38, ..., 42, ..., ..., ....., 50.

**Bài 2:** Nối phép tính với kết quả của phép tính đó

$6 + 9$	$16$
$17 - 9$	$13$
$6 + 7$	$15$
$9 + 7$	$8$

**Bài 3:** Đúng ghi Đ, sai ghi S vào ô trống

a) $9 + 7 = 16$	<input type="checkbox"/>	b) $18 - 9 = 13$	<input type="checkbox"/>
-----------------	--------------------------	------------------	--------------------------

c)  $18 - 9 = 10$

d)  $15 - 4 = 11$

**Bài 4: Khoanh vào chữ cái đặt trước kết quả đúng**

$28 + 4 = ?$

A . 68

B . 23

C . 32

D . 32m

**Bài 5: Đặt tính rồi tính**

$26 + 35$

$26 + 59$

$75 - 17$

$60 - 43$

.....

.....

.....

.....

.....

.....

.....

.....

.....

.....

.....

.....

**Bài 6 : Tìm x**

$x + 17 = 24$

$45 - x = 19$

.....

.....

.....

.....

.....

.....

**Bài 7: Một cửa hàng buổi sáng bán được 74 kilô gam đường, buổi chiều bán ít hơn buổi sáng 15 kilô gam đường. Hỏi buổi chiều cửa hàng đó bán được bao nhiêu kilô gam đường?**

**Bài giải :**

.....

.....

.....

.....

**b . Bình nhỏ đựng 14lít nước, bình lớn đựng nhiều hơn bình nhỏ 6lít nước. Hỏi bình lớn đựng bao nhiêu lít nước ?**

**Bài giải :**

**Tóm tắt**.....

.....

.....

.....

.....